

٦ - ٩
تقدير ناتج الطرح



أ. أحمد الأحمد

@ahmad9963



إِذَا لَمْ أَكُنْ بِحَاجَةٍ إِلَى إِجَابَةِ دَقِيقَةٍ فَإِنِّي أَقْدِرُ الْإِجَابَةَ.

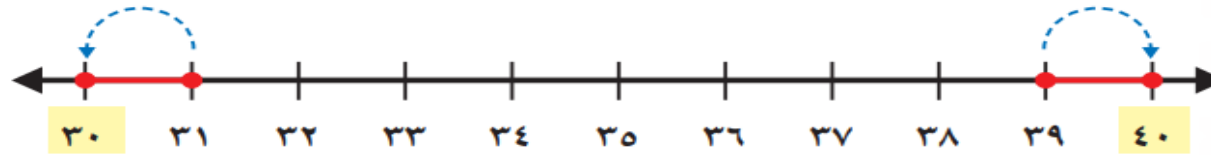
أَقْدِرُ نَاتِجَ الطَّرْحِ: ٣٩ - ٣١

٣٩ أَقْرَبُ إِلَى ٤٠

٣١ أَقْرَبُ إِلَى ٣٠

الْحُطْوَةُ ١: أَقْرَبُ كُلِّ

عَدَدٍ إِلَى أَقْرَبِ ١٠



$$\begin{array}{r} 40 \\ 30 \\ \hline \dots \end{array}$$

تُقَرَّبُ إِلَى

٣٩

تُقَرَّبُ إِلَى

٣١

الْحُطْوَةُ ٢: أَطْرَحُ

العَشْرَاتِ لِأَقْدَرِ

نَاتِجَ الطَّرْحِ.

فكرة الدرس

أقدر ناتج الطرح

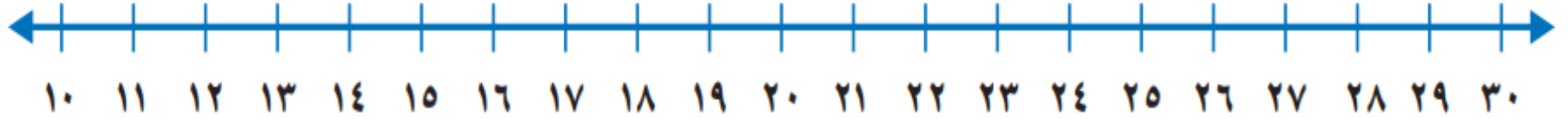
المفردات
التقريب

أ.أحمد الأحمدى

@ahmad9963

أَقْرَبُ إِلَى أَقْرَبِ عَشْرَةٍ، ثُمَّ أَقْدِّرُ نَاتِجَ الطَّرْحِ:

اتأكد



$$\begin{array}{r} 25 \\ - 11 \\ \hline \end{array}$$

3

$$\begin{array}{r} 22 \\ - 14 \\ \hline \end{array}$$

2

$$\begin{array}{r} 31 \\ - 18 \\ \hline \end{array}$$

1

أ.أحمد الأحمدى

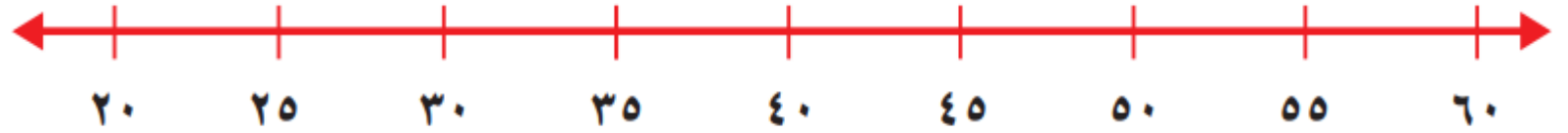
@ahmad9963

أَذْكُرْ


١، ٢، ٣، ٤، تُقَرَّبُ إلى أدنى لَأَقْرَبِ عَشْرَةٍ
و٥، ٦، ٧، ٨، ٩ تُقَرَّبُ إلى أعلى لَأَقْرَبِ
عَشْرَةٍ.

أَقْرَبُ إلى أَقْرَبِ عَشْرَةٍ، ثُمَّ أَقَدِّرُ نَاتِجَ الطَّرْحِ:

أَتَدْرِبُ



$\begin{array}{r} 36 \\ - 28 \\ \hline \end{array}$	$\begin{array}{r} 29 \\ - 23 \\ \hline \end{array}$	$\begin{array}{r} 38 \\ - 27 \\ \hline \end{array}$
7	6	5



$\begin{array}{r} 40 \\ - 37 \\ \hline \end{array}$	$\begin{array}{r} 58 \\ - 37 \\ \hline \end{array}$	$\begin{array}{r} 43 \\ - 22 \\ \hline \end{array}$
$\begin{array}{r} 42 \\ - 23 \\ \hline \end{array}$	$\begin{array}{r} 55 \\ - 26 \\ \hline \end{array}$	$\begin{array}{r} 51 \\ - 39 \\ \hline \end{array}$

أ.أحمد الأحمدى

@ahmad9963

مسائل مهارات التفكير العليا

١٤ التفسير الرياضي: أنظر إلى الجدول؛ لا تعرف إلى أكبر هؤلاء الإخوة عمراً، وأصغرهم عمراً، والفرق بين عمر أكبرهم وأصغرهم .

أعمار الإخوة بالسنوات	
١٣	صالح
١٥	ثامر
١٠	مازن
١١	بدر