

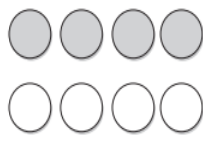


اسم الطالب /




## الكسور كأجزاء من مجموعة

أكتب الكسر الذي يمثل الجزء المظلل من كل مجموعة فيما يأتي:




٢




١

.....

.....



٤



٣

.....

.....

أكتب الكسر الذي يمثل الجزء المشار إليه في كل مجموعة مما يأتي:

٦ قَطَفْتُ نَادِيَّةً ١٠ وَرَدَاتٍ، ثَلَاثٌ مِنْهَا مِنَ الْجُورِيِّ.

.....

٨ لَدَى هِنْدَ ١١ عُلْبَةً حَلِيبٍ، شَرِبْتُ ٥ عُلْبٍ مِنْهَا.

.....

٥ لَدَى عَبْدِ اللَّهِ ١٣ قَلَمًا؛ سَبْعَةٌ مِنْهَا زُرْقَاءُ.

.....

٧ قَرَأَ يَحْيَى ٥ قَصَائِدَ شِعْرِيَّةٍ، اثْنَتَانِ مِنْهَا قَدِيمَتَانِ.

.....

أ.أحمد الأحمد

@ahmad9963



@maths0120