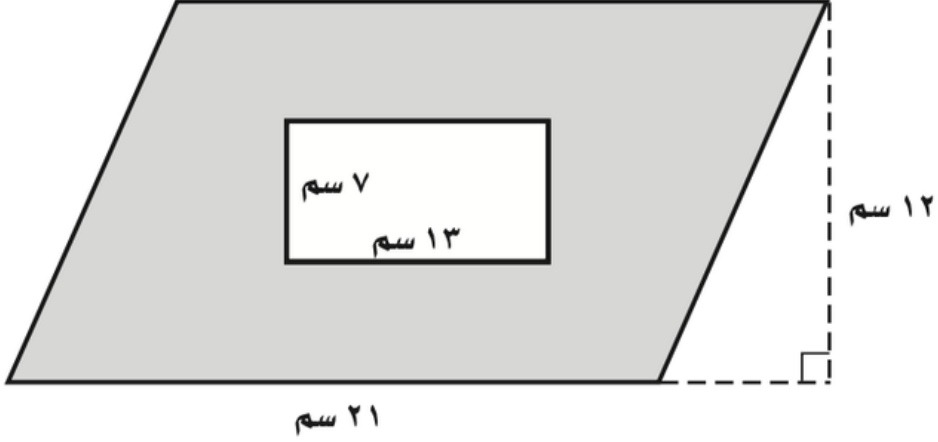


مساحة متوازي الاضلاع

الصف السادس الابتدائي

أوجد مساحة الجزء المظلل



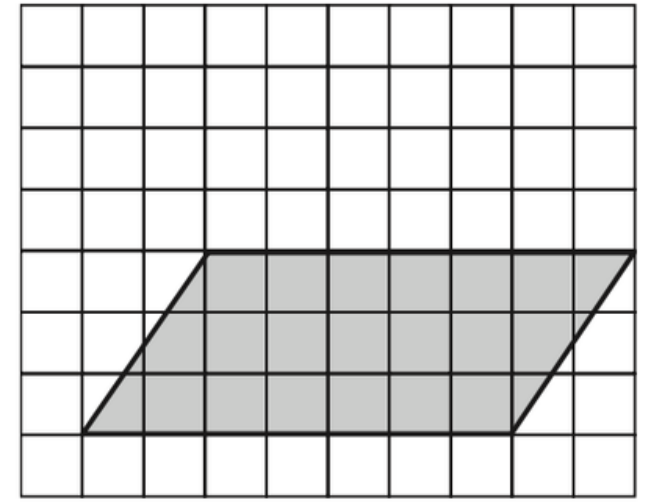
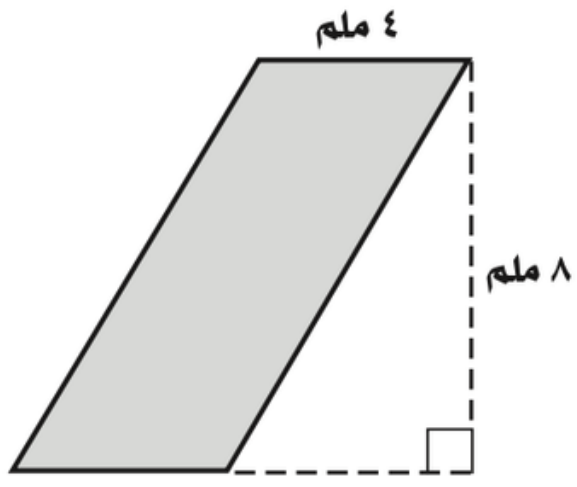
.....

.....

.....

.....

أوجد مساحة كل متوازي أضلاع فيما يأتي:



.....

.....

.....

.....



حديقة أحمد على شكل متوازي أضلاع، مساحتها

٧٨ م^٢، وارتفاعها ٦ م، أوجد طول قاعدتها، ثم فسّر إجابتك.

.....

.....