

الصف: ثالث ابتدائي  
اليوم :  
التاريخ : / / ١٤٤٤ هـ  
الزمن : ساعة ونصف فقط



المملكة العربية السعودية  
وزارة التعليم  
إدارة تعليم منطقة تبوك

## اختبار نهاية الفصل الدراسي الثالث ( الدور الأول )

مادة **العلوم** للصف الثالث ابتدائي

للعام الدراسي ١٤٤٤ هـ

رقم الجلوس : .....

اسم الطالبة : .....

رقم السؤال	الدرجة رقما	الدرجة كتابة	المصححة	المراجعة	المدققة
السؤال الأول					
السؤال الثاني					
السؤال الثالث					

درجة الاختبار النهائية:  فقط لا غير من ٤٠ درجة







النجاح ليس إنجازاً بقدر ما هو قدرة مستمرة على الإنجاز





السؤال الأول: اختاري الإجابة الصحيحة في كلا مما يلي:

١٠





١- الأداة التي تستخدم لقياس الكتلة هي:

أ		ب		ج		د	
---	---	---	---	---	---	---	---





٢- تمثل جسيمات المادة الغازية:

أ		ب		ج		د	
---	---	---	---	---	---	---	---





٣- الأداة المستخدمة لفصل مخلوط من الأرز والدقيق هي:

أ		ب		ج		د	
---	--	---	--	---	--	---	--





٤- أي التغيرات التالية تغير كيميائي:

أ		ب		ج		د	
---	---	---	---	---	---	---	---





٥- الآلة البسيطة التي تدخل في صناعة المصعد الكهربائي هي:

أ		ب		ج		د	
---	---	---	---	---	---	---	---

٦- يمثل تحول الطاقة الكهربائية إلى صوتية:

أ		ب		ج		د	
---	---	---	---	---	---	---	---

٧- أي أصوات الحيوانات التالية حاد؟

أ		ب		ج		د	
---	---	---	---	---	---	---	---

٨- ماذا يحدث إذا سقط الضوء على مرآة؟

أ	ينعكس	ب	ينكسر	ج	يمتص	د	يتشتت
---	-------	---	-------	---	------	---	-------

٩- يعد ورق الألمونيوم:

أ	جسم شفاف	ب	جسم غير شفاف	ج	جسم شبه شفاف	د	ظل
---	----------	---	--------------	---	--------------	---	----

١٠- تصدر الأصوات عن الشيء عندما:

أ	يتأرجح	ب	ينقلب	ج	يهتز	د	ينثني
---	--------	---	-------	---	------	---	-------

السؤال الثاني:

أ- ضعي المصطلحات التالية في مكانها المناسب:

(الاجسام الشفافة - الشغل - المحلول - التغير الكيميائي - المادة - السائل)

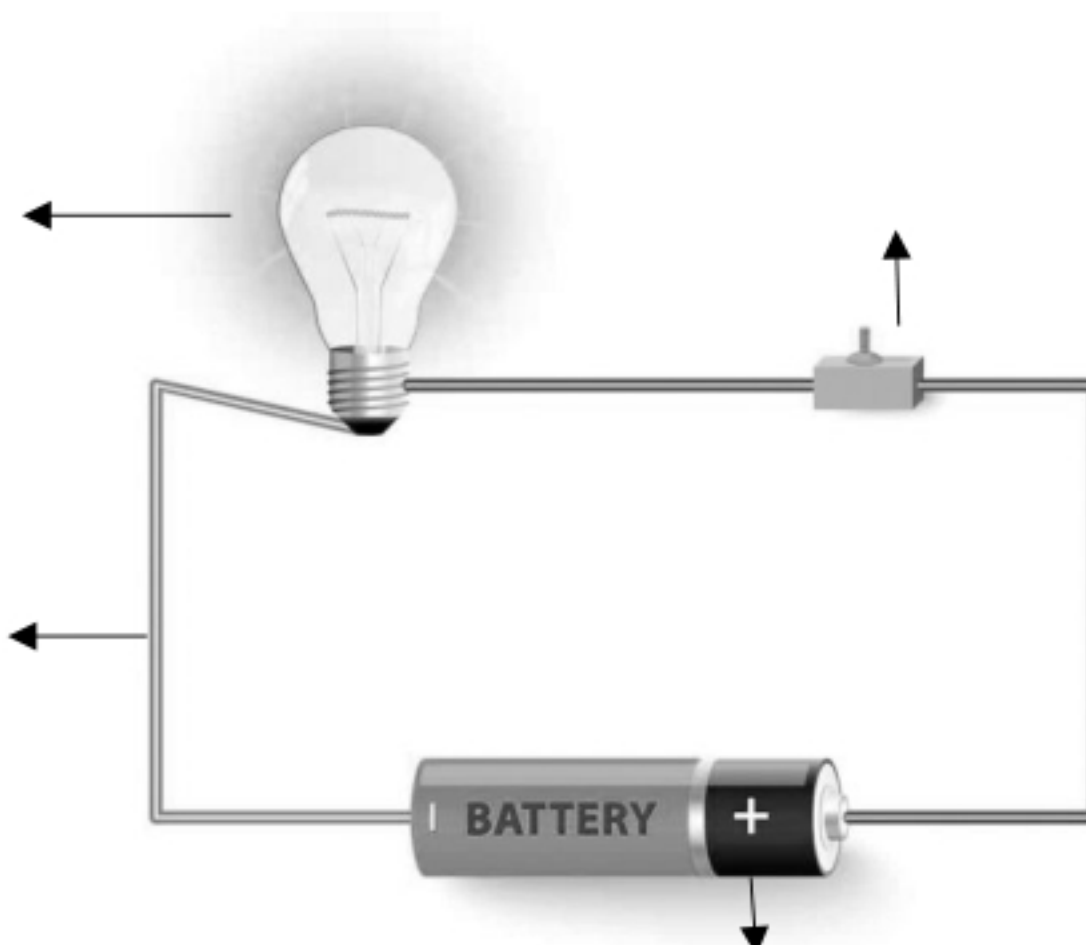
- ١- (.....) كل شي له كتلة ويشغل حيزاً.
- ٢- (.....) اجسام تسمح بنفاذ معظم الضوء من خلالها في خطوط مستقيمة.
- ٣- (.....) تغير ينتج عنه مواد جديدة.
- ٤- (.....) القوة المبذولة لتحريك جسم ما مسافة معينة.
- ٥- (.....) نوع من أنواع المخاليط تمتزج فيه المواد امتزاج تام.
- ٦- (.....) مادة لها حجم ثابت وشكل غير ثابت.

ب- ضعي علامة ( ✓ ) او ( ✗ ) امام العبارات التالية:

١	العناصر هي وحدة بناء المادة.
٢	تصنع اسلاك الكهرباء من النحاس لأنها جيدة التوصيل.
٣	المادة التي تنتشر هي المادة الصلبة.
٤	التغير الفيزيائي تغير يحدث في شكل المادة دون ان ينتج مادة جديدة.
٥	الاجسام الشفافة لا تسمح بنفاذ الضوء من خلالها.
٦	المادة الصلبة لها شكل وحجم ثابت.
٧	يقاس حجم السوائل باستخدام المخبر المدرج.
٨	الصوت والضوء من اشكال الطاقة.
٩	يعرف المسار المغلق الذي تسلكه الكهرباء بالدائرة الكهربائية
١٠	ينتقل الصوت في الفضاء.

ج- ضعي البيانات التالية في اماكنها الصحيحة:








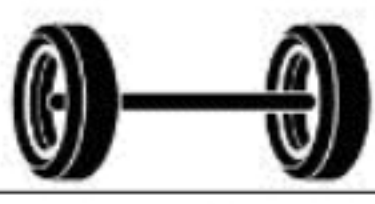
( مصباح - مفتاح كهربائي - اسلاك - بطارية )



السؤال الثالث:

رقمي العمود الاخر بما يناسبه في العمود الأول:

١٠

	
	
	
	
	
	
	
الكيلوجرام	
	
الليتر	

١	يحول الطاقة الكهربائية الى حركية
٢	عضو السمع في الانسان
٣	البرغي
٤	يبذل شغلاً
٥	انكسار الضوء
٦	وحدة قياس الحجم
٧	العجلة والمحور
٨	لا يبذل شغلاً
٩	وحدة قياس الكتلة
١٠	مادة غازية

انتهت الاسئلة  
دعواتي لكن بالتوفيق والنجاح

الصف: ثالث ابتدائي  
اليوم:  
التاريخ: / / ١٤٤٤ هـ  
الزمن: ساعة ونصف فقط



المملكة العربية السعودية  
وزارة التعليم  
إدارة تعليم منطقة تبوك

### نموذج اجابة

اختبار نهاية الفصل الدراسي الثالث ( الدور الأول)

مادة العلوم للصف الثالث ابتدائي

للعام الدراسي ١٤٤٤ هـ

رقم الجلوس : .....

اسم الطالبة : .....

رقم السؤال	الدرجة رقما	الدرجة كتابة	المصححة	المراجعة	المدققة
السؤال الأول					
السؤال الثاني					
السؤال الثالث					

درجة الاختبار النهائية:  فقط لا غير من ٤٠ درجة







النجاح ليس إنجازاً بقدر ما هو قدرة مستمرة على الإنجاز





السؤال الأول: اختاري الإجابة الصحيحة في كلا مما يلي:

١٠





١- الأداة التي تستخدم لقياس الكتلة هي:

أ		ب		ج		د	
---	---	---	---	---	---	---	---





٢- تمثل جسيمات المادة الغازية:

أ		ب		ج		د	
---	---	---	---	---	---	---	---





٣- الأداة المستخدمة لفصل مخلوط من الأرز والدقيق هي:

أ		ب		ج		د	
---	--	---	--	---	--	---	--





٤- أي التغيرات التالية تغير كيميائي:

أ		ب		ج		د	
---	---	---	---	---	---	---	---





٥- الآلة البسيطة التي تدخل في صناعة المصعد الكهربائي هي:

أ		ب		ج		د	
---	---	---	---	---	---	---	---

٦- يمثل تحول الطاقة الكهربائية إلى صوتية:

أ		ب		ج		د	
---	---	---	---	---	---	---	---

٧- أي أصوات الحيوانات التالية حاد؟

أ		ب		ج		د	
---	---	---	---	---	---	---	---

٨- ماذا يحدث إذا سقط الضوء على مرآة؟

أ	<b>ينعكس</b>	ب	ينكسر	ج	يمتص	د	يتشتت
---	--------------	---	-------	---	------	---	-------

٩- يعد ورق الألمونيوم:

أ	جسم شفاف	ب	<b>جسم غير شفاف</b>	ج	جسم شبه شفاف	د	ظل
---	----------	---	---------------------	---	--------------	---	----

١٠- تصدر الأصوات عن الشيء عندما:








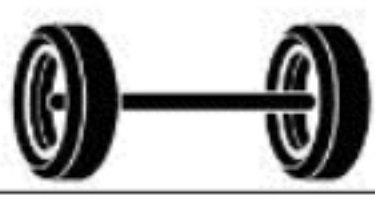
أ	يتأرجح	ب	ينقلب	ج	<b>يهتز</b>	د	ينثني
---	--------	---	-------	---	-------------	---	-------



السؤال الثالث:

رقمي العمود الاخر بما يناسبه في العمود الأول:

١٠

	٢
	١٠
	٨
	١
	٣
	٥
	٤
الكيلوجرام	٩
	٧
اللمتر	٦

١	يحول الطاقة الكهربائية الى حركية
٢	عضو السمع في الانسان
٣	البرغي
٤	يبذل شغلاً
٥	انكسار الضوء
٦	وحدة قياس الحجم
٧	العجلة والمحور
٨	لا يبذل شغلاً
٩	وحدة قياس الكتلة
١٠	مادة غازية

انتهت الاسئلة  
دعواتي لكن بالتوفيق والنجاح