

المادة : رياضيات
الزمن : ساعتان ونصف
الصف : رابع ابتدائي
التاريخ : / / ١٤٤٣ هـ

المملكة العربية السعودية
وزارة التعليم
إدارة تعليم
مدرسة ابتدائية

اختبار الفصل الدراسي (الثالث) _ الدور (الأول) _ المادة الرياضيات _ العام الدراسي ١٤٤٣ هـ

المصحح :	المراجع :	
التوقيع :	التوقيع :	٤٠

ابدأ الاختبار مستعيناً بالله


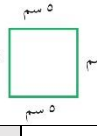
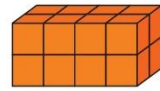
رقم الجلوس :

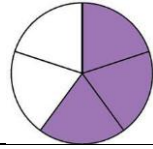
اسم الطالب :

٣٠ /

الدرجة

السؤال الأول: اختر الإجابة الصحيحة :

١	أفضل تقدير لطول النحلة	
١	أ	١٠ ملم
١	ب	١٠ م
١	ج	١٠ كلم
٢	محيط المربع =	
٢	أ	٢٠ سم
٢	ب	١٥ سم
٢	ج	٢٥ سم
٣	حجم المجسم =	
٣	أ	١٦ وحدة مكعبة
٣	ب	١٥ وحدة مكعبة
٣	ج	١٤ وحدة مكعبة
٤	٢٠٠ مل ○ ٢٠٠ لتر	
٤	أ	>
٤	ب	<
٤	ج	=



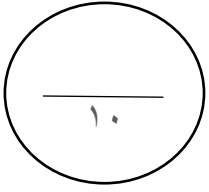
الكسر الذي يمثل الجزء المظلل

٥

أ	$\frac{3}{5}$	ب.	$\frac{2}{5}$	ج.	$\frac{1}{5}$
٦	أ	ب.	ج.	د.	
٧	أ	ب.	ج.	د.	
٨	أ	ب.	ج.	د.	
٩	أ	ب.	ج.	د.	
10	أ	ب.	ج.	د.	
11	أ	ب.	ج.	د.	
12	أ	ب.	ج.	د.	
13	أ	ب.	ج.	د.	
14	أ	ب.	ج.	د.	
15	أ	ب.	ج.	د.	



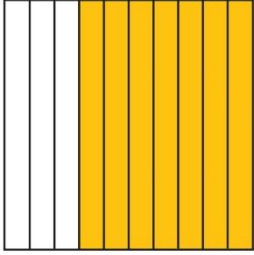
اقلب الصفحة



السؤال الثاني : اجب عن التالي :

٢ /

٢ /



للمودج أوجد الكسر
الاعتياوي والكسر العشري

..... =



للمستطيل أوجد

المحيط =

المساحة =

٢ /

٤ /

اكتب كسور مكافئة للكسور التالية

$$= \frac{3}{6}$$

$$= \frac{5}{7}$$

٨,١١

٤,٠٣ -

٣,٦٠

٢,٥ +

انتهت الأسئلة دمتم فخرا لأمتكم ووطنكم

