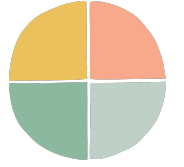


تقييم الأداء :

.....
.....



مساحات الأشكال المركبة



الصف /

الاسم :

توقعات الأراء: إيجاد مساحات أشكال مركبة .



اكتب تعريف المفردة التالية :

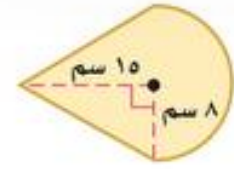
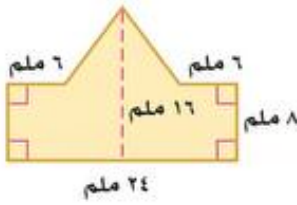
السؤال الأول :



تعريفها	المفردة
	الشكل المركب

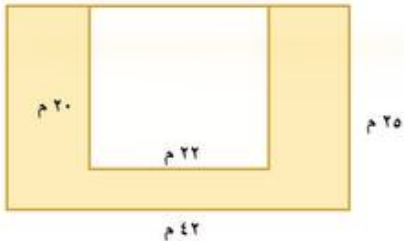
أوجد مساحة الأشكال المركبة الآتية مقربا الجواب إلى أقرب جزء من عشرة إذا لم ذلك :

السؤال الثاني :



أوجد مساحة المنطقة المظلة مقربا الجواب إلى أقرب جزء من عشرة :

السؤال الثالث :



.....



.....

مساحة تحديد الشعور :

