


تهيئة الفصل السادس

اليوم :

التاريخ :



@beso01987



@bs87om

تطوير - إنتاج - توثيق

مجموعة رفاة الرياضيات

رتّب الأعداد من الأصغر إلى الأكبر: (مهارة سابقة)

٩٥,٨٩ ، ٩٦,٠٢ ، ٩٦,٢ ١

٥,١٦ ، ٥,٠٦٢ ، ٥,٦١ ٢

٢٢,٠١٢ ، ٢٢ ، ٢٢,٠٢ ٣

٤ كهرباء: بلغت تكلفة استهلاك الكهرباء في منزل

محمد خلال ثلاثة أشهر متتالية: ٥, ١٤٠, ٦١, ١٤٠,

١٦, ١٤٠ ريالاً. رتّب هذه القيم من الأصغر إلى

الأكبر. (مهارة سابقة)

احسب قيمة كلّ عبارة مما يأتي: (مهارة سابقة)

$$\frac{١,٨ + ٣,١ + ٢,٤ + ٢,٦ + ١,٧}{٥}$$



$$\frac{٤٥ + ٣٧ + ٤٤ + ٢٣}{٤}$$



استراتيجية اللعب وأتعلم

Wordwall



الواجب المنزلي

مجموعة رِفعة الرياضيات

تطوير - إنتاج - توثيق





@beso01987




@bs87om

حساباتنا



[@beso01987](https://t.me/@beso01987)



[@bs87om](https://twitter.com/@bs87om)