



اختبار منتصف الفصل

الدروس ١ - ٤

أ. أحمد الأحمد
@ahmad9963



٥ **اخْتِيَارٌ مِنْ مُتَعَدِّدٍ:** اخْتَارُ الْوَحْدَةَ
الْأَنْسَبَ لِقِيَاسِ الْمَسَافَةِ بَيْنَ مَدِينَتَيْ الرَّيَاضِ
وَحَائِلَ.

- (أ) اللِّتْرُ
(ب) السَّنْتِمِترُ
(ج) المِترُ
(د) الكِيلُومِترُ

اخْتَارُ الْوَحْدَةَ الْأَنْسَبَ (الْمِلمِترُ، السَّنْتِمِترُ، المِترُ،
الكِيلُومِترُ)؛ لِقِيَاسِ كُلِّ مِنَ الْأَطْوَالِ الْآتِيَةِ:

- ١ المَسَافَةِ الْمَقْطُوعَةِ بِالسَّيَّارَةِ.
٢ طُولِ بَاصِ الْمَدْرَسَةِ.

اخْتَارُ التَّقْدِيرَ الْأَنْسَبَ لِطُولِ كُلِّ مِنْ:

- ٣ طُولِ النَّافِذَةِ؛ ٢م أم ٢كلم
٤ طُولِ غُرْفَةِ الصَّفِّ؛ ١٢كلم أم ١٢م

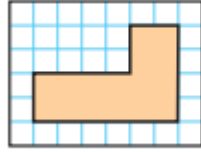
أ.أحمد الأحمدي
@ahmad9963



٦
اشْتَرَكْ عَدَدٌ مِنَ الْعُمَّالِ فِي زِرَاعَةِ حَدِيقَةِ أَحَدِ
الْمَنَازِلِ، فَعَمِلَ كُلُّ مِنْهُمْ ٤ سَاعَاتٍ يَوْمِيًّا،
وَلِمُدَّةِ يَوْمَيْنِ، إِذَا كَانَ مَجْمُوعُ سَاعَاتِ الْعَمَلِ
لَهُمْ جَمِيعًا هُوَ ٢٤ سَاعَةً، فَكَمَ عَامِلًا شَارَكَ
فِي زِرَاعَةِ الْحَدِيقَةِ؟

أ. أحمد الأحمد
@ahmad9963

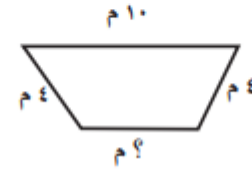
أَجِدْ مُحِيطَ كُلِّ شَكْلِ مِمَّا يَأْتِي:



أ. أحمد الأحمد
@ahmad9963

١٠
الجبر: مُحِيطُ الشَّكْلِ أَذْنَاهُ يُسَاوِي ٢٤ سم،

مَا طُولُ الضِّلَعِ الْمَجْهُولِ فِيهِ؟



أ. أحمد الأحمدى

@ahmad9963




١٥ **اكتب** أسماء أشياء يُمكنُ أن
أقيسها بالمِلمترات، وأوضِّحْ لِمَاذَا لَا أقيسها
بالسنتيمترات.

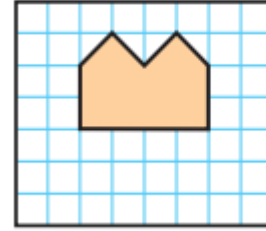
١٤ أجدُ مساحةَ سَجَّادَةٍ مُستطيلةِ الشَّكلِ طُولُهَا
٦ أمتارٍ وعَرْضُهَا ٥ أمتارٍ؟

أ. أحمد الأحمد
@ahmad9963

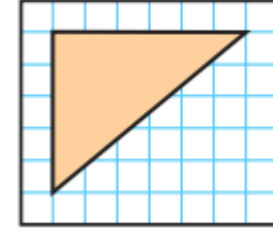
أجد مساحة كل شكل مما يأتي:



٢٢



٢٢



١١

أ. أحمد الأحمد
@ahmad9963