



٢-٩ العلاقات بين الزوايا

الصف:

الاسم



س ١ اختار الإجابة الصحيحة:

(١) إذا كانت الزاويتان ق ، ك متكاملتين ، قياس الزاوية ق = ٤٩° ، فما قياس الزاوية ك ؟

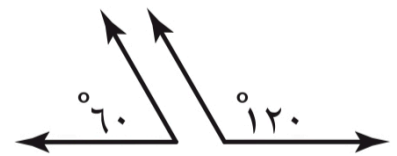
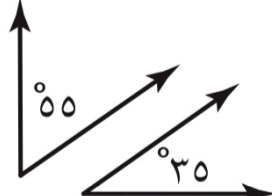
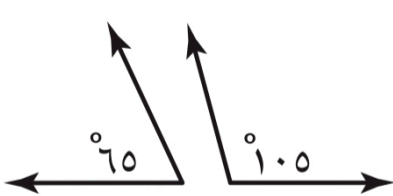
أ	٤١°	ب	٥١°	ج	١٣١°	د	٣١١°
---	------------	---	------------	---	-------------	---	-------------

(٢) زاويتان متتامتان ، قياس إحدهما = ٧٥° ، فما قياس الزاوية الأخرى ؟

أ	٧٥°	ب	٣٥°	ج	٢٥°	د	١٥°
---	------------	---	------------	---	------------	---	------------

س ٢:

صنف كلاً من أزواج الزوايا الآتية إلى: متتامتين أو متكاملتين أو غير ذلك



س ٣: أوجد قيمة س في كل من الأشكال التالية :

