

(١-٥) علاقات الزوايا والمستقيمات

الصف ثاني متوسط /

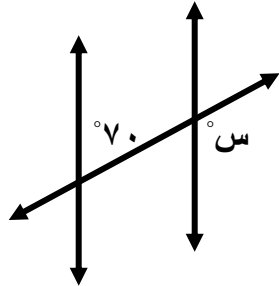
الاسم: .....

• ضع علامة (✓) أمام العبارة الصحيحة وعلامة (x) أمام العبارة الخاطئة:

( ) الزاويتان المتتامتان هما الزاويتان اللتان مجموع قياسيهما يساوي  $180^\circ$

( ) يُسمى المستقيمان اللذان يتقاطعان بزواوية قائمة مستقيمين متعامدين

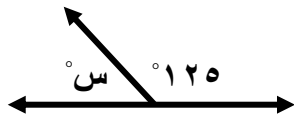
• اختر الإجابة الصحيحة فيما يلي:



(١) قياس س في الشكل المجاور تساوي ....

(أ)  $70^\circ$  (ب)  $80^\circ$

(ج)  $100^\circ$  (د)  $110^\circ$

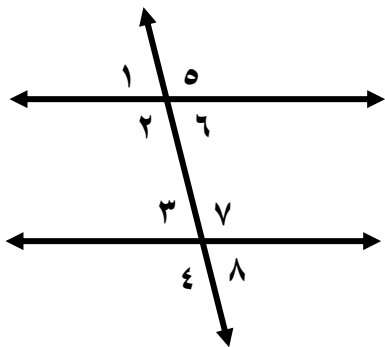


(٢) قياس س في الشكل المجاور تساوي ....

(أ)  $75^\circ$  (ب)  $55^\circ$

(ج)  $35^\circ$  (د)  $125^\circ$

• صنف أزواج الزوايا التالية إلى متبادلة داخلياً، أو متبادلة خارجياً، أو متناظرة.



(أ)  $4 >$  و  $5 >$  .....

(ب)  $8 >$  و  $6 >$  .....

(ج)  $6 >$  و  $3 >$  .....

(د)  $3 >$  و  $1 >$  .....

(هـ)  $2 >$  و  $7 >$  .....