

المملكة العربية السعودية

وزارة التعليم

الإدارة العامة للتعليم بمنطقة

VISION 2030
مستقبلنا من أجل أفضل

وزارة التعليم
Ministry of Education

ملزمة تعزيز مهارات مادة العلوم الصف الأول الابتدائي


الفصل الدراسي الأول لعام ١٤٤٤ هـ

الاسم :

الفصل :


العلوم












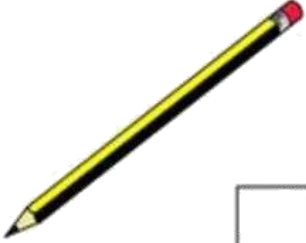




الفصل الأول






تعرف إلى الكائنات الحية

اختر الكائن الحي.

 <input type="checkbox"/>	 <input type="checkbox"/>	 <input type="checkbox"/>
 <input type="checkbox"/>	 <input type="checkbox"/>	 <input type="checkbox"/>
 <input type="checkbox"/>	 <input type="checkbox"/>	 <input type="checkbox"/>
 <input type="checkbox"/>	 <input type="checkbox"/>	 <input type="checkbox"/>



الدرس الأول : المخلوقات الحية ٢

اختر الجواب الصحيح:

(١) كل مما يلي عبارة عن مخلوق حي إلا:



(٢) أي مما يلي مخلوق



صل كل صورة بما يُناسبها:




كانت حي



شيء غير حي







الدرس الثاني: النباتات وأجزاؤها

يقوم الطالب بالتعرف على أجزاء النبات (الجنور والسيقان
وصف وظائف أجزاء النبات.

اصل المفردات في مكانها الصحيح :

الأزهار	الساق	الأوراق	الجنور
---------	-------	---------	--------





صل كل صورة بما يُناسبها:



جُدُور



أوراق




ساق





الفصل الثاني



الدرس الثالث: نمو النباتات
يوضح أهمية الثمار والأزهار للنباتات

صل بين الصورة والكلمة المناسبة لها:



ضع علامة (صح) أمام العبارة:

١. جزء النبات الذي يحيي البذور
٢. تنبت البذرة ثم تنمو وتكون
٣. جزء النبات الذي ينبت، ثم ينمو ليصير نباتاً جديداً





صل كل مرحلة من مراحل حياة نبات الفاصولياء بالرقم المناسب:




5

4

3

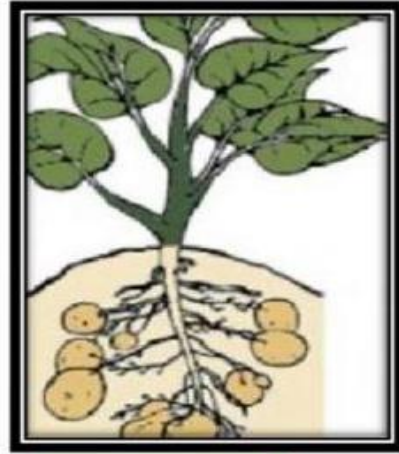

2


1





هيا يا صغيري رتب مراحل نمو النبات





الدرس الرابع: تعيش النباتات في أماكن كثيرة

يقوم بوصف كيف يُمكن للنبات أن يعيش في أماكن كثيرة

يقوم بوصف بيئة الغابة ، وبيئة الصحراء أيضاً

اختار الإجابة الصحيحة:

١. موطن تنمو في أشجار كثيرة وطويلة (الغابة - الصحراء - البحيرة)
٢. موطن تعيش فيه الجمال (الغابة - الصحراء - البحيرة)
٣. منطقة واسعة فيها أعشاب كثيرة (الغابة - الصحراء - البحيرة)

صل بين الصورة والكلمة المناسبة لها:

المنطقة العشبية

الغابة


البحيرة

الصحراء





الفصل الثالث



الدرس الخامس: أنواع الحيوانات

يرى أنواع متعددة من الحيوانات ويقوم بوصفها
يشرح أوجه التشابه والاختلاف بين الحيوانات



صل بين الصورة والكلمة المناسبة:



زاحف

ثدي

حشرة

طائر

برماني

اختر الجواب الصحيح:

١. حيوانات لها زعانف تعيش في الماء. (الثدييات - الطيور -

الأسماك)

٢. العناكب من الحشرات (صح - خطأ).





السؤال الأول ضع علامة (√) أو (X) أما العبارات التالية

تحتاج الطيور إلي الخياشيم لتأكل



البرمائيات لها جلد ناعم ورطب




يغطي أجسام بعض الثدييات شعر



السؤال الثاني : ضع دائرة حول الحيوان الذي يغطي جسمه ريش





الدرس السادس: الحيوانات وحاجاتها

يستطيع الربط بين شكل أسنان الحيوان والطعام المناسب لتناوله

يستطيع تصنيف الحيوانات بناء على نوع طعامها



صل كل حيوان مع نمط غذائه:



آكلات اللحوم



آكلات الأعشاب



اختر الجواب الصحيح:



١. عثر أحمد على جمجمة حيوان في البرية:

(آكلات الأعشاب - آكلات

تعود هذه الجمجمة لحيوان:





صل الحيوان مع الأسنان المناسبة له:




آكلات نبات



آكلات لحوم





الدرس السادس: الحيوانات وحاجاتها (٢)

يشرح كيفية حصول الحيوانات المختلفة على حاجاتها

صل كل حيوان بطريقة تنقله:



السباحة



الركض




الزحف



الطيران




صل كل حيوان بـغذائـه المناسب :





الفصل الرابع



الدرس الأول : مواطن على اليابسة ٢

- يقوم بوصف مواطن اليابسة.
- يتعلم أكثر عن مواطن اليابسة المختلفة.



صل كل حيوان بالمنطقة التي يعيش فيها:



الصحراء



المنطقة العشبية





صل الحيوانات بأماكن عيشها:

