

# القسم الثالث





## الفهرس

### الإحداثيات القطبية والأعداد المركبة


الفصل  
6

267	التهيئة للفصل السادس
268	6-1 الإحداثيات القطبية
275	6-2 الصورة القطبية والصورة الديكارتية للمعادلات
284	6-3 الأعداد المركبة ونظرية ديموافر
295	دليل الدراسة والمراجعة
299	اختبار الفصل

### الاحتمال والإحصاء

الفصل  
7

301	التهيئة للفصل السابع
302	7-1 الدراسات التجريبية والمسحية والقائمة على الملاحظة
307	توسع 7-1 معمل الحاسبة البيانية: تقويم البيانات المنشورة
308	7-2 التحليل الإحصائي
313	7-3 الاحتمال المشروط
317	اختبار منتصف الفصل
318	7-4 الاحتمال والتوزيعات الاحتمالية
324	7-5 التوزيع الطبيعي
329	توسع 7-5 معمل الجبر: القانون التجريبي والمئينات
330	7-6 التوزيعات ذات الحدين
336	دليل الدراسة والمراجعة
341	اختبار الفصل







## الفهرس

## النهايات والاشتقاق

الفصل  
8

343	التهيئة للفصل الثامن
344	8-1 تقدير النهايات بيانياً
353	8-2 حساب النهايات جبرياً
363	8-3 استكشاف معمل الحاسبة البيانية : ميل المنحنى
365	8-3 المماس والسرعة المتجهة
371	اختبار منتصف الفصل
372	8-4 المشتقات
380	8-5 المساحة تحت المنحنى والتكامل
389	8-6 النظرية الأساسية في التفاضل والتكامل
396	دليل الدراسة والمراجعة
401	اختبار الفصل
402	الصيغ والرموز

## الإحداثيات القطبية والأعداد المركبة Polar Coordinates and Complex Numbers



### فيما سبق:

درست القطوع المخروطية ومعادلاتها وتمثيلها بيانيًا.

### والآن:

- أمثلُ الإحداثيات القطبية بيانيًا.
- أحول بين الإحداثيات والمعادلات الديكارتية والقطبية.
- أكتب الأعداد المركبة على الصورة القطبية والصورة الديكارتية وأحول بينهما.


### لماذا؟

#### تصاميم هندسية:

يمكن استعمال المعادلات القطبية في عمل تصاميم هندسية فمثلاً لوحة سهام تظهر عليها المواقع بوصفها أعداداً مركبة على الصورتين القطبية والديكارتية. كما يمكن استعمالها لنمذجة أنماط الصوت التي تساعد على تحديد وضعية تجهيزات المسرح، مثل: السماعات ومكبرات الصوت، وتحديد قوة الصوت ومستوى التسجيل.

#### قراءة سابقة: اقرأ عناوين

الدروس والمفردات الأساسية في هذا الفصل؛ لتساعدك على التنبؤ بالأفكار التي ستتعلمها في هذا الفصل.







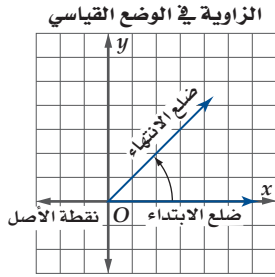
## مراجعة المفردات

### ضلع الابتداء للزاوية (Initial Side of an Angle)

الضلع المنطبق على المحور  $x$  عندما تكون الزاوية في الوضع القياسي.

### ضلع الانتهاء للزاوية (Terminal Side of an Angle)

الضلع الذي يدور حول نقطة الأصل عندما تكون الزاوية في الوضع القياسي.



### قياس الزاوية (Measure of an Angle)

يكون قياس الزاوية موجباً إذا دار ضلع الانتهاء عكس اتجاه عقارب الساعة، ويكون سالباً إذا دار ضلع الانتهاء في اتجاه عقارب الساعة.

### متطابقات المجموع والفرق

#### (Sum and Difference Identities)

- $\sin(A + B) = \sin A \cos B + \cos A \sin B$
- $\cos(A + B) = \cos A \cos B - \sin A \sin B$
- $\sin(A - B) = \sin A \cos B - \cos A \sin B$
- $\cos(A - B) = \cos A \cos B + \sin A \sin B$

## اختبار سريع

ارسم كلًا من الزاويتين المعطى قياسهما فيما يأتي في الوضع القياسي:

(1)  $200^\circ$

(2)  $-45^\circ$

أوجد زاوية بقياس موجب، وأخرى بقياس سالب مشتركين في ضلع الانتهاء مع كل من الزوايا الآتية، ومثلهما في الوضع القياسي:

(3)  $165^\circ$

(4)  $-10^\circ$

(5)  $\frac{4\pi}{3}$

(6)  $-\frac{\pi}{4}$

حوّل قياس الزاوية المكتوبة بالدرجات إلى الراديان، والمكتوبة بالراديان

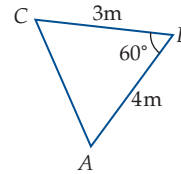
إلى درجات في كل مما يأتي:

(7)  $-60^\circ$

(8)  $\frac{3\pi}{2}$

(9) أوجد القيمة الدقيقة لـ  $\sin 15^\circ$  باستعمال متطابقة الفرق بين زاويتين.

(10) أوجد طول الضلع  $AC$  في المثلث المرسوم أدناه (قرب إلى أقرب جزء من عشرة).





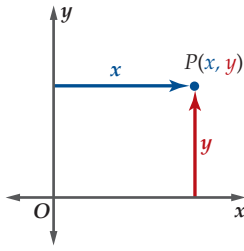


## المادّة ٩

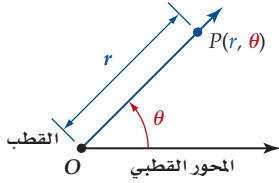
يُستعمل مراقبو الحركة الجوية أنظمة رادار حديثة لتوجيه مسار الطائرات، والحصول على مسارات ورحلات جوية آمنة. وهذا يضمن بقاء الطائرة على مسافة آمنة من الطائرات الأخرى، والتضاريس الأرضية. ويستخدم الرادار قياسات الزوايا والمسافات المتجهة؛ لتمثيل موقع الطائرة. ويقوم المراقبون بتبادل هذه المعلومات مع الطيارين.

**تمثيل الإحداثيات القطبية** لقد تعلمت التمثيل البياني لمعادلات معطاة في نظام الإحداثيات الديكارتية (المستوى الإحداثي). وعندما يحدد مراقبو الحركة الجوية موقع الطائرة باستعمال المسافات والزوايا، فإنهم يستعملون نظام الإحداثيات القطبية (المستوى القطبي).

### نظام الإحداثيات الديكارتية



### نظام الإحداثيات القطبية



في نظام الإحداثيات الديكارتية، المحوران  $x, y$  هما المحوران الأفقي والرأسي على الترتيب، وتُسمى نقطة تقاطعهما نقطة الأصل، ويرمز لها بالحرف  $O$ . ويُعيّن موقع النقطة  $P$  بالإحداثيات الديكارتية من خلال زوج مرتب  $(x, y)$ ، حيث  $x, y$  المسافتان المتجهتان الأفقية، والرأسيّة على الترتيب من المحورين إلى النقطة. فمثلاً، تقع النقطة  $(1, \sqrt{3})$  على بُعد وحدة وحدة إلى يمين المحور  $y$ ، وعلى بُعد  $\sqrt{3}$  وحدة إلى أعلى المحور  $x$ .

في نظام الإحداثيات القطبية، نقطة الأصل  $O$  نقطة ثابتة تُسمى **القطب**. والمحور القطبي هو نصف مستقيم يمتد أفقيًا من القطب إلى اليمين.

يمكن تعيين موقع نقطة  $P$  في نظام الإحداثيات القطبية باستعمال **الإحداثيات**  $(r, \theta)$ ، حيث  $r$  المسافة المتجهة (أي تتضمن قيمة واتجاهًا)، فمن الممكن أن تكون  $r$  سالبة) من القطب إلى النقطة  $P$ ، و  $\theta$  الزاوية المتجهة (أي تتضمن قيمة واتجاهًا) من المحور القطبي إلى  $\overrightarrow{OP}$ .

القياس الموجب للزاوية  $\theta$  يعني دورانًا بعكس اتجاه عقارب الساعة بدءًا من المحور القطبي، في حين يعني القياس السالب دورانًا باتجاه عقارب الساعة، ولتمثيل النقطة  $P$  بالإحداثيات القطبية، فإن  $P$  تقع على ضلع الانتهاء للزاوية  $\theta$  إذا كانت  $r$  موجبة. أما إذا كانت سالبة، فإن  $P$  تقع على نصف المستقيم المقابل (الامتداد) لضلع الانتهاء للزاوية  $\theta$ .

## فيما سبق:

درست الزوايا الموجبة والسالبة ورسمتها في الوضع القياسي. (مهارة سابقة)

## والآن:

- أمثل نقاطًا بالإحداثيات القطبية.
- أمثل بيانيًا معادلات قطبية بسيطة.

## المفردات:

نظام الإحداثيات القطبية

polar coordinate system

القطب

pole

المحور القطبي

polar axis

الإحداثيات القطبية

polar coordinates

المعادلة القطبية

polar equation

التمثيل القطبي

polar graph

## تمثيل الإحداثيات القطبية

### مثال 1

مثّل كل نقطة من النقاط الآتية في المستوى القطبي:

$A(2, 45^\circ)$  (a)

$B(-1.5, \frac{2\pi}{3})$  (b)

$C(3, -30^\circ)$  (c)

**تحقق من فهمك**

مثل كل نقطة من النقاط الآتية:

$F\left(4, -\frac{5\pi}{6}\right)$  (1C)

$E(2.5, 240^\circ)$  (1B)

$D\left(-1, \frac{\pi}{2}\right)$  (1A)

تُعيّن الإحداثيات القطبية في المستوى القطبي الذي يتخذ شكلاً دائرياً، كما تُعيّن الإحداثيات الديكارتية في المستوى الإحداثي الذي يتخذ شكلاً مستطيلاً.

**تمثيل النقاط في المستوى القطبي**

**مثال 2**

مثل كلاً من النقاط الآتية في المستوى القطبي:

$P\left(3, \frac{4\pi}{3}\right)$  (a)

$Q(-3.5, 150^\circ)$  (b)

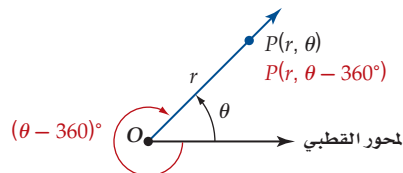
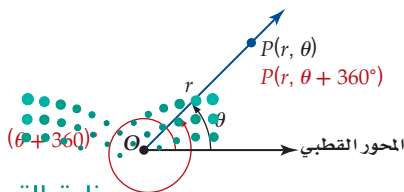
**تحقق من فهمك**

مثل كلاً من النقاط الآتية في المستوى القطبي:

$S(-2, -135^\circ)$  (2B)

$R\left(1.5, -\frac{7\pi}{6}\right)$  (2A)

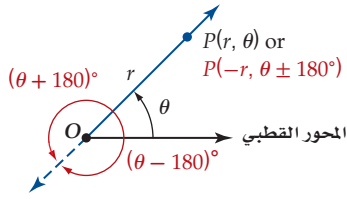
في نظام الإحداثيات الديكارتية كل نقطة يُعبّر عنها بزوج وحيد من الإحداثيات  $(x, y)$ . إلا أن هذا لا ينطبق على نظام الإحداثيات القطبية؛ وذلك لأن قياس كل زاوية يُكتب بعدد لانهاضي من الطرائق؛ وعليه فإن للنقطة  $(r, \theta)$  الإحداثيات  $(r, \theta \pm 360^\circ)$  أو  $(r, \theta \pm 2\pi)$  أيضاً كما هو مبين أدناه.



**إرشادات للدراسة**

**القطب**

يمكن تمثيل القطب بالنقطة  $(0, \theta)$ ، حيث  $\theta$  أي زاوية.



وكذلك لأن  $r$  مسافة متجهة، فإن  $(r, \theta)$  و  $(-r, \theta \pm \pi)$ ، أو  $(-r, \theta \pm 180^\circ)$  تمثل النقطة نفسها، كما في الشكل المجاور.

وبصورة عامة، إذا كان  $n$  عدداً صحيحاً، فإنه يمكن تمثيل النقطة  $(r, \theta)$  بالإحداثيات  $(r, \theta + 360^\circ n)$  أو  $(-r, \theta + (2n + 1)180^\circ)$ . وبالمثل، إذا كانت  $\theta$  مقيسة بالراديان، وكان  $n$  عدداً صحيحاً، فإنه يمكن تمثيل النقطة  $(r, \theta)$  بالإحداثيات  $(r, \theta + 2n\pi)$  أو  $(-r, \theta + (2n + 1)\pi)$ .

### تمثيلات قطبية متعددة

### مثال 3

إذا كانت  $-360^\circ \leq \theta \leq 360^\circ$ ، فأوجد أربعة أزواج مختلفة كل منها يمثل إحداثيين قطبيين للنقطة  $T$  في الشكل المجاور.

### تحقق من فهمك

أوجد ثلاثة أزواج مختلفة كل منها يمثل إحداثيين قطبيين للنقطة المعطاة، علماً بأن:  
 $-360^\circ \leq \theta \leq 360^\circ$ ، أو  $-2\pi \leq \theta \leq 2\pi$ .

$$\left(-2, \frac{\pi}{6}\right) \quad \text{(3B)}$$

$$(5, 240^\circ) \quad \text{(3A)}$$

**التمثيل البياني للمعادلات القطبية** تُسمى المعادلة المعطاة بدلالة الإحداثيات القطبية **معادلةً قطبيةً**. فمثلاً:  
 $r = 2 \sin \theta$  هي معادلة قطبية. التمثيل القطبي هو مجموعة كل النقاط  $(r, \theta)$  التي تحقق إحداثياتها المعادلة القطبية.

لقد تعلمت سابقاً كيفية تمثيل المعادلات في نظام الإحداثيات الديكارتية (في المستوى الإحداثي). ويُعدُّ تمثيل المعادلات مثل  $x = a$ ، و  $y = b$  أساسياً في نظام الإحداثيات الديكارتية. وبالمثل فإن التمثيل البياني لمعادلات قطبية مثل  $r = k$ ، و  $\theta = h$ ، حيث  $k, h$  عدنان حقيقيان، يُعدُّ أساسياً في نظام الإحداثيات القطبية.

### التمثيل البياني للمعادلات القطبية

### مثال 4

مثّل كل معادلة من المعادلات القطبية الآتية بيانياً:

$$r = 2 \quad \text{(a)}$$

### إرشاد تقني

#### تمثيل المعادلات القطبية

لتمثيل المعادلة القطبية

$r = 2$  على الحاسبة البيانية

TI-nspire، اضغط

على أولاً ثم و

3: ادخال / تحرير الرسم البياني

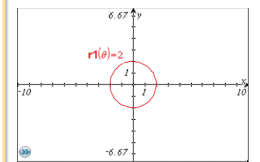
وغيّر وضع الرسم إلى

4: قطبي، لاحظ أن

المتغيّر التابع تغيّر من  $f(x)$

إلى  $r$ ، والمتغيّر المستقل من

$x$  إلى  $\theta$ . مثل  $r = 2$ .





$$\theta = \frac{\pi}{6} \quad (b)$$

### تحقق من فهمك

مثّل كل معادلة من المعادلات القطبية الآتية بيانياً:

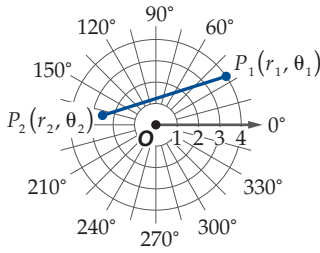
$$\theta = \frac{2\pi}{3} \quad (4B)$$

$$r = 3 \quad (4A)$$

يمكن إيجاد المسافة بين نقطتين في المستوى القطبي باستعمال الصيغة الآتية.

### المسافة بالصيغة القطبية

### مفهوم أساسي



افترض أن  $P_1(r_1, \theta_1)$ ,  $P_2(r_2, \theta_2)$  نقطتان في المستوى القطبي، تُعطى المسافة  $P_1P_2$  بالصيغة:

$$P_1P_2 = \sqrt{r_1^2 + r_2^2 - 2r_1r_2 \cos(\theta_2 - \theta_1)}$$

سوف تبرهن هذه الصيغة في السؤال 56

### تنبيه!

**تهيئة الحاسبة البيانية**  
عند استعمال صيغة المسافة القطبية، تأكد من ضبط الحاسبة البيانية على وضعية الدرجات، أو الراديان بحسب قياسات الزوايا المعطاة.

### إيجاد المسافة باستعمال الصيغة القطبية

### مثال 5 من واقع الحياة

**حركة جوية:** يتابع مراقب الحركة الجوية طائرتين تطيران على الارتفاع نفسه، حيث إحداثيات موقعي الطائرتين هما  $A(5, 310^\circ)$ ,  $B(6, 345^\circ)$ ، وتقاس المسافة المتجهة بالأميال.

(a) مثّل هذا الموقف في المستوى القطبي.

(b) إذا كانت تعليمات الطيران تتطلب أن تكون المسافة بين الطائرتين أكثر من 3 mi، فهل تخالف هاتان الطائرتان هذه التعليمات؟ وضح إجابتك.



### الربط مع الحياة

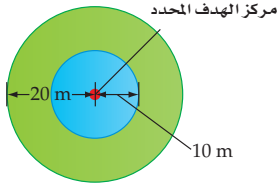
لقد طوّرت ألمانيا جهاز رادار عام 1936 يستطيع رصد الطائرات ضمن دائرة نصف قطرها 80 mi.

### تحقق من فهمك

(5) **قوارب:** يرصد رادار بحري حركة قاربين، إذا كانت إحداثيات موقعي القاربين  $(3, 65^\circ)$ ,  $(8, 150^\circ)$ ، حيث  $r$  بالأميال.

### وزارة التعليم

Ministry of Education



(24) **القفز بالمظلات:** في مسابقة لتحديد دقة موقع الهبوط، يحاول مظلي الوصول إلى «مركز الهدف المحدد»؛ ومركز الهدف عبارة عن دائرة حمراء طول قطرها 2m. كما يشمل الهدف دائرتين طولاً نصفياً قطريهما 10m و 20m. (مثال 4)

(a) اكتب 3 معادلات قطبية تمثل حدود المناطق الثلاث للهدف.  
(b) مثل هذه المعادلات في المستوى القطبي.

أوجد المسافة بين كل زوج من النقاط فيما يأتي. (مثال 5)

(25)  $(2, 30^\circ), (5, 120^\circ)$  (26)  $(3, \frac{\pi}{2}), (8, \frac{4\pi}{3})$

(27)  $(6, 45^\circ), (-3, 300^\circ)$  (28)  $(7, -\frac{\pi}{3}), (1, \frac{2\pi}{3})$

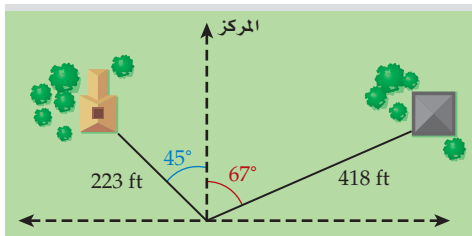
(29)  $(-5, \frac{7\pi}{6}), (4, \frac{\pi}{6})$  (30)  $(4, -315^\circ), (1, 60^\circ)$

(31)  $(-2, -30^\circ), (8, 210^\circ)$  (32)  $(-3, \frac{11\pi}{6}), (-2, \frac{5\pi}{6})$

(33)  $(1, -\frac{\pi}{4}), (-5, \frac{7\pi}{6})$  (34)  $(7, -90^\circ), (-4, -330^\circ)$

(35)  $(8, -\frac{2\pi}{3}), (4, -\frac{3\pi}{4})$  (36)  $(-5, 135^\circ), (-1, 240^\circ)$

(37) **مساحون:** أراد مساح تحديد حدود قطعة أرض، فحدّد أثراً يبعد 223 ft، بزاوية 45° إلى يسار المركز، وأثراً آخر على بُعد 418 ft بزاوية 67° إلى اليمين المركز، كما في الشكل أدناه، أوجد المسافة بين الأثرين. (مثال 5)



(38) **مراقبة:** تراب آلة تصوير مثبتة منطقة جبلية تمثل جزءاً من دائرة، وتُحدّد بالمتباينتين  $0 \leq r \leq 40, -60^\circ \leq \theta \leq 150^\circ$ ، حيث  $r$  بالأمتار.

(a) مثل في المستوى القطبي المنطقة التي يمكن لآلة التصوير مراقبتها.

(b) أوجد مساحة المنطقة (مساحة القطاع الدائري تساوي: قياس زاوية القطاع بالدرجات  $\times$  مساحة الدائرة)  $\frac{360^\circ$

مثل كل نقطة مما يأتي في المستوى القطبي. (المثالان 1, 2)

(1)  $R(1, 120^\circ)$  (2)  $T(-2.5, 330^\circ)$

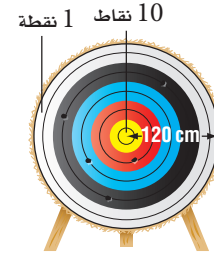
(3)  $F(-2, \frac{2\pi}{3})$  (4)  $A(3, \frac{\pi}{6})$

(5)  $B(5, -60^\circ)$  (6)  $D(-1, -\frac{5\pi}{3})$

(7)  $G(3.5, -\frac{11\pi}{6})$  (8)  $C(-4, \pi)$

(9)  $M(0.5, 270^\circ)$  (10)  $W(-1.5, 150^\circ)$

(11) **رماية:** يتكون هدف في منافسة للرماية من 10 دوائر متحدة المركز. ويتدرج عدد النقاط المكتسبة من 1 إلى 10 من الحلقة الدائرية الخارجية إلى الدائرة الداخلية على الترتيب. افترض أن رامياً يستعمل هدفاً نصف قطره 120 cm، وأنه قد أطلق ثلاثة أسهم، فأصابت الهدف عند النقاط  $(114, 45^\circ), (82, 315^\circ), (30, 240^\circ)$ . إذا كان لجميع الحلقات الدائرية السمك نفسه، ويساوي طول نصف قطر الدائرة الداخلية. (المثالان 1, 2)



(a) فمثل النقاط التي أصابها الرامي في المستوى القطبي.  
(b) ما مجموع النقاط التي حصل عليها الرامي؟

إذا كانت  $-360^\circ \leq \theta \leq 360^\circ$ ، فأوجد ثلاثة أزواج مختلفة كل منها يمثل إحداثيين قطبيين للنقطة في كل مما يأتي: (مثال 3)

(12)  $(1, 150^\circ)$  (13)  $(-2, 300^\circ)$

(14)  $(4, -\frac{7\pi}{6})$  (15)  $(-3, \frac{2\pi}{3})$

(16)  $(5, \frac{11\pi}{6})$  (17)  $(-5, -\frac{4\pi}{3})$

(18)  $(2, -30^\circ)$  (19)  $(-1, -240^\circ)$

مثل كل معادلة من المعادلات القطبية الآتية بيانياً: (مثال 4)

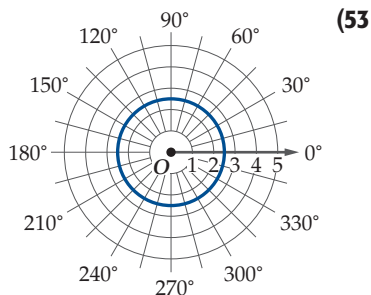
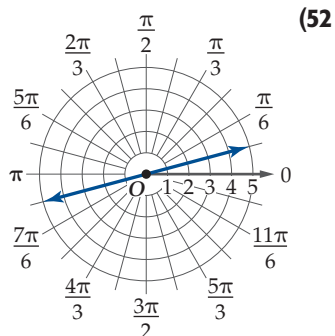
(20)  $r = 1.5$  (21)  $\theta = 225^\circ$

(22)  $\theta = -\frac{7\pi}{6}$  (23)  $r = -3.5$

**51 تمثيلات متعددة:** في هذه المسألة، سوف تستقصي العلاقة بين الإحداثيات القطبية والإحداثيات الديكارتية.

- (a) بيانياً:** عيّن  $A\left(2, \frac{\pi}{3}\right)$  في المستوى القطبي، وارسم نظام الإحداثيات الديكارتية فوق المستوى القطبي بحيث تنطبق نقطة الأصل على القطب، والجزء الموجب من المحور  $x$  على المحور القطبي. وبالتالي سينطبق المحور  $y$  على المستقيم  $\theta = \frac{\pi}{2}$ . ارسم مثلثاً قائماً بوصول  $A$  مع نقطة الأصل، وارسم منها عموداً على المحور  $x$ .
- (b) عددياً:** احسب طولي ضلعي الزاوية القائمة باستعمال طول الوتر والمتطابقات المثلثية.
- (c) بيانياً:** عيّن  $B\left(4, \frac{5\pi}{6}\right)$  على المستوى القطبي نفسه، وارسم مثلثاً قائماً بوصول  $B$  مع نقطة الأصل، وارسم منها عموداً على المحور  $x$ ، واحسب طولي ضلعي الزاوية القائمة.
- (d) تحليلياً:** كيف ترتبط أطوال أضلاع المثلث بالإحداثيات الديكارتية لكل نقطة؟
- (e) تحليلياً:** اشرح العلاقة بين الإحداثيات القطبية  $(r, \theta)$ ، والإحداثيات الديكارتية  $(x, y)$ .

اكتب المعادلة لكل تمثيل قطبي مما يأتي:



إذا كانت  $0 \leq \theta \leq 180^\circ$ ، فأوجد زوجاً آخر من الإحداثيات القطبية لكل نقطة مما يأتي:

**(39)**  $(5, 960^\circ)$

**(40)**  $\left(-2.5, \frac{15\pi}{6}\right)$

**(41)**  $\left(4, \frac{33\pi}{12}\right)$

**(42)**  $(1.25, -920^\circ)$

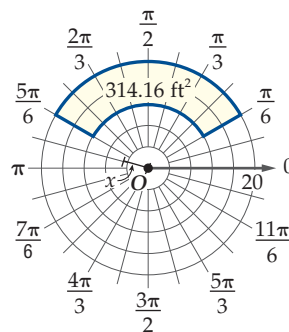
**(43)**  $\left(-1, -\frac{21\pi}{8}\right)$

**(44)**  $(-6, -1460^\circ)$

**(45) مسرح:** يلقي شاعر قصيدة في مسرح. ويمكن وصف المسرح بمستوى قطبي، بحيث يقف الشاعر في القطب باتجاه المحور القطبي. افترض أن الجمهور يجلس في المنطقة المحددة بالمتباينتين  $30 \leq r \leq 240$ ،  $-\frac{\pi}{4} \leq \theta \leq \frac{\pi}{4}$ ، حيث  $r$  بالأقدام.

- (a)** مثل المنطقة التي يجلس بها الجمهور في المستوى القطبي.
- (b)** إذا كان كل شخص بحاجة إلى  $5 \text{ ft}^2$ ، فكم مقعداً يتسع له المسرح؟

**(46) أمن:** يضيء مصباح مراقبة مثبت على سطح أحد المنازل منطقة على شكل جزء من قطاع دائري محدد بالمتباينتين  $\frac{\pi}{6} \leq \theta \leq \frac{5\pi}{6}$ ،  $x \leq r \leq 20$ ، حيث  $r$  بالأقدام. إذا كانت مساحة المنطقة  $314.16 \text{ ft}^2$ ، كما هو مبين في الشكل أدناه، فأوجد قيمة  $x$ .



أوجد الإحداثي المجهول الذي يحقق الشروط المعطاة في كل مما يأتي:

$P_1 = (3, 35^\circ), P_2 = (r, 75^\circ), P_1P_2 = 4.174$  **(47)**

$P_1 = (5, 125^\circ), P_2 = (2, \theta), P_1P_2 = 4, 0 \leq \theta \leq 180^\circ$  **(48)**

$P_1 = (3, \theta), P_2 = \left(4, \frac{7\pi}{9}\right), P_1P_2 = 5, 0 \leq \theta \leq \pi$  **(49)**

$P_1 = (r, 120^\circ), P_2 = (4, 160^\circ), P_1P_2 = 3.297$  **(50)**





أوجد الزاوية  $\theta$  بين المتجهين  $u, v$  لكل مما يأتي: (مهارة سابقة)

**(65)**  $u = \langle 4, -3, 5 \rangle, v = \langle 2, 6, -8 \rangle$

**(66)**  $u = 2i - 4j + 7k, v = 5i + 6j - 11k$

**(67)**  $u = \langle -1, 1, 5 \rangle, v = \langle 7, -6, 9 \rangle$

أوجد إحداثيات مركز وطول نصف قطر كل من الدوائر الآتية:  
 (مهارة سابقة)

**(68)**  $x^2 + (y - 1)^2 = 9$

**(69)**  $(x + 1)^2 + y^2 = 16$

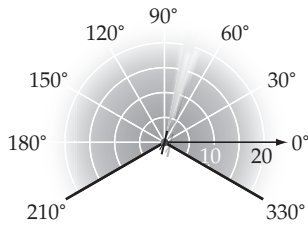
**(70)**  $x^2 + y^2 = 1$

### تدريب على اختبار

**(71)** أي المتجهات الآتية يمثل  $\vec{RS}$ ، حيث إن نقطة البداية  $R(-5, 3)$ ، ونقطة النهاية  $S(2, -7)$ ؟

- A**  $\langle 7, -10 \rangle$       **C**  $\langle -7, 10 \rangle$   
**B**  $\langle -3, 10 \rangle$       **D**  $\langle -3, -10 \rangle$

**(72)** يستطيع رشاش ماء رش منطقة على شكل قطاع دائري يمكن تحديدها بالمتباينتين  $0 \leq r \leq 20, -30^\circ \leq \theta \leq 210^\circ$ ، حيث  $r$  بالأقدام. ما المساحة التقريبية لهذه المنطقة؟



- A**  $821 \text{ ft}^2$       **C**  $852 \text{ ft}^2$   
**B**  $838 \text{ ft}^2$       **D**  $866 \text{ ft}^2$

### مسائل مهارات التفكير العليا

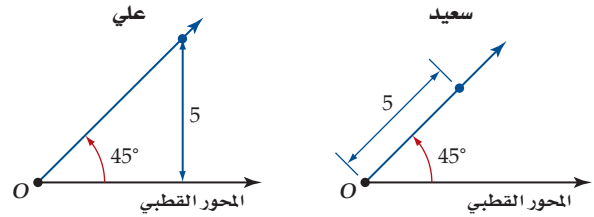
**(54) تبرير:** وضح لماذا لا يكون ترتيب النقاط في معادلة المسافة القطبية مهمًا، أو بعبارة أخرى، لماذا يمكنك اختيار أي نقطة لتكون  $P_1$ ، والنقطة الأخرى لتكون  $P_2$ ؟

**(55) تحدى:** أوجد زوجًا مُرتَّبًا من الإحداثيات القطبية؛ لتمثيل النقطة التي إحداثياتها الديكارتية  $(-3, -4)$ .

**(56) برهان:** أثبت أن المسافة بين النقطتين  $P_1(r_1, \theta_1), P_2(r_2, \theta_2)$  هي  $P_1 P_2 = \sqrt{r_1^2 + r_2^2 - 2r_1 r_2 \cos(\theta_2 - \theta_1)}$ .  
 (إرشاد: استعمل قانون جيبس التمام).

**(57) تبرير:** وضح ماذا يحدث لمعادلة المسافة المعطاة بالصيغة القطبية عندما يكون  $\theta_2 - \theta_1 = \frac{\pi}{2}$ . فسّر هذا التغيير.

**(58) اكتشاف الخطأ:** قام كل من سعيد وعلي بتمثيل النقطة  $(5, 45^\circ)$  في المستوى القطبي كما هو مبين أدناه. أيهما كانت إجابته صحيحة؟ برّر إجابتك.



**(59) اكتب:** خمن سبب عدم كفاية الإحداثيات القطبية لتحديد موقع طائرة بشكل دقيق.

### مراجعة تراكمية

أوجد حاصل الضرب الداخلي للمتجهين  $u, v$  في كل مما يأتي، ثم حدّد ما إذا كان  $u, v$  متعامدين أولاً: (مهارة سابقة)

**(60)**  $u = \langle 4, 10, 1 \rangle, v = \langle -5, 1, 7 \rangle$

**(61)**  $u = \langle -5, 4, 2 \rangle, v = \langle -4, -9, 8 \rangle$

**(62)**  $u = \langle -8, -3, 12 \rangle, v = \langle 4, -6, 0 \rangle$

إذا كان  $a = \langle -4, 3, -2 \rangle, b = \langle 2, 5, 1 \rangle, c = \langle 3, -6, 5 \rangle$ . فأوجد كلاً مما يأتي: (مهارة سابقة)

**(63)**  $3a + 2b + 8c$

**(64)**  $-2a + 4b - 5c$





## فيما سبق:

درست تمثيل النقاط وبعض المعادلات القطبية. (الدرس 1-6)

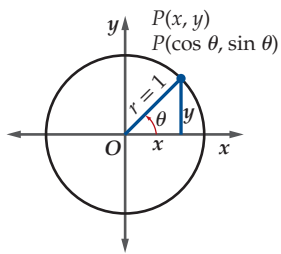
## والآن:

- أحوّل بين الإحداثيات القطبية والديكارتية.
- أحوّل المعادلات من الصورة القطبية إلى الصورة الديكارتية والعكس.



## لماذا؟

يبحث مجس مثبت إلى رجل آلي أمواجاً فوق صوتية على شكل دوائر كاملة، وعندما تصطدم الأمواج بجسم، فإنّ المجس يستقبل إشارة، ويقوم بحساب بُعد الجسم عن مقدمة الرجل الآلي بدلالة المسافة المتجهة  $r$ ، والزاوية المتجهة  $\theta$ . ويوصل المجس هذه الإحداثيات القطبية إلى الرجل الآلي الذي يحولها إلى الإحداثيات الديكارتية؛ ليتمكن من تعيينها على خريطة داخلية.



**الإحداثيات القطبية والديكارتية** يمكن كتابة إحداثيات النقطة  $P(x, y)$

الواقعة على دائرة الوحدة، والمقابلة لزاوية  $\theta$  على الصورة  $P(\cos \theta, \sin \theta)$ ؛ لأن

$$\cos \theta = \frac{x}{r} = \frac{x}{1} = x \quad , \quad \sin \theta = \frac{y}{r} = \frac{y}{1} = y$$

فإذا كان طول نصف قطر دائرة عددًا حقيقيًا  $r$  بدلاً من 1، فإنه يمكننا كتابة النقطة  $P(x, y)$  بدلالة  $r, \theta$  على النحو الآتي:

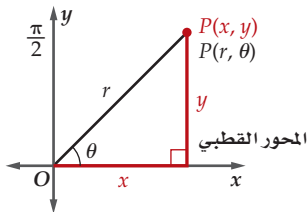
$$\cos \theta = \frac{x}{r} \quad , \quad \sin \theta = \frac{y}{r}$$

$$r \cos \theta = x \quad , \quad r \sin \theta = y \quad \text{اضرب في } r$$

وإذا نظرنا للمستوى الديكارتية على أنه مستوى قطبي، بحيث ينطبق المحور القطبي على الجزء الموجب من المحور  $x$ ، والقطب على نقطة الأصل، فإنه يصبح لدينا وسيلة لتحويل الإحداثيات القطبية إلى الإحداثيات الديكارتية.

## مفهوم أساسي

## تحويل الإحداثيات القطبية إلى الإحداثيات الديكارتية



إذا كان للنقطة  $P$  الإحداثيات القطبية  $(r, \theta)$ ، فإن الإحداثيات الديكارتية  $(x, y)$  للنقطة  $P$  هي:

$$x = r \cos \theta \quad , \quad y = r \sin \theta$$

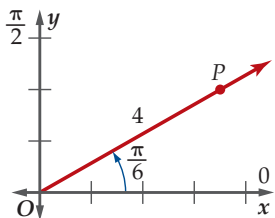
أي أن  $(x, y) = (r \cos \theta, r \sin \theta)$ .

## مثال 1

## تحويل الإحداثيات القطبية إلى الإحداثيات الديكارتية

حوّل الإحداثيات القطبية إلى إحداثيات ديكارتية، لكل نقطة مما يأتي:

$$P\left(4, \frac{\pi}{6}\right) \quad (a)$$



$Q(-2, 135^\circ)$  (b)

$V(3, -120^\circ)$  (c)

**تحقق من فهمك**

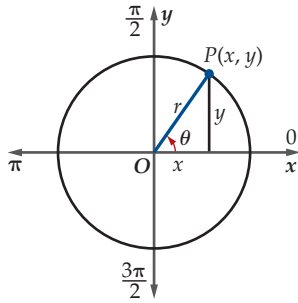
حوّل الإحداثيات القطبية إلى إحداثيات ديكارتية، لكل نقطة مما يأتي:

$T(-3, 45^\circ)$  (1C)

$S(5, \frac{\pi}{3})$  (1B)

$R(-6, -120^\circ)$  (1A)

ولكتابة زوج الإحداثيات الديكارتية بالصيغة القطبية، فإنك بحاجة إلى إيجاد المسافة المتجهة  $r$  من النقطة  $(x, y)$  إلى نقطة الأصل أو القطب، وقياس الزاوية المتجهة التي يصنعها  $r$  مع الجزء الموجب من المحور  $x$  أو المحور القطبي. استعمل نظرية فيثاغورس؛ لإيجاد المسافة  $r$  من النقطة  $(x, y)$  إلى نقطة الأصل.



نظرية فيثاغورس  $r^2 = x^2 + y^2$

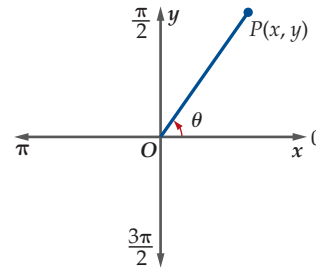
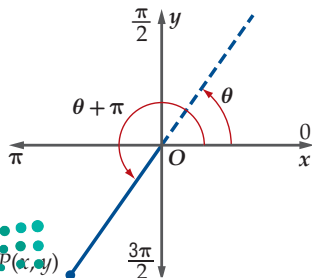
خذ الجذر التربيعي الموجب للطرفين  $r = \sqrt{x^2 + y^2}$

ترتبط الزاوية  $\theta$  بكل من  $x, y$  من خلال دالة الظل، ولإيجاد الزاوية  $\theta$ :

تعريف الظل  $\tan \theta = \frac{y}{x}$

دالة معكوس الظل  $\theta = \text{Tan}^{-1} \frac{y}{x}$

تذكر أن الدالة العكسية للظل معرفة فقط على الفترة  $(-\frac{\pi}{2}, \frac{\pi}{2})$  أو  $(-90^\circ, 90^\circ)$  في نظام الإحداثيات الديكارتية. وتُعطى قيم  $\theta$  الواقعة في الربع الأول أو الرابع، أي عندما تكون  $x > 0$ ، كما في الشكل 6.2.1. وإذا كانت  $x < 0$ ، فإن الزاوية تقع في الربع الثاني أو الثالث، لذا عليك إضافة  $\pi$  أو  $180^\circ$  (طول الدورة للدالة  $y = \tan x$ ) إلى قياس الزاوية المعطاة بالدالة العكسية للظل كما في الشكل 6.2.2.



وزارة التعليم  $\theta = \text{Tan}^{-1} \frac{y}{x} + 180^\circ$  أو  $\theta = \text{Tan}^{-1} \frac{y}{x} + \pi$  عندما  $x < 0$

الشكل 6.2.2

$\theta = \text{Tan}^{-1} \frac{y}{x}$  عندما  $x > 0$

الشكل 6.2.1

**إرشادات للدراسة**

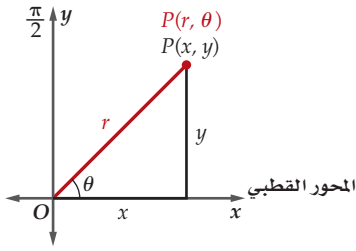
**تحويل الإحداثيات**

إن العملية المتبعة لتحويل الإحداثيات الديكارتية إلى الإحداثيات القطبية هي ذاتها العملية المتبعة في إيجاد طول المتجه واتجاهه.



## مفهوم أساسي

### تحويل الإحداثيات الديكارتية إلى الإحداثيات القطبية



إذا كان للنقطة  $P$  الإحداثيات الديكارتية  $(x, y)$ ، فإن الإحداثيات القطبية للنقطة  $P$  هي  $(r, \theta)$  حيث:

$$r = \sqrt{x^2 + y^2}, \quad \theta = \tan^{-1} \frac{y}{x} \text{ ، عندما } x > 0$$

وعندما  $x < 0$  فإن:

$$\theta = \tan^{-1} \frac{y}{x} + \pi$$

$$\text{أو } \theta = \tan^{-1} \frac{y}{x} + 180^\circ$$

وعندما  $x = 0$  فإن:  $\theta = \frac{\pi}{2}$  إذا كانت  $r = y$ ،  $y > 0$

أو  $\theta = -\frac{\pi}{2}$  إذا كانت  $r = y$ ،  $y < 0$

تذكر أن هناك عددًا لانهائيًا من أزواج الإحداثيات القطبية للنقطة، والتحويل من الإحداثيات الديكارتية إلى الإحداثيات القطبية يعطي أحدها.

## مثال 2

### تحويل الإحداثيات الديكارتية إلى الإحداثيات القطبية

أوجد زوجين مختلفين كل منهما يمثل إحداثيين قطبيين لكل نقطة معطاة بالإحداثيات الديكارتية في كل مما يأتي:

$$(a) \quad S(1, -\sqrt{3})$$

$$(b) \quad T(-3, 6)$$

### تحقق من فهمك

أوجد زوجين مختلفين كل منهما يمثل إحداثيين قطبيين لكل نقطة معطاة بالإحداثيات الديكارتية في كل مما يأتي:


في بعض ظواهر الحياة الطبيعية، قد يكون من المفيد أن تحوّل بين الإحداثيات القطبية والإحداثيات الديكارتية.

### مثال 3 من واقع الحياة التحويل بين الإحداثيات

**رجل آلي:** بالرجوع إلى فقرة «لماذا؟»، افترض أن الرجل الآلي متجه إلى الشرق، وأن المبحس قد رُصد جسمًا عند النقطة  $(5, 295^\circ)$ .

(a) ما الإحداثيات الديكارتية التي يحتاج الرجل الآلي إلى حسابها؟

(b) إذا كان موقع جسم رُصد سابقًا عند النقطة التي إحداثياتها  $(3, 7)$ ، فما المسافة وقياس الزاوية بين الجسم والرجل الآلي؟



#### الربط مع الحياة

صممت وكالة ناسا رجلًا آليًا وزنه 3400 باوند، وطولته 12 ft، وطول ذراعه 11 ft؛ لأداء بعض المهام في الفضاء الخارجي.

#### تحقق من فهمك

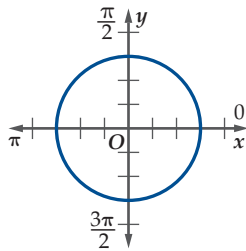
**3 صيد الأسماك:** يُستعمل جهاز رصد؛ لتحديد موقع وجود الأسماك تحت الماء. افترض أن قاربًا يتجه إلى الشرق، وأن جهاز الرصد قد رصد سربًا من الأسماك عند النقطة  $(6, 125^\circ)$ .

(A) ما الإحداثيات الديكارتية لموقع سرب الأسماك؟

(B) إذا كان موقع سرب الأسماك قد رُصد سابقًا عند النقطة التي إحداثياتها الديكارتية  $(-2, 6)$ ، فما الإحداثيات القطبية لموقع السرب؟

**المعادلات القطبية والديكارتية** قد تحتاج في دراستك المستقبلية إلى تحويل المعادلة من الصورة الديكارتية إلى الصورة القطبية والعكس؛ وذلك لتسهيل بعض الحسابات. فبعض المعادلات الديكارتية المعقدة صورتها القطبية أسهل كثيرًا. لاحظ معادلة الدائرة على الصورة الديكارتية والقطبية كما في الشكل أدناه.

المعادلة على الصورة القطبية  
 $r = 3$



المعادلة على الصورة الديكارتية  
 $x^2 + y^2 = 9$

وبشكلٍ مماثل فإن بعض المعادلات القطبية المعقدة صورتها الديكارتية أسهل كثيرًا،

فالمعادلة القطبية  $r = \frac{6}{2 \cos \theta - 3 \sin \theta}$  صورتها الديكارتية هي  $2x - 3y = 6$



إن عملية تحويل المعادلة من الصورة الديكارتية إلى الصورة القطبية عملية مباشرة؛ إذ نعوض عن  $x$  بـ  $r \cos \theta$ ، وعن  $y$  بـ  $r \sin \theta$ ، ثم نبسط المعادلة الناتجة باستعمال الطرق الجبرية والامتطابقات المثلثية.

### تحويل المعادلات الديكارتية إلى المعادلات القطبية

#### مثال 4

اكتب كل معادلة مما يأتي على الصورة القطبية:

$$(x - 4)^2 + y^2 = 16 \quad (a)$$

$$y = x^2 \quad (b)$$

#### إرشادات للدراسة

##### الامتطابقات المثلثية

من المفيد أن تراجع الامتطابقات المثلثية التي تعلمتها سابقاً؛ لمساعدتك على تبسيط الصورة القطبية للمعادلات الديكارتية.

#### تحقق من فهمك

اكتب كل معادلة مما يأتي على الصورة القطبية:

$$x^2 - y^2 = 1 \quad (4B)$$

$$x^2 + (y - 3)^2 = 9 \quad (4A)$$

عملية تحويل المعادلة القطبية إلى معادلة ديكارتية ليست مباشرة مثل عملية التحويل من المعادلة الديكارتية إلى المعادلة القطبية، ففي التحويل الثاني نلزمنا جميع العلاقات الآتية:

$$r^2 = x^2 + y^2, \tan \theta = \frac{y}{x}, x = r \cos \theta, y = r \sin \theta$$

## تحويل المعادلات القطبية إلى المعادلات الديكارتية

### مثال 5

اكتب كل معادلة قطبية مما يأتي على الصورة الديكارتية.

$$\theta = \frac{\pi}{6} \quad \text{(a)}$$

$$r = 7 \quad \text{(b)}$$

$$r = -5 \sin \theta \quad \text{(c)}$$

تحقق من فهمك 

اكتب كل معادلة قطبية مما يأتي على الصورة الديكارتية:

$$r = 3 \cos \theta \quad \text{(5C)}$$

$$\theta = \frac{\pi}{3} \quad \text{(5B)}$$

$$r = -3 \quad \text{(5A)}$$

### إرشادات للدراسة

#### طريقة بديلة

النقطتان  $(2, \frac{\pi}{6})$  و  $(4, \frac{\pi}{6})$  تقعان على المستقيم  $\theta = \frac{\pi}{6}$ .  
 والإحداثيات الديكارتية لهما  $(\sqrt{3}, 1)$  و  $(2\sqrt{3}, 2)$ ،  
 فتكون معادلة المستقيم المار  
 بهاتين النقطتين هي:  
 $y = \frac{\sqrt{3}}{3} x$



## تدريب وحل المسائل

اكتب كل معادلة قطبية مما يأتي على الصورة الديكارتية: (مثال 5)

$$\theta = -\frac{\pi}{3} \quad (33) \quad r = 3 \sin \theta \quad (32)$$

$$r = 4 \cos \theta \quad (35) \quad r = 10 \quad (34)$$

$$r = 8 \csc \theta \quad (37) \quad \tan \theta = 4 \quad (36)$$

$$\cot \theta = -7 \quad (39) \quad r = -4 \quad (38)$$

$$r = \sec \theta \quad (41) \quad \theta = \frac{3\pi}{4} \quad (40)$$

(42) **زلازل:** تُنمذج حركة أمواج الزلازل بالمعادلة  $r = 12.6 \sin \theta$ ، حيث  $r$  مقاسه بالأميال. اكتب معادلة أمواج الزلازل على الصورة الديكارتية. (مثال 5)

اكتب كل معادلة قطبية مما يأتي على الصورة الديكارتية:

$$r = \frac{1}{\cos \theta + \sin \theta} \quad (43)$$

$$r = 10 \csc \left( \theta + \frac{7\pi}{4} \right) \quad (44)$$

$$r = 3 \csc \left( \theta - \frac{\pi}{2} \right) \quad (45)$$

$$r = -2 \sec \left( \theta - \frac{11\pi}{6} \right) \quad (46)$$

$$r = 4 \sec \left( \theta - \frac{4\pi}{3} \right) \quad (47)$$

$$r = \frac{5 \cos \theta + 5 \sin \theta}{\cos^2 \theta - \sin^2 \theta} \quad (48)$$

$$r = 2 \sin \left( \theta + \frac{\pi}{3} \right) \quad (49)$$

$$r = 4 \cos \left( \theta + \frac{\pi}{2} \right) \quad (50)$$

اكتب كل معادلة مما يأتي على الصورة القطبية:

$$6x - 3y = 4 \quad (51)$$

$$2x + 5y = 12 \quad (52)$$

$$(x-6)^2 + (y-8)^2 = 100 \quad (53)$$

$$(x+3)^2 + (y-2)^2 = 13 \quad (54)$$

حوّل الإحداثيات القطبية إلى إحداثيات ديكارتية لكل نقطة مما يأتي: (مثال 1)

$$\left( \frac{1}{4}, \frac{\pi}{2} \right) \quad (2) \quad \left( 2, \frac{\pi}{4} \right) \quad (1)$$

$$(2.5, 250^\circ) \quad (4) \quad (5, 240^\circ) \quad (3)$$

$$(-13, -70^\circ) \quad (6) \quad \left( -2, \frac{4\pi}{3} \right) \quad (5)$$

$$(-2, 270^\circ) \quad (8) \quad \left( \frac{1}{2}, \frac{3\pi}{4} \right) \quad (7)$$

$$\left( -1, -\frac{\pi}{6} \right) \quad (10) \quad (4, 210^\circ) \quad (9)$$

أوجد زوجين مختلفين كل منهما يمثل إحداثيين قطبيين لكل نقطة معطاة بالإحداثيات الديكارتية في كل مما يأتي: (مثال 2)

$$(-13, 4) \quad (12) \quad (7, 10) \quad (11)$$

$$(4, -12) \quad (14) \quad (-6, -12) \quad (13)$$

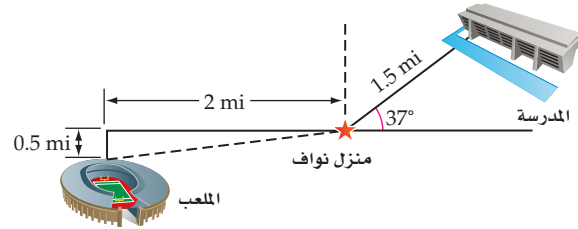
$$(0, -173) \quad (16) \quad (2, -3) \quad (15)$$

$$(-14, 14) \quad (18) \quad (1, 3) \quad (17)$$

$$(3, -4) \quad (20) \quad (52, -31) \quad (19)$$

$$(2, \sqrt{2}) \quad (22) \quad (1, -1) \quad (21)$$

(23) **مسافات:** إذا كانت مدرسة نواف تبعد 1.5 mi عن منزله، وتصنع زاوية مقدارها  $53^\circ$  شمال الشرق كما في الشكل أدناه، فأجب عن الفرعين **a**, **b**. (مثال 3)



(a) إذا سلك نواف طريقاً للشرق ثم للشمال؛ كي يصل إلى

المدرسة، فكم ميلاً يتحرك في كل اتجاه؟

(b) إذا كان الملعب على بُعد 2 mi غرباً، و 0.5 mi جنوباً، ومنزل

نواف يمثل القطب، فما إحداثيات موقع الملعب على الصورة القطبية؟

اكتب كل معادلة مما يأتي على الصورة القطبية:

(مثال 4)

$$(x+5)^2 + y^2 = 25 \quad (25) \quad x = -2 \quad (24)$$

$$x = 5 \quad (27) \quad y = -3 \quad (26)$$

$$x^2 + (y+3)^2 = 9 \quad (29) \quad (x-2)^2 + y^2 = 4 \quad (28)$$

$$x^2 + (y+1)^2 = 1 \quad (31) \quad y = \sqrt{3x} \quad (30)$$





### مسائل مهارات التفكير العليا

**(58) اكتشف الخطأ:** يحاول كل من باسل وتوفيق كتابة المعادلة القطبية

$$r = \sin \theta \text{ على الصورة الديكارتية، فيعتقد توفيق أن الحل هو}$$

$$x^2 + \left(y - \frac{1}{2}\right)^2 = \frac{1}{4} \text{، في حين يعتقد باسل أن الحل هو}$$

$$y = \sin x \text{ . أيهما كانت إجابته صحيحة؟ برّر إجابتك.}$$

**(59) تحدّد:** اكتب معادلة الدائرة  $r = 2a \cos \theta$  بالصورة الديكارتية، وأوجد مركزها وطول نصف قطرها.

**(60) اكتب:** اكتب تخميناً بيّن متى يكون تمثيل المعادلة على الصورة القطبية أسهل من تمثيلها على الصورة الديكارتية، ومتى يكون العكس صحيحاً.

**(61) برهان:** استعمل  $x = r \cos \theta$ ،  $y = r \sin \theta$  لإثبات أن  $\sin \theta \neq 0$ ،  $\cos \theta \neq 0$  حيث  $r = x \sec \theta$ ،  $r = y \csc \theta$

**(62) تحدّد:** اكتب المعادلة:

$$r^2(4 \cos^2 \theta + 3 \sin^2 \theta) + r(-8a \cos \theta + 6b \sin \theta) = 12 - 4a^2 - 3b^2$$

على الصورة الديكارتية. (إرشاد: فك الأقواس قبل تعويض قيم  $r^2$ ،  $r$  تمثل المعادلة الديكارتية قطعاً مخروطياً).

### مراجعة تراكمية

مثّل كل نقطة مما يأتي في المستوى القطبي. (مهارة سابقة)

**(63)**  $A(-2, 45^\circ)$

**(64)**  $D(1, 315^\circ)$

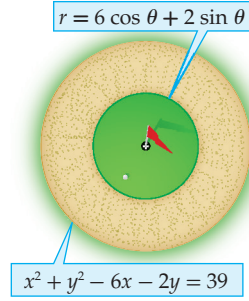
**(65)**  $C\left(-1.5, -\frac{4\pi}{3}\right)$

أوجد الزاوية بين المتجهين  $u$ ،  $v$  في كل مما يأتي: (مهارة سابقة)


**(66)**  $u = \langle 6, -4 \rangle$ ،  $v = \langle -5, -7 \rangle$

**(67)**  $u = \langle 2, 3 \rangle$ ،  $v = \langle -9, 6 \rangle$

**(55) جولف:** في أحد ملاعب الجولف، يحيط بثقب الهدف منطقة خضراء محاطة بمنطقة رملية، كما في الشكل أدناه. أوجد مساحة المنطقة الرملية على فرض أن الثقب يمثل القطب لكلتا المعادلتين، وأن المسافات تُقاس بوحدتي الياردة.



**(56) عجلة دوّارة:** إذا كانت إحداثيات أدنى نقطة في عجلة دوّارة  $(0, 0)$ ، وأعلى نقطة فيها  $(0, 20)$ .



**(a)** فاكتب معادلة العجلة الدوّارة الموضحة بالشكل المجاور على الصورة الديكارتية.

**(b)** اكتب المعادلة في الفرع  $a$  بالصيغة القطبية.

**(57) تمثيلات متعددة:** في هذه المسألة سوف تكتشف العلاقة بين الأعداد المركبة والإحداثيات القطبية.

**(a) بيانياً:** يمكن تمثيل العدد المركب  $a + bi$  في المستوى الديكارتي بالنقطة  $(a, b)$ . مثّل العدد المركب  $6 + 8i$  في المستوى الديكارتي.

**(b) عددياً:** أوجد الإحداثيات القطبية للعدد المركب باستعمال الإحداثيات الديكارتية التي أوجدتها في الفرع  $a$ .

**(c) بيانياً:** عزّز إجابتك في الفرع  $b$  بتمثيل الإحداثيات القطبية في المستوى القطبي.

**(d) بيانياً:** مثّل بيانياً العدد المركب  $-3 + 3i$  في المستوى الديكارتي.

**(e) بيانياً:** أوجد الإحداثيات القطبية للعدد المركب باستعمال الإحداثيات الديكارتية التي أوجدتها في الفرع  $d$ . ومثّل الإحداثيات القطبية في المستوى القطبي.

**(f) تحليلياً:** أوجد العبارات الجبرية التي تبين كيفية كتابة العدد المركب  $a + bi$  بالإحداثيات القطبية.



## تدريب على اختبار

(75) أي من النقاط الآتية يعد تمثيلاً آخر للنقطة  $(-2, \frac{7\pi}{6})$  في المستوى القطبي؟

- A  $(2, \frac{\pi}{6})$   
B  $(-2, \frac{\pi}{6})$   
C  $(2, \frac{-11\pi}{6})$   
D  $(-2, \frac{11\pi}{6})$

(76) إذا كان  $\mathbf{m} = \langle 5, -4 \rangle$ ,  $\mathbf{n} = \langle -7, 3 \rangle$ , فأَيُّ مما يأتي يمثل  $\mathbf{k}$ ، حيث  $\mathbf{k} = \mathbf{n} - 2\mathbf{m}$ ؟

- A  $\langle -17, 11 \rangle$   
B  $\langle -17, -5 \rangle$   
C  $\langle 17, -11 \rangle$   
D  $\langle -17, 5 \rangle$

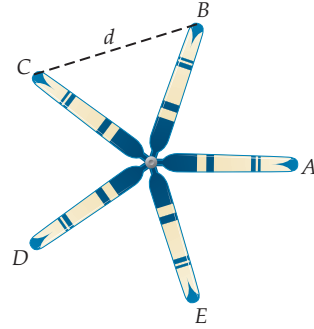
(77) ما الصورة القطبية للمعادلة  $x^2 + (y - 2)^2 = 4$ ؟

- A  $r = \sin \theta$   
B  $r = 2 \sin \theta$   
C  $r = 4 \sin \theta$   
D  $r = 8 \sin \theta$

(78) ما حاصل الضرب الاتجاهي للمتجهين:  
 $\mathbf{u} = \langle 6, -1, -2 \rangle$ ,  $\mathbf{v} = \langle -1, -4, 2 \rangle$ ؟

- A  $\langle -10, 10, 25 \rangle$   
B  $\langle -10, -10, 25 \rangle$   
C  $\langle -10, -10, -25 \rangle$   
D  $\langle -10, 10, -25 \rangle$

(68) **طائرات:** تتكون مروحة طائرة من 5 ريش، المسافة بين أطرافها المتتالية متساوية. ويبلغ طول كل ريشة منها 11.5 ft. (الدرس 6-1)



(a) إذا كانت الزاوية التي تصنعها الشفرة A مع المحور القطبي  $3^\circ$ ، فاكتب زوجاً يمثل الإحداثيات القطبية لطرف كل شفرة، بفرض أن مركز المروحة ينطبق على القطب.

(b) ما المسافة  $d$  بين رأسي شفتين متتاليتين؟

حل كلاً من المعادلات الآتية باستعمال القانون العام. (مهارة سابقة)

$$x^2 - 7x = -15 \quad (69)$$

$$x^2 + 2x + 4 = 0 \quad (70)$$

$$12x^2 + 9x + 15 = 0 \quad (71)$$

أوجد طول القطعة المستقيمة التي تصل بين النقطتين في كل مما يأتي، وأوجد إحداثيات نقطة منتصفها: (مهارة سابقة)

$$(2, -15, 12), (1, -11, 15) \quad (72)$$

$$(-4, 2, 8), (9, 6, 0) \quad (73)$$

$$(7, 1, 5), (-2, -5, -11) \quad (74)$$

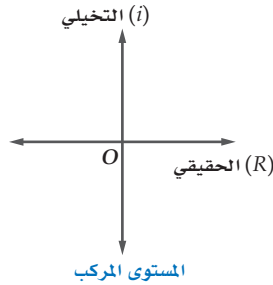




## لماذا؟

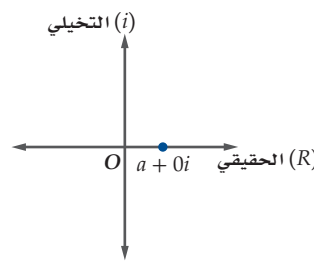
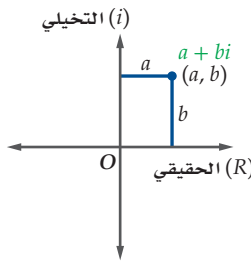
يستعمل مهندسو الكهرباء الأعداد المركبة لوصف بعض العلاقات في الكهرباء. فالكميات: فرق الجهد  $V$ ، والمعاوقة  $Z$ ، وشدة التيار  $I$  ترتبط بالعلاقة  $V = I \cdot Z$ ، التي تستعمل لوصف تيار متردد. ويمكن كتابة كل متغير على صورة عدد مركب على الصورة  $a + bj$ ، حيث  $j$  العدد التخيلي (ويستعمل المهندسون  $j$  حتى لا يختلط الرمز مع رمز شدة التيار  $I$ ).

(إرشاد: استعملت كلمة المعاوقة بدلاً من كلمة المقاومة؛ لأن مجموعة الأعداد المستخدمة هنا هي مجموعة الأعداد المركبة، حيث تستعمل كلمة المقاومة في مجموعة الأعداد الحقيقية).



**الصورة القطبية للأعداد المركبة** الجزء الحقيقي للعدد المركب المُعطى على الصورة الديكارتية  $a + bi$ ، هو  $a$  والجزء التخيلي  $bi$ . ويمكنك تمثيل العدد المركب على **المستوى المركب** بالنقطة  $(a, b)$ . كما هو الحال في المستوى الإحداثي، فإننا نحتاج إلى محورين لتمثيل العدد المركب، ويُعَيَّنُ الجزء الحقيقي على محور أفقي يُسَمَّى **المحور الحقيقي** ويرمز له بالرمز  $R$ ، في حين يُعَيَّنُ الجزء التخيلي على محور رأسي يُسَمَّى **المحور التخيلي** ويرمز له بالرمز  $i$ .

في العدد المركب  $a + 0i$  (لاحظ أن  $b = 0$ ). يكون الناتج عددًا حقيقيًا يمكن تمثيله على خط الأعداد أو على المحور الحقيقي. وعندما  $b \neq 0$ ، فإننا سنحتاج إلى المحور التخيلي لتمثيل الجزء التخيلي.



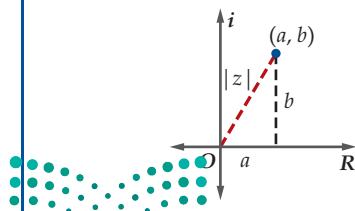
تذكر أن القيمة المطلقة لعدد حقيقي هي المسافة بين ذلك العدد والصفير على خط الأعداد، وبالمثل، فإن **القيمة المطلقة لعدد مركب** هي المسافة بين العدد والصفير في المستوى المركب. وعند تمثيل العدد  $a + bi$  في المستوى المركب، فإنه بالإمكان حساب بُعده عن الصفير باستعمال نظرية فيثاغورس.

## القيمة المطلقة لعدد مركب

## مفهوم أساسي

القيمة المطلقة للعدد المركب  $z = a + bi$  هي:

$$|z| = |a + bi| = \sqrt{a^2 + b^2}$$



## فيما سبق:

درست إجراء العمليات الحسابية على الأعداد المركبة. (مهارة سابقة)

## والآن:

- أحوّل الأعداد المركبة من الصورة الديكارتية إلى الصورة القطبية والعكس.
- أجد حاصل ضرب الأعداد المركبة وقسمتها، وأجد جذورها وقواها في الصورة القطبية.

## المفردات:

المستوى المركب

complex plane

المحور الحقيقي

real axis

المحور التخيلي

imaginary axis

القيمة المطلقة لعدد مركب  
absolute value of a complex number

الصورة القطبية

polar form

الصورة المثلثية

trigonometric form

المقياس

modulus

السعة

argument

الجذور النونية للعدد واحد

$n$ th roots of unity

## تمثيل الأعداد المركبة وإيجاد قيمها المطلقة

### مثال 1

مثّل كل عدد مما يأتي في المستوى المركّب، وأوجد قيمته المطلقة:

$$z = -2 - i \quad (b)$$

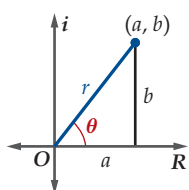
$$z = 4 + 3i \quad (a)$$

### تحقق من فهمك

مثّل كل عدد مما يأتي في المستوى المركّب، وأوجد قيمته المطلقة:

$$-3 + 4i \quad (1B)$$

$$5 + 2i \quad (1A)$$



كما كتبت الإحداثيات الديكارتية  $(x, y)$  على صورة إحداثيات قطبية، فإنه يمكن كتابة الإحداثيات الديكارتية  $(a, b)$  التي تمثّل عددًا مركبًا في المستوى المركّب على الصورة القطبية. وتُطبق الدوال المثلثية نفسها التي استعملت في إيجاد قيم  $x, y$  لإيجاد قيم  $a, b$ .

$$\sin \theta = \frac{b}{r}, \quad \cos \theta = \frac{a}{r}$$

$$r \sin \theta = b, \quad r \cos \theta = a$$

وبتعويض التمثيلات القطبية لكل من  $a, b$ ، يمكننا إيجاد الصورة القطبية أو الصورة المثلثية لعدد مركّب.

$$z = a + bi \quad \text{العدد المركب الأصلي}$$

$$z = r \cos \theta + (r \sin \theta)i$$

$$z = r(\cos \theta + i \sin \theta) \quad \text{خُذ العامل المشترك}$$

في حالة العدد المركّب، فإن  $r$  تمثّل القيمة المطلقة أو المقياس للعدد المركّب، ويمكن إيجادها باستعمال الإجراء نفسه الذي استعملته لإيجاد القيمة المطلقة  $r = |z| = \sqrt{a^2 + b^2}$ . تُسمّى الزاوية  $\theta$  سعة العدد المركّب. وبالمثل لإيجاد  $\theta$  من الإحداثيات الديكارتية  $(x, y)$ ، فإنه عند استعمال الأعداد المركبة يكون  $\theta = \tan^{-1} \frac{b}{a}$  عندما  $a > 0$  أو  $\theta = \tan^{-1} \frac{b}{a} + \pi$  عندما  $a < 0$ .

### الصورة القطبية لعدد مركّب

### مفهوم أساسي

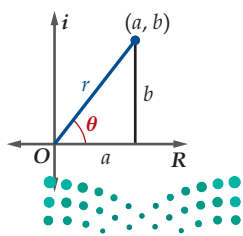
الصورة القطبية أو المثلثية للعدد المركّب  $z = a + bi$  هي:

$$z = r(\cos \theta + i \sin \theta), \quad \text{حيث}$$

$$r = |z| = \sqrt{a^2 + b^2}, \quad a = r \cos \theta, \quad b = r \sin \theta$$

$$\theta = \tan^{-1} \frac{b}{a} \quad \text{عندما } a > 0, \quad \theta = \tan^{-1} \frac{b}{a} + \pi \quad \text{عندما } a < 0$$

$$\theta = \frac{\pi}{2} \quad \text{إذا كانت } a = 0, \quad \theta = -\frac{\pi}{2} \quad \text{إذا كانت } b < 0$$



### تنبيه

#### الصورة القطبية:

يجب عدم الخلط بين الصورة القطبية للعدد المركّب والإحداثيات القطبية للعدد المركّب. فالصورة القطبية لعدد مركّب هي طريقة أخرى لكتابة العدد المركّب. وسوف نناقش الإحداثيات القطبية للعدد المركّب لاحقًا في هذا الدرس.

### إرشادات للدراسة

#### السعة:

كما في الإحداثيات القطبية، فإن  $\theta$  ليست وحيدة، مع أنها تُعطى عادة في الفترة  $-2\pi < \theta < 2\pi$ .



## مثال 2 الأعداد المركبة بالصورة القطبية

عبّر عن كل عدد مركب مما يأتي بالصورة القطبية:

$$-6 + 8i \quad (a)$$

$$4 + \sqrt{3}i \quad (b)$$

### تحقق من فهمك

عبّر عن كل عدد مركب مما يأتي بالصورة القطبية:

$$-2 - 2i \quad (2B)$$

$$9 + 7i \quad (2A)$$

ويمكنك استعمال الصورة القطبية لعدد مركب؛ لتمثيله في المستوى القطبي باستعمال  $(r, \theta)$  كإحداثيات قطبية للعدد المركب. كما يمكنك تحويل عدد مركب مكتوب على الصورة القطبية إلى الصورة الديكارتية، وذلك باستعمال قيم  $r$ ، وقيم النسب المثلثية للزاوية  $\theta$  المعطاة.

## مثال 3 تمثيل الصورة القطبية لعدد مركب وتحويلها إلى الصورة الديكارتية

مثّل العدد  $z = 3\left(\cos \frac{\pi}{6} + i \sin \frac{\pi}{6}\right)$  في المستوى القطبي، ثم عبّر عنه بالصورة الديكارتية.

### إرشاد تقني

#### تحويل الأعداد المركبة:

يمكن تحويل عدد مركب من الصورة القطبية إلى الصورة الديكارتية باستعمال الحاسبة البيانية من تطبيق الحاسبة، بفتح صفحة تطبيق الحاسبة وإدخال العبارة على الصورة القطبية، ثم اختيار **enter** مع مراعاة إعدادات الآلة الحاسبة بحيث تُعطى الصورة القطبية

$\cos\left(\frac{\pi}{4}\right) + i \sin\left(\frac{\pi}{4}\right)$	$\frac{\sqrt{2}}{2} + \frac{\sqrt{2}}{2}i$
$3\left(\cos\left(\frac{\pi}{6}\right) + i \sin\left(\frac{\pi}{6}\right)\right)$	$3\left(\frac{\sqrt{3}}{2} + \frac{1}{2}i\right)$

### تحقق من فهمك

مثّل كل عدد مركب مما يأتي في المستوى القطبي، ثم عبّر عنه بالصورة الديكارتية:

$$4\left(\cos \frac{5\pi}{3} + i \sin \frac{5\pi}{3}\right) \quad (3B)$$

$$5\left(\cos \frac{3\pi}{4} + i \sin \frac{3\pi}{4}\right) \quad (3A)$$



**ضرب الأعداد المركبة وقسمتها وإيجاد قواها وجذورها** تُعدّ الصورة القطبية للعدد المركب، وصيغ المجموع، والفرق لكل من دالتي الجيب وجيب التمام مفيدة للغاية في ضرب الأعداد المركبة وقسمتها. ويمكن اشتقاق صيغة ضرب عددين مركبين مركبين على الصورة القطبية على النحو الآتي:

$$z_1 z_2 = r_1(\cos \theta_1 + i \sin \theta_1) \cdot r_2(\cos \theta_2 + i \sin \theta_2)$$

$$\text{فك الأقواس} \quad = r_1 r_2 (\cos \theta_1 \cos \theta_2 + i \cos \theta_1 \sin \theta_2 + i \sin \theta_1 \cos \theta_2 + i^2 \sin \theta_1 \sin \theta_2)$$

$$\text{جَمْع الحدود التخيلية والحقيقية، واستبدل } i^2 \text{ بـ } -1 \quad = r_1 r_2 [(\cos \theta_1 \cos \theta_2 - \sin \theta_1 \sin \theta_2) + (i \cos \theta_1 \sin \theta_2 + i \sin \theta_1 \cos \theta_2)]$$

$$\text{أخرج } i \text{ عاملاً مشتركاً} \quad = r_1 r_2 [(\cos \theta_1 \cos \theta_2 - \sin \theta_1 \sin \theta_2) + i (\cos \theta_1 \sin \theta_2 + \sin \theta_1 \cos \theta_2)]$$

$$\text{متطابقتا جيب المجموع، وجيب تمام المجموع} \quad = r_1 r_2 [\cos(\theta_1 + \theta_2) + i \sin(\theta_1 + \theta_2)]$$

### ضرب الأعداد المركبة على الصورة القطبية وقسمتها

### مفهوم أساسي

للعددين المركبين  $z_1 = r_1(\cos \theta_1 + i \sin \theta_1)$ ،  $z_2 = r_2(\cos \theta_2 + i \sin \theta_2)$ ، فإن:

$$z_1 z_2 = r_1 r_2 [\cos(\theta_1 + \theta_2) + i \sin(\theta_1 + \theta_2)] \quad \text{صيغة الضرب}$$

$$\text{حيث } z_2 \neq 0, z_1 \neq 0, \frac{z_1}{z_2} = \frac{r_1}{r_2} [\cos(\theta_1 - \theta_2) + i \sin(\theta_1 - \theta_2)] \quad \text{صيغة القسمة}$$

سوف تبرهن صيغة القسمة في التمرين 51

لاحظ أنه عند ضرب عددين مركبين، فإنك تضرب المقياسين وتجمع السعتين، وعند القسمة فإنك تقسم المقياسين وتطرح السعتين.

### ضرب الأعداد المركبة على الصورة القطبية

### مثال 4

أوجد ناتج  $2\left(\cos \frac{5\pi}{3} + i \sin \frac{5\pi}{3}\right) \cdot 4\left(\cos \frac{\pi}{6} + i \sin \frac{\pi}{6}\right)$  على الصورة القطبية، ثم عبّر عنه بالصورة الديكارتية.

### تحقق من فهمك

أوجد الناتج على الصورة القطبية، ثم عبّر عنه بالصورة الديكارتية لكل مما يأتي:

$$3\left(\cos \frac{\pi}{3} + i \sin \frac{\pi}{3}\right) \cdot 5\left(\cos \frac{\pi}{4} + i \sin \frac{\pi}{4}\right) \quad (4A)$$

$$6\left(\cos \frac{3\pi}{4} + i \sin \frac{3\pi}{4}\right) \cdot 2\left(\cos \frac{2\pi}{3} + i \sin \frac{2\pi}{3}\right) \quad (4B)$$



كما تقدم في فقرة "لماذا؟"، فإنه يمكن استعمال قسمة الأعداد المركبة للتعبير عن العلاقات في الكهربية


Ministry of Education

الدرس 3-6 الأعداد المركبة ونظرية دي موافر 287 | 445

## قسمة الأعداد المركبة على الصورة القطبية

## مثال 5 من واقع الحياة

**كهرباء:** إذا كان فرق الجهد  $V$  في دائرة كهربائية يساوي  $150\text{ V}$ ، وكانت معاومتها  $Z$  تساوي  $\Omega$   $(3\sqrt{5} [\cos(-0.46) + j \sin(-0.46)])$ ، فأوجد شدة التيار  $I$  في الدائرة على الصورة القطبية باستعمال المعادلة  $V = I \cdot Z$ .



### الربط مع الحياة

**مهندسو الكهرباء** يطور مهندسو الكهرباء تكنولوجيا جديدة لصناعة نظام تحديد المواقع والمحولات العملاقة التي تُشغل مدناً كاملة ومحركات الطائرات وأنظمة الرادار والملاحة. كما أنهم يعملون على تطوير منتجات متعددة مثل الهواتف المحمولة والسيارات والرجل الآلي.

### تحقق من فهمك

**(5) كهرباء:** إذا كان فرق جهد دائرة كهربائية  $120\text{ V}$ ، وكانت شدة التيار  $(8 + 6j)$  أمبير، فأوجد معاومتها على الصورة الديكارتية.

يعود الفضل في حساب قوى الأعداد المركبة وجذورها للعالم الفرنسي ديموافر، وقبل حساب قوى الأعداد المركبة وجذورها، فإن من المفيد كتابة العدد المركب على الصورة القطبية. بإمكاننا استعمال صيغة ضرب الأعداد المركبة لتوضيح النمط الذي اكتشفه ديموافر. أولاً: أوجد  $z^2$  من خلال الضرب  $z \cdot z$ .

$$\text{اضرب} \quad z \cdot z = r(\cos \theta + i \sin \theta) \cdot r(\cos \theta + i \sin \theta)$$

$$\text{صيغة الضرب} \quad z^2 = r^2 [\cos(\theta + \theta) + i \sin(\theta + \theta)]$$

$$\text{بسّط} \quad z^2 = r^2 (\cos 2\theta + i \sin 2\theta)$$

والآن أوجد  $z^3$  بحساب  $z^2 \cdot z$ .

$$\text{اضرب} \quad z^2 \cdot z = r^2 (\cos 2\theta + i \sin 2\theta) \cdot r(\cos \theta + i \sin \theta)$$

$$\text{صيغة الضرب} \quad z^3 = r^3 [\cos(2\theta + \theta) + i \sin(2\theta + \theta)]$$


$$\text{بسّط} \quad z^3 = r^3 (\cos 3\theta + i \sin 3\theta)$$

لاحظ أنه عند حساب القوة النونية للعدد المركب، فإنك تجد القوة النونية لمقياس العدد، وتضرب السبعة في  $n$ .

ويمكن تلخيص ذلك على النحو الآتي:

### نظرية ديموافر

إذا كان  $z = r(\cos \theta + i \sin \theta)$  عدداً مركباً على الصورة القطبية، وكان  $n$  عدداً صحيحاً موجباً، فإن:  
 $z^n = [r(\cos \theta + i \sin \theta)]^n = r^n(\cos n\theta + i \sin n\theta)$



### تاريخ الرياضيات

إبراهام ديموافر

(1667 م - 1754 م)

رياضي فرنسي عُرف بالنظرية المسماة باسمه، وكتابه عن الاحتمالات هو *Doctrine of Chances*. ويُعدّ ديموافر من الرياضيين الرواد في الهندسة التحليلية والاحتمالات.

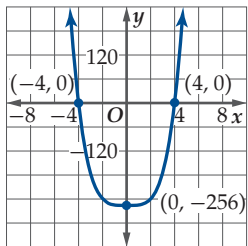
### مثال 6 نظرية ديموافر

أوجد  $(4 + 4\sqrt{3}i)^6$  بالصورة القطبية، ثم عبّر عنه بالصورة الديكارتية.

### تحقق من فهمك

أوجد الناتج في كلِّ مما يأتي، وعبّر عنه بالصورة الديكارتية:

(6A)  $(1 + \sqrt{3}i)^4$  (6B)  $(2\sqrt{3} - 2i)^8$



يوجد للمعادلة  $x^4 = 256$  حلان في مجموعة الأعداد الحقيقية هما  $4, -4$ . ويُظهر التمثيل البياني المجاور للمعادلة  $y = x^4 - 256$  وجود صفرين حقيقيين عند  $x = 4, -4$ ، بينما في مجموعة الأعداد المركبة فإن لهذه المعادلة حلين حقيقيين، وحلين مركبين.

درست سابقاً نتيجة النظرية الأساسية في الجبر، والتي تنص على وجود  $n$  صفرًا لمعادلة كثيرة الحدود من الدرجة  $n$  في مجموعة الأعداد المركبة؛ لذا يكون للمعادلة  $x^4 = 256$  التي تكتب على الصورة  $x^4 - 256 = 0$  أربعة حلول أو جذور مختلفة، وهي  $4, -4, 4i, -4i$ . وبشكل عام، فإنه يوجد  $n$  جذر نوني مختلف لأي عدد مركب لا يساوي الصفر حيث  $n \geq 2$ ، بمعنى أنه لأي عدد مركب جذران تربيعيان، وثلاثة جذور تكعيبية وأربعة جذور رباعية... وهكذا.

### مراجعة المفردات

#### النظرية الأساسية في الجبر

كل معادلة كثيرة حدود درجتها أكبر من صفر لها جذر واحد على الأقل ينتمي إلى مجموعة الأعداد المركبة.



ولإيجاد جميع جذور عدد مركب يمكن أن تستعمل نظرية دي موافر للوصول إلى الصيغة الآتية:

### مفهوم أساسي

### الجذور المختلفة

لأي عدد صحيح  $n \geq 2$ ، فإن للعدد المركب  $r(\cos \theta + i \sin \theta)$ ،  $n$  من الجذور النونية المختلفة، ويمكن إيجادها باستعمال الصيغة:

$$r^{\frac{1}{n}} \left( \cos \frac{\theta + 2k\pi}{n} + i \sin \frac{\theta + 2k\pi}{n} \right)$$

حيث  $k = 0, 1, 2, \dots, n - 1$ .

ويمكننا استعمال هذه الصيغة لجميع قيم  $k$  الممكنة، إلا أنه يمكننا التوقف عندما  $k = n - 1$ ، وعندما يساوي العدد  $n$ ، أو يزيد عليه تبدأ الجذور بالتكرار، كما يظهر في المعادلة:

$$\frac{\theta + 2\pi n}{n} = \frac{\theta}{n} + 2\pi \quad \text{وهي مطابقة للزاوية التي تنتج عندما } k = 0$$

### مثال 7

### جذور العدد المركب

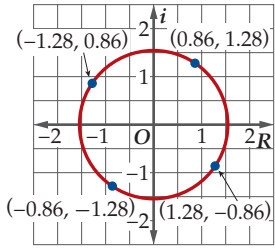
أوجد الجذور الرابعة للعدد المركب  $-4 - 4i$ .

تحقق من فهمك

(7A) أوجد الجذور التكعيبية للعدد  $2 + 2i$

(7B) أوجد الجذور التكعيبية للعدد 8





لاحظ أن الجذور الأربعة التي أوجدناها في المثال 7 تقع على دائرة. فإذا نظرنا إلى الصورة القطبية لكل جذر، نجد أن لكل منها مقياساً قيمته  $(\sqrt[8]{32} \approx 1.54)$ ، ويمثل نصف قطر الدائرة. كما أن المسافات بين الجذور على الدائرة متساوية، وذلك نتيجة للفرق الثابت بين قيم السعة؛ إذ يساوي  $\frac{2\pi}{4}$ .

تحدث إحدى الحالات الخاصة عند إيجاد الجذور النونية للعدد 1، فعند كتابة 1 على الصورة القطبية، فإننا نحصل على  $r = 1$ . وكما ذكرنا في الفقرة السابقة، فإن مقياس الجذور هو طول نصف قطر الدائرة الناتجة عن تمثيل الجذور في المستوى المركب؛ لذا فإن الجذور النونية للعدد واحد تقع على دائرة الوحدة.

### الجذور النونية للعدد واحد

### مثال 8

أوجد الجذور الثمانية للعدد واحد.

#### إرشادات للدراسة

##### الجذور النونية لعدد مركب

يكون للجذور المقياس نفسه

وهو  $r^{\frac{1}{n}}$ . سعة الجذر الأول  $\frac{\theta}{n}$ ،

ثم تزداد للجذور الأخرى على

التوالي بإضافة  $\frac{2\pi}{n}$ .

#### تحقق من فهمك



(8B) أوجد الجذور السادسة للعدد واحد.

(8A) أوجد الجذور التكعيبية للعدد واحد.



أوجد الناتج في كل مما يأتي على الصورة القطبية، ثم عبّر عنه بالصورة الديكارتية: (المثالان 4, 5)

$$6\left(\cos \frac{\pi}{2} + i \sin \frac{\pi}{2}\right) \cdot 4\left(\cos \frac{\pi}{4} + i \sin \frac{\pi}{4}\right) \quad (18)$$

$$5(\cos 135^\circ + i \sin 135^\circ) \cdot 2(\cos 45^\circ + i \sin 45^\circ) \quad (19)$$

$$3\left(\cos \frac{3\pi}{4} + i \sin \frac{3\pi}{4}\right) \div \frac{1}{2}(\cos \pi + i \sin \pi) \quad (20)$$

$$2(\cos 90^\circ + i \sin 90^\circ) \cdot 2(\cos 270^\circ + i \sin 270^\circ) \quad (21)$$

$$3\left(\cos \frac{\pi}{6} + i \sin \frac{\pi}{6}\right) \div 4\left(\cos \frac{2\pi}{3} + i \sin \frac{2\pi}{3}\right) \quad (22)$$

$$4\left(\cos \frac{9\pi}{4} + i \sin \frac{9\pi}{4}\right) \div 2\left(\cos \frac{3\pi}{2} + i \sin \frac{3\pi}{2}\right) \quad (23)$$

$$\frac{1}{2}(\cos 60^\circ + i \sin 60^\circ) \cdot 6(\cos 150^\circ + i \sin 150^\circ) \quad (24)$$

$$6\left(\cos \frac{3\pi}{4} + i \sin \frac{3\pi}{4}\right) \div 2\left(\cos \frac{\pi}{4} + i \sin \frac{\pi}{4}\right) \quad (25)$$

$$5(\cos 180^\circ + i \sin 180^\circ) \cdot 2(\cos 135^\circ + i \sin 135^\circ) \quad (26)$$

$$\frac{1}{2}\left(\cos \frac{\pi}{3} + i \sin \frac{\pi}{3}\right) \div 3\left(\cos \frac{\pi}{6} + i \sin \frac{\pi}{6}\right) \quad (27)$$

أوجد الناتج لكل مما يأتي بالصورة القطبية، ثم عبّر عنه بالصورة الديكارتية: (مثال 6)

$$(2 + 2\sqrt{3}i)^6 \quad (28)$$

$$\left[4\left(\cos \frac{\pi}{2} + i \sin \frac{\pi}{2}\right)\right]^4 \quad (29)$$

$$(2 + 3i)^{-2} \quad (30)$$

$$\left[2\left(\cos \frac{\pi}{4} + i \sin \frac{\pi}{4}\right)\right]^4 \quad (31)$$

**(32) تصميم:** يعمل سالم في وكالة للإعلانات. ويرغب في تصميم لوحة مكونة من أشكال سداسية منتظمة كما هو مبين أدناه. ويستطيع تعيين رؤوس أحد هذه الأشكال السداسية بتمثيل حلول المعادلة  $x^6 - 1 = 0$  في المستوى المركب. أوجد رؤوس أحد هذه الأشكال السداسية. (مثال 7)

مثّل كل عدد مما يأتي في المستوى المركب، وأوجد قيمته المطلقة: (مثال 1)

$$z = 4 + 4i \quad (1)$$

$$z = -3 + i \quad (2)$$

$$z = -4 - 6i \quad (3)$$

$$z = 2 - 5i \quad (4)$$

$$z = -7 + 5i \quad (5)$$

$$z = 8 - 2i \quad (6)$$

**(7) متجهات:** تُعطى القوة المؤثرة على جسم بالعلاقة  $z = 10 + 15i$ ، حيث تُقاس كل مركبة للقوة بالنيوتن (N). (مثال 1)

(a) مثّل  $z$  كمتجه في المستوى المركب.

(b) أوجد طول المتجه واتجاهه.

عبّر عن كل عدد مركب مما يأتي بالصورة القطبية: (مثال 2)

$$4 + 4i \quad (8)$$

$$-2 + i \quad (9)$$

$$4 - \sqrt{2}i \quad (10)$$

$$2 - 2i \quad (11)$$

$$4 + 5i \quad (12)$$

$$-1 - \sqrt{3}i \quad (13)$$

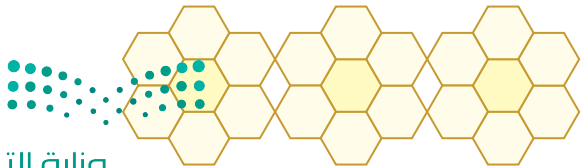
مثّل كل عدد مركب مما يأتي في المستوى القطبي، ثم عبّر عنه بالصورة الديكارتية: (مثال 3)

$$4\left(\cos \frac{\pi}{3} + i \sin \frac{\pi}{3}\right) \quad (14)$$

$$\left(\cos \frac{11\pi}{6} + i \sin \frac{11\pi}{6}\right) \quad (15)$$

$$2\left(\cos \frac{4\pi}{3} + i \sin \frac{4\pi}{3}\right) \quad (16)$$

$$\frac{3}{2}(\cos 360^\circ + i \sin 360^\circ) \quad (17)$$



(38) أوجد العدد المركب  $z$  إذا علمت أن  $(-1-i)$  هو أحد جذوره الرباعية، ثم أوجد جذوره الرباعية الأخرى.

حُلّ كلاً من المعادلات الآتية باستعمال صيغة الجذور المختلفة:

$$x^3 = i \quad (39)$$

$$x^4 = 81i \quad (40)$$

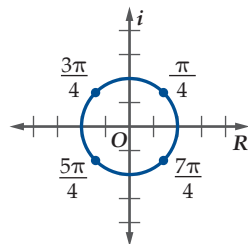
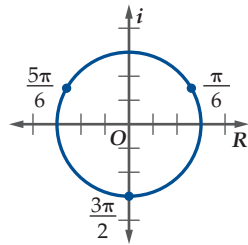
$$x^3 + 1 = i \quad (41)$$

### مسائل مهارات التفكير العليا

(42) **اكتشف الخطأ:** يحسب كل من أحمد وباسم قيمة

على  $\left(-\frac{\sqrt{3}}{2} + \frac{1}{2}i\right)^5$ . فيستعمل أحمد نظرية دي موافر ويحصل على الإجابة  $\cos \frac{5\pi}{6} + i \sin \frac{5\pi}{6}$ . ويقول باسم بأن أحمد قد أنجز جزءاً من المسألة فقط. أيهما إجابته صحيحة؟ برّر إجابتك.

**تحدي:** أوجد الجذور المحددة على كل من المنحنيين أدناه على الصورة القطبية، ثم عيّن العدد المركب الذي له هذه الجذور.



أوجد جميع الجذور المطلوبة للعدد المركب في كل مما يأتي:  
(المثالان 7, 8)

(33) الجذور السادسة للعدد  $i$

(34) الجذور الرباعية للعدد  $4\sqrt{3} - 4i$

(35) الجذور التربيعية للعدد  $-3 - 4i$


(36) **كهرباء:** تُعطى معاوقة أحد أجزاء دائرة كهربائية موصولة على التوالي بالعارة  $\Omega(5(\cos 0.9 + j \sin 0.9))$ ، وتُعطى في الجزء الآخر من الدائرة بالعارة  $\Omega(8(\cos 0.4 + j \sin 0.4))$ .

(a) حوّل كلاً من العبارتين السابقتين إلى الصورة الديكارتية.

(b) اجمع الناتجين في الفرع  $a$ ؛ لإيجاد المعاوقة الكلية في الدائرة.

(c) حوّل المعاوقة الكلية إلى الصورة القطبية.

(37) **كسريات:** الكسريات شكل هندسي يتكون من نمط مكرر بشكل مستمر، وتكون الكسريات ذاتية التشابه؛ أي أن الأجزاء الصغيرة للشكل لها الخصائص الهندسية نفسها للشكل الأصلي، كما في الشكل أدناه.



في هذا السؤال سوف تنتج كسريات من خلال تكرار  $f(z) = z^2$ ، حيث  $z_0 = 0.8 + 0.5i$ .

(a) احسب  $z_1, z_2, z_3, z_4, z_5, z_6$ ، حيث  $z_1 = f(z_0)$ ، وهكذا،  $z_2 = f(z_1)$ .

(b) مثّل كل عدد في المستوى المركب.

(c) صِف النمط الناتج.





### تدريب على اختبار

(56) أي مما يأتي يمثل  $\overline{AB}$  وطوله،  
إذا كان  $A(3, 4, -2), B(-5, 2, 1)$  ؟

A  $\langle -8, -2, 3 \rangle, \sqrt{77}$

B  $\langle 8, -2, 3 \rangle, \sqrt{77}$

C  $\langle -8, -2, 3 \rangle, \sqrt{109}$

D  $\langle 8, -2, 3 \rangle, \sqrt{109}$

(57) ما المسافة بين النقطة  $(-3, \frac{5\pi}{3})$   
والنقطة  $(6, \frac{\pi}{4})$  ؟

A 3.97

B 4.97

C 5.97

D 6.97

(58) أي مما يأتي يمثل تقريباً الصورة القطبية للعدد المركب  $20 - 21i$  ؟

A  $29(\cos 5.47 + i \sin 5.47)$

B  $29(\cos 5.52 + i \sin 5.52)$

C  $32(\cos 5.47 + i \sin 5.47)$

D  $32(\cos 5.52 + i \sin 5.52)$

(45) **برهان:** إذا كان  $z_1 = r_1(\cos \theta_1 + i \sin \theta_1)$ ،

$z_2 = r_2(\cos \theta_2 + i \sin \theta_2)$ ، حيث  $r_2 \neq 0$ ، فأثبت أن

$$\frac{z_1}{z_2} = \frac{r_1}{r_2} [\cos(\theta_1 - \theta_2) + i \sin(\theta_1 - \theta_2)]$$

(46) **تحذّر:** اكتب  $\cos 3\theta$  بدلالة  $\cos \theta$  مستعملاً نظرية دي موافر. إرشاد:  
أوجد قيمة  $(\cos \theta + i \sin \theta)^3$  مرة باستعمال نظرية دي موافر، ومرة  
باستعمال مفكوك نظرية ذات الحدين.

(47) **اكتب:** وضح خطوات إيجاد الجذور النونية للعدد المركب  
 $z = r(\cos \theta + i \sin \theta)$ ، حيث  $n$  عدد صحيح موجب.

### مراجعة تراكمية

مثل كل نقطة مما يأتي في المستوى القطبي: (الدرس 6-1)

(48)  $Q(4, -\frac{5\pi}{6})$

(49)  $P(4.5, -210^\circ)$

اكتب كل معادلة مما يأتي على الصورة القطبية: (الدرس 6-2)

(50)  $(x - 3)^2 + y^2 = 9$

(51)  $x^2 + y^2 = 2y$

أوجد المسافة بين كل زوج من النقاط مما يأتي: (الدرس 6-1)

(52)  $(2, \frac{\pi}{6}), (5, \frac{2\pi}{3})$

(53)  $(1, -45^\circ), (-5, 210^\circ)$

حوّل الإحداثيات القطبية لكل نقطة مما يأتي إلى إحداثيات ديكارتية:  
(الدرس 6-2)

(54)  $(5, \frac{\pi}{3})$

(55)  $(4, 210^\circ)$



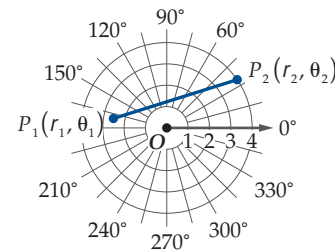
ملخص الفصل

مفاهيم أساسية

الإحداثيات القطبية (الدرس 1-6)

- يُعَيَّن موقع النقطة  $(r, \theta)$  في نظام الإحداثيات القطبية باستعمال المسافة المتجهة  $r$  والزاوية المتجهة  $\theta$ .
- المسافة بين النقطتين  $P_1(r_1, \theta_1)$ ,  $P_2(r_2, \theta_2)$  في المستوى القطبي هي:

$$P_1P_2 = \sqrt{r_1^2 + r_2^2 - 2r_1r_2 \cos(\theta_2 - \theta_1)}$$



الصورة القطبية والصورة الديكارتية للمعادلات (الدرس 2-6)

- الإحداثيات الديكارتية للنقطة  $P(r, \theta)$  هي  $(r \cos \theta, r \sin \theta)$ .
- لتحويل إحداثيات نقطة  $P(x, y)$  من الإحداثيات الديكارتية إلى الإحداثيات القطبية استعمل المعادلات  $r = \sqrt{x^2 + y^2}$ ،  $\theta = \tan^{-1} \frac{y}{x}$  عندما  $x > 0$ ، أو  $\theta = \tan^{-1} \frac{y}{x} + \pi$  عندما  $x < 0$ .

الأعداد المركبة ونظرية ديموافر (الدرس 3-6)

- الصورة القطبية أو المثلثية للعدد المركب  $a + bi$  هي  $r(\cos \theta + i \sin \theta)$ .
- صيغة الضرب لعددتين مركبتين  $z_1, z_2$  هي:  $z_1 z_2 = r_1 r_2 [\cos(\theta_1 + \theta_2) + i \sin(\theta_1 + \theta_2)]$ .
- صيغة القسمة لعددتين مركبتين  $z_1, z_2$  هي:  $\frac{z_1}{z_2} = \frac{r_1}{r_2} [\cos(\theta_1 - \theta_2) + i \sin(\theta_1 - \theta_2)]$ ,  $r_2 \neq 0$ .
- تنص نظرية ديموافر على أنه إذا كانت  $z = r(\cos \theta + i \sin \theta)$  هي الصورة القطبية لعدد مركب، فإن:  $z^n = r^n (\cos n\theta + i \sin n\theta)$  حيث  $n$  عدد صحيح موجب.

الجزور المختلفة:

- لأي عدد صحيح  $n \geq 2$ ، فإن للعدد المركب  $r(\cos \theta + i \sin \theta)$   $n$  من الجزور النونية المختلفة ويمكن إيجادها باستعمال الصيغة:

$$r^{\frac{1}{n}} \left( \cos \frac{\theta + 2k\pi}{n} + i \sin \frac{\theta + 2k\pi}{n} \right)$$

حيث  $k = 0, 1, 2, \dots, n - 1$

المحور التخيلي ص 284	نظام الإحداثيات القطبية ص 268
القيمة المطلقة لعدد مركب ص 284	القطب ص 268
الصورة القطبية ص 285	المحور القطبي ص 268
الصورة المثلثية ص 285	الإحداثيات القطبية ص 268
المقياس ص 285	المعادلة القطبية ص 270
السعة ص 285	التمثيل القطبي ص 270
الجزور النونية للعدد واحد ص 291	المستوى المركب ص 284
	المحور الحقيقي ص 284

اختبر مفرداتك

اختر المفردة المناسبة من القائمة أعلاه لإكمال كل جملة مما يأتي:

- 1) \_\_\_\_\_ هو مجموعة كل النقاط  $(r, \theta)$  التي تحقق معادلة قطبية معطاة.
- 2) المستوى الذي يحوي محوراً يمثل الجزء الحقيقي، وآخر يمثل الجزء التخيلي هو \_\_\_\_\_.
- 3) يُحدَّد موقع نقطة في \_\_\_\_\_ باستعمال المسافة المتجهة من نقطة ثابتة إلى النقطة نفسها، وزاوية متجهة من محور ثابت.
- 4) \_\_\_\_\_ هي الزاوية  $\theta$  لعدد مركب مكتوب على الصورة:  $r(\cos \theta + i \sin \theta)$ .
- 5) تُسمَّى نقطة الأصل في نظام الإحداثيات القطبية بـ \_\_\_\_\_.
- 6) تُسمَّى القيمة المطلقة لعدد مركب بـ \_\_\_\_\_.
- 7) \_\_\_\_\_ هو اسم آخر للمستوى المركب.
- 8) \_\_\_\_\_ هو نصف مستقيم ممتد من القطب، ويكون أفقياً باتجاه اليمين.



## مراجعة الدروس

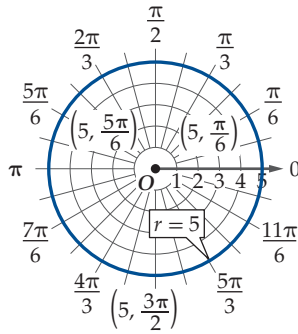
الإحداثيات القطبية (الصفحات 268 - 274)

6-1

## مثال 1

مثّل المعادلة  $r = 5$  بيانياً في المستوى القطبي.

حلول المعادلة  $r = 5$  هي الأزواج المرتبة  $(5, \theta)$ ، حيث  $\theta$  أي عدد حقيقي. ويتكون التمثيل من جميع النقاط التي تبعد 5 وحدات عن القطب، لذا فإن التمثيل هو دائرة مركزها القطب، وطول نصف قطرها 5.



مثّل كل نقطة مما يأتي في المستوى القطبي:

$$X\left(1.5, \frac{7\pi}{4}\right) \quad (10) \quad W(-0.5, -210^\circ) \quad (9)$$

$$Z\left(-3, \frac{5\pi}{6}\right) \quad (12) \quad Y(4, -120^\circ) \quad (11)$$

مثّل كل معادلة من المعادلات الآتية بيانياً:

$$r = \frac{9}{2} \quad (14) \quad \theta = -60^\circ \quad (13)$$

$$\theta = \frac{11\pi}{6} \quad (16) \quad r = 7 \quad (15)$$

أوجد المسافة بين كل زوج من النقاط مما يأتي:

$$(-3, 60^\circ), (4, 240^\circ) \quad (18) \quad \left(5, \frac{\pi}{2}\right), \left(2, -\frac{7\pi}{6}\right) \quad (17)$$

$$\left(7, \frac{5\pi}{6}\right), \left(2, \frac{4\pi}{3}\right) \quad (20) \quad (-1, -45^\circ), (6, 270^\circ) \quad (19)$$

الصورة القطبية والصورة الديكارتية للمعادلات (الصفحات 275 - 283)

6-2

## مثال 2

اكتب المعادلة  $r = 2 \cos \theta$  على الصورة الديكارتية، ثم حدّد نوع تمثيلها البياني.

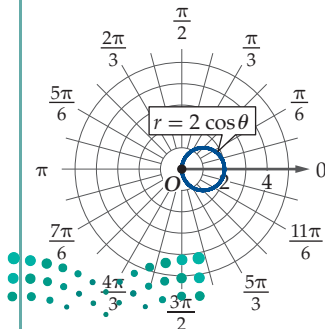
$$\text{المعادلة الأصلية} \quad r = 2 \cos \theta$$

$$\text{اضرب الطرفين في } r \quad r^2 = 2r \cos \theta$$

$$x = r \cos \theta, \quad r^2 = x^2 + y^2 \quad x^2 + y^2 = 2x$$

$$\text{اطرح } 2x \text{ من الطرفين} \quad x^2 + y^2 - 2x = 0$$

أي أن الصورة القياسية للمعادلة هي:  $(x-1)^2 + y^2 = 1$ ، وهي معادلة دائرة مركزها  $(1, 0)$  وطول نصف قطرها 1.



أوجد زوجين مختلفين كل منهما يمثل إحداثيين قطبيين لكل نقطة معطاة بالإحداثيات الديكارتية في كل مما يأتي، حيث  $-\pi \leq \theta \leq 2\pi$

$$(-1, 5) \quad (21)$$

$$(3, 7) \quad (22)$$

$$(1, 2) \quad (23)$$

اكتب كل معادلة على الصورة الديكارتية، وحدّد نوع تمثيلها البياني:

$$r = 5 \quad (24)$$

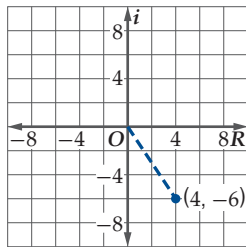
$$r = -4 \sin \theta \quad (25)$$

$$r = 6 \sec \theta \quad (26)$$

$$r = \frac{1}{3} \csc \theta \quad (27)$$

## مثال 3

مثّل كل عدد مما يأتي في المستوى المركب، وأوجد قيمته المطلقة:



أوجد المقياس.

$$\begin{aligned} \text{صيغة التحويل} \quad r &= \sqrt{a^2 + b^2} \\ a = 4, b = -6 &= \sqrt{4^2 + (-6)^2} = 2\sqrt{13} \end{aligned}$$

أوجد السعة.

$$\begin{aligned} \text{صيغة التحويل} \quad \theta &= \text{Tan}^{-1} \frac{b}{a} \\ a = 4, b = -6 &= \text{Tan}^{-1} \left( -\frac{6}{4} \right) \\ \text{بسّط} &\approx -0.98 \end{aligned}$$

فتكون الصورة القطبية للعدد  $4 - 6i$  هي:  
 $2\sqrt{13} [(\cos(-0.98) + i \sin(-0.98))]$  تقريباً.

## مثال 4

أوجد ناتج  $3 \left( \cos \frac{\pi}{4} + i \sin \frac{\pi}{4} \right) \cdot 5 \left( \cos \frac{7\pi}{6} + i \sin \frac{7\pi}{6} \right)$

على الصورة القطبية، ثم حوّلها إلى الصورة الديكارتية.

$$\begin{aligned} \text{العبارة المعطاة} \quad & 3 \left( \cos \frac{\pi}{4} + i \sin \frac{\pi}{4} \right) \cdot 5 \left( \cos \frac{7\pi}{6} + i \sin \frac{7\pi}{6} \right) \\ \text{صيغة الضرب} &= (3 \cdot 5) \left[ \cos \left( \frac{\pi}{4} + \frac{7\pi}{6} \right) + i \sin \left( \frac{\pi}{4} + \frac{7\pi}{6} \right) \right] \\ \text{بسّط} &= 15 \left[ \cos \left( \frac{17\pi}{12} \right) + i \sin \left( \frac{17\pi}{12} \right) \right] \end{aligned}$$

والآن أوجد الصورة الديكارتية لناتج الضرب.

$$\begin{aligned} \text{الصورة القطبية} \quad & 15 \left[ \cos \left( \frac{17\pi}{12} \right) + i \sin \left( \frac{17\pi}{12} \right) \right] \\ \text{أوجد قيمتي الجيب وجيب التمام} &= 15[-0.26 + i(-0.966)] \\ \text{خاصية التوزيع} &= -3.9 - 14.5i \end{aligned}$$

فتكون الصورة الديكارتية لناتج الضرب  $-3.9 - 14.5i$

مثّل كل عدد مما يأتي في المستوى المركب، وأوجد قيمته المطلقة:

$$z = 4i \quad (29) \quad z = 3 - i \quad (28)$$

$$z = 6 - 3i \quad (31) \quad z = -4 + 2i \quad (30)$$

عبّر عن كل عدد مركب مما يأتي بالصورة القطبية:

$$-5 + 8i \quad (33) \quad 3 + \sqrt{2}i \quad (32)$$

$$\sqrt{2} + \sqrt{2}i \quad (35) \quad -4 - \sqrt{3}i \quad (34)$$

مثّل كل عدد مركب مما يأتي في المستوى القطبي، ثم عبّر عنه بالصورة الديكارتية:

$$z = 3 \left( \cos \frac{\pi}{2} + i \sin \frac{\pi}{2} \right) \quad (36)$$

$$z = 5 \left( \cos \frac{\pi}{3} + i \sin \frac{\pi}{3} \right) \quad (37)$$

$$z = 2 \left( \cos \frac{\pi}{4} + i \sin \frac{\pi}{4} \right) \quad (38)$$

$$z = 4 \left( \cos \frac{5\pi}{6} + i \sin \frac{5\pi}{6} \right) \quad (39)$$

أوجد الناتج في كل مما يأتي على الصورة القطبية، ثم عبّر عنه بالصورة الديكارتية:

$$2 \left( \cos \frac{5\pi}{6} + i \sin \frac{5\pi}{6} \right) \cdot 4 \left( \cos \frac{\pi}{3} + i \sin \frac{\pi}{3} \right) \quad (40)$$

$$8(\cos 225^\circ + i \sin 225^\circ) \cdot \frac{1}{2}(\cos 120^\circ + i \sin 120^\circ) \quad (41)$$

$$5 \left( \cos \frac{\pi}{2} + i \sin \frac{\pi}{2} \right) \div \frac{1}{3} \left( \cos \frac{\pi}{6} + i \sin \frac{\pi}{6} \right) \quad (42)$$

$$6(\cos 210^\circ + i \sin 210^\circ) \div 3(\cos 150^\circ + i \sin 150^\circ) \quad (43)$$

(44) أوجد قيمة  $(\sqrt{2} + 3i)^4$  بالصور القطبية، ثم اكتبه على الصورة الديكارتية.

$$(45) \text{ أوجد الجذور الرابعة للعدد المركب } 1 + i$$

## تطبيقات ومسائل

**(49) كهرباء:** تُصمَّم معظم الدوائر الكهربائية لتحتمل فرق جهد قدره 220V.

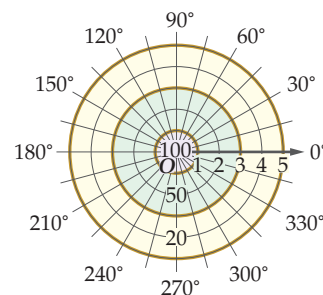
للفرعين  $a$ ,  $b$  استعمال المعادلة  $V = I \cdot Z$ ، حيث فرق الجهد  $V$  بالفولت، والمعاوقة  $Z$  بالأوم، وشدة التيار  $I$  بالأمبير (قرب إلى أقرب جزء من عشرة). (الدرس 6-3)

**(a)** إذا كانت شدة التيار المار بالدائرة  $(2 + 5j)$  أمبير، فأوجد المعاوقة.

**(b)** إذا كانت معاوقة الدائرة  $\Omega(1 - 3j)$ ، فأوجد شدة التيار.

**(50) تحويل جوكوسكي (Jowkoski):** يُعيَّن تحويل جوكوسكي لكل عدد مركب  $z = r(\cos \theta + i \sin \theta)$  عددًا مركبًا  $w$  يُعطى بالصيغة  $w = z + \frac{1}{z}$ . أوجد صورة العدد المركب  $z = \cos \frac{\pi}{3} + i \sin \frac{\pi}{3}$  وفق هذا التحويل. (الدرس 6-3)

**(46) ألعاب:** قُسمت لوحة السهام إلى 3 مناطق كما هو موضح في الشكل أدناه، بحيث يحصل اللاعب على 100 نقطة عند إصابته المنطقة القريبة من القطب، وعلى 50 نقطة عند إصابته المنطقة المتوسطة، و 20 نقطة عند إصابته المنطقة البعيدة. (الدرس 6-1)



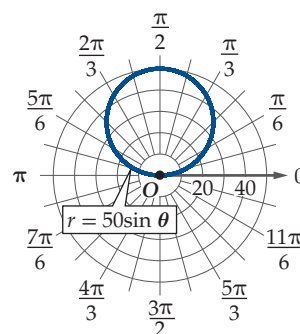
**(a)** إذا أصاب اللاعب النقطة  $(3.5, 165^\circ)$ ، فما عدد النقاط التي يحصل عليها؟

**(b)** حدّد موقعين، بحيث يحصل اللاعب على 50 نقطة عند إصابة أي منهما؟

**(47) حدائق:** تستعمل شركة عناية بالحدائق رشاشًا قابلاً للتعديل، ويستطيع الدوران  $360^\circ$ ، ويروي منطقة دائرية طول نصف قطرها 20 ft. (الدرس 6-1)

**(a)** مثل المنطقة التي يستطيع الرشاش رّيها في المستوى القطبي.  
**(b)** أوجد مساحة المنطقة التي يستطيع الرشاش رّيها، إذا ضُبط ليدور في الفترة  $-30^\circ \leq \theta \leq 210^\circ$ .

**(48) عجلة دوّارة:** يمكن تمثيل مسار العجلة الدوّارة في الشكل أدناه بالمعادلة  $r = 50 \sin \theta$ ، حيث  $r$  بالقدم. (الدرس 6-2)



**(a)** عيّن الإحداثيين القطبيين لموقع راكب إذا علمت أنه يقع عند  $\theta = \frac{\pi}{12}$  (قرب إلى أقرب جزء من عشرة إذا لزم الأمر).

**(b)** عيّن الإحداثيين الديكارتيين لموقع الراكب مقربًا إلى أقرب جزء من عشرة إذا لزم الأمر.

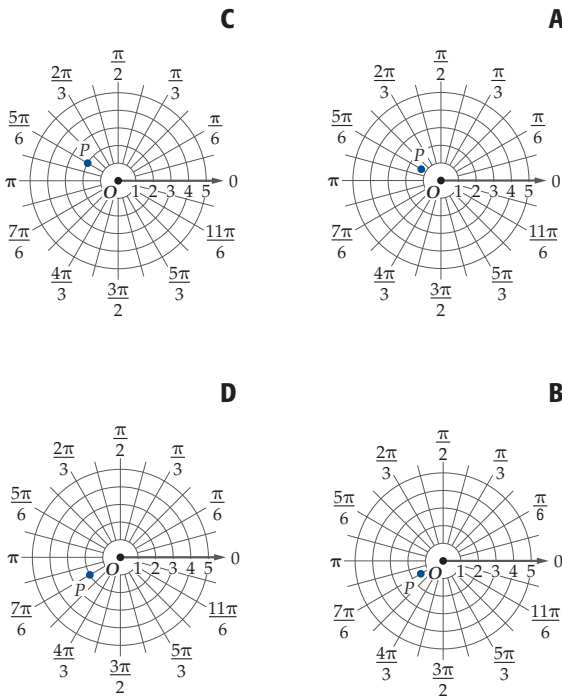
**(c)** إذا وقع القطب على سطح الأرض، فما ارتفاع ذلك الراكب مقربًا إلى أقرب قدم؟



(8) عبّر عن المعادلة  $(x - 7)^2 + y^2 = 49$  ، بالصورة القطبية.

(9) **كهرباء:** إذا كان فرق الجهد  $V$  في دائرة كهربائية  $135V$ ، وكانت شدة التيار المار بها  $I$  هو  $(3 - 4j)$  أمبير، فأوجد معاوقة الدائرة  $Z$  بالإحداثيات الديكارتية مستعملًا المعادلة  $V = I \cdot Z$ .

(10) **اختيار من متعدد:** أي مما يأتي يبين تمثيل العدد المركب الذي إحداثياته الديكارتية  $(-1, -\sqrt{3})$  في المستوى القطبي؟

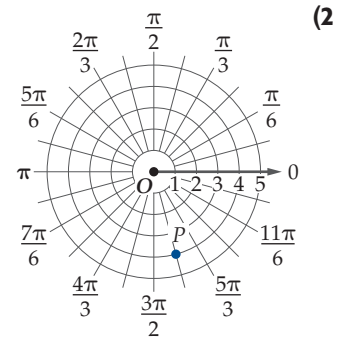
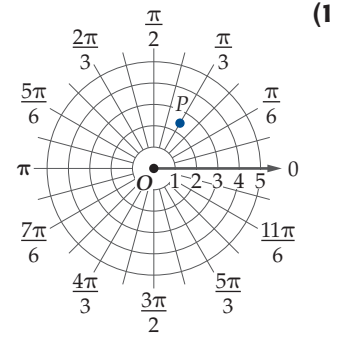


أوجد كل قوة مما يأتي على الصورة الديكارتية، وقرب إلى أقرب عدد صحيح إذا لزم الأمر:

(11)  $(-1 + 4i)^3$

(12)  $(6 + i)^4$

أوجد ثلاثة أزواج مختلفة يمثل كل منها إحداثيات قطبية للنقطة  $P$  في كل من التمثيلين 1, 2، حيث  $-\pi \leq \theta \leq 2\pi$ .



ممثل بيانياً في المستوى القطبي كلاً من المعادلات الآتية:


(3)  $\theta = 30^\circ$

(4)  $r = 1$

(5)  $r = 2.5$

(6)  $\theta = \frac{5\pi}{3}$

(7) **رادار:** يقوم مراقب الحركة الجوية بتتبع مسار طائرة موقعها الحالي عند النقطة  $(66, 115^\circ)$ ، حيث  $r$  بالأميال.



(a) عيّن الإحداثيين الديكارتيين للطائرة. مقرّبًا الناتج إلى أقرب ميل.

(b) إذا وُجدت طائرة عند نقطة إحداثياتها الديكارتية  $(50, -75)$ ، فعين الإحداثيين القطبيين لها مقرّبًا المسافة إلى أقرب ميل، والزوايا إلى أقرب جزء من عشرة إذا لزم الأمر.

(c) ما المسافة بين الطائرتين؟ قرب الناتج إلى أقرب ميل.






### فيما سبق:

درست إحصائيات العينة  
ومعالم المجتمع واحتمالات  
الحوادث المركبة.

### والآن:

- أميز المسوحات،  
والدراسات والتجارب.
- أكون التوزيعات  
الاحتمالية، وتمثيلاتها  
البيانية، وأستعملها في  
إيجاد الاحتمال.
- أستعمل القانون التجريبي  
لإيجاد الاحتمالات.
- أميز بين العينة  
الإحصائية، والمجتمع  
الإحصائي.

### لماذا؟

 **التربية:** يستعمل  
الاحتمال والإحصاء في  
دراسة الفرضيات التربوية  
واختبارها. حيث تُستعمل  
المسوحات، وتجري التجارب؛  
لتحديد الطرائق التعليمية  
التي تؤدي إلى تعلم أفضل.  
ويستعمل الإحصاء في  
تحديد الدرجات عند تمثيل  
درجات الفصول بيانياً، أو  
عندما يريد المعلمون تقييم  
درجات الطلاب.

**قراءة سابقة:** كون قائمة  
بالأشياء التي تعرفها عن  
الاحتمال والإحصاء، ثم تنبأ  
بما ستعلمه في هذا الفصل.







## مراجعة المفردات

### التباديل (Permutations) :

هي تنظيم لمجموعة من العناصر، حيث يكون الترتيب فيها مهماً.

### التوافيق (Combinations) :

هي تنظيم لمجموعة من العناصر، حيث يكون الترتيب فيها غير مهم.

### الحادثتان المستقلتان (Independent Events) :

تكون  $A$  و  $B$  حادثتين مستقلتين، إذا كان احتمال حدوث  $A$  لا يؤثر في احتمال حدوث  $B$ .

### الحادثتان غير المستقلتين (Dependent Events) :

تكون  $A$  و  $B$  حادثتين غير مستقلتين، إذا كان احتمال حدوث  $A$  يغير بطريقة ما احتمال حدوث  $B$ .

### الحادثتان المتنافيتان (Mutually Exclusive Events) :

تكون  $A$  و  $B$  حادثتين متنافيتين، إذا لم يكن وقوعهما ممكناً في الوقت نفسه.

### نظرية ذات الحدين (Binomial Theorem) :

إذا كان  $n$  عدداً طبيعياً، فإن :

$$(a + b)^n = {}_n C_0 a^n b^0 + {}_n C_1 a^{n-1} b^1 + {}_n C_2 a^{n-2} b^2 + \dots + {}_n C_n a^0 b^n$$

$$= \sum_{k=0}^n \frac{n!}{k!(n-k)!} a^{n-k} b^k$$

### فضاء العينة (Sample Space) :

هو مجموعة النواتج الممكنة لتجربة ما.

### الاحتمال (Probability) :

هو النسبة التي تقيس فرصة وقوع حادثة معينة.



## اختبار سريع

حدّد ما إذا كانت الحوادث الآتية مستقلة، أو غير مستقلة.

(1) اختيار قصة وكتاب آخر لا يمثل قصة من مكتبة.

(2) اختيار رئيس، ونائب رئيس، وسكرتير، ومحاسب في نادٍ، على افتراض أن الشخص الواحد لا يشغل سوى منصب واحد.

(3) اختيار طالب ومعلم ومشرف اجتماعي للمشاركة في تنظيم الرحلات المدرسية.

حدّد ما إذا كانت كل حالة من الحالات الآتية تتطلب تطبيق التباديل أو التوافيق في حلّها:

(4) اصطفاة سبعة أشخاص في صف واحد عند المحاسب في أحد المتاجر.

(5) ترتيب أحرف كلمة «مدرسة».

(6) اختيار نكهتين مختلفتين لفطيرة من بين 6 نكهات.


اكتب مفكوك كل من العبارات الآتية:

$$(a - 2)^4 \quad (7)$$

$$(2a + b)^6 \quad (8)$$

$$(3x - 2y)^5 \quad (9)$$

$$\left(\frac{a}{2} + 2\right)^5 \quad (10)$$





## Experiments, Surveys, and Observational Studies



### لماذا؟

يرغب الطلاب في تشكيل فريق لكرة السلة في مدرستهم، وكي يجدوا دعمًا لمشروعهم، فقد نُفذوا دراسة مسحية شملت الطلاب وأولياء الأمور؛ لمعرفة الموافقين منهم والمعارضين.

### فيما سبق:

درست تصميم دراسة مسحية. (مهارة سابقة)

### والآن:

- أميز الدراسات المسحية، والدراسات القائمة على الملاحظة والدراسات التجريبية.
- أميز بين الارتباط والسببية.

### المفردات:

- الدراسة المسحية
- survey
- المجتمع
- population
- التعداد العام
- census
- العينة
- sample
- المتحيزة
- biased
- غير المتحيزة
- unbiased
- الدراسة القائمة على الملاحظة
- observational study
- المجموعة التجريبية
- treatment group
- المجموعة الضابطة
- control group
- الارتباط
- correlation
- السببية
- causation

**الدراسات التجريبية والمسحية** تُستعمل **الدراسات المسحية** في جمع البيانات، وإذا شملت عملية جمع البيانات جميع الطلاب في مدرسة ما، نقول: إن الدراسة شملت **المجتمع**، وفي هذه الحالة تُسمى هذه العملية **تعدادًا عامًا**. أما إذا تم اختيار عدد محدود من طلاب المدرسة مثل 100 طالب، فتكون الدراسة المسحية قد اعتمدت على **العينة**. وتكون العينة **متحيزة** عندما يتم تفضيل بعض أقسام المجتمع على باقي الأقسام، فمثلاً: إذا شملت الدراسة المسحية الواردة في فقرة "لماذا؟" رأي لاعبي كرة السلة وأولياء أمورهم فقط، تكون العينة متحيزة. وتكون العينة **غير متحيزة** إذا تم اختيارها عشوائياً، أي إذا كان لكل شخص في المجتمع الفرصة نفسها لأن يكون ضمن عينة الدراسة، فإذا أرسلت استبانة في دراسة مسحية لـ 100 طالب تم اختيارهم عشوائياً عندها تكون العينة غير متحيزة.

### العينات المتحيزة وغير المتحيزة

### مثال 1 من واقع الحياة

**دراسات مسحية:** حدّد ما إذا كانت كل دراسة مسحية فيما يأتي تتبنى عينة متحيزة، أو غير متحيزة، وفسّر إجابتك:

(a) سؤال كل عاشر شخص يخرج من قاعة الندوات عن عدد مرات حضوره ندوات ثقافية؛ لتحديد مدى دعم سكان المدينة للندوات الثقافية.

(b) استطلاع آراء أفراد في سوق الماشية؛ لمعرفة ما إذا كان سكان المدينة يحبون تربية الماشية أو لا.

(c) يحتوي صندوق على أسماء طلاب المدرسة جميعهم، سُحب من الصندوق 100 اسم عشوائياً، وسُئل أصحابها عن رأيهم في مقصف المدرسة.

### تحقق من فهمك

حدّد ما إذا كانت كل دراسة مسحية فيما يأتي تتبنى عينة متحيزة، أو غير متحيزة، وفسّر إجابتك:

(1A) سؤال كل لاعب في فريق كرة السلة عن الرياضة التي يحب مشاهدتها على التلفاز.

(1B) الذهاب إلى ملعب كرة القدم وسؤال 100 شخص اختيروا عشوائياً عن رياضتهم المفضلة.

لتجنّب التحيز في الدراسات المسحية المعتمدة على العينات لا بدّ من تحقّق أمرين هما: أن تكون العينة العشوائية مناسبة، وذلك بأن تكون غير متحيزة وحجمها كبير نسبياً، وألا تكون الأسئلة المطروحة متحيزة.

## إرشادات للدراسة

العينة المتحيزة  
تعُدّ العينة متحيزة إذا فقط  
إذا كانت غير عشوائية.

## تصميم الدراسات المسحية

### مثال 2 من واقع الحياة

**دراسات مسحية في المدرسة:** يريد خالد أن يُحدّد أفضل الأماكن للرحلة المدرسية. ما الأسئلة التي تعطيه الإجابة التي يبحث عنها دون تحيز؟

(a) هل تحب الذهاب إلى مركز الملك عبدالعزيز التاريخي؟

(b) هل تحب الذهاب إلى حديقة الحيوان، أم إلى متنزه سلام؟

(c) أين تفضل أن تذهب في الرحلة؟

### تحقق من فهمك

أى مما يأتي يُحدّد أفضل مادة بالنسبة إلى الطلاب دون تحيز؟

(2A) هل تفضل المادة التي خرجت من حصتها الآن؟

(2B) أيهما تفضل أكثر: العلوم أو الرياضيات؟

(2C) ما مادتك المفضلة؟

## إرشادات للدراسة

### المعالجة الشكلية

التي يخضع لها أفراد المجموعة الضابطة، والتي ليس لها أي تأثير في نتائج الدراسة، والهدف الأساسي منها هو التأكد من عدم معرفة الأفراد لأي المجموعتين التجريبية أو الضابطة ينتمون، لضبط محاولة تأثير بعضهم في نتائج الدراسة، وذلك ببذل المزيد من الجهد مثلاً أو العكس.

في الدراسة القائمة على الملاحظة، تتم ملاحظة الأفراد دون أي محاولة للتأثير في النتائج. وفي الدراسة التجريبية، يتم إجراء معالجة خاصة على الأشخاص أو الحيوانات أو الأشياء قيد الدراسة، وتجرى ملاحظة استجاباتهم.

### دراسة قائمة على الملاحظة

- من 100 شخص، اختر 50 شخصاً خضعوا للمعالجة.
- اجمع البيانات، وحللها، وفسرها.
- من 100 شخص، اختر من بينهم 50 شخصاً عشوائياً وأخضعهم للمعالجة المقصودة بالتجريب، بينما لا تخضع الآخرين لأي معالجة أو لمعالجة شكلية.
- اجمع البيانات، وحللها، وفسرها.

في الدراسة التجريبية، يُسمّى الأشخاص أو الحيوانات أو الأشياء التي تخضع للمعالجة المجموعة التجريبية. أمّا الأشخاص أو الحيوانات أو الأشياء الذين لا يخضعون للمعالجة أو يخضعون لمعالجة شكلية، فيسمون المجموعة الضابطة. وتعطى المعالجة الشكلية لكي لا يعرف أفراد المجموعات لأي المجموعتين ينتمون، وتصبح الدراسة التجريبية عندها غير متحيزة.

## الدراسات التجريبية والدراسات القائمة على الملاحظة

### مثال 3 من واقع الحياة

حدّد ما إذا كان كل موقف مما يأتي يمثل دراسة تجريبية، أو دراسة قائمة على الملاحظة. وفي حالة الدراسة التجريبية اذكر كلاً من المجموعة الضابطة والمجموعة التجريبية، ثم بيّن ما إذا كانت الدراسة التجريبية متحيزة أم لا.

(a) اختر 200 طالب نصفهم خضع لأنشطة إضافية في مادة معينة، وقارن بين درجاتهم في تلك المادة.

(b) اختر 200 طالب واقسمهم عشوائياً إلى نصفين، وأخضع إحدى المجموعتين إلى برنامج تدريبي معين، أمّا الأخرى فلا تخضعها لأي برنامج تدريبي.

### تحقق من فهمك

حدّد ما إذا كان الموقف الآتي يمثل دراسة تجريبية، أو دراسة قائمة على الملاحظة، وفي حالة الدراسة التجريبية اذكر كلاً من المجموعة الضابطة والمجموعة التجريبية، ثم بيّن ما إذا كانت الدراسة التجريبية متحيزة أم لا.

(3) اختر 80 طالباً جامعياً نصفهم درس الإحصاء في المدرسة الثانوية، وقارن نتائج المجموعتين في مساق الإحصاء تم تدريسه في الجامعة.

## وزارة التعليم

Ministry of Education

كيف تعرف متى تُستعمل الدراسات المسحية أو الدراسات التجريبية أو الدراسات القائمة على الملاحظة؟ تستعمل الدراسات المسحية عند الرغبة في جمع بيانات، أو آراء أفراد المجتمع حول موضوع معين، بينما تُستعمل الدراسات القائمة على الملاحظة عند الرغبة في دراسة أثر معالجة سابقة تعرض لها أفراد من المجتمع دون أي تأثير عليهم من الباحث، وتُستعمل الدراسات التجريبية عند الرغبة في اختبار طريقة جديدة، أو في دراسة نتائج معالجة مقصودة يؤثر الباحث بها في مجموعة من الأفراد يتم تعيينهم عشوائياً.

#### مثال 4 الدراسات المسحية والتجريبية والقائمة على الملاحظة

حدّد ما إذا كانت كل من الحالات الآتية تتطلب دراسة مسحية، أو دراسة قائمة على الملاحظة، أو دراسة تجريبية، وفسّر إجابتك:

(a) تريد أن تختبر طريقة معالجة لمرض ما.

(b) تريد أن تجمع آراءً حول القواعد المعتمدة في انتخاب رئيس الصف.

(c) تريد أن تعرف ما إذا كان التدخين لمدة 10 سنوات يؤثّر في سعة الرئة أو لا.

#### تحقق من فهمك

حدّد ما إذا كانت الحالة الآتية تتطلب دراسة مسحية، أو دراسة قائمة على الملاحظة، أو دراسة تجريبية، وفسّر إجابتك.

(4) تريد استطلاع آراء طلاب مدرسة ثانوية حول وسيلة المواصلات المدرسية باستعمال مقياس متدرج من 1 (لا أوافق مطلقاً) إلى 5 (أوافق بشدة).

**التمييز بين الارتباط والسببية** إن أي علاقة تظهر بين نتائج التجربة والمعالجة لا تعني بالضرورة أن المعالجة هي السبب في النتيجة.

فعندما يوجد ارتباط بين ظاهرتين، فإن كلاً من الظاهرتين تؤثر في الأخرى فإن معرفتك بقيم الظاهرة الأولى يمكنك من التنبؤ بقيم الظاهرة الثانية، والعكس صحيح، فمثلاً: هناك ارتباط بين كتل الأشخاص وأطوالهم، فكلما زاد طول الشخص زادت كتلته بشكل عام، فإذا عرفت طول شخص يمكنك التنبؤ بكتلته. وعندما يوجد سببية، فإن وقوع ظاهرة معينة يكون سبباً مباشراً في وقوع الظاهرة الأخرى لذا فإن السببية تتضمن الترتيب الزمني، فوقوع الظاهرة الأولى أولاً يكون سبباً في وقوع الظاهرة الثانية لاحقاً كنتيجة لذلك، فمثلاً: دوران الأرض حول محورها هو السبب الوحيد في تعاقب الليل والنهار. وبينما يكون من السهل ملاحظة الارتباط بين ظاهرتين، فإنه من الصعب البرهنة على وجود سببية بين الظاهرتين.

#### مثال 5 الارتباط والسببية

بيّن ما إذا كانت العبارات الآتية تُظهر ارتباطاً، أو سببية، ثم فسّر إجابتك:

(a) أظهرت الدراسات أن الطلاب يكونون أقل نشاطاً بعد تناول الغداء.

(b) إذا رفعت أثقالاً، أستطيع الالتحاق بفريق كرة القدم.

(c) عندما ترى الشمس يكون النهار قد طلع.

#### تحقق من فهمك

بيّن ما إذا كانت العبارة الآتية تُظهر ارتباطاً، أو سببية، ثم فسّر إجابتك.

(5A) عندما أدرس أحصل على تقدير ممتاز. (5B) إذا صاحبت شخصاً حسن السيرة، فإنك تقتدي بأخلاقه.

#### إرشادات للدراسة

##### السببية

إذا لم يوجد أي سبب آخر يعطي النتيجة فإنك تفترض السببية.



المملكة العربية السعودية  
 اللجنة الوطنية لمكافحة المخدرات  
 الأمانة العامة

#### الربط مع الحياة

أشارت نتائج دراسات عالمية إلى أن هنالك علاقة بين تعاطي المخدرات ورفقة السوء.



## تدرب وحل المسائل

9) وجد عادل 100 شخص، نصفهم متطوعون في مأوى الفقراء، وقارن بين متوسطي الدخل السنوي لأفراد المجموعتين.

10) اختر 300 شخص، واقسمهم عشوائياً إلى مجموعتين: إحداهما تقرأ القرآن لمدة ساعة قبل النوم، والأخرى لا تفعل شيئاً، ثم قارن بين كيفية نوم كل من المجموعتين.

11) اختر 250 شخصاً نصفهم في الفرق الرياضية، وقارن بين كمية الوقت الذي يمضونه في حل الواجبات.

12) اختر 100 طالب نصفهم في نادي اللغة الإنجليزية، وقارن بين درجاتهم في اللغة الإنجليزية.

حدّد ما إذا كانت كل من الحالات الآتية تتطلب دراسة مسحية، أو دراسة قائمة على الملاحظة، أو دراسة تجريبية، وفسّر إجابتك: (مثال 4)

13) تريد اختبار علاج لمعالجة الصلع عند الرجال.

14) تريد استطلاع آراء أشخاص حول سياسة جديدة لشركة.

15) تريد معرفة ما إذا كان عدد سنوات الركض يؤثر في حركة الركبة أو لا.

16) تريد معرفة ما إذا كانت المشروبات الغازية تؤثر في جدار المعدة أو لا.

17) تريد اختبار معالجة معينة تبعد الحيوانات عن البساتين التي تحوي غزلاً.

بيّن ما إذا كانت كل من العبارات الآتية تظهر ارتباطاً، أو سببية، وفسّر إجابتك: (مثال 5)

18) عندما أمارس الرياضة، أكون في وضع نفسي أفضل.

19) عندما يكون الجو بارداً وممطراً بغزارة، لا نذهب إلى المدرسة.

20) عندما يكون الطقس حاراً في فصل الصيف، يكثر بيع المشروبات الباردة.

21) كثرة القراءة تجعلك أكثر ذكاءً.

22) دلّت الأبحاث على أن من يتقن أكثر من لغة، يكون أقلّ إمكانية للإصابة بالمرض.

23) النوم بحذائك يؤدي إلى شعورك بالصداع.

24) **استبانات:** توزّع شركة استبانات على العاملين الذين تركوا العمل في الشركة، وكان أحد أسئلة الاستبانة هو كيف يرى العامل خبرته التي اكتسبها في الشركة؟ هل هذه دوافع مسحية متحيزة؟ فسرّ السبب.

حدّد ما إذا كانت كل دراسة مسحية فيما يأتي تتبنّى عينة متحيزة، أو غير متحيزة، وفسّر إجابتك: (مثال 1)

1) استطلاع رأي كل ثالث شخص يخرج من مطعم للمشويات؛ لمعرفة الوجبة المفضلة للناس.

2) الاستفسار من طلاب صف معين من المتميزين في مادة العلوم عن أفضل المواد لديهم.

3) الاستفسار من الطالب الذي ترتيبه 20 من كل 20 طالباً يخرجون من مدرستك، عن الطالب الذي سيصوتون له في انتخابات المجلس الطلابي.

4) **دراسة مسحية:** بيّن ما إذا كانت الدراسة المسحية الآتية تتبنّى عينة متحيزة أو غير متحيزة، فسرّ إجابتك.  
استطلاع آراء طلاب في كلية الطب؛ لمعرفة المهنة المستقبلية المفضلة لدى الشباب.

حدّد سؤال الدراسة المسحية الذي تحصل منه على الإجابة المطلوبة بشكل أفضل. (مثال 2)

5) يريد زاهر أن يحدد فريق كرة القدم الأكثر شعبية في المملكة.

(a) ما اسم فريق كرة القدم الذي تفضله في مدينة الرياض؟

(b) ما اسم فريق كرة القدم الذي تفضله في المملكة؟

(c) ما مدى تقديرك لفريق كرة القدم في المملكة؟

6) يريد سليمان أن يحدد الرغبة في تكوين أول نادٍ للشطرنج في المدرسة.

(a) في أي يوم ترغب في أن تتأخر في المدرسة؟

(b) هل تحب الشطرنج؟

(c) هل تحب أن تنضم إلى نادي الشطرنج في المدرسة؟

7) يريد هاني أن يتعرف إلى الطالب المثالي في المدرسة.

(a) من ترى أنه الطالب المثالي في المدرسة؟

(b) هل تُفضّل الطالب الذي لا يبادر بالمساعدة، أم الذي يبادر بها؟

(c) إذا طُلب إليك إبداء الرأي، فهل تفعل؟

حدّد ما إذا كان كل موقف من المواقف الآتية يمثل دراسة تجريبية، أو دراسة قائمة على الملاحظة، وفي حالة الدراسة التجريبية، اذكر كلاً من المجموعة الضابطة والمجموعة التجريبية، ثم بيّن ما إذا كانت الدراسة التجريبية متحيزة أم لا: (مثال 3)

8) قبل الاختبار، قام المعلم باختيار شعبتين من الصف نفسه بشكل عشوائي، وقام بمراجعة المادة لطلاب إحداها، بينما لم يراجع المادة لطلاب الشعبة الأخرى. ثم قام بمقارنة نتائج الاختبار لهما.



## مراجعة تراكمية

إذا كان  $\mathbf{u} = (2, -3)$ ،  $\mathbf{v} = (1, 6)$ ، فأوجد كلاً مما يأتي:  
(مهارة سابقة)

$$2\mathbf{u} \quad (30)$$

$$\mathbf{v} + \mathbf{u} \quad (31)$$

$$2\mathbf{u} - \mathbf{v} \quad (32)$$

أوجد الصورة الإحداثية، وطول  $\overline{AB}$  المعطاة نقطتا بدايته ونهايته في كل مما يأتي: (مهارة سابقة)

$$A(2, 2, 7), B(1, 3, -4) \quad (33)$$

$$A(4, 5, 10), B(7, 1, 8) \quad (34)$$

حوّل الإحداثيات القطبية إلى إحداثيات ديكارتية لكل نقطة مما يأتي:  
(الدرس 2-6)

$$(3, 90^\circ) \quad (35)$$

$$(2, 210^\circ) \quad (36)$$

$$\left(\frac{1}{2}, \frac{\pi}{4}\right) \quad (37)$$

عبّر عن كل عدد مركب مما يأتي بالصورة القطبية: (الدرس 3-6)

$$6 + 8i \quad (38)$$

$$-1 - i \quad (39)$$

## تدريب على اختبار

حدّد ما إذا كانت كل حالة من الحالات الآتية تمثل دراسة تجريبية أو دراسة قائمة على الملاحظة، وإذا كانت دراسة تجريبية، فحدّد المجموعة التجريبية والمجموعة الضابطة، ثم بين ما إذا كانت متحيزة أو لا.

(40) اختر 220 شخصاً عشوائياً، وقسمهم عشوائياً إلى مجموعتين. إحداهما تقوم بالتدريبات الرياضية مدة ساعة واحدة يومياً، والأخرى لا تقوم بهذه التدريبات، ثم قارن بين كتلة الجسم لكل من المجموعتين.

(41) اختر 200 طالب، نصفهم يمارس كرة القدم، وقارن فترة النوم بين المجموعتين.



(42) اختر 100 طالب جامعي، نصفهم لديه وظيفة بدوام جزئي، وقارن معدلاتهم التراكمية.

## مسائل مهارات التفكير العليا

(25) **اكتشف الخطأ:** طُلب إلى كل من سامي وهشام أن يصمم دراسة تجريبية غير متحيزة. هل وفق أي منهما في ذلك؟ فسّر إجابتك.

### سامي

• خذ مجموعة من 20 شخصاً بطريقة عشوائية.

• اطلب إلى نصفهم عشوائياً الالتزام بحمية تعتمد على الفواكه بالكامل لمدة 3 أسابيع.

• قارن بين أوزانهم بعد الأسابيع الثلاثة.

### هشام

• خذ 20 لاعباً لكرة القدم.

• اطلب إلى نصفهم عشوائياً أن يقفوا 500 قفزة إلى أعلى في اليوم.

• قارن عدد مرات القفز إلى أعلى التي تستطيع كل مجموعة تنفيذها بعد الأسابيع الثلاثة.

(26) **تحّد:** كيف تظهر الدراسة المسحية عبر الهاتف تحيزاً للينة؟

(27) **اكتب:** قارن من خلال ذكر أوجه الشبه وأوجه الاختلاف بين العينة العشوائية في اختيار الأفراد من المجتمع، وبين الاختيار العشوائي لأفراد المجموعة الضابطة في الدراسة التجريبية.

(28) **مسألة مفتوحة:** اذكر مثلاً من واقع الحياة لكل دراسة مما يأتي، وحدّد عدد أفراد العينة، وكيفية اختيارها.

(a) مسحية

(b) قائمة على الملاحظة

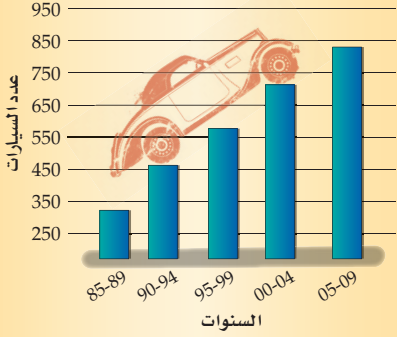
(c) تجريبية

(29) **تبرير:** كيف يحدث التحيز في الدراسة التجريبية؟ وكيف يؤثر في النتيجة؟ أعط مثلاً على ذلك.



# معمل الحاسبة البيانية : تقويم البيانات المنشورة Evaluating Published Data

عدد السيارات المباعة



يمكنك استعمال الحاسبة البيانية TI-nspire، مع تطبيق القوائم وجدول البيانات لتقويم البيانات التي يمكن الحصول عليها في الواقع.

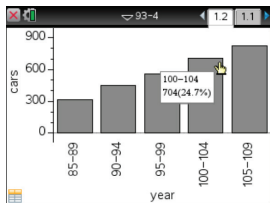
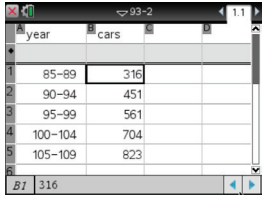
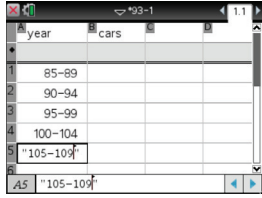
يبين الجدول أدناه عدد السيارات التي باعها معرض للسيارات خلال الفترة 1985-2009، وقد قام المعرض بتمثيل هذه البيانات بالأعمدة البيانية كما في الشكل المجاور؛ وعرضها في إحدى الصحف، وذلك لدعم المقولة بأن مبيعات المعرض تزداد بشكل كبير جداً. هل هذا صحيح؟

السنوات	عدد السيارات المباعة
2005-2009	823
2000-2004	704
1995-1999	561
1990-1994	451
1985-1989	316

## نشاط

تقويم التمثيل البياني للبيانات .

**الخطوة 1** أدخل البيانات في صفحة من تطبيق القوائم وجدول البيانات.



- اضغط (on) ومنها اختر .
- اكتب عنوان البيانات (years) في أعلى العمود (A) و (cars) في أعلى العمود (B).
- لإدخال فئات السنوات في كل خلية بالضغط على (ctrl) ثم اختيار " ، فمثلاً لإدخال الفئة الأولى من السنوات في الخلية A<sub>1</sub> اكتب "85-89" ثم اضغط (enter) ، وكرّر ذلك لبقية فئات السنوات.
- استعمل الأسهم لإظهار الخلية B<sub>1</sub>، ثم أدخل البيانات لكل فئة من السنوات.

**الخطوة 2** مثل البيانات التي تم إدخالها بالأعمدة.

- اضغط (menu) ثم اختر 1:3:5:3:البيانات ومنها 8:التمثيل البياني المختصر
- اختر years في القائمة X: year ، و cars في القائمة موجزة cars ، و صفحة جديدة من عرض في: صفحة جديدة لإظهار التمثيل البياني على صفحة جديدة، ثم اضغط (موافق) .
- لمشاهدة المعلومات عن أي عمود في التمثيل البياني، قم بالإشارة إلى ذلك العمود فتظهر معلوماته كما هو موضح في الشكل المجاور.

## حلّ النتائج

قارن تمثيلك البياني بتمثيل الصحيفة.

- (1) هل يعرض التمثيلان البيانات نفسها؟
- (2) أي التمثيلين يُظهر أن مبيعات المعرض تزداد بشكل أكبر؟ ولماذا؟
- (3) لماذا اختار المعرض أن يعرض بياناته بهذه الطريقة؟ هل هي مقبولة؟ ولماذا؟





7:20	6:59	7:29	6:49	7:03	6:51
6:48	6:52	6:50	7:01	6:49	6:57
6:53	7:07	6:54	6:56	7:09	7:02

### لماذا؟

شارك أمجد في 18 سباقًا جليًا للدراجات خلال العام الماضي، ويُمثل الجدول المجاور الزمن بالدقائق والثواني الذي استغرقه للوصول إلى خط النهاية في كل منها. أي من مقاييس النزعة المركزية يفضل أن يستعمله أمجد لوصف هذه الأزمنة؟ إن إيجاد أحد مقاييس النزعة المركزية لوصف البيانات وتلخيصها، والوصول إلى الاستنتاجات المتعلقة بالدراسة يُسمى **التحليل الإحصائي** لها.

**التحليل الإحصائي** البيانات الموجودة في الجدول أعلاه تشتمل على متغير؛ لذا تُسمى بيانات في متغير واحد. ولوصف مثل هذه البيانات، يُستعمل أحد مقاييس النزعة المركزية، الذي يشير إلى متوسط البيانات أو منتصفها (مركزها)، وأبرز هذه المقاييس هو المتوسط الحسابي والوسيط والمنوال. والآن: اختر مقياس لوصف البيانات يمكن استعمال الجدول أدناه:

### فيما سبق:

درست مقاييس النزعة المركزية ومقاييس التشتت. (مهارة سابقة)

### والآن:

- أختار مقياس النزعة المركزية الأنسب لتمثيل البيانات.
- أجد هامش خطأ المعاينة وأستعمله.
- أستعمل مقاييس التشتت لمقارنة مجموعات من البيانات.

### المفردات:

التحليل الإحصائي

statistical analysis

المتغير

variable

بيانات في متغير واحد

univariate data

مقاييس النزعة المركزية

measure of central tendency

المعلمة

parameter

الإحصائي

Statistic

هامش خطأ المعاينة

margin of sampling error

مقياس التشتت

measure of variation

التباين

variance

الانحراف المعياري

standard deviation

### مفهوم أساسي مقاييس النزعة المركزية

المقياس	التعريف	أكثر فائدة عندما
المتوسط الحسابي	مجموع القيم مقسومًا على عددها	لا توجد في البيانات قيم متطرفة.
الوسيط	العدد الذي يشغل موقع المنتصف عند ترتيب القيم تنازليًا أو تصاعديًا في مجموعة بيانات عددها فردي، أو هو المتوسط للعددين الموجودين في المنتصف، في مجموعة بيانات عددها زوجي ومرتببة ترتيبًا تصاعديًا أو تنازليًا.	توجد في البيانات قيم متطرفة، ولا توجد فجوات كبيرة في منتصف البيانات.
المنوال	القيمة الأكثر تكرارًا أو شيوعًا بين القيم.	تحتوي البيانات قيمًا متكررة.

### مقاييس النزعة المركزية

### مثال 1 من واقع الحياة

(a) **زمن السباق:** إشارة إلى البيانات في سباق الدراجات أعلاه، أي مقاييس النزعة المركزية يصف البيانات بصورة أفضل؟ ولماذا؟

17	15	17	16
15	16	16	12
18	18	18	14
1	48	16	40

(b) أي من مقاييس النزعة المركزية يناسب البيانات في الجدول المجاور؟ ولماذا؟

### تحقق من فهمك

(1) تمنح مؤسسة جائزة كبرى قيمتها 20000 ريال، و30 جائزة أخرى قيمة كل منها 500 ريال، أي مقاييس النزعة المركزية يلائم البيانات بصورة أفضل؟ ولماذا؟

يوجد نوعان من المقاييس يمكن استعمالهما لمجموعة من البيانات، هما **المعلمة** وهو مقياس يصف خاصية في المجتمع. و**الإحصائي** وهو مقياس يصف خاصية في العينة. فمتوسط دخل الفرد في المملكة هو مثال على المعلمة، أما دخل الفرد في مدينتك التي تسكنها، فهو مثال على الإحصائي. ويتم تحديد مجتمع الدراسة في ضوء الهدف من الدراسة، فإذا أراد باحث مثلًا تعرف مدى رضا معلّمي الرياضيات عن المناهج الجديدة في المملكة، فإن مجتمع الدراسة يكون جميع معلّمي الرياضيات الذين يدرّسون المناهج الجديدة في المملكة، ولصعوبة إجراء الدراسة على جميع المعلمين، فإنه يتم اختيار مجموعة صغيرة والتي تمثل عينة الدراسة.

### إرشادات للدراسة

#### القيمة المتطرفة

هي واحدة من البيانات أكبر أو أصغر كثيرًا من بقية البيانات.

وعند سحب عينة من مجتمع فهناك خطورة من وجود خطأ في المعاينة ناتج عن إجراء الدراسة على عينة من المجتمع وليس على المجتمع بأكمله يسمى هامش خطأ المعاينة. وكلما زاد حجم العينة قلَّ هامش خطأ المعاينة، ويُحدِّد هامش خطأ المعاينة الفترة التي تدل على مدى اختلاف استجابة العينة عن المجتمع، وهذا يعني أنه يصف المدى الذي تقع فيه نسبة المجتمع فيما إذا أُجريت الدراسة على المجتمع بأكمله.

### مفهوم أساسي هامش خطأ المعاينة

عند سحب عينة حجمها  $n$  من مجتمع كلي، فإنه يمكن تقريب هامش خطأ المعاينة بالقيمة  $\pm \frac{1}{\sqrt{n}}$

### مثال 2 هامش خطأ المعاينة

في دراسة مسحية عشوائية شملت 2148 شخصاً، أفاد 58% منهم أن كرة القدم هي لعبتهم المفضلة.  
 (a) ما هامش خطأ المعاينة؟

(b) ما الفترة الممكنة التي تتضمن نسبة المجتمع الذين أفادوا أن كرة القدم هي لعبتهم المفضلة؟

### تحقق من فهمك

في دراسة مسحية عشوائية شملت 3247 شخصاً، قال 41% منهم: إنهم مرتاحون للنهضة العلمية.  
 (2A) ما هامش خطأ المعاينة؟

(2B) ما الفترة الممكنة التي تتضمن نسبة أفراد المجتمع المرتاحين للنهضة العلمية؟

**مقاييس التشتت** تصف مقاييس التشتت مقدار تباعد البيانات أو تقاربها، ومن أشهر مقاييس التشتت **التباين**، والانحراف المعياري. ويصف هذان المقياسان مدى بعد مجموعة البيانات عن المتوسط أو قربها منه.

يُمثِّل الرمز  $\bar{x}$  المتوسط للعينة ويُقرأ « $\bar{x}$  بار»، ويمثِّل الرمز  $\mu$  المتوسط للمجتمع ويُقرأ «ميو». ويحسب كل من المتوسط للعينة والمتوسط للمجتمع بالطريقة ذاتها، أما طريقة حساب الانحراف المعياري لكل من بيانات العينة وبيانات المجتمع، فتختلف، وفيما يأتي توضيح لطريقة حساب كل من الانحراف المعياري للعينة (ويُرمز له بالرمز  $s$ ، والانحراف المعياري للمجتمع (ويُرمز له بالرمز  $\sigma$  ويُقرأ «سيجما»).

### إرشادات للدراسة

كتابة هامش خطأ المعاينة  
 نكتب هامش خطأ المعاينة  
 عادة على صورة نسبة مئوية.

### إرشادات للدراسة

مقاييس التشتت  
 درست سابقاً مقاييس التشتت  
 (المدى، الربيعات، المدى  
 الربيعي، الانحراف المتوسط).

### مفهوم أساسي قانون الانحراف المعياري

$$\sigma = \sqrt{\frac{\sum_{k=1}^n (x_k - \mu)^2}{n}}$$

حيث  $n$  عدد قيم المجتمع، و  $\mu$  المتوسط الحسابي للمجتمع و  $x_k$  قيم المجتمع.

$$s = \sqrt{\frac{\sum_{k=1}^n (x_k - \bar{x})^2}{n-1}}$$

حيث  $n$  عدد قيم العينة و  $\bar{x}$  المتوسط الحسابي للعينة و  $x_k$  قيم العينة.

## الانحراف المعياري

## مثال 3 من واقع الحياة

درجات اختبار: حصل طلاب المعلم صالح في اختبارين متتاليين على المتوسط نفسه في اختبار الرياضيات وهو 75. إذا علمت أن درجات الاختبارين كما يأتي:

الاختبار B	الاختبار A
100, 100, 90, 10, 100, 95, 10, 95, 100, 100, 85, 15, 95, 20, 95, 90, 100, 100, 90, 10, 100, 100, 25	85, 80, 75, 75, 70, 75, 75, 65, 75, 75, 75, 80, 75, 75, 70, 80, 70, 75, 75, 75, 75, 75, 75

(a) بين ما إذا كانت هذه البيانات تمثل عينة أم مجتمعًا، ثم أوجد الانحراف المعياري لدرجات الاختبار A.

### الخطوة 1

### الخطوة 2

(b) استعمل الحاسبة البيانية؛ لإيجاد الانحراف المعياري للاختبار B.

(c) قارن الانحراف المعياري في كلا الاختبارين. وماذا تستنتج؟

31	33	33	34	28
31	36	34	29	33
36	28	32	29	30
28	28	29	33	29
29	27	28	31	26

(3A) احسب المتوسط والانحراف المعياري للمجتمع للبيانات المحددة في الجدول المجاور.

(3B) ضع 70 مكان 30 في الجدول المجاور. ماذا تتوقع أن يحدث لكلٍّ من المتوسط والانحراف المعياري؟ أعد الحسابات للتحقق.

(3C) اختير (5) طلاب عشوائيًا من فصل دراسي، وقيست أطوالهم فكانت: 175 سم، 170 سم، 168 سم،

167 سم، 170 سم. بين ما إذا كانت هذه البيانات تمثل عينة أم مجتمعًا، ثم أوجد الانحراف المعياري لأطوال هؤلاء الطلاب.



### الربط مع الحياة

يستعمل المعلمون الأنواع المختلفة من الأسئلة الموضوعية والمقالية لتقدير درجات طلابهم.

### إرشادات للدراسة

#### المتوسط للمجتمع

عندما يكون المتوسط للمجتمع  $\mu$  معلومًا، يمكنه أن يحل مكان المتوسط للعينة  $\bar{x}$ .

### إرشادات للدراسة

#### المتوسط والانحراف المعياري للعينة

إذا قارن المعلم صالح درجات طلابه بدرجات طلاب آخرين في اختبار وطني مثلاً، فإن درجات طلابه تُعدُّ عينةً من درجات كل الطلاب الذين تقدموا للاختبار، وعليه أن يحسب  $\bar{x}$ ،  $s$  في هذه الحالة.

### تحقق من فهمك



**(9) تمارين رياضية:** في دراسة مسحية شملت 4213 شخصاً اختيروا بطريقة عشوائية، أفاد 78% منهم أنهم يمارسون الرياضة لمدة ساعة أسبوعياً على الأقل.

(a) ما هامش خطأ المعاينة؟

(b) ما الفترة الممكنة التي تحتوي على نسبة المجتمع الذين يمارسون الرياضة ساعة واحدة على الأقل أسبوعياً؟

**(10) قيادة:** تُحدّد عادة السرعات القصوى على الطرقات تفادياً للحوادث.

(a) فيما يأتي السرعات القصوى (mi/h) للطرق جميعها في إحدى الدول بين مدنها وقراها. بين ما إذا كانت هذه البيانات تمثّل عينة أم مجتمعاً، ثم أوجد الانحراف المعياري للسرعات في الجدول أدناه. (مثال 3)

السرعات القصوى للطرق جميعها (mi/h)								
70	70	65	65	75	70	75	65	70

(b) إذا كان الانحراف المعياري للسرعات القصوى (mi/h) للطرق جميعها في دولة أخرى (24). قارن الانحراف المعياري للسرعات في كلا الدولتين. وماذا تستنتج؟

**(11) تدريب:** في أثناء التمرين سجّل سلطان الأزمنة التي ركض فيها مسافة 40 m. بين ما إذا كانت هذه البيانات تمثّل عينة أم مجتمعاً، ثم أوجد الانحراف المعياري للبيانات في الجدول أدناه.

**(12) اختبارات:** فيما يأتي درجات صفّ مكوّن من 10 طلاب في اختبار من 25 درجة.

درجات 10 طلاب في اختبار من 25 درجة									
20	17	21	22	20	21	20	21	21	23

(a) قارن بين المتوسط والوسيط للدرجات.

(b) أوجد الانحراف المعياري للبيانات، وقربه إلى أقرب جزء من مئة.

(c) على افتراض أن الدرجة 20 كانت خطأً، وتم تعديلها إلى 25، كيف يتأثر كلٌّ من المتوسط والوسيط بهذا التغيير؟

أي مقياس النزعة المركزية يصف بصورة أفضل البيانات الآتية؟ ولماذا؟ (مثال 1)

(1) 833, 796, 781, 776, 758

(2) 37.2, 36.8, 40.4, 19.2

(3) 65, 70, 17, 60, 55, 65, 63, 58, 60, 69

(4) 53, 61, 46, 59, 61, 55, 49

(5) **تغذية:** يوضح الجدول أدناه عدد السرعات لكل طبق خضار.

الخضار	السرعات	الخضار	السرعات	الخضار	السرعات
زهرة	10	بركلي	25	بادنجان	14
بندورة	17	ملفوف	17	فاصوليا	30
حبوب	66	جزر	28	فلفل	20
كوسا	17	سبانخ	9	خس	9

(6) **طقس:** يبيّن الجدول أدناه، درجات الحرارة في أثناء النهار ولمدة أسبوع بالدرجات الفهرنهايتية:

اليوم	درجة الحرارة
السبت	64°F
الأحد	73°F
الاثنين	69°F
الثلاثاء	70°F
الأربعاء	71°F
الخميس	75°F
الجمعة	74°F

(7) **ألعاب أولمبية:** في دراسة مسحية عشوائية شملت 5824 شخصاً، أفاد 29% منهم أنهم سيشاركون الألعاب الأولمبية على التلفاز. (مثال 2)

(a) ما هامش خطأ المعاينة؟

(b) ما الفترة الممكنة التي تتضمن نسبة المجتمع الذين سوف يشاهدون الألعاب الأولمبية على التلفاز؟

(8) **رياضة:** في دراسة مسحية عشوائية شارك فيها 5669 شخصاً، وجد أن 31% منهم يشاهدون مباراة واحدة على الأقل في كرة القدم شهرياً.

(a) ما هامش خطأ المعاينة؟

(b) ما الفترة الممكنة التي تتضمن نسبة المجتمع الذين يشاهدون مباراة واحدة على الأقل في كرة القدم شهرياً؟





أوجد الضرب الداخلي للمتجهين  $u, v$  في كل مما يأتي، ثم حدّد ما إذا كانا متعامدين أو لا. (مهارة سابقة)

$$u = \langle 1, 3, 5 \rangle, v = \langle -8, 1, 1 \rangle \quad (21)$$

$$u = \langle -2, 4, 6 \rangle, v = \langle 2, 3, 4 \rangle \quad (22)$$

$$u = \langle 3, 4, 5 \rangle, v = \langle -1, -3, -5 \rangle \quad (23)$$

$$u = 8i - 8j + 3k, v = 2i + 4j + 6k \quad (24)$$

أوجد زوجين مختلفين كل منهما يمثل إحداثيين قطبيين لكل نقطة معطاة بالإحداثيات الديكارتية في كل مما يأتي: (الدرس 6-2)

$$(6, 11) \quad (25)$$

$$(-9, 2) \quad (26)$$

$$(3, 1) \quad (27)$$

### تدريب على اختبار

(28) **إحصاء:** في مجموعة من تسعة أعداد مختلفة، أي مما يأتي لا يؤثر في الوسيط؟

A مضاعفة كل عدد B زيادة كل عدد بمقدار 10

C زيادة القيمة الصغرى فقط D زيادة القيمة الكبرى فقط

(29) **درجات اختبار:** كانت درجات 5 طلاب اختيروا عشوائياً في فصل دراسي كما يلي 70, 50, 30, 45, 55. بيّن ما إذا كانت هذه البيانات تمثّل عينة أم مجتمعاً، ثم احسب الانحراف المعياري لدرجاتهم إلى أقرب عدد صحيح.

15 B 40 A

13 D 14 C

(13) **مدارس:** يوضّح الجدول أدناه عدد الطلاب لكل معلم في مدارس إحدى المناطق التعليمية:

عدد الطلاب لكل معلم				
27	22	26	26	25
24	25	28	22	24
24	26	24	22	20
27	23	22	29	23
24	24	26	29	28
28	29	25	25	23

(a) ما مقياس النزعة المركزية الأنسب لهذه البيانات؟ ولماذا؟

(b) بيّن ما إذا كانت هذه البيانات تمثّل عينة أم مجتمعاً، ثم أوجد الانحراف المعياري للبيانات، علماً بأن المتوسط الحسابي لها يساوي 25، وقربه إلى أقرب جزء من مئة.

### مسائل مهارات التفكير العليا

(14) **مسألة مفتوحة:** اجمع بيانات في متغيّر واحد، ثم صف مقياس النزعة المركزية ومقاييس التشتت المناسبة لهذه البيانات.

(15) **تحذّر:** إذا أُيّد 67% من المستهدفين موضوع دراسة مسحية، وكانت الفترة الممكنة التي تتضمن نسبة أفراد المجتمع المؤيدة هي 64.8% - 69.2%، فكم شخصاً تناولت الدراسة المسحية رأيهم؟

(16) **تبرير:** حذف قيمة متطرفة كبيرة من مجموعة بيانات، كيف يؤثر ذلك في المتوسط والانحراف المعياري لمجموعة البيانات؟ وضّح ذلك.

(17) **تبرير:** إذا زيدت كل قيمة في مجموعة بيانات بمقدار 10، فكيف يؤثر ذلك في المتوسط والوسيط والانحراف المعياري؟ فسّر إجابتك.

(18) **اكتب:** قارن بذكر أوجه الشبه وأوجه الاختلاف بين المتوسط والوسيط لمجموعة بيانات في متغيّر واحد.

### مراجعة تراكمية

حدّد إذا كانت كل دراسة مسحية مما يأتي تتبنى عينة متحيزة أو غير متحيزة، وفسّر إجابتك. (الدرس 7-1)

(19) قام باحث بإرسال استبانة إلى كل شخص تنتهي بطاقة الهوية الخاصة به برقم معين.

(20) إيجاد أطوال أعضاء فريق كرة السلة لتحديد المتوسط الحسابي لأطوال طلاب المدرسة.





### لماذا؟

يختبر هيثم دواءً يقى من بعض الأمراض . وتوجد مجموعتان من الأشخاص إحداهما تجريبية تم إعطاء الدواء الحقيقي لأفرادها، بينما تم إعطاء دواء شكلي (غير فعال) للمجموعة الأخرى (المجموعة الضابطة). وبعد الحصول على النتائج، يريد هيثم أن يجد احتمال بقاء المستهدفين أصحاء نتيجة الدواء. وهذا المثال يُفسّر مفهوم الاحتمال المشروط.

**الاحتمال المشروط** يُسمّى احتمال وقوع الحادثة  $B$  بشرط وقوع الحادثة  $A$ ، احتمالاً مشروطاً. ويرمز له بالرمز  $P(B | A)$ ، ويقرأ احتمال وقوع الحادثة  $B$  بشرط وقوع الحادثة  $A$ .

# 7-3

### فيما سبق:

درست مفهوم الاحتمال وكيفية حسابه. (مهارة سابقة)

### والآن:

- أجد احتمال وقوع حادثة إذا علم أن حادثة أخرى قد وقعت.
- أستعمل الجداول التوافقية لإيجاد احتمالات مشروطة.

### المفردات:

- الاحتمال المشروط  
conditional probability
- الجدول التوافقي  
contingency table
- التكرار النسبي  
relative frequency

### مفهوم أساسي الاحتمال المشروط

إذا كانت  $A, B$  حادثتين غير مستقلتين، فإن الاحتمال المشروط لوقوع الحادثة  $B$ ، إذا علم أن الحادثة  $A$  قد وقعت يعرف على النحو:

$$P(B | A) = \frac{P(A \text{ و } B)}{P(A)}, P(A) \neq 0$$

### مثال 1 الاحتمال المشروط

ألقت عبير مكعب أرقام مرة واحدة. ما احتمال ظهور العدد 3، علمًا بأن العدد الظاهر فردي؟

### تحقق من فهمك

1) يحتوي كيس على 52 بطاقة مقسمة إلى أربع مجموعات لكل منها لون من الألوان الآتية: الأحمر والأخضر والأزرق والأصفر، ورقمت بطاقات كل لون بالأعداد من 1 إلى 13. إذا سحبت نوال بطاقة، فيما احتمال أن تحمل هذه البطاقة العدد 13 علمًا بأن ما سحبت كان العدد 11 أو 12 أو 13؟

**الجداول التوافقية** الجداول التوافقية هي جداول تكرارية ذات بعدين، يتم فيها تسجيل بيانات ضمن خلايا، حيث إن كل خلية من خلايا الجدول تُمثل تكرارًا يسمى **تكرارًا نسبيًا**، إذ يكون منسوبًا إلى مجموع التكرارات في الجدول، أو منسوبًا إلى مجموع التكرارات في الصف الذي تقع فيه الخلية، أو منسوبًا إلى مجموع التكرارات في العمود الذي تقع فيه الخلية، ويمكن استعمال الجداول التوافقية في إيجاد الاحتمال المشروط.

### الجداول التوافقية

### مثال 2 من واقع الحياة

عدد الأشخاص		الحالة
لا يمارس المشي (Nw)	يمارس المشي (w)	
1200	1600	مريض (S)
400	800	معافي (H)

**مشي:** أوجد احتمال أن يكون شخص اختير عشوائيًا معافي، علمًا بأنه يمارس المشي.

### إرشادات للدراسة

#### حل مختصر

يمكن اختصار الحل في المثال 2 باستعمال الجداول التوافقية وفضاء العينة المختصر على النحو الآتي: احتمال أن يكون الشخص معافي بشرط أنه يمارس المشي هو

$$P(H | W) = \frac{800}{2400} = \frac{1}{3}$$

### تحقق من فهمك

(2) أوجد احتمال أن يكون شخص اختير عشوائيًا معافي، علمًا بأنه لا يمارس المشي.

يمكن استعمال الجداول التوافقية لتمثيل أي عدد من الحالات الممكنة.

### مثال 3 على اختبار

يوضح الجدول أدناه عدد الطلاب الجامعيين الذين يمارسون الرياضة بشكل منتظم، إذا اختير طالب عشوائيًا، فأوجد احتمال أن يكون الطالب من ضمن المنتخب الجامعي، علمًا بأنه في السنة الثالثة.

الرياضيون الجامعيون	سنة أولى	سنة ثانية	سنة ثالثة	سنة رابعة
ضمن المنتخب الجامعي (K)	7	22	36	51
ليس ضمن المنتخب الجامعي (S)	269	262	276	257

- A 11.5% تقريبًا  
B 16.6% تقريبًا  
C 13.0% تقريبًا  
D 19.8% تقريبًا

### إرشادات للدراسة

#### كتابة الاحتمال

تذكر أن الاحتمال يُعبّر عنه بكسر اعتيادي أو بكسر عشري أو بنسبة مئوية.

### تحقق من فهمك

(3) أوجد احتمال أن يكون الطالب من ضمن المنتخب الجامعي، علمًا بأنه في السنة الأولى.

A 2.6% تقريبًا B 2.5% تقريبًا C 8.4% تقريبًا D 7.7% تقريبًا

وزارة التعليم

Ministry of Education

2023 - 1445

- (9) **اختيار من متعدد:** يُبين الجدول أدناه أعداد الطلاب الذين حضروا مباراة كرة قدم، والذين تغيبوا عنها من السنوات الجامعية الأولى والثانية والثالثة والرابعة. إذا اختير أحد الطلاب عشوائياً، فأوجد احتمال أن يكون قد حضر المباراة علمًا بأنه من السنة الثالثة. (مثال 3)

أولى	ثانية	ثالثة	رابعة	
48	90	224	254	الحضور
182	141	36	8	الغياب

- A 48.6% تقريباً  
B 77.6% تقريباً  
C 86.2% تقريباً  
D 91.6% تقريباً

- (10) **اختيار من متعدد:** يقارن عادل وإبراهيم وسعود مجموعة أمثال شعبية جمعوها. وتم تمثيل ذلك وفق الجدول أدناه. إذا اختير مثل شعبي مما جمعه عشوائياً، فأوجد احتمال أن يكون المثل اجتماعياً، علمًا بأنه ليس مما جمعه عادل.

عادل	إبراهيم	سعود	فكاهي	اجتماعي	خليط
521	119	244	316	44	302
182	4	182	4	182	182

- A 35.9% تقريباً  
B 24.8% تقريباً  
C 17.2% تقريباً  
D 15% تقريباً

إذا أُلقيت أربع قطع نقد متميزة مرةً واحدة، فأجب عمّا يأتي:

- (11) ما احتمال ظهور شعارين، علمًا بوجود كتابة على قطعة واحدة على الأقل؟
- (12) ما احتمال ظهور 3 كتابات علمًا بوجود شعار واحد على الأقل؟
- (13) ما احتمال عدم ظهور أي شعار علمًا بأنه توجد كتابة واحدة على الأقل؟
- (14) ما احتمال عدم ظهور أي كتابة علمًا بأنه يوجد 3 شعارات على الأقل؟



- يحتوي كيس على 8 كرات زرقاء، و 6 كرات حمراء، و 10 كرات صفراء، و 6 كرات بيضاء، و 5 كرات خضراء. إذا سُحبت كرة واحدة عشوائياً، فأوجد الاحتمال في كل حالة مما يأتي: (مثال 1)
- (1) أن تكون الكرة خضراء، إذا عُلِم أنها ليست زرقاء.
- (2) أن تكون حمراء، إذا عُلِم أنها ليست خضراء.
- (3) أن تكون صفراء، إذا عُلِم أنها ليست حمراء وليست زرقاء.
- (4) أن تكون خضراء أو بيضاء، إذا عُلِم أنها ليست حمراء.
- (5) أن تكون زرقاء، إذا عُلِم أنها بيضاء.
- (6) **قطاعات دائرية:** رَقِّمَت قطاعات دائرية متطابقة في قرص من 1 إلى 8، إذا أُدير مؤشر القرص، فما احتمال أن يستقر المؤشر عند العدد 8 إذا عُلِم أنه استقر عند عدد زوجي؟
- (7) **فحص القيادة:** يوضِّح الجدول أدناه أداء مجموعة من الأشخاص في فحص القيادة، علمًا بأن بعضهم أخذ حصصًا تدريبية تحضيرياً للفحص، والبعض الآخر لم يأخذ. إذا اختير أحد الأشخاص عشوائياً، فأوجد احتمال كل مما يأتي: (مثال 2)

أخذ حصصاً	لم يأخذ حصصاً	
64	48	ناجح
18	32	راسب

(a) الشخص ناجح علمًا بأنه أخذ حصصاً.

(b) الشخص راسب علمًا بأنه لم يأخذ حصصاً.

(c) لم يأخذ حصصاً، علمًا بأنه ناجح.

- (8) **دروس التقوية:** سجَّلت مدرسة أعداد طلاب الصفين الثاني المتوسط والثالث المتوسط المشتركين وغير المشتركين في دروس التقوية. إذا اختير أحد الطلاب عشوائياً، فأوجد احتمال كل مما يأتي:

مشارك	غير مشارك	
156	242	الثاني المتوسط
312	108	الثالث المتوسط

(a) الطالب مشارك في التقوية علمًا بأنه في الصف الثاني المتوسط.

(b) الطالب غير مشارك في التقوية علمًا بأنه في الصف الثالث المتوسط.

(c) الطالب في الصف الثاني المتوسط علمًا بأنه غير مشارك.

## مراجعة تراكمية

(22) استعمل مسطرة ومنقلة، لرسم متجه يمثل  $v = 20 \text{ km/h}$ ، باتجاه  $60^\circ$  مع الأفقي. (مهارة سابقة)

(23) **ثقافة مالية:** يوضح الجدول أدناه دخل 12 شركة في الأسبوع الأول من شهر محرم عام 1439هـ بالريال. (الدرس 7-2)

الدخل لكل شركة بالريال		
25778	25698	25200
23858	25580	27828
29173	22861	32903
27870	27124	23995

(a) أوجد كلاً من المتوسط الحسابي والوسيط.

(b) بين ما إذا كانت هذه البيانات تمثل عينة أم مجتمعاً، ثم أوجد الانحراف المعياري للبيانات وقربه إلى أقرب جزء من مئة.

(c) لنفترض أن تقريراً عن الشركات المذكورة ذكر أن القيمة 22861 ريالاً كانت خطأً، وهي في الحقيقة 24861. فكيف يتأثر كل من المتوسط والوسيط بهذا التعديل؟

حدّد ما إذا كانت كل دراسة مسحية مما يأتي، تبني عينة متحيزة، أو غير متحيزة. وفسّر إجابتك. (الدرس 7-1)

(24) دراسة مسحية تتناول موظفي مطعم، لتقرر أكثر الأطباق شعبية.

(25) دراسة مسحية تتناول رأي مرتادي مكاتب البريد، لمعرفة أكثر ألوان السيارات شيوعاً.

## تدريب على اختبار

(26) إذا كانت  $A, B$  حادثتين في فضاء العينة لتجربة عشوائية ما، بحيث كان  $P(A \cup B) = 0.4$ ,  $P(A) = 0.2$ ,  $P(B) = 0.5$ ، فما قيمة  $P(A | B)$ ؟

- A 0.5  
B 0.6  
C 0.7  
D 0.8

(27) سحبت كرة بشكل عشوائي من كيس يحتوي على كرتين حمراوين و3 زرقاء دون إرجاع وكانت زرقاء. ما احتمال سحب كرة زرقاء ثانية؟

(15) **بطاقات:** يحتوي صندوق على 52 بطاقة مقسّمة إلى أربع مجموعات لكل منها لون من الألوان الآتية: الأحمر، والأسود، والأخضر، والأزرق، ورُقمت بطاقات كل لون من 1 إلى 13. إذا سُحبت بطاقة واحدة عشوائياً، فما احتمال أن تحمل البطاقة الرقم 9 علماً بأنها حمراء اللون؟

(16) يبين الجدول أدناه أعداد الألعاب الإلكترونية الموجودة لدى شخص. إذا اختيرت لعبة عشوائياً فأوجد كلا من الاحتمالين الآتيين:

اللعبة	العدد
كرة قدم	5
كرة سلة	2
مصارعة	6
سباق سيارات	4
أخرى	3

(a) أن تكون من ألعاب المصارعة علماً بأنها ليست من ألعاب كرة القدم.

(b) أن تكون من ألعاب سباق السيارات علماً بأنها ليست من ألعاب كرة السلة وليست من ألعاب المصارعة.

## مسائل مهارات التفكير العليا

(17) **تحّد:** ألقي مكعب مرقم من 1 إلى 6 خمس مرات متتالية. ما احتمال ظهور الرقم 2 في الرميات الخمس علماً بأن الرقم 2 ظهر في الرميات الثلاث الأولى؟

(18) **اكتب:** فسّر الاختلاف بين الاحتمال المشروط لحوادث غير مستقلة، والاحتمال المشروط لحوادث مستقلة. أعط مثالاً لكل نوع.

(19) **تبرير:** إذا مُثّل احتمال حادثة مركبة من حادثتين بالرسم الشجري (شجرة الاحتمال)، فأی فروع الرسم الشجري يمثل الاحتمال المشروط. أعط مثالاً لموقف يمكن تمثيله بشجرة احتمال ثم مثله.

(20) **تبرير:** إذا رُميت قطعة نقد بشكل حر 21 مرة متتالية، فما احتمال أن تظهر الصورة في الرمية 21، إذا علمت أن الصورة ظهرت في الرميات العشرين الأولى؟ وضح تبريرك.

(21) **مسألة مفتوحة:** كوّن جدولاً توافقياً، واحسب احتمالاً مشروطاً يرتبط بالجدول.

- (8) يحاول باحث أن يحدد أثر إضاءة نوع جديد من المصابيح الكهربائية على أزهار للزينة المنزلية، حيث قام بتعريض مجموعة من الأزهار لإضاءة المصابيح الجديدة، ومجموعة أخرى لإضاءة المصابيح العادية. ويبيّن الجدول أدناه أعداد الأزهار التي عاشت أو ماتت في المجموعتين.

إضاءة عادية	إضاءة جديدة	
17	24	عاشت
13	6	ماتت

إذا اختيرت زهرة منها عشوائياً، فما احتمال: (الدرس 3-7)

- (a) أن تكون من الأزهار التي تعرضت لإضاءة المصابيح الجديدة علماً بأنها عاشت؟
- (b) أن تكون من الأزهار التي عاشت علماً بأنها تعرضت لإضاءة المصابيح العادية؟

إذا لقي مكعب مرقم من 1 إلى 6 مرة واحدة، فما احتمال كل مما يأتي: (الدرس 3-7)

(9) ظهور عدد فردي علماً بأن العدد الظاهر أكبر من 3.

(10) ظهور العدد 4 علماً بأن العدد الظاهر كان زوجياً.

(11) اختيار من متعدد: في القرص ذي المؤشر الدوار المقسم إلى (16) قطاعاً متطابقاً، ومرقمة بالأعداد 1-16، ما احتمال استقرار المؤشر على عدد فردي، إذا علم أنه استقر على عدد أكبر من 3؟ (الدرس 3-7)

A  $\frac{13}{16}$

B  $\frac{8}{16}$

C  $\frac{8}{13}$

D  $\frac{6}{13}$



حدد ما إذا كانت كل دراسة مسحية فيما يأتي تبني عينة متحيزة أو غير متحيزة، وفسر إجابتك. (الدرس 7-1)

- (1) يتم اختيار كل ثاني شخص يخرج من مجمع تجاري يبيع بالجملة؛ لمعرفة عدد الأطفال في الأسر في تلك المدينة.
- (2) يتم اختيار كل عاشر موظف يخرج من شركة؛ لمعرفة رأي الموظفين في عملهم.
- (3) سؤال كل خامس طالب يدخل المدرسة عن مواصفات المعلم المثالي.

(4) اختيار من متعدد: حدّد أيّاً من العبارات الآتية توضح السببية: (الدرس 7-1)

A إذا تدرّبت كل يوم، فستصبح لاعباً محترفاً في كرة السلة.

B إذا قرأت كتابك المقرر، فستنجح في الاختبار.

C إذا تقدّمت لعشر وظائف مختلفة، فستلقى عرضاً من واحدة على الأقل.

D إذا وقفت بالخارج تحت المطر من دون مظلة، فستبتل. حدد ما إذا كانت كل من الحالتين الآتيتين تمثل دراسة تجريبية أو دراسة قائمة على الملاحظة. وإذا كانت دراسة تجريبية، فحدد المجموعة التجريبية والمجموعة الضابطة. (الدرس 7-1)

(5) اختر 250 طالباً في المرحلة المتوسطة نصفهم من المدارس الأهلية، وقارن بين عاداتهم الدراسية.

(6) خصّص لنصف الموظفين الذين اختيروا بطريقة عشوائية ساعة لتناول الغداء، وقارن اتجاهاتهم نحو العمل مع بقية زملائهم.

(7) أي مقياس النزعة المركزية تصف بصورة أفضل البيانات الآتية؟ ولماذا؟ (الدرس 7-2)

عدد سنوات الخبرة						
2	1	4	2	3	2	2
1	2	4	3	1	3	2
4	1	3	2	3	2	3
0	1	1	1	4	3	2
3	2	2	2	1	2	1





## لماذا؟

افترض أن شركة لديها 4 شواغر، وتشرط لتعيين الموظفين لديها اجتيازهم لمقابلة شخصية. إذا تقدم للشركة 8 أشخاص من المنطقة A، و 10 أشخاص من المنطقة B، وتمت مقابلة المتقدمين، واختير 4 منهم بشكل عشوائي، فما احتمال أن يفوز بالوظائف 3 أشخاص من المنطقة A وشخص واحد من المنطقة B؟

## فيما سبق:

درست إيجاد احتمال وقوع حادثة إذا علم أن حادثة أخرى قد وقعت. (الدرس 3-7)

## والآن:

- أجد الاحتمالات باستعمال التباديل والتوافيق.
- أجد الاحتمالات باستعمال المتغيرات العشوائية.
- أمثل بيانياً التوزيعات الاحتمالية وأستعملها.

**الاحتمال** تسمى النسبة التي تقيس فرصة وقوع حادثة معينة احتمالاً. ووقوع الشيء المرغوب فيه يُسمى **نجاحاً**، وعدم وقوعه يُسمى **فشلاً**. ومجموعة النواتج الممكنة تُسمى فضاء العينة. وكلما اقترب احتمال وقوع حادثة من 1، كانت فرصة أو إمكانية وقوعها أكبر.

## المفردات:

النجاح

success

الفشل

failure

المتغير العشوائي

random variable

المتغير العشوائي المنفصل

discrete random variable

التوزيع الاحتمالي

probability distribution

التوزيع الاحتمالي المنفصل

discrete probability

distribution

الاحتمال النظري

theoretical probability

الاحتمال التجريبي

experimental probability

القيمة المتوقعة

expected value

## احتمال النجاح والفشل

## مفهوم أساسي

إذا كان عدد مرات نجاح وقوع حادثة S من المرات، وعدد مرات فشل وقوع الحادثة نفسها f من المرات، فإن احتمال النجاح يُكتب على النحو  $P(S)$ ، كما يُكتب احتمال الفشل على النحو  $P(F)$ . ويُعطى كل من احتمال النجاح واحتمال الفشل بالصيغتين الآتيتين:

$$P(S) = \frac{s}{s+f}, \quad P(F) = \frac{f}{s+f}$$

لاحظ أن الصيغة:  $P(S) = \frac{s}{s+f}$  لا تختلف في مضمونها عن الصيغة:  $\frac{\text{عدد النواتج في الحادثة}}{\text{عدد النواتج الممكنة}}$  (الحادثة) P

## الاحتمال باستعمال التوافيق

## مثال 1

رُشحت مدرسة 12 طالباً من الصف الثاني الثانوي، و 16 طالباً من الصف الأول الثانوي للتنافس على 6 جوائز؛ نظراً لتفوقهم الدراسي. إذا تمت مقابلة المرشحين، واختير 6 منهم بشكل عشوائي، فما احتمال أن يفوز بالجوائز 3 طلاب من الصف الأول الثانوي و 3 طلاب من الصف الثاني الثانوي؟

## الخطوة 1

## الخطوة 2

## الخطوة 3

## تنبيه!

احتمال النجاح والفشل

لاحظ أن الحرف الصغير s

يدل على عدد مرات النجاح

في وقوع حادثة، بينما الحرف

الكبير S يدل على حادثة

النجاح، وكذلك الأمر بالنسبة

للحرفين f و F.

## تحقق من فهمك

1) في المثال 1 إذا كان عدد الذين رُشِّحوا من الصف الثاني الثانوي 3، ومن الصف الأول الثانوي 11، وكان عدد الجوائز 4، واختير 4 طلاب من الذين رُشِّحوا بطريقة عشوائية، فما احتمال أن يفوز طالبان من الصف الثاني وطالبان من الصف الأول؟

## الاحتمال باستعمال التباديل

## مثال 2 من واقع الحياة

لدى صالح 6 أصدقاء تبدأ أسماؤهم بالأحرف A, B, C, D, E, F، ويتوقع من كل منهم اتصالاً هاتفياً للاتفاق على موعد رحلة ينون القيام بها. ما احتمال أن يتصل A أولاً ثم B ثانياً، ويتصل كل من D, E, F أخيراً.

### الخطوة 1

### الخطوة 2

### الخطوة 3

## مراجعة المفردات

### التباديل والتوافيق

عند اختيار مجموعة من الأشخاص أو الأشياء بترتيب معين، فإن الاختيار يُسمى تبديلاً، وعندما لا نهتم بعملية ترتيب الأشخاص أو الأشياء، فإن الاختيار يُسمى توفيقاً.

## تحقق من فهمك

2) سباق: اشترك صلاح، وعبد الله، وسليم في سباق 400 m مع خمسة رياضيين آخرين. ما احتمال أن ينهي هؤلاء الثلاثة السباق في المراكز الثلاثة الأولى؟


**المتغير العشوائي والتوزيع الاحتمالي** يُسمى المتغير الذي يأخذ مجموعة قيم لها احتمالات معلومة متغيراً عشوائياً. والمتغير العشوائي الذي له عدد محدود من القيم يُسمى متغيراً عشوائياً منفصلاً.

**التوزيع الاحتمالي** هو دالة تربط بين كل قيمة من قيم المتغير العشوائي، مع احتمال وقوعها، ويعبر عنه بجدول أو معادلة، أو تمثيل بياني. ويجب أن يحقق التوزيع الاحتمالي الشرطين الآتيين:

- احتمال كل قيمة من قيم  $X$  محصور بين 0 و 1، أي أن  $0 \leq P(X) \leq 1$ .
- مجموع كل احتمالات قيم  $X$  يساوي 1، أي أن  $\sum P(X) = 1$ .

والتوزيع الاحتمالي المنفصل هو توزيع احتمالي متغيره العشوائي منفصل.

فعند رمي قطعتي نقد متميزتين مرة واحدة، فإن فضاء العينة هو  $\{TT, TL, LT, LL\}$ ، حيث يُمثل  $L$  الوجه الذي يحمل الشعار، و  $T$  الوجه الذي يحمل الكتابة، إذا كان  $X$  متغيراً عشوائياً يدل على عدد مرات ظهور الشعار، فإن  $X$  يأخذ القيم 0, 1, 2. ويمكنك حساب الاحتمال النظري لعدم الحصول على شعار، أو الحصول على شعار واحد، أو الحصول على شعارين، ثم تكوين جدول يمثل التوزيع الاحتمالي، كما يمكنك تمثيله بيانياً كما يأتي:

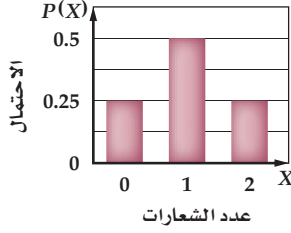


## إرشادات للدراسة

### البيانات المنفصلة والبيانات المتصلة

تكون البيانات منفصلة إذا أمكن عدّ البيانات مثل عدد الأرناب في مزرعة. وتكون البيانات متصلة إذا كانت تأخذ أي قيمة في فترة من الأعداد الحقيقية، فمثلاً أطوال جميع أفراد العينة تمثل بيانات متصلة.

### عدد الشعارات واحتمالاتها



$$P(0) = \frac{1}{4}, \quad P(1) = \frac{1}{2}, \quad P(2) = \frac{1}{4}$$

يُبيّن الجدول أدناه والتمثيل بالأعمدة المجاور التوزيع الاحتمالي للمتغير  $X$ .

عدد الشعارات $X$	0	1	2
الاحتمال $P(X)$	$\frac{1}{4}$	$\frac{1}{2}$	$\frac{1}{4}$

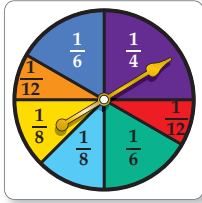
### قراءة الرياضيات

احتمالات المتغيرات العشوائية  
يقراً الرمز  $P(1)$  احتمال أن  
يكون المتغير العشوائي  $X$   
مساوياً لـ 1.

### التوزيع الاحتمالي المنفصل

### مثال 3

يوضّح القرص ذو المؤشر الدوّار توزيعاً احتمالياً، حيث يمكن أن يتوقّف المؤشر على أيّ من القطاعات الملونة، وقد كتب على كل قطاع احتمال ظهوره (لاحظ أن مجموع الاحتمالات يساوي 1).



### إرشادات للدراسة

البيانات الوصفية  
يمكننا أن نتعامل مع البيانات  
الوصفية بوصفها متغيرات  
عشوائية منفصلة.

### تحقق من فهمك

يوضح الجدول أدناه توزيعاً احتمالياً، حيث أُلقي مكعبان مرقمان من 1 إلى 6 مرة واحدة، وسُجّل مجموع العددين الظاهرين على الوجهين العلويين واحتمال كلّ منها.

المجموع	2	3	4	5	6	7	8	9	10	11	12
الاحتمال	$\frac{1}{36}$	$\frac{1}{18}$	$\frac{1}{12}$	$\frac{1}{9}$	$\frac{5}{36}$	$\frac{1}{6}$	$\frac{5}{36}$	$\frac{1}{9}$	$\frac{1}{12}$	$\frac{1}{18}$	$\frac{1}{36}$

**3A** مثلّ بالأعمدة هذا التوزيع الاحتمالي.

**3B** استعمل التمثيل بالأعمدة؛ لتحديد الناتج الأكثر إمكانية للوقوع؟ ثم أوجد احتمالها.

**3C** أوجد  $P(5 \text{ أو } 11)$ .

### تنبيه

احتمال الحوادث المتنافية  
تذكر أنه إذا كانت  $A$  و  $B$   
حادثتين متنافيتين، فإن  
 $P(A \text{ أو } B) = P(A) + P(B)$ .

إن الاحتمالات التي تمت دراستها هنا هي **احتمالات نظرية**؛ لأنها مبنية على افتراضات يتوقّع الحصول عليها، بينما الاحتمالات التجريبية يتم تقديرها من عدد من التجارب. والقيمة المتوقعة أو التوقع  $E(X)$  هي المتوسط الموزون للقيم في التوزيع الاحتمالي المنفصل؛ أي أن القيمة المتوقعة  $E(x)$  هي مجموع حواصل ضرب قيم المتغير

العشوائي  $X$  في احتمال كل منها  $P(X)$ ، ويمكن إيجادها باستعمال القانون  $E(X) = \sum_{i=1}^{i=n} Xi \cdot P(Xi)$  وتنتج هذه القيمة من خلال اعتماد الاحتمال النظري كوزن للمتغير العشوائي. ويخبرك بما يمكن حدوثه على المدى البعيد، وذلك بعد محاولات كثيرة.

## القيمة المتوقعة

### مثال 4

أوجد القيمة المتوقعة عند رمي مكعب مرقم من 1 إلى 6 مرة واحدة.

## إرشادات للدراسة

### قانون الأعداد الكبيرة

ينص قانون الأعداد الكبيرة على أنه كلما ازداد عدد مرات إجراء التجربة، اقتربت قيمة معدل القيم الناتجة من القيمة المتوقعة.

### تحقق من فهمك

(4) أوجد القيمة المتوقعة عند رمي مكعبين مرقمين مرة واحدة، وتسجيل مجموع العددين الظاهرين على الوجهين العلويين.

## تدرب وحل المسائل

الاحتمال	المصدر
0.35	التلفاز
0.31	المنذيع
0.02	الأصدقاء
0.11	الصحف
0.19	الإنترنت
0.02	مصادر أخرى

(6) **أخبار:** أجرى موقع إلكتروني مسحاً للمصادر التي يحصل منها الناس على الأخبار بشكل رئيس. والجدول المجاور يبين نتائج هذا المسح. (مثال 3)

(a) بين أن هذه البيانات تمثل توزيعاً احتمالياً.

(b) إذا اختير أحد الذين شملهم هذا المسح عشوائياً، فما احتمال أن يكون مصدر أخباره الرئيس الصحف أو الإنترنت؟

(c) مثل البيانات بالأعمدة.

(7) أوجد القيمة المتوقعة عند سحب قصاصة ورق عشوائياً من بين 5 قصاصات كتب على كل منها أحد الأرقام 1-5 دون تكرار.

(8) **جوائز:** باع أحد النوادي 500 تذكرة دخول لحضور إحدى مبارياته ثمن الواحدة 10 ريالاً، وأجري سحب عشوائي على أرقام التذاكر خصصت فيه ثلاث جوائز للأرقام الرابعة، بحيث تربح تذكرة واحدة الجائزة الأولى وقيمتها 1000 ريال، وتربح تذكرة الجائزة الثانية وقيمتها 100 ريال، وتربح 5 تذاكر الجائزة الثالثة وقيمتها 50 ريالاً. إذا اشترى شخص تذكرة، فما القيمة المتوقعة للربح في هذا الموقف؟ (مثال 4)

(1) صندوق فيه 10 كرات، منها 6 حمراء، إذا سحبت منه كرتان معاً عشوائياً، فما احتمال أن تكون الكرتان حمراوين؟ (مثال 1)

(2) **فن:** اختار مسؤول متحف للفنون 4 لوحات بشكل عشوائي من بين 20 لوحة؛ لعرضها في أحد المعارض. ما احتمال أن تكون 3 منها لفنان واحد يشارك بـ 8 لوحات في المتحف؟ (مثال 1)

(3) دخل 8 لاعبين A, B, C, D, E, F, G, H في مباراة، إذا اختيرت أسماء اللاعبين عشوائياً، فما احتمال أن يكون أول 4 لاعبين مختارين هم A, C, E, G على الترتيب؟ (مثال 2)

(4) **مختبر:** دخلت طالبات صف وعددهن 26 إلى مختبر المدرسة. إذا اختارت المعلمة أسماء الطالبات عشوائياً لتشكيل مجموعات للعمل، فما احتمال أن تكون أول ثلاث طالبات ذُكرت أسماءهن جميلة، وأمنة، وخديجة على الترتيب؟ (مثال 2)

(5) أُلقي مكعبان مرقمان من 1 إلى 6، وسجل العدد الأكبر بين العددين الظاهرين على الوجهين العلويين إذا اختلفا، وأحدهما إذا تساويا. (مثال 3)

(a) مثل بالأعمدة هذا التوزيع الاحتمالي.

(b) ما الناتج الأقل إمكانية للوقوع؟ وما احتمالها؟

(c) أوجد  $P(2 \text{ أو } 1)$ ؟



**(13) درجات:** أُجري اختبار في الرياضيات لطلاب الصف الثالث الثانوي، والجدول أدناه يُبين نتائج هذا الاختبار.

نتائج اختبار الرياضيات	
التقدير	الاحتمال
A	0.29
B	0.43
C	0.17
D	0.11
F	0

(a) بين أن هذه البيانات تمثل توزيعاً احتمالياً.

(b) إذا اختير طالب عشوائياً، فما احتمال ألا يقل تقديره عن B؟

(c) مثل البيانات بالأعمدة.

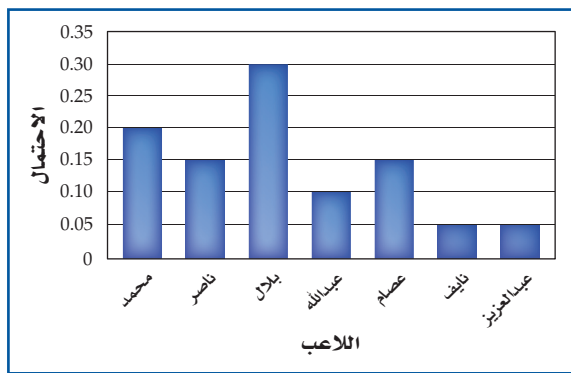
**(14) كرات زجاجية:** لدى زيد 35 كرة زجاجية؛ 8 منها سوداء، و 12 حمراء، و 9 خضراء، والبقية بيضاء. فإذا سحب كرتين معاً عشوائياً.

(a) مثل بالأعمدة هذا التوزيع الاحتمالي؟

(b) ما الناتج ذو الإمكانية الأقل للوقوع؟

(c) أوجد (إحدهما سوداء والأخرى خضراء)  $P$ .

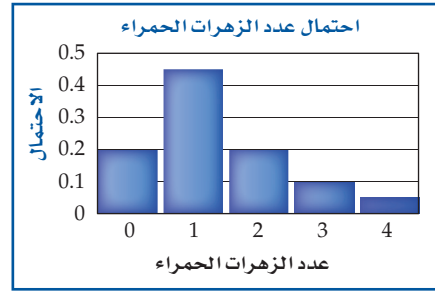
**(15) مسابقات:** يُبين التمثيل بالأعمدة احتمال أن يربح كل طالب جائزة.



(a) بين أن هذه البيات تمثل توزيعاً احتمالياً؟

(b) أوجد (ربح محمد أو بلال)  $P$ .

**(9) أزهار:** يوضح التمثيل البياني أدناه التوزيع الاحتمالي لعدد الأزهار الحمراء عند زراعة 4 بذور.



(a) أوجد  $P(0)$ .

(b) ما احتمال أن تكون زهرتان على الأقل حمراوين؟

**(10) تبرعات:** قام طلاب الصف الثالث المتوسط في مدرسة بجمع بعض الأطعمة في طرود للتبرع بها للأسر الفقيرة. ولقد أحصى الطلاب أنواع المواد المقدمة كما في الجدول أدناه.

التبرع بالأطعمة	
عدد الطرود	النوع
36	وجبات طعام
22	أرز
12	سكر
45	قمح

(a) أوجد احتمال أن يحتوي طرد اختير عشوائياً على القمح.

(b) أوجد احتمال أن يحتوي طرد اختير عشوائياً على وجبة طعام أو أرز.

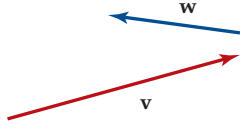
**(11) جوائز:** تنافس 50 متسابقاً منهم جاسم وجلال وعلي في سحب عشوائي على أربع جوائز. ما احتمال أن يربح اثنان من الأسماء الثلاثة؟

**(12) ألعاب رياضية:** اختار معلم التربية الرياضية 5 طلاب عشوائياً من بين الطلاب البالغ عددهم 124 طالباً ليساعده على تطبيق بعض الألعاب. ما احتمال أن يختار واحداً على الأقل من بين عشرة أقارب له يجلسون مع الطلاب؟



## مراجعة تراكمية

- (21) أوجد محصلة المتجهين أدناه مستعملًا قاعدة المثلث، أو متوازي الأضلاع. ثم حدّد اتجاهه بالنسبة للأفقي. (مهارة سابقة)



- (22) اكتب المعادلة  $r = 12 \cos \theta$  على الصورة الديكارتية. (الدرس 2-6)

- (23) يحتوي صندوق على 3 كرات بيضاء و 4 كرات حمراء. سُحبت كرتان على التوالي دون إرجاع. ما احتمال أن تكون الثانية بيضاء إذا كانت الأولى حمراء؟ (الدرس 3-7)

## تدريب على اختبار

- (24) يحتوي صندوق على 4 كرات حمراء و 6 كرات صفراء، و 4 كرات خضراء، وكرتين زرقاوين. سُحبت 3 كرات معًا عشوائيًا. إذا كان  $X$  متغيرًا عشوائيًا يدل على عدد الكرات الزرقاء المسحوبة، فما جميع القيم الممكنة لـ  $X$ ؟

A 1, 2

B 0, 1, 2

C 1, 2, 3

D 0, 1, 2, 3

- (25) ما القيمة المتوقعة للتوزيع الاحتمالي المبين في الجدول أدناه؟

3	2	1	x
0.1	0.8	0.1	p(x)

A 0.1

B 2

C 0.56

D 1

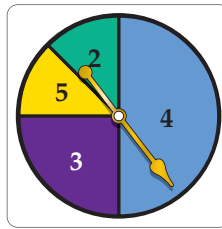


- (16) **أمطار:** التوزيع الاحتمالي أدناه يوضّح عدد الأيام الممطرة في السنة في إحدى الدول. أوجد القيمة المتوقعة لعدد الأيام الممطرة.

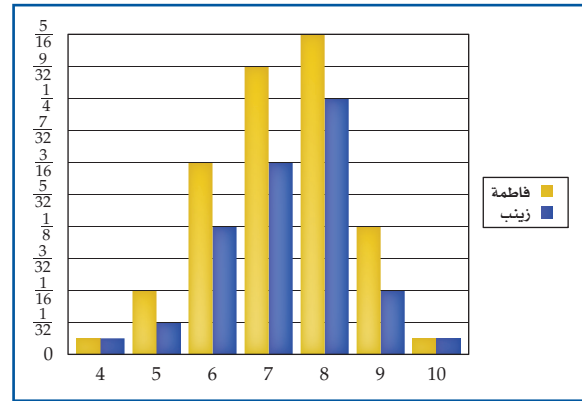
عدد الأيام الممطرة في السنة									
8	7	6	5	4	3	2	1	0	عدد الأيام
0.02	0.05	0.08	0.1	0.25	0.15	0.15	0.1	0.1	الاحتمال

- (17) **بطاقات:** رُفِّمَت مجموعة بطاقات على النحو الآتي: 3 بطاقات تم ترقيم كل منها بالرقم 8، وبطاقتان تم ترقيم كل منهما بالعدد 10، و 4 بطاقات تم ترقيم كل منها بالرقم 6، و 3 بطاقات تم ترقيم كل منها بالرقم 5، وبطاقتان تم ترقيم كل منها بالرقم 2، و بطاقة تم ترقيمها بالرقم 3. إذا سُحبت من هذه البطاقات واحدة عشوائيًا، فما القيمة المتوقعة لهذه البطاقة؟

## مسائل مهارات التفكير العليا



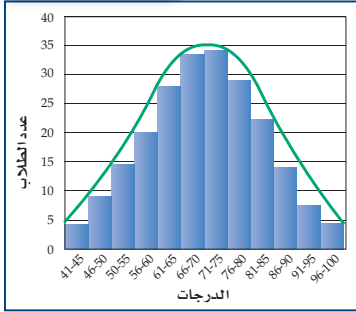
- (18) **اكتشف الخطأ:** كَوَّنت كلُّ من فاطمة، وزينب توزيعًا احتماليًا باستعمال التمثيل بالأعمدة لمجموع العددين الناتجين عن دوران مؤشر القرص المجاور مرتين. أيهما يعدُّ تمثيلها صحيحًا؟ فسّر إجابتك.



- (19) **تبرير:** حدّد ما إذا كانت العبارة الآتية صحيحة دائمًا، أو صحيحة أحيانًا، أو غير صحيحة أبدًا: «يبنى الاحتمال النظري على نتائج التجارب». برّر إجابتك.

- (20) **مسألة مفتوحة:** كوّن توزيعًا احتماليًا منفصلاً فيه 5 نواتج مع تحديد احتمال كل منها.





## الملاحظة

مثّل المعلم عبدالعزيز درجات طلاب مدرسته في مادة الرياضيات بياناً كما هو مبين في الشكل المجاور. لاحظ أن هناك تجمعاً لدرجات الطلاب في المنتصف، كما أن شكل التمثيل البياني لتوزيع الدرجات الجرس تقريباً. إن مثل هذا التوزيع يسمى توزيعاً طبيعياً.

**التوزيعات الطبيعية والملتوية** في التوزيع الاحتمالي المتصل والذي هو توزيع احتمالي متغيره العشوائي متصل، يمكن للنواتج أن تأخذ أي قيمة في فترة من الأعداد الحقيقية، ومثال ذلك أطوال أشخاص وأوزانهم، ومستوى الدهون عند الأشخاص البالغين. وأفضل مثال على التوزيعات الاحتمالية المتصلة هو التوزيع الطبيعي.

## فيما سبق:

درست التوزيعات الاحتمالية. (الدرس 4-7)

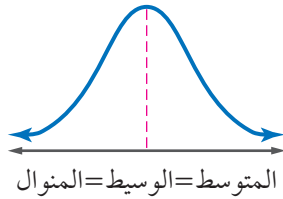
## والآن:

- أحد ما إذا كانت مجموعة بيانات تبدو موزعة طبيعياً أو ملتوية.
- أستعمل القانون التجريبي لأجد الاحتمالات.

## المفردات:

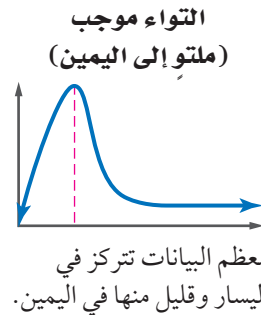
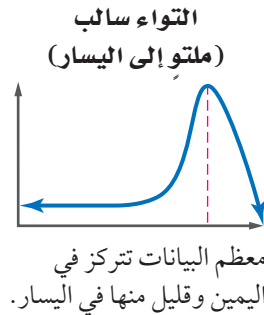
- التوزيع الاحتمالي المتصل continuous probability distribution
- التوزيع الطبيعي normal distribution
- التوزيع الملتوي skewed distribution

## مفهوم أساسي



- التمثيل البياني له منحنى يشبه الجرس، ومتماثل حول المستقيم الرأسي المار بالمتوسط.
- يتساوى فيه المتوسط والوسيط والمنوال.
- المنحنى متصل.
- يقترّب المنحنى من المحور  $x$  في جزأيه الموجب والسالب، ولكنه لا يمسه.

على الرغم من أن التوزيع الطبيعي متصل، فإن التوزيعات المنفصلة أيضاً يمكن أن يكون لها شكل التوزيع الطبيعي. ويمكن للتوزيعات أن تظهر بأشكال أخرى تُسمى توزيعات ملتوية.



## تصنيف بيانات التوزيع

### مثال 1

حدّد ما إذا كانت البيانات في الجدول التكراري أدناه تظهر التواءً موجباً، أو التواءً سالباً، أو موزعة توزيعاً طبيعياً:

البيانات	21	19	18	17	16	15	14	13	12	11	10
التكرار	1	2	4	3	5	8	6	4	1	1	1

(a)

حدّد ما إذا كانت البيانات في الجدول التكراري أدناه تظهر التواءً موجباً، أو التواءً سالباً، أو موزعةً توزيعاً طبيعياً:

البيانات	24	25	26	27	28	29	30	31	32	33	34	35
التكرار	4	6	6	5	4	2	1	2	2	1	1	2

### تحقق من فهمك

1) حدّد ما إذا كانت البيانات في الجدول المجاور تُظهر التواءً موجباً، أو التواءً سالباً، أو موزعةً توزيعاً طبيعياً.

قياس الحذاء	38	39	40	41	42	43	44	45
التكرار	6	8	9	7	4	2	3	1

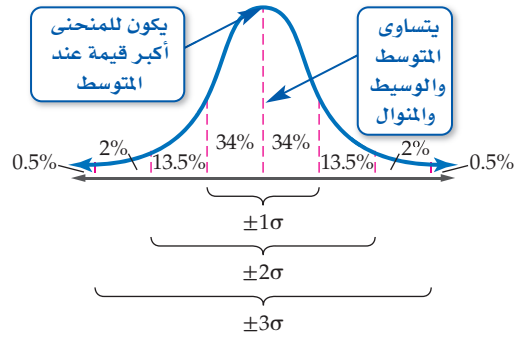
### إرشادات للدراسة

«متصل» مقابل «متصل»  
يأخذ التوزيع الاحتمالي المنفصل عدداً محدوداً من القيم، وغالباً ما تكون أعداداً صحيحة. أما التوزيع الاحتمالي المتصل، فيأخذ عدداً غير محدد من القيم تنتمي إلى فترة متصلة. وفي حالة التوزيع الاحتمالي المتصل يكون احتمال أن يأخذ المتغير العشوائي قيمة واحدة فقط مساوياً للصفر.

**القانون التجريبي** إن المساحة بين قيمتين من البيانات تمثل نسبة البيانات التي تقع بين هاتين القيمتين. ويمكن أن يستعمل القانون التجريبي لوصف المساحات تحت المنحنى الطبيعي، والتي تقع ضمن انحراف أو انحرافين أو ثلاثة انحرافات معيارية من المتوسط.

### القانون التجريبي

### مفهوم أساسي



يتصف التوزيع الطبيعي الذي متوسطه  $\mu$  وانحرافه المعياري  $\sigma$  بالخصائص الآتية:

• يقع 68% تقريباً من البيانات ضمن الفترة  $(\mu - \sigma, \mu + \sigma)$ .

وهذا يعني أن 68% من البيانات لا يتجاوز بعدها عن المتوسط قيمة الانحراف المعياري.

• يقع 95% تقريباً من البيانات ضمن الفترة  $(\mu - 2\sigma, \mu + 2\sigma)$ .

وهذا يعني أن الغالبية العظمى من البيانات (95%) لا يتجاوز بعدها عن المتوسط ضعف قيمة الانحراف المعياري.

• يقع 99% تقريباً من البيانات ضمن الفترة  $(\mu - 3\sigma, \mu + 3\sigma)$ .

وهذا يعني أن جميع البيانات تقريباً (99%) لا يتجاوز بعدها عن المتوسط ثلاثة أمثال الانحراف المعياري.

### التوزيع الطبيعي

### مثال 2

المتوسط لتوزيع طبيعي 34، وانحرافه المعياري 5. أوجد احتمال أن تزيد قيمة لـ  $X$  تم اختيارها عشوائياً في هذا التوزيع عن 24، (أي أوجد  $P(X > 24)$ ).

$$\mu = 34, \sigma = 5$$

### الخطوة 1

### إرشادات للدراسة

التوزيع الطبيعي  
في الحالات جميعها يجب أن يكون عدد البيانات كبيراً ليكون التوزيع طبيعياً تقريباً.



الخطوة 2

الخطوة 3

الخطوة 4

تحقق من فهمك ✓

(2) أوجد احتمال أن تكون قيمة تم اختيارها عشوائياً في التوزيع الوارد في المثال 2 أقل من 49.

تُمثل العينة التي يكون توزيعها توزيعاً طبيعياً بمنحنى طبيعي، وكأنها مجتمعاً.

عينة موزعة توزيعاً طبيعياً

مثال 3 من واقع الحياة

**أطوال:** توزع أطوال 1800 يافع توزيعاً طبيعياً بمتوسط 66 in ، وانحراف معياري يساوي 2 in.

(a) ما العدد التقريبي لليافعين الذين تتراوح أطوالهم بين 62 in و 70 in ؟

(b) ما احتمال أن يتم اختيار أحد اليافعين عشوائياً، بحيث يزيد طوله على 68 in ؟

تحقق من فهمك ✓

**درجات:** إذا علمت أن كتل 100 موظف في شركة تتوزع توزيعاً طبيعياً بمتوسط حسابي مقداره 70 كيلو جراماً، وانحراف معياري 10 كيلو جرامات، فاعتمد على ذلك في الإجابة عن السؤالين الآتيين :

(3A) ما العدد التقريبي للموظفين الذين تقع كتلتهم بين 80, 60 كيلو جراماً؟

(3B) ما احتمال أن يتم اختيار موظف بصورة عشوائية، وتكون كتلته أقل من 90 كيلو جراماً؟



**9 بطاريات السيارة:** إذا حُدِّد عمرُ بطارية السيارة بالمسافة التي تقطعها باستعمال هذه البطارية، وعلمت أن عمر أحد أنواع بطاريات السيارات يتوزع توزيعاً طبيعياً بمتوسط حسابي  $100000 \text{ km}$  وانحراف معياري  $10000 \text{ km}$ . وتنتج إحدى الشركات  $20000$  بطارية في الشهر، فأجب عما يأتي:

- (a) ما العدد التقريبي للبطاريات التي يتراوح عمرها بين  $110000 \text{ km} - 90000 \text{ km}$ ؟  
 (b) ما العدد التقريبي للبطاريات التي يزيد عمرها على  $120000 \text{ km}$ ؟  
 (c) ما العدد التقريبي للبطاريات التي يقلُّ عمرها عن  $90000 \text{ km}$ ؟  
 (d) ما احتمال أن تشتري بطارية عشوائياً، ويتراوح عمرها بين  $110000 \text{ km} - 80000 \text{ km}$ ؟

**10 صحة:** يتوزع مستوى الدهون (الكولسترول) في فئة الشباب الذكور في إحدى الدول توزيعاً طبيعياً بمتوسط حسابي  $158.3$ ، وانحراف معياري  $6.6$

- (a) ما احتمال أن تقل نسبة الكولسترول عند الشباب الذكور عن  $151.7$ ؟  
 (b) كم شخصاً تقريباً من بين  $900$  شخص شملتهم الدراسة يتراوح مستوى الكولسترول عندهم بين  $171.5 - 145.1$ ؟

**11 طعام:** تتوزع مدة صلاحية نوع معين من البطاطس توزيعاً طبيعياً بمتوسط حسابي  $180$  يوماً، وانحراف معياري  $30$  يوماً.

- (a) ما احتمال أن تقع مدة صلاحية المنتج بين  $150$  يوماً،  $210$  أيام؟  
 (b) ما احتمال أن تقع مدة صلاحية المنتج بين  $180$  يوماً،  $210$  أيام؟  
 (c) ما احتمال أن تقل مدة صلاحية المنتج عن  $90$  يوماً؟  
 (d) ما احتمال أن تزيد مدة صلاحية المنتج على  $210$  أيام؟

**12 طول:** تتوزع أطوال  $880$  طالباً في إحدى الجامعات توزيعاً طبيعياً بمتوسط حسابي مقداره  $67 \text{ in}$ ، وانحراف معياري مقداره  $2.5 \text{ in}$

- (a) كم طالباً تقريباً يزيد طوله على  $72 \text{ in}$ ؟  
 (b) ما احتمال أن تقع أطوال الطلاب بين  $59.5 \text{ in}$  و  $69.5 \text{ in}$ ؟

**13 صناعة:** تُستعمل آلة لتعبئة عبوات بالمياه المعدنية، وتختلف كمية الماء اختلافاً ضئيلاً بين العبوات. إذا كان حجم الماء في  $120$  عبوة يتبع توزيعاً طبيعياً بمتوسط حسابي  $1.1 \text{ L}$ ، وانحراف معياري  $0.02 \text{ L}$ ، فأجب عما يأتي:

- (a) كم عبوة تقريباً يكون حجم الماء فيها أقل من  $1.06 \text{ L}$ ؟  
 (b) ما احتمال أن يكون حجم الماء في العبوات بين  $1.08 \text{ L}$  و  $1.14 \text{ L}$ ؟

**1 درجات:** يوضح الجدول أدناه نتائج أحد الاختبارات (النهاية العظمى للاختبار  $40$ ). حدّد ما إذا كانت البيانات تُظهر التواءً موجباً، أو التواءً سالباً، أو موزعة توزيعاً طبيعياً. (مثال 1)

فئات الدرجات	عدد الطلاب
13-15	12
16-18	27
19-21	29
22-24	19
25-27	8
28-31	1
32-35	1

**2** حدّد ما إذا كانت البيانات في الجدول أدناه تُظهر التواءً موجباً، أو التواءً سالباً، أو موزعة توزيعاً طبيعياً:

عدد زوار المتنزّهات	
عدد الزوار بالآلاف	عدد المتنزّهات
3-4	10
5-6	2
7-8	2
9-10	1
11-12	1
13 فأكثر	4

**3** تتوزع مجموعة بيانات توزيعاً طبيعياً بمتوسط حسابي  $161$ ، وانحراف معياري  $12$ ، أو جد أن يتم اختبار قيمة لـ  $X$  عشوائياً من هذا التوزيع، بحيث تكون أقل من  $149$ ، أي أو جد  $P(X < 149)$ . (مثال 2)

إذا توزعت البيانات في الأسئلة 4-7 توزيعاً طبيعياً، وكان المتوسط الحسابي والانحراف المعياري لكل منها كما هو موضح، فأوجد الاحتمال المطلوب.

$$(4) \mu = 74, \sigma = 6, P(X > 86)$$

$$(5) \mu = 13, \sigma = 0.4, P(X < 12.6)$$

$$(6) \mu = 63, \sigma = 4, P(59 < X < 71)$$

$$(7) \mu = 91, \sigma = 6, P(73 < X < 103)$$

**8 مدارس:** أعطى عمران اختباراً قصيراً لطلبته البالغ عددهم  $(50)$  طالباً، وكانت الدرجات موزعة توزيعاً طبيعياً بمتوسط حسابي  $21$ ، وانحراف معياري  $2$ . (مثال 3)

- (a) ما العدد التقريبي للطلاب الذين تقع درجاتهم بين  $19, 23$ ؟  
 (b) ما احتمال أن تقع درجة أحد الطلاب بين  $17$  و  $25$ ؟

- (21) **مسابقات:** يبين الجدول أدناه أعداد الطلاب الذين شاركوا في المسابقات الثقافية، والذين لم يشاركوا من الصفوف: الأول والثاني والثالث الثانوي في مدرسة ما. إذا اختير أحد الطلاب عشوائياً، فأوجد احتمال أن يكون قد شارك في المسابقات الثقافية علمًا بأنه من الصف الثالث الثانوي؟ (الدرس 7-3)

المشاركون	الأول الثانوي	الثاني الثانوي	الثالث الثانوي
7	9	6	
23	20	22	

- (22) **جسور:** جسر لعبور المشاة فوق مسطح مائي على شكل قطع مكافئ فتحته إلى أسفل، أوجد معادلة الجسر، مفترضًا أن نقطة الأصل على سطح الماء تحت رأس القطع. (مهارة سابقة)

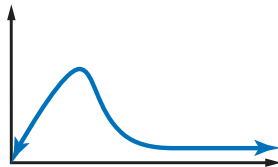


### تدريب على اختبار

- (23) يتوزع عمر 10000 مصباح كهربائي توزيعًا طبيعيًا بمتوسط حسابي 300 يوم، وانحراف معياري 40 يومًا. كم مصباحًا يقع عمره بين 260 يومًا، 340 يومًا؟

- A 2500  
B 3400  
C 5000  
D 6800

- (24) ما الوصف الأفضل لمنحنى التوزيع الاحتمالي الممثل أدناه؟



- A توزيع سالب الالتواء  
B توزيع متمائل  
C توزيع طبيعي  
D توزيع موجب الالتواء

- (25) **صناعة:** تتوزع قياسات أقطار مجموعة من الأقراص المدمجة التي تصنعها إحدى الشركات توزيعًا طبيعيًا بانحراف معياري مقداره 1 mm، وبمتوسط حسابي 120 mm.

- (a) ما احتمال أن يزيد طول قطر قرص اختيار عشوائيًا على 120 mm؟

- (b) إذا كانت الشركة تصنع 1000 قرص في الساعة، فما العدد

- (14) **اكتشف الخطأ:** تتوزع أطوال أقطار نوع من الأشجار توزيعًا طبيعيًا بمتوسط مقداره 11.5 cm، وانحراف معياري مقداره 2.5 cm ومدى من 3.6 cm إلى 19.8 cm، وقد حاولت كل من مريم وأمينة إيجاد مدى 68% من البيانات التي تقع في وسط التوزيع. أيهما كانت إجابتها صحيحة؟ فسّر إجابتك.

#### أمينة

تهتد النسبة 68% من  $\mu + \sigma$  إلى  $\mu - \sigma$  أي أن مدى 68% سيكون من 9 cm إلى 14 cm

#### مريم

مدى البيانات 16.2 cm، 68% من المدى يساوي تقريبًا 11 cm، ويتوزع هذا المدى بالتساوي حول المتوسط 11.5 cm، أي أن مدى 68% سيكون من 6 cm إلى 17 cm

- (15) **تحذر:** في مستودع للأدوات الكهربائية عدد من المسجلات التي تعمل على البطارية. إذا كانت أعمار البطاريات تتوزع توزيعًا طبيعيًا بمتوسط حسابي 8.0 h، وانحراف معياري 0.7 h، فما العدد التقريبي للمسجلات في المستودع إذا علمت أن هناك 8 مسجلات يزيد عمر بطارياتها على 10.1 h؟

- (16) **اكتب:** اشرح الفرق بين التوزيعات الموجبة الالتواء، والتوزيعات السالبة الالتواء، والتوزيعات الطبيعية لمجموعة بيانات. أعطِ مثالاً على كل منها.

- (17) **تبرير:** بحسب القانون التجريبي، فإن معظم البيانات في التوزيع الطبيعي تقع ضمن الفترة  $(\mu - \sigma, \mu + \sigma)$ . هل هذا صحيح أم خاطئ؟ برّر إجابتك.

- (18) **مسألة مفتوحة:** أوجد بيانات واقعية تبدو كأنها تتوزع توزيعًا طبيعيًا، أعطِ خصائص هذا التوزيع فيما يتعلق بالمتوسط الحسابي، والانحراف المعياري. ومثل البيانات بيانيًا.

- (19) **مسألة مفتوحة:** أعطِ مثالاً على توزيع احتمالي منفصل، وآخر متصل. وصف الفرق بينهما.

### مراجعة تراكمية

- (20) **طلاب:** رُشِّح 3 طلاب من الصف الأول الثانوي، و11 طالبًا من الصف الثاني الثانوي لتوزيع بعض الطرود على الفقراء. إذا اختير من بينهم 4 طلاب عشوائيًا، فما احتمال أن تتضمن العينة طالبين من الصف الأول الثانوي، وطالبين من الصف الثاني الثانوي؟ (الدرس 7-4)







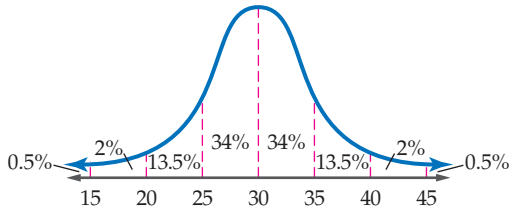
# معامل الجبر: القانون التجريبي والمئينات

## The Empirical Rule and Percentiles

عند معرفة المتوسط والانحراف المعياري لتوزيع طبيعي، تستنتج أن 68%، 95%، 99% من البيانات ستكون ضمن انحراف معياري واحد، أو انحرافين معياريين أو ثلاثة انحرافات معيارية عن المتوسط على الترتيب، وهذا ما يُسمى القانون التجريبي. ويمكنك استعمال القانون التجريبي لتجد المئينات. والمئين  $n$  يقابل القيمة التي يقل عنها أو يساويها %  $n$  من قيم البيانات.

### نشاط

في اختبار للرياضيات لطلاب الصف الثالث الثانوي وُجد أن درجات الطلاب تتوزع توزيعاً طبيعياً بمتوسط 30، وانحراف معياري 5



**الخطوة 1** ارسم منحنى التوزيع الطبيعي لدرجات الطلاب المشابه للشكل المجاور، و عَيّن عليه المتوسط وأيضاً المتوسط مضافاً إليه أو مطروحاً منه مضاعفات الانحراف المعياري كما هو موضح في الشكل.

**الخطوة 2** الدرجة 30 هي المتوسط، وبالرجوع إلى الشكل يمكن أن ترى أن 50% من الدرجات أقل من الدرجة 30 أو تساويها؛ لذا يمكنك القول: إن الدرجة 30 تقابل المئين 50.

ما المئين الذي يقابل الدرجة 35؟

**الخطوة 3** ما المئين الذي يقابل الدرجة 40؟

**الخطوة 4** ما الدرجة التي تقابل المئين 99.5؟

### تمارين:

في كل من السؤالين التاليين، ارسم منحنى التوزيع الطبيعي، ثم أجب عن المطلوب.

(1) إذا كانت درجات الطلاب في اختبار مادة الفيزياء موزعة توزيعاً طبيعياً بمتوسط 15، وانحراف معياري 2، فأوجد المئينات التي تقابل الدرجات 21، 15، 13.

(2) إذا كانت درجات الطلاب في اختبار مادة الكيمياء موزعة توزيعاً طبيعياً بمتوسط 40، وانحراف معياري 4، فأوجد الدرجات التي تقابل المئينات 84، 50، 99.5.





## المأذون

في لعبة الكرة الطائرة تبين أن اللاعب سلمان ينجح في لعب الإرسال الساحق الذي لا يصدده الخصم في 36% من محاولاته، وبذلك يحصل فريقه على نقطة في كل مرة ينجح فيها.

## فيما سبق:

درست استعمال نظرية ذات الحدين. (مهارة سابقة)

## والآن:

- أميز تجربة ذات الحدين.
- أجد الاحتمالات باستعمال التوزيع ذي الحدين ومفكوكه.

## المفردات:

تجربة ذات الحدين  
binomial experiment

التوزيع ذو الحدين  
binomial distribution

**التوزيع ذو الحدين** كثير من التجارب الاحتمالية يكون لها نتيجتان فقط؛ نجاح أو فشل أو يمكن جعلها كذلك. فمثلاً في مسائل الاختيار من متعدد التي لها 5 إجابات، يمكن تصنيف نتائج الإجابة عن كل فقرة إلى صح، أو خطأ، ويمكن تصنيف نتائج دواء طبي على أنه فعّال أو غير فعّال.

## تجربة ذات الحدين

## مفهوم أساسي

تجربة ذات الحدين هي تجربة احتمالية تحقق الشروط الآتية:

- يُعاد إجراء التجربة لعدد محدد ( $n$ ) من المحاولات المستقلة (المرات).
  - كل محاولة لها فقط نتيجتان متوقعتان؛ نجاح  $S$ ، أو فشل  $F$ .
  - $P(S)$  ويرمز له بالحرف  $p$  هو نفسه في كل محاولة. واحتمال الفشل  $P(F)$  ويرمز له بالحرف  $q$  هو نفسه في كل محاولة ويساوي  $1 - p$ .
- ويُمثل المتغير العشوائي  $X$  عدد مرات النجاح في  $n$  من المحاولات.

## تميز التجربة ذات الحدين

## مثال 1

حدّد ما إذا كانت كل تجربة مما يأتي ذات حدين، أو يمكن جعلها كذلك. وإذا كانت تجربة ذات حدين، فاكتب قيم  $n, p, q$ ، وقيم المتغير العشوائي الممكنة، وإذا لم تكن كذلك فبيّن السبب.

(a) تبين نتيجة لمسح إحصائي داخل إحدى المدارس أن 68% من الطلاب يمتلكون حاسبة بيانية. إذا تم اختيار 6 طلاب عشوائياً، وسؤالهم عمّا إذا كانوا يمتلكون هذه الآلة؛ وكان المتغير العشوائي  $X$  يُمثل عدد الطلاب الذين يمتلكون الحاسبة البيانية، فإن:

(b) يحتوي صندوق على 52 بطاقة، وخصّص لكل 13 بطاقة أحد الألوان الآتية: الأحمر، الأسود، الأخضر، الأبيض. سحبت منه 5 بطاقات الواحدة تلو الأخرى دون إرجاع. وكان المتغير العشوائي  $X$  يدل على عدد البطاقات المسحوبة ذات اللون الأخضر.



## تحقق من فهمك

حدّد ما إذا كانت كل تجربة مما يأتي ذات حدين، أو يمكن جعلها كذلك. وإذا كانت تجربة ذات حدين، فاكتب قيم  $n, p, q$ ، وقيم المتغير العشوائي الممكنة، وإذا لم تكن كذلك فيبّن السبب.

**(1A)** أظهرت نتيجة لمسح إحصائي في إحدى المدارس ذات الزي الموحد أن 61% يحبون الزي الجديد، وأن 24% لا يحبونه. إذا تم اختيار 20 طالبًا بشكل عشوائي، وسؤالهم عمّا إذا كانوا يحبون الزي الجديد. وكان المتغير العشوائي  $X$  يدل على عدد الطلاب الذين يحبون الزي الجديد.

**(1B)** أجاب خالد عن اختبار مكوّن من 20 فقرة من نوع «الاختيار من متعدد» لكل فقرة منها أربع إجابات، واحدة فقط صحيحة (دون معرفة علمية بموضوع الاختبار). وكان المتغير العشوائي  $X$  يدل على عدد الإجابات الصحيحة.

يُسمى توزيع النتائج المتوقّعة لتجربة ذات حدين والاحتمالات المرتبطة بها **توزيع ذات الحدين**. ويمكن حساب الاحتمالات في هذا التوزيع باستعمال الصيغة  ${}_n C_X p^X q^{n-X}$  التي تمثل حدًّا في مفكوك  $(p + q)^n$ .

### صيغة احتمال ذات الحدين

### مفهوم أساسي

احتمال النجاح في  $X$  مرة من  $n$  من المحاولات المستقلة في تجربة ذات الحدين هو:

$$P(X) = {}_n C_X p^X q^{n-X} = \frac{n!}{(n-X)!X!} p^X q^{n-X}$$

حيث  $p$  احتمال النجاح، و  $q$  احتمال الفشل في المحاولة الواحدة.

### التوزيع ذو الحدين

### مثال 2 من واقع الحياة

**اختبار:** في اختبار نهائي، أكد 35% من الطلاب أنهم أجابوا بشكل اعتيادي. إذا اختبر 5 طلاب عشوائيًا، وتم سؤالهم عما إذا أدوا الاختبار بشكل اعتيادي. وكان المتغير العشوائي  $X$  يدل على عدد الطلاب الذين أجابوا بنعم عن السؤال، فكوّن جدولًا للتوزيع ذي الحدين، ومثله بالأعمدة، ثم أوجد احتمال أن يجيب 3 طلاب على الأقل عن السؤال بنعم.

### إرشاد تقني

#### حساب احتمال ذات الحدين

لإيجاد كل احتمال لذات الحدين على الحاسبة البيانية؛ استعمل الأمر  $\text{binomPdf}(n, p, x)$  قائمة تطبيق الحاسبة .

مثال: لإيجاد  $p(1)$  اكتب  $\text{binomPdf}(5, 0.35, 1)$  ثم اضغط **Enter** فتحصل على 0.312386 كما يمكن إيجادها باستعمال الآلة الحاسبة العلمية كما يأتي:

اضغط على المفاتيح الآتية من اليسار إلى اليمين:

5 SHIFT ÷ × 0.35  
 $x^{\wedge}$  1 × ( 1 - 0.35  
 )  $x^{\wedge}$  ( 5 - 1 ) =

فتظهر الشاشة 0.3123859375

### إرشادات للدراسة

اختيار الاحتمالات  
 أحياناً يكون من الأسهل أن  
 تجد احتمال الفشل وتطرح  
 هذه النتيجة من 1 لتجد  
 احتمال النجاح، لأنهما  
 احتمالان متتامان.

### تحقق من فهمك

**(2) كليات:** يدرس في إحدى الكليات 48% من الطلاب لغة عالمية خلال سنة التخرج. إذا اختير 7 خريجين عشوائياً، وتم سؤالهم عما إذا درسوا لغة عالمية في سنتهم الأخيرة. وكان المتغير العشوائي  $X$  يدل على عدد الطلاب الذين أجابوا بنعم، فكُون التوزيع ذا الحدين، ومثله بالأعمدة، ثم أوجد احتمال أن يجيب أقل من 4 طلاب بنعم.

تستعمل الصيغ الآتية؛ لإيجاد المتوسط والتباين والانحراف المعياري للتوزيع ذي الحدين.

### مفهوم أساسي المتوسط والتباين والانحراف المعياري للتوزيع ذي الحدين

يحسب المتوسط والتباين والانحراف المعياري لمتغير عشوائي  $X$  في التوزيع ذي الحدين بالصيغ الآتية:

$$\mu = np \quad \text{المتوسط}$$

$$\sigma^2 = npq \quad \text{التباين}$$

$$\sigma = \sqrt{\sigma^2} = \sqrt{npq} \quad \text{الانحراف المعياري}$$

### مثال 3 المتوسط والتباين والانحراف المعياري للتوزيع ذي الحدين

**اختبار:** بالرجوع إلى تجربة ذات الحدين في المثال 2. أوجد المتوسط والتباين والانحراف المعياري للمتغير العشوائي  $X$ ، ثم فسّر معنى المتوسط في سياق الموقف.

### تحقق من فهمك

**(3) كليات:** أوجد المتوسط والتباين والانحراف المعياري للمتغير العشوائي  $X$  في تحقق من فهمك 2، وفسّر معنى المتوسط في سياق الموقف.



عندما يزداد عدد المحاولات في تجربة ذات الحدين، يمكن استعمال التوزيع الطبيعي لتقريب التوزيع ذي الحدين.

### تقريب التوزيع ذي الحدين إلى التوزيع الطبيعي

### مفهوم أساسي

في التوزيع ذي الحدين عندما تُمثّل  $n$  عدد المحاولات، واحتمال النجاح  $p$ ، واحتمال الفشل  $q$ ، ويكون  $n p \geq 5, n q \geq 5$ ، يمكن تقريب التوزيع ذي الحدين إلى توزيع طبيعي بمتوسط  $\mu = n p$ ، وانحراف معياري  $\sigma = \sqrt{n p q}$ .

### تقريب التوزيع ذي الحدين إلى توزيع طبيعي

### مثال 4

أشارت دراسة سابقة إلى أن 64% من الخريجين يرون أن سنوات الجامعة كانت ممتعة. وقد نفّذ بلال دراسة مسحية على 300 من هؤلاء الخريجين اختارهم عشوائياً. ما احتمال أن يوافق 200 خريج منهم على الأقل على ما جاء في الدراسة الإحصائية السابقة؟

### إرشادات للدراسة

#### التقريب إلى التوزيع الطبيعي

يُستعمل التقريب إلى التوزيع الطبيعي؛ لأنه مع زيادة  $n$  يصبح استعمال التوزيع ذي الحدين لإيجاد الاحتمال عملية معقّدة وصعبة.

### تحقق من فهمك



(4) أشارت دراسة سابقة إلى أن 32% من أولياء الأمور المستطلعة آراؤهم يرون أنه يجب تقليل عدد أيام الإجازة الصيفية للطلاب في نهاية العام الدراسي. غير أن آية ترى أن النسبة أقل من ذلك، ولذلك قامت بإجراء دراسة مسحية شملت 250 من أولياء الأمور اختارتهم بطريقة عشوائية ممن استهدفهم الدراسة السابقة. ما احتمال ألا يرى أكثر من 65 من أولياء الأمور وجوبَ تقليل عدد أيام الإجازة الصيفية؟





**(9) رخصة قيادة:** اعتماداً على إحدى الدراسات المسحية السابقة، إذا علمت أن 85% من طلاب إحدى الجامعات لديهم رخص قيادة سيارة، فما احتمال أن يكون 6 طلاب على الأقل من بين 10 تم اختيارهم عشوائياً لديهم رخص قيادة سيارة؟

**(10) كرة قدم:** كسب فريق لكرة القدم 75.7% من مبارياته. أوجد احتمال أن يكسب 7 مباريات على الأقل من بين مبارياته العشر القادمة.

**(11) رياضيون:** وفق بعض الدراسات الحديثة، إذا علمت أن 80% من طلاب المدارس الثانوية يمارسون رياضة واحدة على الأقل في مدرستهم، إذا اختير 6 طلاب عشوائياً، وكان المتغير العشوائي  $X$  يدل على عدد الذين يمارسون رياضة على الأقل.

**(a)** فأوجد الاحتمالات المرتبطة بعدد الطلاب الذي يمارسون رياضة واحدة على الأقل.

**(b)** ما احتمال ألا يزيد عدد الذين يمارسون الرياضة عن طالبين؟

**(12) غسيل سيارات:** يقوم بعض الأشخاص بغسيل السيارات لزبائن بعض المجمعات التجارية مقابل أجر معين. وقد أفادت دراسة مسحية أن 65% من الزبائن يدفعون أكثر من الحد الأدنى لأجرة غسيل سياراتهم. ما احتمال أن يدفع أربعة على الأقل من خمسة زبائن مبلغاً أكثر من الحد الأدنى للأجر.

**(13) حوافر دعائية:** تضع شركة للعصائر حوافر بحيث إن 30% من علب العصير تريح علبة مجانية، وقد اشترت سعاد 10 علب. مثل بالأعمدة البيانية التوزيع الاحتمالي للتوزيع ذي الحدين إذا كان المتغير العشوائي يدل على عدد علب العصير الربحة.

**(14) برامج دينية:** بناءً على دراسة مسحية سابقة، إذا علمت أن 70% من الأشخاص تحت سن العشرين يتابعون برنامجاً دينياً على الأقل في التلفاز. إذا استطلع خليل رأي 200 شخص تحت سن 20 سنة، فما احتمال أن 146 شخصاً منهم على الأقل يتابعون برنامجاً دينياً على الأقل؟

إذا علمت أن نسبة النجاح في توزيع ذي حدين 60%، ويوجد 18 محاولة، فأجب.

**(15)** ما احتمال ألا توجد أي محاولة ناجحة؟

**(16)** ما احتمال أن توجد 12 محاولة فاشلة؟

حدّد ما إذا كانت كل تجربة مما يأتي ذات حدين، أو يمكن جعلها ذات حدين. وإن كانت كذلك، فاكتب قيم  $n, p, q$ ، ثم اكتب كل قيم المتغير العشوائي الممكنة. وإذا لم تكن تجربة ذات حدين، فبيّن السبب. (مثال 1)

**(1)** تم ترقيم أوجه مكعب بالأرقام من 1 إلى 6، ثم أُلقي المكعب 10 مرات، والمتغير العشوائي  $X$  يدل على عدد مرات ظهور الرقم 5.

**(2)** أُلقيت قطعة نقد 20 مرة، والمتغير العشوائي  $X$  يدل على عدد مرات ظهور الكتابة.

**(3)** سألت 15 شخصاً عن أعمارهم، والمتغير العشوائي  $X$  يدل على أعمار هؤلاء الأشخاص.

**(4)** صندوق به 52 كرة، منها 13 كرة حمراء، و13 كرة زرقاء، و13 كرة بيضاء، و13 كرة صفراء. سحبت 10 كرات على التوالي دون إرجاع. والمتغير العشوائي  $X$  يدل على عدد الكرات البيضاء المسحوبة.

كوّن التوزيع ذا الحدين لكل متغير عشوائي مما يأتي، ومثله بالأعمدة، ثم أوجد المتوسط، وفّر معناه في سياق الموقف، ثم أوجد التباين، والانحراف المعياري. (المثالان 2, 3)

**(5)** إذا كان 89% من طلاب المرحلة الثانوية في إحدى المدارس يتابعون مباريات منتخبهم الوطني، وتم اختيار 5 طلاب عشوائياً من هذه المدرسة، وسؤالهم عما إذا كانوا يتابعون مباريات منتخبهم الوطني.

**(6)** بيّنت دراسة أن 26% من موظفي إحدى الشركات يستعملون الإنترنت في عملهم. إذا تم اختيار 10 موظفين من هذه الشركة عشوائياً، وسؤالهم عما إذا كانوا يستعملون الإنترنت في عملهم.

**(7)** أفادت دراسة إحصائية أن 65% من طلاب الجامعات الذين يمتلكون سيارات يستعملون أحزمة الأمان في أثناء قيادة سياراتهم. إذا تم اختيار 8 طلاب عشوائياً ممن يمتلكون سيارات، وسؤالهم إن كانوا يستعملون أحزمة أمان في أثناء قيادة سياراتهم.

**(8) أعمال صيفية:** تبين في دراسة سابقة أن 90% من طلاب الصفوف العليا في مدرسة ثانوية يحصلون على أعمال صيفية، لكن منذراً قدر أن النسبة أقل من ذلك؛ لذا قام بدراسة مسحية شملت 400 طالب من الصفوف العليا تم اختيارهم عشوائياً. ما احتمال ألا يكون أكثر من 348 من الطلاب المستهدفين حصلوا على عمل صيفي؟ (مثال 4)



## مراجعة تراكمية

حدّد ما إذا كانت المعادلة في كلٍّ مما يأتي تمثل دائرة، أو قطعاً مكافئاً، أو قطعاً ناقصاً، أو قطعاً زائداً، دون كتابتها على الصورة القياسية. وبرّر إجابتك: (مهارة سابقة)

$$x^2 + 4y^2 = 100 \quad (28)$$

$$5y^2 - 10x = 0 \quad (29)$$

$$x^2 + y^2 - 3x + 4y - 16 = 0 \quad (30)$$

**(31) سرعة:** وضع نظام لمراقبة سرعة السيارات وتسجيلها في شارع قريب من إحدى المدارس، إذا توزّعت هذه السرعات توزيعاً طبيعياً بمتوسط  $37 \text{ mi/h}$  وانحراف معياري  $4 \text{ mi/h}$ ، فكم سيارة كانت تسير بسرعة تقل عن  $33 \text{ mi/h}$  في عينة حجمها 425 سيارة؟ (الدرس 7-5)

**(32) دراسة جامعية:** أوضح استطلاع في إحدى المدارس الثانوية أن 88% من الطلاب يريدون إكمال دراستهم الجامعية. وقد قام نواف باستطلاع آراء 150 طالباً تم اختيارهم عشوائياً. ما احتمال أن يكون في العينة 132 طالباً على الأقل يرغبون في استكمال دراستهم الجامعية؟ (الدرس 7-5)

## تدريب على اختبار

**(33) اختبار:** تقدّمت سمر لاختبار من عشرة أسئلة من نوع الاختيار من متعدد لكل منها أربعة بدائل، لكنها أجابت عن الأسئلة من خلال التخمين (دون معرفة علمية بالموضوع)، ما احتمال أن تحصل على:

(a) 7 أسئلة صحيحة الإجابة؟

(b) 9 أسئلة صحيحة الإجابة؟

(c) 0 سؤال صحيح الإجابة؟

(d) 3 أسئلة صحيحة الإجابة؟

**(34)** إذا كان احتمال نجاح عملية جراحية 90%، فما احتمال نجاح عملية واحدة على الأقل إذا أُجريت العملية ثلاث مرات؟

(A) 0.001 (B) 0.1

(C) 0.9 (D) 0.999

**(17) تنس طاولة:** كسب لاعب 85% من مبارياته التي لعبها خلال مسيرته الرياضية. أوجد الاحتمالات الآتية:

(a) أن يكسب 3 مباريات من بين 5 مباريات قادمة.

(b) أن يكسب مبارتين على الأقل من بين المباريات الخمس القادمة.

(c) أن يخسر مباراة واحدة على الأقل في مبارياته الخمس القادمة.

لكل من التوزيعات ذات الحدين الآتية، يدلّ الرمز  $n$  على عدد المحاولات، ويدلّ الرمز  $p$  على احتمال نجاح كل محاولة. أوجد احتمال الحصول على  $X$  من النجاحات.

$$n = 8, p = 0.3, X \geq 2 \quad (18)$$

$$n = 10, p = 0.2, X > 2 \quad (19)$$

$$n = 6, p = 0.6, X \leq 4 \quad (20)$$

$$n = 9, p = 0.25, X \leq 5 \quad (21)$$

$$n = 10, p = 0.75, X \geq 8 \quad (22)$$

$$n = 12, p = 0.1, X < 3 \quad (23)$$

## مسائل مهارات التفكير العليا

**(24) تحدّد:** في تقريب التوزيع ذي الحدين إلى التوزيع الطبيعي، إذا علمت أن احتمال وجود 60 - 66 نجاحاً يساوي 34%، وكان  $\bar{x} = 60$ ، واحتمال النجاح 36%، فكم كان عدد المحاولات؟

**(25) تبرير:** حدّد ما إذا كانت العبارة الآتية صحيحة دائماً، أو صحيحة أحياناً، أو غير صحيحة أبداً. وبرّر إجابتك. « من الأفضل أن تجد احتمال الفشل وتطرّحه من 1 لتجد احتمال النجاح ».

**(26) مسألة مفتوحة:** صف حالة من أنشطة المدرسة أو المجتمع ينطبق عليها التوزيع ذو الحدين، وحدّد عدد المحاولات المستقلة ( $n$ )، وكلاً من: احتمال النجاح واحتمال الفشل في المحاولة الواحدة.

**(27) اكتب:** فسّر العلاقة بين التجربة ذات الحدين والتوزيع ذي الحدين.



## ملخص الفصل

## مفاهيم أساسية

## العينة والمجتمع (الدرسان 7-1، 7-2)

- تكون العينة متحيزة إذا صُممت لصالح نواتج معينة .
- تكون العينة غير متحيزة إذا كانت عشوائية.

## الارتباط والسببية

- عندما يوجد ارتباط بين ظاهرتين فإن كلاً منهما تؤثر في الأخرى، وعندما يوجد سببية، فإن وقوع ظاهرة معينة يكون سبباً مباشراً في وقوع الظاهرة الأخرى .

## هامش خطأ المعاينة

- عند سحب عينة حجمها  $n$  من مجتمع، فإنه يمكن تقريب هامش خطأ المعاينة بالقيمة  $\pm \frac{1}{\sqrt{n}}$  .

الانحراف المعياري	
العينة	المجتمع
$\sqrt{\frac{\sum_{k=1}^n (x_k - \bar{x})^2}{n-1}}$	$\sqrt{\frac{\sum_{k=1}^n (x_k - \mu)^2}{n}}$

## الاحتمال المشروط (الدرس 7-3)

- الاحتمال المشروط: هو احتمال وقوع حادثة معينة إذا علم وقوع حادثة أخرى .
- الجدول التوافقي: هي جداول تكرارية ذات بعدين، يتم فيها تسجيل بيانات ضمن خلايا، حيث إن كل خلية من خلايا الجدول تمثل تكراراً يسمى تكراراً سببياً، إذ يكون منسوباً إلى مجموع التكرارات في الجدول، أو منسوباً إلى مجموع التكرارات في الصف الذي تقع فيه الخلية، أو منسوباً إلى مجموع التكرارات في العمود الذي تقع فيه الخلية، ويمكن استعمال الجداول التوافقية في إيجاد الاحتمال المشروط .

## التوزيعات الاحتمالية (الدروس 7-4، 7-5، 7-6)

المفهوم	الوصف
منفصل	عدد محدد من النواتج الممكنة
متصل	عدد غير محدد من النواتج الممكنة
طبيعي	منحنيات متماثلة
ملتوي	منحنيات غير متماثلة
تجربة ذات الحدين	تجربة احتمالية يكون لها نتيجتان فقط

الانحراف المعياري ص 51	الدراسة المسحية ص 44
الاحتمال المشروط ص 55	المجتمع ص 44
الجدول التوافقي ص 56	تعداد عام ص 44
التكرار النسبي ص 56	العينة ص 44
النجاح ص 60	المتحيزة ص 44
الفضل ص 60	غير المتحيزة ص 44
المتغير العشوائي ص 61	الدراسة القائمة على الملاحظة ص 45
المتغير العشوائي المنفصل ص 61	الدراسة التجريبية ص 45
التوزيع الاحتمالي ص 61	المجموعة التجريبية ص 45
التوزيع الاحتمالي المنفصل ص 61	المجموعة الضابطة ص 45
الاحتمال النظري ص 62	الارتباط ص 46
الاحتمال التجريبي ص 62	السببية ص 46
القيمة المتوقعة ص 62	التحليل الإحصائي ص 50
التوزيع الاحتمالي المتصل ص 66	المتغير ص 50
التوزيع الملنوي ص 66	بيانات في متغير واحد ص 50
تجربة ذات حدين ص 72	مقياس النزعة المركزية ص 50
التوزيع ذو الحدين ص 73	المعلمة ص 50
	الإحصائي ص 50
	هامش خطأ المعاينة ص 51
	مقاييس التشتت ص 51
	التباين ص 51

## اختبر مفرداتك

اختر المفردة المناسبة لكل عبارة مما يأتي من القائمة أعلاه:

- \_\_\_\_\_ لمتغير عشوائي معين هو دالة تربط فضاء العينة باحتمالات نواتج فضاء العينة .
- عندما توجد علاقة بين حادثتين، فإنه يوجد \_\_\_\_\_ بينهما .
- الدراسة المسحية تكون \_\_\_\_\_ إذا صُممت لصالح نواتج معينة .
- إذا أعطيت مجموعة معالجة شكلية لا أثر لها في النتيجة، فإن هذه المجموعة تُسمى \_\_\_\_\_ .
- يُحدّد \_\_\_\_\_ الفترة التي تبين الفرق في الاستجابة بين العينة والمجتمع .



الدراسات التجريبية والمسحية والقائمة على الملاحظة (الصفحات 44 - 49)

7-1

مثال 1

اختر صاحب وكالة للسيارات 100 زبون عشوائياً قاموا بإجراء الصيانة الدورية لسياراتهم في الوكالة حديثاً، وطرح سؤالاً عليهم حول نوعية الخدمة التي تقدمها الوكالة. هل يُمثّل الزبائن الذين تم اختيارهم عينة متحيزة أم غير متحيزة؟ فسّر إجابتك.  
غير متحيزة؛ لأن لكل شخص من زبائن الوكالة الفرصة نفسها لأن يكون من بين العينة.

حدّد ما إذا كانت كل دراسة مسحية فيما يأتي تتبني عينة متحيزة أو غير متحيزة، ثم فسّر إجابتك:

(6) يتم اختيار كل عاشر متسوّق يخرج من مجمع تجاري؛ لمعرفة إن كان مرتاحاً أو مطمئناً لشرائه من المجمع.

(7) يتم اختيار كل عاشر طالب يخرج من المدرسة؛ لمعرفة أحب المواد الدراسية إليه في المدرسة.

(8) يطلب أحد مطاعم الوجبات السريعة إلى زبائنه أن يكملوا استبانة حول أفضل مطعم للوجبات السريعة.

حدّد ما إذا كانت كل حالة تحتاج إلى دراسة مسحية أو دراسة قائمة على الملاحظة أو دراسة تجريبية.

(9) اختر 100 طالب نصفهم يعمل جزئياً بعد الدراسة، وقارن بين الأوساط لدرجاتهم.

(10) اختر 100 شخص، وقسمهم إلى نصفين عشوائياً، ودع إحدى المجموعتين تتناول وجبات قليلة الدسم، بينما تتناول الأخرى وجبات اعتيادية. وقارن النتائج؛ لمعرفة أثر الوجبات القليلة الدسم على صحة الجسم.

مثال 2

وزّع معلم الرياضيات طلابه مجموعتين عشوائياً، وطبّق عليهم اختباراً، حيث طلب من المجموعة الأولى أداء تمارين رياضية قبل الاختبار، بينما أعطى المجموعة الثانية الاختبار دون أن يطلب منهم تأدية أي تمارين رياضية، وقارن نتائجهم في الاختبار. هل هذه الدراسة دراسة مسحية أم دراسة قائمة على الملاحظة أم دراسة تجريبية؟ وإذا كانت تجريبية، فاذكر كلاً من المجموعتين الضابطة والتجريبية، ثم بيّن ما إذا كانت الدراسة متحيزة أم لا.

دراسة تجريبية: المجموعة التجريبية هي الأولى، والضابطة هي الثانية، والدراسة التجريبية متحيزة؛ لأن كل طالب يعرف المجموعة التي ينتمي إليها.

التحليل الإحصائي (الصفحات 50 - 54)

7-2

مثال 3

قال 12% من عينة حجمها 2645 شخصاً: إن كرة القدم هي الأكثر تفضيلاً لديهم. ما هامش خطأ المعاينة؟

$$\begin{aligned} \text{هامش خطأ المعاينة} &= \pm \frac{1}{\sqrt{n}} \\ &= \pm \frac{1}{\sqrt{2645}} \\ &\approx \pm 0.019 \end{aligned}$$

هامش خطأ المعاينة  $\pm 1.9\%$  تقريباً.

(11) **فصول السنة:** في دراسة مسحية عشوائية شملت 3446 شخصاً، ذكر 34% منهم أن الربيع هو أفضل فصول السنة لديهم. ما هامش الخطأ في المعاينة؟

(12) **سباحة:** في أثناء تمرين السباحة، قاس خالد الأزمنة التي استغرقها في كل مرة لقطع مسافة 400m، وسجل النتائج الممثلة في الجدول أدناه. أوجد الانحراف المعياري للأزمنة التي حققها.

الزمن بالثواني					
307	312	308	320	311	301
302	304	308	309	315	313
306	314	316	313	313	311
309	306	310	319	326	329
309	314	318	315	318	320



### 7-3 الاحتمال المشروط (الصفحات 55 - 58)

#### مثال 4

**دراسة:** أوجد احتمال أن يأخذ طالب اختيار عشوائياً حصة إضافية علمًا بأنه طالب جديد.

ياخذ حصصاً إضافية (E)	لا يأخذ حصصاً إضافية (X)	
126	84	طالب جديد (N)
98	72	طالب قديم (O)

$$P(E|N) = \frac{P(E \cap N)}{P(N)}$$

$$P(E \cap N) = \frac{126}{380}, P(N) = \frac{210}{380}$$

$$= \frac{126}{380} \div \frac{210}{380}$$

$$= \frac{126}{210} = \frac{3}{5}$$

قانون الاحتمال المشروط

بسّط

**(13) كرة طائرة:** يحصل طارق على نقطة في 65% من مرات قيامه بضربة الإرسال، ما احتمال ألا يحصل على نقطة في ضربة الإرسال الثانية علمًا بأنه حصل على نقطة في ضربة الإرسال الأولى؟

**(14)** في الجدول أدناه إذا اختير طالب عشوائياً فأجب عما يأتي:

لا يلبس نظارات	يلبس نظارات	
15	6	الأول الثانوي
22	5	الثاني الثانوي

**(a)** ما احتمال أن يكون الطالب من الأول الثانوي علمًا بأنه يلبس نظارات؟

**(b)** ما احتمال أن يكون من الذين لا يلبسون النظارات علمًا بأنه من الثاني الثانوي؟

### 7-4 الاحتمال والتوزيعات الاحتمالية (الصفحات 60 - 65)

#### مثال 5

لدى حمزة 5 كتب في حقيبته، هي الرياضيات والكيمياء واللغة الإنجليزية واللغة العربية والتاريخ. إذا قام بترتيبها على رف في صف واحد عشوائياً، فما احتمال أن تأتي كتب اللغة الإنجليزية واللغة العربية والرياضيات في أقصى اليسار؟

**الخطوة 1** حدّد عدد النجاحات.

$$3P_3 \text{ مكان الكتب الثلاثة إلى اليسار}$$

$$2P_2 \text{ أمكنة الكتابين الآخرين}$$

استعمل التباديل ومبدأ العد الأساسي لإيجاد  $s$ .

$$s = 3P_3 \cdot 2P_2 = 3! \cdot 2! = 12$$

**الخطوة 2** أوجد عدد عناصر فضاء العينة  $s + f$ .

$$s + f = 120 \quad 5P_5 = 5! = 120$$

وتمثل عدد الترتيبات الممكنة للكتب الخمسة على الرف.

**الخطوة 3** أوجد الاحتمال.

$$P(S) = \frac{s}{s+f} = \frac{12}{120} = 0.1$$

احتمال النجاح

احتمال وضع كتب اللغة الإنجليزية واللغة العربية والرياضيات في أقصى اليسار يساوي 0.1 أو 10%.

**قرعة الألعاب:** خلط يوسف بطاقات الألعاب جميعها في صندوق، حيث تشكّلت البطاقات من 12 بطاقة لكرة القدم، 8 بطاقات لكرة الطائرة، 5 بطاقات لكرة السلة وجميعها متماثلة. إذا تم اختيار 3 بطاقات بصورة عشوائية، فأوجد احتمال كل من:

**(15)** 3 بطاقات لكرة الطائرة.

**(16)** 3 بطاقات لكرة القدم  $P$

**(17)** بطاقة لكرة السلة وبطقتان لكرة الطائرة  $P$

**(18)** بطقتان لكرة السلة وبطاقة لكرة القدم  $P$

**(19) بطاقات:** مجموعة بطاقات مرقّمة مكوّنة من 3 بطاقات عليها الرقم 9، 4 عليها العدد 10، 5 عليها الرقم 6، 4 عليها الرقم 5، وبطقتين على كلٍّ منهما الرقم 2، وبطاقة عليها الرقم 3. إذا سحبت بطاقة عشوائياً من مجموعة البطاقات، فما القيمة المتوقّعة لهذه البطاقة؟



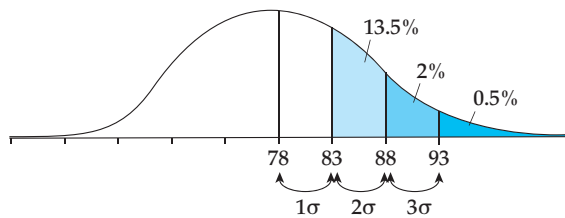


## التوزيع الطبيعي (الصفحات 66 - 71)

7-5

## مثال 6

تتوزع مجموعة من البيانات توزيعاً طبيعياً بمتوسط 78، وانحراف معياري 5. أوجد احتمال أن تزيد قيمة لـ  $X$  اختيرت عشوائياً عن 83.



بما أن  $\mu + \sigma = 78 + 5 = 83$ ؛ لذا فإن الاحتمال المطلوب يكون مساوياً  $13.5\% + 2\% + 0.5\% = 16\%$

في كل من السؤالين الآتيين توزيع طبيعي بمتوسط وانحراف معياري. أوجد الاحتمال المطلوب في كل منهما.

$$\mu = 121, \sigma = 9, P(X > 103) \quad (20)$$

$$\mu = 181, \sigma = 12, P(X > 169) \quad (21)$$

(22) **زمن الركض:** أزمنة الركض لمسافة 40m لفريق كرة القدم المدرسي تتوزع توزيعاً طبيعياً بمتوسط 4.7s، وانحراف معياري 0.15s. ما نسبة اللاعبين الذين يقل زمن قطعهم المسافة عن 4.4s؟

## التوزيعات ذات الحدين (الصفحات 72 - 77)

7-6

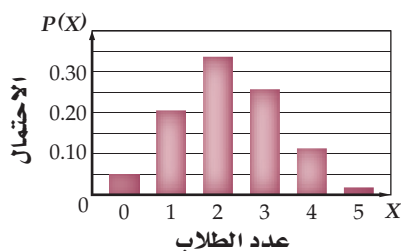
## مثال 7

**رسم هندسي:** أُجريت دراسة في إحدى المدارس، فبتبين أن 45% من الطلاب يستطيعون رسم مخروط. إذا تم اختيار 5 منهم بشكل عشوائي، ومثل المتغير العشوائي  $X$  عدد الطلاب الذين لديهم مقدرة على رسم مخروط، فأجب عما يأتي:

(a) كوّن جدول التوزيع الاحتمالي لذات الحدين للمتغير  $X$ ، ومثله بالأعمدة.

في هذه المسألة  $n = 5, p = 0.45, q = 1 - 0.45 = 0.55$ .

$X$	0	1	2	3	4	5
$P(X)$	0.050	0.206	0.337	0.276	0.113	0.018



(b) أوجد المتوسط والانحراف المعياري والتباين للتوزيع.

$$\mu = np = 5(0.45) = 2.25$$

$$\sigma^2 = npq = 5(0.45)(0.55) = 1.2375$$

$$\sigma = \sqrt{\sigma^2} = \sqrt{1.2375} \approx 1.1124$$

(23) **أشخاص مشهورون:** في إحدى الدراسات تبين أن 63% من الشباب يفضلون أداء أحد الرياضيين المشهورين. إذا اختير 5 من الشباب عشوائياً، وتم سؤالهم عما إذا كانوا يفضلون أداء هذا الرياضي أو لا.

(a) إذا مثل المتغير العشوائي  $X$  عدد الشباب الذين يفضلون أداء هذا الرياضي، فكوّن جدول التوزيع الاحتمالي لذات الحدين للمتغير  $X$ ، ومثله بالأعمدة.

(b) أوجد احتمال أن يكون أكثر من 2 من الشباب يفضلون أداء هذا الرياضي.

(24) **ساعات:** أشارت دراسة مسحية للبالغين أن ما نسبته 74% من البالغين يلبسون ساعة يد. وقد قام بكر باستطلاع رأي 200 شخص من البالغين عشوائياً. ما احتمال أن يكون 160 شخصاً على الأقل ممن شملهم الاستطلاع يلبسون ساعة يد؟

## تطبيقات ومسائل

**(28)** رُميت 3 قطع نقد مرة واحدة. إذا كان المتغير العشوائي  $X$  يدل على عدد مرات ظهور الشعار، فاكتب جدول التوزيع الاحتمالي للمتغير العشوائي  $X$ ، ثم مثله بالأعمدة. (الدرس 4-7)

**(29) سكة حديد:** إذا كانت الفترات الزمنية للانتظار التي يقضيها 16000 مسافر في إحدى محطات سكك الحديد موزعة توزيعاً طبيعياً بمتوسط 72 min، وانحراف معياري 15 min، فأوجد نسبة المسافرين الذين ينتظرون أكثر من 42 min. (الدرس 5-7)

**(30) إجازات:** في دراسة مسحية سابقة وجد أن ما نسبته 70% من العاملين يأخذون إجازاتهم السنوية في الصيف، لكن محسناً يعتقد أن هذا الرقم مبالغ فيه، فقام باستطلاع رأي 650 عاملاً عشوائياً. ما احتمال ألا يأخذ أكثر من 420 عاملاً إجازاتهم في الصيف؟ (الدرس 6-7)

**(25)** حدّد ما إذا كان كل موقف مما يأتي يمثل دراسة تجريبية، أو دراسة قائمة على الملاحظة، وفي حالة الدراسة التجريبية، اذكر كلاً من المجموعة الضابطة والمجموعة التجريبية، ثم بيّن إن وجد تحيز أو لا: (الدرس 1-7)

**(a)** اختر 100 طالب نصفهم يأتي إلى المدرسة مبكراً، وقارن بين تحصيلهم في مادة معينة.

**(b)** اختر 100 موظف، واقسمهم نصفين، وأخضع إحدى المجموعتين إلى دورة في اللغة الإنجليزية، أما الأخرى فلا تخضعها لأي دورة تدريبية.

**(26)** اختير 10 طلاب بصورة عشوائية من الصف الثالث الثانوي، وقيست أطوالهم بالسنتيمترات فكانت كما يلي:

170, 165, 155, 168, 177, 180, 168, 167, 160, 161

بيّن ما إذا كانت هذه البيانات تمثل عينة أم مجتمعاً، ثم اوجد الانحراف المعياري لهذه الأطوال. (الدرس 2-7)

**(27)** سجّلت أعداد الطلاب ذوي العيون الزرقاء أو غير الزرقاء في أحد المعاهد.

سنة أولى	سنة ثانية	
5	10	عيون زرقاء
95	80	عيون ليست زرقاء

إذا اختير أحد الطلاب عشوائياً، فأوجد احتمال أن تكون عيونه زرقاء علماً بأنه في السنة الثانية. (الدرس 3-7)



**(11) اختبارات:** أعطى المعلم أيمن طلابه الفرصة لإعادة أحد الاختبارات، كما عقد درس مراجعة اختياري يوم الخميس قبل إعادة الاختبار لمن يرغب. بعض الطلاب تحسّن أداءهم، والبعض الآخر لم يتحسن، والجدول أدناه يبين ذلك. إذا اختير طالب عشوائياً، فأوجد:

لم يتحسن	تحسن	
3	12	حضر المراجعة
6	4	لم يحضر المراجعة

- (a) احتمال أن يكون قد تحسّن علمًا بأنه حضر المراجعة.  
(b) احتمال أنه لم يحضر المراجعة علمًا بأنه لم يتحسن.

**(12) اختيار من متعدد:** شارك 10 طلاب من الصف الأول الثانوي، و12 طالبًا من الصف الثاني الثانوي في السحب على 5 جوائز. إذا كان السحب عشوائياً، فما احتمال أن يكون الراحون 3 من الصف الأول الثانوي، وطالبين من الصف الثاني الثانوي؟

- A 0.46% تقريباً  
B 0.25% تقريباً  
C 70% تقريباً  
D 30% تقريباً

**(13) سُحبت كرتان معاً من صندوق يحتوي على 3 كرات زرقاء، وكرتين حمراوين. إذا كان المتغير العشوائي  $X$  يدل على عدد الكرات الزرقاء المسحوبة، فكوّن جدول التوزيع الاحتمالي للمتغير العشوائي  $X$ .**

**(14) طقس:** أخبر الراصد الجوي أن احتمال سقوط المطر في كل يوم من الأيام السبعة القادمة 40%. أوجد احتمال أن يسقط المطر في يومين من هذه الأيام على الأقل.

**(15) حديقة:** يخطط يعقوب لزرع 24 شجرة أزهار، إذا علمت أن البذور التي أحضرها لأزهار من اللونين الأبيض والأزرق، وأنها لم تزهر بعد، ولكنه يعلم أن احتمال الحصول على زهرة زرقاء 75%، فما احتمال حصوله على 20 زهرة زرقاء على الأقل؟



حدّد ما إذا كانت العبارات الآتية تصف ارتباطاً أو سببية، ثم فسّر إجابتك:  
(1) عندما يرى محمود البرق، فإنه يسمع الرعد بعد ذلك.  
(2) عندما يركض نايف عند مدخل المدرسة، فإنه يكون متأخراً عن المدرسة.

حدّد ما إذا كانت كل دراسة مسحية فيما يأتي تتبنى عينة متحيزة أو غير متحيزة، ثم فسّر إجابتك:

(3) استطلع صاحب مخزن يبيع من خلال الشبكة العنكبوتية زبائنه عن أهمية وجود الإنترنت في المنزل.  
(4) يختار معلم 5 أسماء لطلاب يدرسهم؛ للإلقاء كلمة الصباح بعد أن يقوم بوضع الأسماء جميعها في سلة ويخلطها.

أي مقاييس النزعة المركزية يصف كلاً من البيانات الآتية بصورة أفضل؟ ولماذا؟

(5)

درجات اختبار				
3	3	3	4	4
4	4	5	5	4
4	3	3	3	3
4	4	3	3	3
3	4	3	5	4

(6)

الطول بالبوصة				
64	61	62	64	61
83	66	61	65	63
61	65	62	63	84
61	63	66	62	61

فيما يأتي المتوسط والانحراف المعياري لمجموعة من البيانات تتوزع توزيعاً طبيعياً، أوجد الاحتمال المطلوب في كل منها:

$$\mu = 54, \sigma = 5, P(X > 44) \quad (7)$$

$$\mu = 35, \sigma = 2.4, P(X < 37.4) \quad (8)$$

يحتوي كيس على 10 كرات زجاجية زرقاء، و8 كرات حمراء، و12 خضراء، وجميعها متماثلة، سُحبت كرتان واحدة تلو الأخرى، أوجد الاحتمال لكل من:

(9) الكرة الثانية حمراء، علمًا بأن الكرة الأولى زرقاء دون إرجاع.

(10) الكرة الثانية زرقاء، علمًا بأن الكرة الأولى خضراء مع الإرجاع.



### فيما سبق:

درست النهايات ومعدلات التغير.

### والآن:

- أحسب نهايات دوال كثيرات الحدود والدوال النسبية.
- أجد معدلات التغير اللحظية.
- أجد مشتقات دوال كثيرات الحدود، وأحسب قيمها.
- أجد المساحة تحت منحنى دالة باستعمال التكامل المحدد.
- أجد الدالة الأصلية، وأستعمل النظرية الأساسية في التفاضل والتكامل في إيجاد التكامل المحدد.

### لماذا؟

**الأفعوانية:** يُعد الاشتقاق وسيلة فاعلة ومهمة عند دراسة معدلات التغير غير الثابتة، فإذا ركبت الأفعوانية يوماً، فإن سرعتك وتسارعك يتغيران باستمرار مع الزمن بالاعتماد على موقعك، وستدرس في هذا الفصل مسائل تحتوي مواقف مشابهة.

**قراءة سابقة:** استعمل أسئلة اختبار منتصف الفصل؛ لتساعدك على توقع محتوى النصف الأول من الفصل.





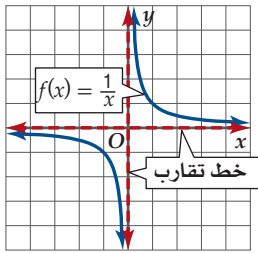
## مراجعة المفردات

### النهاية (limit)

الاقتراب من قيمة دون الوصول إليها بالضرورة.

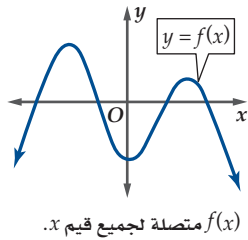
### خطوط التقارب (asymptotes)

خط يقترب من منحنى الدالة دون أن يصله.



### الدالة المتصلة (continuous function)

تكون الدالة متصلة إذا لم يكن في تمثيلها البياني أي انقطاع أو قفزة.



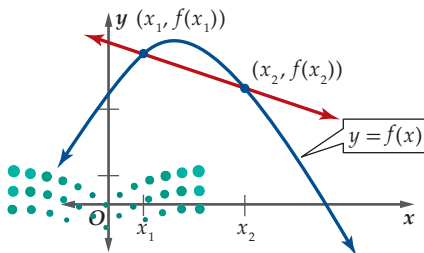
$f(x)$  متصلة لجميع قيم  $x$ .

### عدم الاتصال القابل للإزالة (removable discontinuity)

نقاط عدم اتصال قابلة للإزالة تحدث غالباً عندما يكون بين بسط ومقام الدالة النسبية عوامل مشتركة.

### متوسط معدل التغير (average rate of change)

متوسط معدل التغير بين نقطتين على منحنى الدالة  $f(x)$  هو ميل المستقيم المار بهاتين النقطتين.

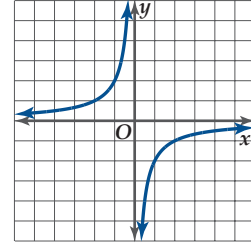
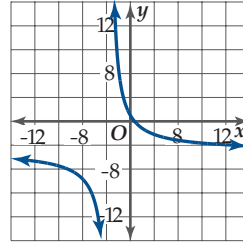


## اختبار سريع

استعمل التمثيل البياني لوصف سلوك طرفي التمثيل البياني لكل دالة مما يأتي:

$$m(x) = \frac{7-10x}{2x+7} \quad (2)$$

$$q(x) = -\frac{2}{x} \quad (1)$$



(3) صناعة: يمكن تقدير معدل التكلفة بالريال لإنتاج  $x$  قطعة من

منتج ما باستعمال الدالة  $A(x) = \frac{1700}{x} + 1200$ . صف سلوك الدالة باستعمال التمثيل البياني للحاسبة البيانية عندما تقترب  $x$  من موجب ما لانهاية.

(4) أوجد متوسط مُعدّل تغيّر الدالة  $f(x) = -2x^3 - 5x^2 + 6$  على الفترة  $[-4, -1]$ .

أوجد معادلات خطوط التقارب الرأسية والأفقية (إن وجدت) لكل دالة مما يأتي:

$$h(x) = \frac{2x^2 - 8}{x - 10} \quad (6) \quad f(x) = \frac{4x^2}{2x^2 + 1} \quad (5)$$

$$g(x) = \frac{x^2 - 16}{(x - 2)(x + 4)} \quad (8) \quad f(x) = \frac{(x - 1)(x + 5)}{(x + 2)(x - 4)} \quad (7)$$

أوجد الحدود الأربعة التالية في كل متتابعة مما يأتي:

$$5, -1, -7, -13, \dots \quad (10) \quad 8, 3, -2, -7, \dots \quad (9)$$

$$-28, -21, -14, -7, \dots \quad (12) \quad 5, -10, 20, -40, \dots \quad (11)$$





## لماذا؟

هل هناك نهايات للأرقام المسجلة في المسابقات الرياضية لا يمكن تجاوزها؟  
لقد كان الرقم القياسي المسجل في دورة الألعاب المقامة في بكين عام 2008 م  
لمسابقة الوثب بالزانة 5.05 m. ويمكن استعمال الدالة:

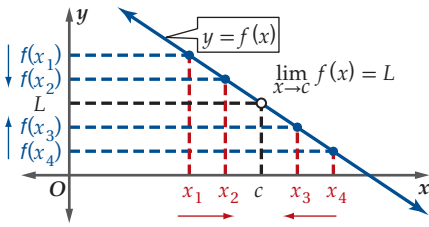
$$f(x) = \frac{5.334}{1 + 62548.213(2.7)^{-0.129x}}$$

هذه الرياضة للأعوام بين 1996 م و2008 م، حيث  $x$  عدد السنوات منذ عام  
1900 م، يمكنك استعمال نهاية هذه الدالة عندما تقترب  $x$  من المالانهاية؛ للتنبؤ  
بأكبر رقم يمكن تسجيله.

**تقدير النهايات عند قيم محددة:** يتمحور علمُ التفاضل والتكامل حول مسألتين أساسيتين:

- إيجاد معادلة مماس منحنى دالة عند نقطة واقعة عليه.
- إيجاد مساحة المنطقة الواقعة بين التمثيل البياني لدالة والمحور  $x$ .

وتعدُّ مفاهيم النهايات أساسية لحل هاتين المسألتين.



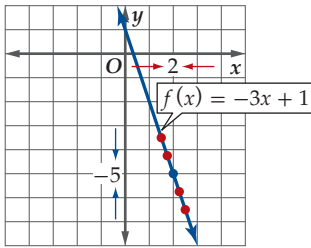
تعلمت سابقاً أنه إذا اقتربت قيم  $f(x)$  من قيمة وحيدة  $L$ ،  
كلما اقتربت قيم  $x$  من العدد  $c$  من كلا الجهتين، فإن نهاية  $f(x)$  عندما  
تقترب  $x$  من  $c$  هي  $L$ ، وتكتب على الصورة  $\lim_{x \rightarrow c} f(x) = L$ .

يمكنك تطبيق مفهوم النهاية لتقدير نهاية  $f(x)$  عندما تقترب  $x$  من  
العدد  $c$ ؛ أي  $\lim_{x \rightarrow c} f(x)$ ، وذلك من خلال تمثيل الدالة بيانياً، أو إنشاء  
جدول لقيم  $f(x)$ .

## تقدير النهاية (النهاية تساوي قيمة الدالة)

## مثال 1

قدّر  $\lim_{x \rightarrow 2} (-3x + 1)$  باستعمال التمثيل البياني، ثم عزّز إجابتك باستعمال جدول قيم.



$x$	1.9	1.99	1.999	2	2.001	2.01	2.1
$f(x)$	-4.7	-4.97	-4.997		-5.003	-5.03	-5.3

## تحقق من فهمك

قدّر كل نهاية مما يأتي باستعمال التمثيل البياني، ثم عزّز إجابتك باستعمال جدول قيم.

$$\lim_{x \rightarrow 1} (x^2 - 1) \quad \text{1B}$$

$$\lim_{x \rightarrow -3} (1 - 5x) \quad \text{1A}$$

## فيما سبق:

درست تقدير النهايات  
لتحديد اتصال الدالة  
وسلوك طرفي تمثيلها  
البياني. (مهارة سابقة)

## والآن:

- أقدّر نهاية الدالة عند قيم محددة.
- أقدّر نهاية الدالة عند المالانهاية.

## المضردات:

النهاية من جهة واحدة  
one-sided limit

النهاية من جهتين  
two-sided limit



## تاريخ الرياضيات

ثابت بن قرة  
(221هـ-288هـ)

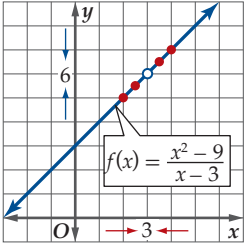
من أوائل من فكروا بعلم التفاضل والتكامل، حيث أوجد حجم الجسم الناتج عن دوران القطع المكافئ حول محوره.



في المثال 1 ، لاحظ أن  $\lim_{x \rightarrow 2} (-3x + 1)$  هي نفسها  $f(2)$ ، إلا أن نهاية الدالة لا تساوي دائماً قيمة الدالة.

## مثال 2 تقدير النهاية (النهاية لا تساوي قيمة الدالة)

قدّر  $\lim_{x \rightarrow 3} \frac{x^2 - 9}{x - 3}$  باستخدام التمثيل البياني، ثم عزّز إجابتك باستخدام جدول قيم.  
التحليل بيانياً:



التعزيز عددياً:

كوّن جدولاً لقيم  $f(x)$ ، وذلك باختيار قيم  $x$  القريبة من العدد 3 من كلا الجهتين.

$x$	2.9	2.99	2.999	3	3.001	3.01	3.1
$f(x)$	5.9	5.99	5.999		6.001	6.01	6.1

تحقق من فهمك

قدّر كل نهاية مما يأتي باستخدام التمثيل البياني، ثم عزّز إجابتك من خلال جدول قيم.

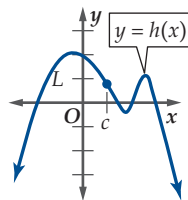
$$\lim_{x \rightarrow 5} \frac{x^2 - 4x - 5}{x - 5} \quad (2B)$$

$$\lim_{x \rightarrow -2} \frac{x + 2}{x^2 - 4} \quad (2A)$$

في المثال 2، لاحظ أن قيم  $f(x)$  تقترب من العدد 6 عند اقتراب قيم  $x$  من العدد 3، على الرغم من أن  $f(3) \neq 6$ .  
فالعبارة  $\frac{x^2 - 9}{x - 3}$  غير معرفة عندما  $x = 3$ . وهذه الملاحظة توضّح مفهوماً مهماً في النهايات.

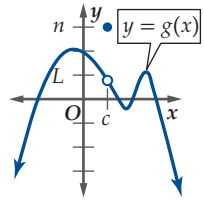
## مفهوم أساسي عدم اعتماد النهاية على قيمة الدالة عند نقطة

التعبير اللفظي: لا تعتمد نهاية  $f(x)$  عندما تقترب  $x$  من العدد  $c$  على قيمة الدالة عند  $c$ .



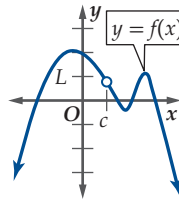
$$\lim_{x \rightarrow c} h(x) = L$$

$$h(c) = L$$



$$\lim_{x \rightarrow c} g(x) = L$$

$$g(c) = n$$



$$\lim_{x \rightarrow c} f(x) = L$$

$$f(c) \text{ غير معرفة}$$

لاحظ أننا عندما نقدر النهاية باستعمال التمثيل البياني أو جدول القيم، فإننا نبحث عن قيمة  $f(x)$  عندما تقترب  $x$  من  $c$  من كلا الجهتين. ويمكننا إيجاز وصف سلوك التمثيل البياني عن يمين عدد أو عن يساره بمفردة النهاية من جهة واحدة.

### مفهوم أساسي النهايات من جهة واحدة

#### النهاية من اليسار

إذا اقتربت قيم  $f(x)$  من قيمة وحيدة  $L_2$ ، عند اقتراب قيم  $x$  من العدد  $c$  من اليسار، فإن:  
 $\lim_{x \rightarrow c^-} f(x) = L_2$ ، وتقرأ:

نهاية  $f(x)$  عندما تقترب  $x$  من  $c$  من اليمين هي  $L_1$  نهاية  $f(x)$  عندما تقترب  $x$  من  $c$  من اليسار هي  $L_2$

#### النهاية من اليمين

إذا اقتربت قيم  $f(x)$  من قيمة وحيدة  $L_1$ ، عند اقتراب قيم  $x$  من العدد  $c$  من اليمين، فإن:  
 $\lim_{x \rightarrow c^+} f(x) = L_1$ ، وتقرأ:

يمكننا باستعمال هذين التعريفين إيجاز ما تعنيه مفردة النهاية من جهتين، وما يعنيه كونها موجودة.

### تنبيه

**النهاية من اليمين والنهاية من اليسار للدالة**  
لمناقشة النهاية من اليمين لدالة عند  $c$  يجب أن نضمن أن الدالة معرفة على يمين  $c$  على فترة  $(c, b)$ ، ولمناقشة النهاية من اليسار لدالة عند  $c$  يجب أن نضمن أن الدالة معرفة على يسار  $c$  على فترة  $(a, c)$ .

### مفهوم أساسي النهاية عند نقطة

تكون نهاية  $f(x)$  موجودة عندما تقترب  $x$  من  $c$ ، إذا وفقط إذا كانت النهايتان من اليمين واليسار موجودتين ومتساويتين، أي أنه:

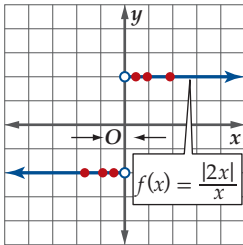
$$\lim_{x \rightarrow c^-} f(x) = \lim_{x \rightarrow c^+} f(x) = L$$

إذا وفقط إذا كان  $\lim_{x \rightarrow c} f(x) = L$

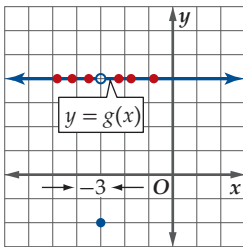
### مثال 3 تقدير النهاية من جهة واحدة ومن جهتين

قدر إن أمكن كلاً من النهايات الآتية باستعمال التمثيل البياني للدالة:

$$\lim_{x \rightarrow 0^-} \frac{|2x|}{x}, \lim_{x \rightarrow 0^+} \frac{|2x|}{x}, \lim_{x \rightarrow 0} \frac{|2x|}{x} \quad (a)$$



$$g(x) = \begin{cases} 4, & x \neq -3 \\ -2, & x = -3 \end{cases} \quad \text{حيث } \lim_{x \rightarrow -3^-} g(x), \lim_{x \rightarrow -3^+} g(x), \lim_{x \rightarrow -3} g(x) \quad (b)$$



تحقق من فهمك

قدر إن أمكن كلاً من النهايات الآتية إذا كانت موجودة:

$$\lim_{x \rightarrow 1^-} f(x), \lim_{x \rightarrow 1^+} f(x), \lim_{x \rightarrow 1} f(x) \quad (3A) \quad \text{حيث: } \lim_{x \rightarrow -2^-} g(x), \lim_{x \rightarrow -2^+} g(x), \lim_{x \rightarrow -2} g(x) \quad (3B) \quad \text{حيث:}$$

$$g(x) = \begin{cases} -0.5x + 2, & x < -2 \\ -x^2, & x \geq -2 \end{cases}$$

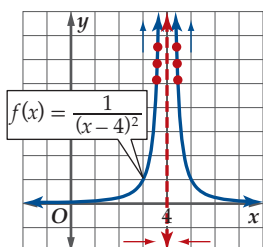
$$f(x) = \begin{cases} x^3 + 2, & x < 1 \\ 2x + 1, & x \geq 1 \end{cases}$$

إن عدم مقدرتنا على إيجاد قيمة نهاية للدالة  $f$  كعدد حقيقي عند الاقتراب من نقطة ثابتة ليس ناتجاً بالضرورة عن عدم تساوي النهايتين من اليسار واليمين؛ إذ من الممكن أن تزداد قيم  $f(x)$  بشكل غير محدود عند اقتراب قيم  $x$  من  $c$ ، وفي هذه الحالة نشير إلى النهاية بالرمز  $\infty$ ، أما إذا تناقصت قيم  $f(x)$  بشكل غير محدود عند اقتراب قيم  $x$  من  $c$ ، فإننا نشير إلى النهاية بالرمز  $-\infty$ .

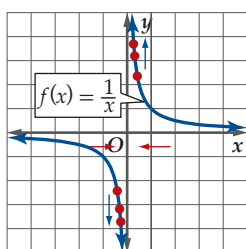
#### مثال 4 النهايات والسلوك غير المحدود

قَدِّر - إن أمكن - كل نهاية مما يأتي إذا كانت موجودة:

$$\lim_{x \rightarrow 4} \frac{1}{(x-4)^2} \quad (a)$$



$$\lim_{x \rightarrow 0} \frac{1}{x} \quad (b)$$



#### قراءة الرياضيات

##### السلوك غير المحدود

تعني زيادة أو نقصان  $f(x)$  بصورة غير محدودة عندما  $x \rightarrow c$ ، أنه باختيار قيمة  $x$  قريبة من  $c$  بالقدر الذي نريد، فإنه يمكننا الحصول على قيمة كبيرة لـ  $|f(x)|$  بالقدر الذي نريد، وكلما كانت  $x$  قريبة من  $c$  كانت  $|f(x)|$  أكبر.

#### تنبيه

##### النهايات غير المحدودة

من الضروري أن نفهم أن العبارتين

$$\lim_{x \rightarrow 0^-} f(x) = -\infty,$$

$$\lim_{x \rightarrow 0^+} f(x) = \infty$$

هما فقط وصف للحالة التي

$$\lim_{x \rightarrow 0} f(x)$$

بسببها غير موجودة، إذ لا يمثل

الرمزان  $\infty$  و  $-\infty$  عددين حقيقيين.

#### تحقق من فهمك

قَدِّر - إن أمكن - كل نهاية مما يأتي إذا كانت موجودة:

$$\lim_{x \rightarrow 0} -\frac{2}{x^4} \quad (4B)$$

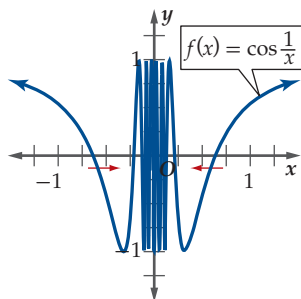
$$\lim_{x \rightarrow 3} \frac{x^2 - 4}{x - 3} \quad (4A)$$

لا تكون النهاية موجودة أيضًا عندما تتذبذب قيم  $f(x)$  بين قيمتين مختلفتين باقتراب قيم  $x$  من العدد  $c$ .

### النهايات والسلوك التذبذبي

#### مثال 5

قدّر  $\lim_{x \rightarrow 0} \cos \frac{1}{x}$  إذا كانت موجودة.



#### تحقق من فهمك

قدّر كل نهاية مما يأتي إذا كانت موجودة:

$$\lim_{x \rightarrow 0} (x^2 \sin x) \quad (5B)$$

$$\lim_{x \rightarrow 0} \sin \frac{1}{x} \quad (5A)$$

نلخص فيما يأتي أهم ثلاثة أسباب تجعل نهاية الدالة عند نقطة غير موجودة.

### أسباب عدم وجود نهاية عند نقطة

### ملخص المفهوم

تكون  $\lim_{x \rightarrow c} f(x)$  غير موجودة في الحالات الآتية:

- عندما تقترب قيم  $f(x)$  من قيمتين مختلفتين عند اقتراب قيم  $x$  من العدد  $c$  من اليسار ومن اليمين.
- عندما تزداد قيم  $f(x)$  بشكل غير محدود عند اقتراب قيم  $x$  من العدد  $c$  من اليسار وتتناقص قيمها بشكل غير محدود عند اقتراب  $x$  من العدد  $c$  من اليمين، أو العكس.
- عندما تتذبذب قيم  $f(x)$  بين قيمتين مختلفتين عند اقتراب قيم  $x$  من العدد  $c$ .

**تقدير النهاية عند المالانهاية:** درست فيما سبق استعمال النهايات لوصف سلوك  $f(x)$  عندما تقترب قيم  $x$  من عدد ثابت  $c$ ، وتستعمل النهايات أيضًا لوصف سلوك طرفي التمثيل البياني للدالة. وهو سلوك الدالة عند ازدياد أو نقصان قيم  $x$  بشكل غير محدود. وفيما يأتي ملخص لرموز هذه النهايات.

### النهايات عند المالانهاية

### مفهوم أساسي

- إذا اقتربت قيم  $f(x)$  من عدد وحيد  $L_1$  عند ازدياد قيم  $x$  بشكل غير محدود، فإن:  $\lim_{x \rightarrow \infty} f(x) = L_1$ ، وتقرأ «نهاية  $f(x)$  عندما تقترب قيم  $x$  من موجب مالانهاية هي  $L_1$ »
- إذا اقتربت قيم  $f(x)$  من عدد وحيد  $L_2$  عند نقصان قيم  $x$  بشكل غير محدود، فإن:  $\lim_{x \rightarrow -\infty} f(x) = L_2$ ، وتقرأ «نهاية  $f(x)$  عندما تقترب قيم  $x$  من سالب مالانهاية هي  $L_2$ »

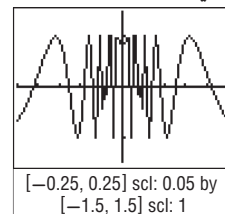
درست سابقًا أنه إذا اقتربت قيم الدالة من  $\infty$  أو  $-\infty$  عند اقتراب قيم  $x$  من عدد ثابت  $c$ ، فإن ذلك يعني وجود خط تقارب رأسي للدالة، كما درست أن خط التقارب الأفقي يحدث عندما تقترب قيم الدالة من عدد حقيقي كلما اقتربت قيم  $x$  من  $\infty$  أو  $-\infty$ ، بمعنى:

- المستقيم  $x = c$  هو خط تقارب رأسي للدالة  $f$ ، إذا كانت  $\lim_{x \rightarrow c} f(x) = \pm\infty$  أو  $\lim_{x \rightarrow c} f(x) = \pm\infty$  أو كليهما.
- المستقيم  $y = c$  هو خط تقارب أفقي للدالة  $f$ ، إذا كانت  $\lim_{x \rightarrow \infty} f(x) = c$  أو  $\lim_{x \rightarrow -\infty} f(x) = c$ .

### إرشاد تقني

#### التذبذب اللانهائي

خاصية تتبع المسار في الحاسبة البيانية تزيد غالبًا في توقع قيمة النهاية للدالة، إلا أنه لا يمكنك الاعتماد عليها دائمًا. فهي تعتمد على عدد محدود من النقاط في تمثيل المنحنى، كما في المثال 5 المبين. تمثيله أدناه.



فالتمثيل بالحاسبة البيانية لم يظهر أن للدالة عددًا لا نهائيًا في التذبذبات بالقرب من الصفر.

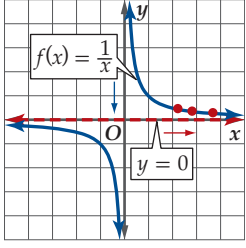


## تقدير النهاية عند المالانهاية

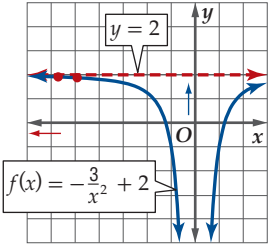
### مثال 6

قدّر كل نهاية مما يأتي إذا كانت موجودة:

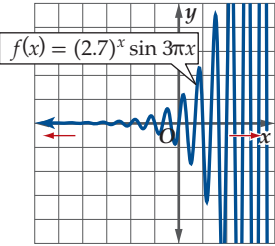
$$\lim_{x \rightarrow \infty} \frac{1}{x} \quad (a)$$



$$\lim_{x \rightarrow -\infty} \left( -\frac{3}{x^2} + 2 \right) \quad (b)$$



$$\lim_{x \rightarrow -\infty} (2.7)^x \sin 3\pi x, \quad \lim_{x \rightarrow \infty} (2.7)^x \sin 3\pi x \quad (c)$$



### إرشادات للدراسة

#### خطوط التقارب

تشير النهاية في المثال 6a إلى وجود خط تقارب أفقي  $y = 0$ ، وتشير النهاية في مثال 6b إلى وجود خط تقارب أفقي  $y = 2$ .

### تنبيه

#### السلوك المتذبذب

إن التذبذب اللانهائي للدالة لا يعني بالضرورة عدم وجود النهاية عندما تقترب  $x$  من  $\infty$  أو  $-\infty$ . فإذا كان التذبذب بين قيمتين مختلفتين، فالنهاية غير موجودة، أما إذا كان التذبذب متقارباً نحو عدد معين، فالنهاية موجودة.

### تحقق من فهمك

قدّر كل نهاية مما يأتي إذا كانت موجودة:

$$\lim_{x \rightarrow \infty} \sin x \quad (6C)$$

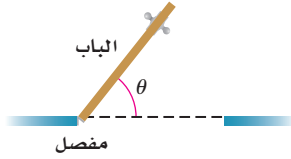
$$\lim_{x \rightarrow -\infty} 5^x \quad (6B)$$

$$\lim_{x \rightarrow \infty} \left( \frac{1}{x^4} - 3 \right) \quad (6A)$$

يمكنك استعمال التمثيل البياني أو جدول قيم لتقدير النهايات عند المالانهاية في كثير من المواقف الحياتية.

### تقدير النهاية عند المالانهاية

### مثال 7 من واقع الحياة



(a) **هيدروليك:** تستعمل نوابض لإغلاق الأبواب الثقيلة، وآلية هيدروليكية للتحكم في سرعة حركتها، إذا فُتح باب بزاوية  $\frac{\pi}{4}$  ثم تُرك لتغلقه النوابض، فإن الدالة  $\theta(t) = \frac{\pi}{4}(1 + 2t)(2.7)^{-2t}$  تمثل زاوية فتحته  $\theta$  بعد  $t$  ثانية. قدّر  $\lim_{t \rightarrow \infty} \theta(t)$ ، وفسّر معناها إذا كانت موجودة.



### الربط مع الحياة

الأنظمة الهيدروليكية هي أحد أنظمة نقل القدرة التي تستعمل طاقة السوائل لقيادة أو تحريك الأجزاء المتحركة في النظام الهيدروليكي. وتستعمل في العديد من المجالات، ومنها فرامل السيارات والأبواب الثقيلة وغيرها.

(b) **دواء:** يُعطى تركيز دواء في دم مريض بوحدة ملجرام لكل ملتر بالعلاقة  $C(t) = t2^{-0.18t}$ ، حيث  $t$  الزمن بالساعات بعد حقن المريض. قدّر  $\lim_{t \rightarrow \infty} C(t)$ ، وفسّر معناها إذا كانت موجودة.

### إرشاد تقني

#### استعمل الآلة الحاسبة

للوصول إلى شكل مناسب للتمثيل البياني للدالة في الآلة الحاسبة، يمكنك استعمال بعض ميزات الآلة. بدءاً من مفتاح (menu)، يمكنك استعمال خاصية 4: تكبير/تصغير النافذة

#### واختيار

1: إعدادات النافذة

لتحديد مدى القيم وطول فترة التدرج لكل من  $x$ ،  $y$ ، كذلك يمكن اختيار

3: تكبير

4: تصغير

لتصغير وتكبير التمثيل البياني، حتى يمكن الحصول على شكل مناسب للدالة. كما يمكن استعمال خاصية

5: تتبع المسار

قيم الدالة؛ مما يساعد على التوصل لتقدير قيمة النهاية.

### تحقق من فهمك

(7A) **كهرباء:** يزود مقبس في منطقة ما بفرق جهد كهربائي يُعطى بالعلاقة  $V(t) = 165 \sin 120\pi t$ ، حيث  $t$  الزمن بالثواني. قدّر  $\lim_{t \rightarrow \infty} V(t)$  إذا كانت موجودة، وفسّر معناها.

(7B) **أحياء:** عند وضع عدد من ذبابات الفاكهة في وعاء يحوي حليياً وفاكهة وخميرة فإن عدد الذبابات بعد  $t$

يوم يُعطى بالعلاقة  $P(t) = \frac{230}{1 + 56.5(2.7)^{-0.37t}}$ ، قدّر  $\lim_{t \rightarrow \infty} P(t)$  إذا كانت موجودة، وفسّر معناها.

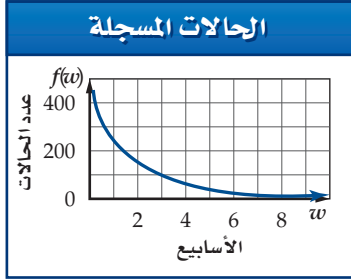
$$\lim_{x \rightarrow -\infty} \frac{3^x + 3^{-x}}{3^x - 3^{-x}} \quad (32)$$

$$\lim_{x \rightarrow \infty} x \cos x \quad (31)$$

$$\lim_{x \rightarrow 0} x^2 \cos \frac{1}{x} \quad (34)$$

$$\lim_{x \rightarrow 0} \frac{\sin |x|}{x} \quad (33)$$

(35) **دواء:** تم توزيع لقاح للحد من عدوى مرض ما. وُيَين التمثيل البياني أدناه عدد الحالات المصابة بالمرض بعد  $w$  أسبوع من توزيع اللقاح. (مثال 7)



(a) استعمل التمثيل البياني لتقدير  $\lim_{w \rightarrow 3} f(w)$ ،  $\lim_{w \rightarrow 1} f(w)$

(b) استعمل التمثيل البياني لتقدير  $\lim_{w \rightarrow \infty} f(w)$  إذا كانت موجودة، وفسّر النتيجة.

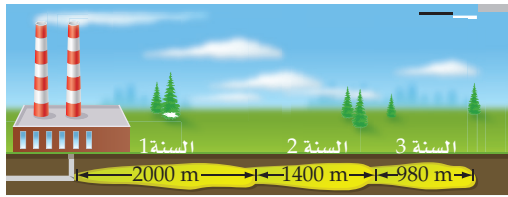
(36) **برامج تلفزيونية:** يُقدّر عدد مشاهدي أحد البرامج التلفزيونية اليومية بالدالة  $f(d) = 12(1.25012)^d - 12$  حيث  $d$  رقم اليوم منذ أول يوم للبرنامج. (مثال 7)

(a) مَثّل الدالة  $f(d)$  بيانياً في الفترة  $0 \leq d \leq 20$ .

(b) ما عدد مشاهدي البرنامج في اليوم: الخامس، العاشر، العشرين، بعد شهرين ( $d = 60$ )؟

(c) قدّر  $\lim_{d \rightarrow \infty} f(d)$  إذا كانت موجودة، وفسّر النتيجة.

(37) **كيمياء:** تتسرّب مادة سامة من أنبوب غاز تحت الأرض كما في الشكل أدناه. ويعبر عن المسافة الأفقية بالأمتار التي تقطعها المادة المتسرّبة بالدالة  $d(t) = 2000(0.7)^{t-1}$ ،  $t \geq 1$ ، حيث  $t$  عدد السنوات منذ بدء التسرّب. (مثال 7)



(a) مَثّل باستعمال الآلة البيانية الدالة بيانياً في الفترة  $1 \leq t \leq 15$ .

(b) استعمل التمثيل البياني وخاصة تتبع المسار في الحاسبة البيانية لإيجاد قيم  $d$  عندما  $t = 5, 10, 15$ .

(c) استعمل التمثيل البياني لتقدير  $\lim_{t \rightarrow \infty} d(t)$ .

(d) هل من الممكن أن تصل المادة المتسرّبة لمستشفى يقع على بُعد 7000 m من موقع التسريب؟ **بالتأكيد لا** مجموع التسلسلة الهندسية غير المنتهية هو  $\frac{a_1}{1-r}$ .

قدّر كل نهاية مما يأتي باستعمال التمثيل البياني، ثم عزّز إجابتك باستعمال جدول قيم. إرشاد: "يمكنك استعمال الآلة البيانية للتمثيل البياني". (المثالان 1, 2)

$$\lim_{x \rightarrow 2} \left( \frac{1}{2} x^5 - 2x^3 + 3x^2 \right) \quad (2) \quad \lim_{x \rightarrow 5} (4x - 10) \quad (1)$$

$$\lim_{x \rightarrow -2} \frac{x^3 + 8}{x^2 - 4} \quad (4) \quad \lim_{x \rightarrow -2} (x^2 + 2x - 15) \quad (3)$$

$$\lim_{x \rightarrow 4} \frac{x - 4}{\sqrt{x} - 2} \quad (6) \quad \lim_{x \rightarrow 0} [5(\cos^2 x - \cos x)] \quad (5)$$

$$\lim_{x \rightarrow -5} \frac{x^2 + x - 20}{x + 5} \quad (8) \quad \lim_{x \rightarrow 6} (x + \sin x) \quad (7)$$

قدّر كل نهاية مما يأتي إذا كانت موجودة: (مثال 3)

$$\lim_{x \rightarrow 0^-} \frac{|4x|}{x} \quad (10) \quad \lim_{x \rightarrow 0^+} \frac{\sin x - x}{x} \quad (9)$$

$$\lim_{x \rightarrow 3^-} \frac{x^2 - 5x + 6}{x - 3} \quad (12) \quad \lim_{x \rightarrow 0} \frac{2x^2}{|x|} \quad (11)$$

$$\lim_{x \rightarrow -2} \frac{x^2 + 5x + 6}{|x + 2|} \quad (14) \quad \lim_{x \rightarrow -\frac{1}{2}^-} \frac{|2x + 1|}{x} \quad (13)$$

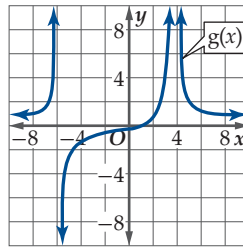
$$\lim_{x \rightarrow 5} \frac{x^2 - 25}{x - 5} \quad (16) \quad \lim_{x \rightarrow 0^-} (\sqrt{-x} - 7) \quad (15)$$

$$\lim_{x \rightarrow -1} \frac{|x + 1|}{x^2 - 1} \quad (18) \quad \lim_{x \rightarrow 0} \frac{|3x|}{2x} \quad (17)$$

$$\lim_{x \rightarrow 0} f(x), f(x) = \begin{cases} x - 5, & x < 0 \\ x^2 + 5, & x \geq 0 \end{cases} \quad (19)$$

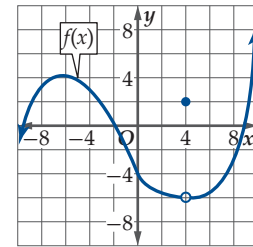
$$\lim_{x \rightarrow 0} f(x), f(x) = \begin{cases} -x^2 + 2, & x < 0 \\ \frac{2x}{x}, & x \geq 0 \end{cases} \quad (20)$$

استعمل التمثيل البياني لتقدير كل نهاية مما يأتي إذا كانت موجودة: (الأمثلة 1-4)



$$\lim_{x \rightarrow 4} g(x) \quad (22)$$

$$\lim_{x \rightarrow -6} g(x) \quad (24)$$



$$\lim_{x \rightarrow -4} f(x) \quad (21)$$

$$\lim_{x \rightarrow 4} f(x) \quad (23)$$

قدّر كل نهاية مما يأتي إذا كانت موجودة: (الأمثلة 4-6)

$$\lim_{x \rightarrow 4} \frac{|x|}{x - 4} \quad (26) \quad \lim_{x \rightarrow -4} \frac{-17}{x^2 + 8x + 16} \quad (25)$$

$$\lim_{x \rightarrow 6} \frac{5}{(x - 6)^2} \quad (28) \quad \lim_{x \rightarrow 5} \frac{x^2}{x^2 - 10x + 25} \quad (27)$$

$$\lim_{x \rightarrow \infty} \frac{x^2 + x - 22}{4x^3 - 13} \quad (30) \quad \lim_{x \rightarrow -\infty} (x^5 - 7x^4 - 4x + 1) \quad (29)$$

**(53) تحدُّد:** قدِّر كلاً من النهايات الآتية للدالة  $f$  إذا كانت موجودة:

$$f(x) = \begin{cases} 2x + 4, & x < -1 \\ -1, & -1 \leq x \leq 0 \\ x^2, & 1 < x \leq 2 \\ x - 3, & x > 2 \end{cases}$$

$\lim_{x \rightarrow 2^+} f(x)$  (c)       $\lim_{x \rightarrow 0} f(x)$  (b)       $\lim_{x \rightarrow -1} f(x)$  (a)

**(54) اكتب:** من خلال ما لاحظته في حل التمارين، وضح طريقتك لتقدير نهاية دالة متصلة.

### مراجعة تراكمية

**(55)** أثبت صحة المتطابقة. (مهارة سابقة)

$$\sin \theta \left( \frac{1}{\sin \theta} - \frac{\cos \theta}{\cot \theta} \right) = \cos^2 \theta$$

**(56)** حدِّد ما إذا كانت الدالة الآتية متصلة عند قيم  $x$  المعطاة. برِّر إجابتك

باستعمال اختبار الاتصال، وإذا كانت الدالة غير متصلة، فحدِّد نوع

عدم الاتصال: لا نهائي، قفزي، قابل للإزالة  $h(x) = \frac{x^2 - 25}{x + 5}$

(مهارة سابقة)

**(57)** أوجد متوسط مُعدَّل تغير  $f(x) = \sqrt{x - 6}$  في الفترة

[8, 16]. (مهارة سابقة)

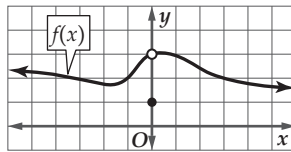
أوجد قياس الزاوية  $\theta$  بين المتجهين  $u, v$  في كلِّ مما يأتي: (مهارة سابقة)

$u = \langle 2, 9, -2 \rangle, v = \langle -4, 7, 6 \rangle$  (58)

$m = 3i - 5j + 6k, n = -7i + 8j + 9k$  (59)

### تدريب على اختبار

**(60)** باستعمال التمثيل البياني للدالة  $y = f(x)$  أدناه، ما قيمة  $\lim_{x \rightarrow 0} f(x)$  (إن وجدت)؟



- A 0      C 3  
B 1      D النهاية غير موجودة

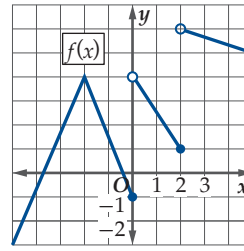
**(61)** إذا كانت  $g(x) = \frac{1}{x^2}$  وكانت العبارات:

- I نقطة عدم اتصال لا نهائي.  
II نقطة عدم اتصال قفزي.  
III نقطة عدم اتصال قابل للإزالة.

فأيُّ مما يأتي يصف التمثيل البياني لمنحنى الدالة  $g(x)$ ؟

- A فقط I  
B I, III فقط  
C فقط II  
D I و II فقط

للدالة الممثلة بيانياً أدناه، قدِّر كل نهاية مما يأتي إذا كانت موجودة:



$\lim_{x \rightarrow 0^-} f(x)$  (38)

$\lim_{x \rightarrow 0^+} f(x)$  (39)

$\lim_{x \rightarrow 0} f(x)$  (40)

$\lim_{x \rightarrow 2^-} f(x)$  (41)

$\lim_{x \rightarrow 2^+} f(x)$  (42)

$\lim_{x \rightarrow 1} f(x)$  (43)

**حاسبة بيانية:** حدِّد ما إذا كانت النهاية موجودة أو غير موجودة في كل مما يأتي. وإذا لم تكن موجودة، فصف التمثيل البياني للدالة عند نقطة النهاية:

$\lim_{x \rightarrow 2} \frac{x^2 + x}{x^2 - x - 2}$  (45)

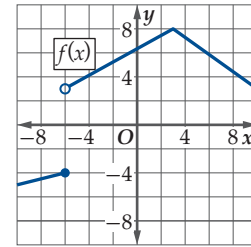
$\lim_{x \rightarrow 1} \frac{x^2 - 1}{x^2 - 2x + 1}$  (44)

$\lim_{x \rightarrow -5} \frac{|x + 5|}{x + 5}$  (47)

$\lim_{x \rightarrow 0} 3 \cos \frac{\pi}{x}$  (46)

### مسائل مهارات التفكير العليا

**(48) اكتشف الخطأ:** قال علي: إن نهاية الدالة الممثلة بيانياً في الشكل أدناه عندما تقترب  $x$  من  $-6$  هي  $-4$ . في حين قال محمد: إنها  $3$ . هل أي منهما إجابته صحيحة؟ برِّر إجابتك.



**(49) مسألة مفتوحة:** أعطِ مثلاً على  $f(x)$ ، بحيث تكون  $\lim_{x \rightarrow 0} f(x)$  موجودة، و  $f(0)$  غير معرفة، ومثلاً على دالة أخرى  $g(x)$ ، بحيث تكون  $g(0)$  معرفة، ولكن  $\lim_{x \rightarrow 0} g(x)$  غير موجودة.

**(50) تحدُّد:** إذا كان  $g(x) = \frac{x+1}{x^2-4}$ ،  $f(x) = \frac{x^2+1}{x-1}$ . فقدِّر كلاً من

$\lim_{x \rightarrow 1} f(x)$ ،  $\lim_{x \rightarrow 2} g(x)$ . وإذا كانت  $h(x), j(x)$  كثيرتي حدود بحيث:

$\lim_{x \rightarrow a} \frac{j(x)}{h(x)}$  ؟، فماذا يمكنك القول عن  $h(a) = 0, j(a) \neq 0$

برِّر إجابتك.

**(51) تبرير:** حدِّد ما إذا كانت العبارة الآتية صحيحة دائماً أو صحيحة أحياناً أو غير صحيحة أبداً. برِّر إجابتك.

إذا كان  $f(c) = L$ ، فإن  $\lim_{x \rightarrow c} f(x) = L$ .

**(52) مسألة مفتوحة:** مثل بيانياً دالة تحقق كلاً مما يأتي:  $\lim_{x \rightarrow 2} f(x) = -3, f(0) = 2, f(2) = 5$  و  $\lim_{x \rightarrow 0} f(x)$  غير موجودة.





## لماذا؟

$$d(x) = \frac{152x^{-0.45} + 85}{4x^{-0.45} + 10}$$

إذا أعطيت اتساع البؤبؤ بالملتمترات لعين حيوان بالعلاقة  $d(x)$  حيث  $x$  الاستضاءة الساقطة على البؤبؤ مقيسة بوحدة اللوكس (lux)، فإنه يمكنك استعمال النهاية عندما تقترب  $x$  من 0 أو  $\infty$  لإيجاد اتساع البؤبؤ عندما تكون الاستضاءة في حدّها الأدنى أو الأعلى.

**حساب النهاية عند نقطة:** تعلمت في الدرس 8-1 تقدير النهايات بيانياً، وباستعمال جداول قيم. وستكتشف في هذا الدرس طرائق جبرية لحساب النهايات.



## فيما سبق:

درست كيفية تقدير النهايات بيانياً وعددياً. (الدرس 8-1)

## والآن:

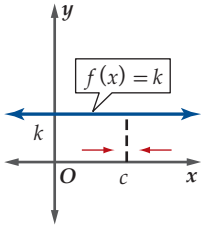
- أجد نهايات دوال كثيرات الحدود والدوال النسبية عند قيم محددة.
- أجد نهايات دوال كثيرات الحدود والدوال النسبية عند المالات نهاية.

## المضردات:

- التعويض المباشر
- direct substitution
- الصيغة غير المحددة
- indeterminate form

## مفهوم أساسي نهايات الدوال

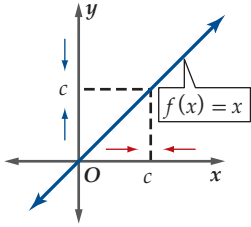
## نهايات الدوال الثابتة



التعبير اللفظي: نهاية الدالة الثابتة عند أي نقطة  $c$  هي القيمة الثابتة للدالة.

$$\lim_{x \rightarrow c} k = k \quad \text{الرموز:}$$

## نهايات الدالة المحايدة



التعبير اللفظي: نهاية الدالة المحايدة عند النقطة  $c$  هي  $c$ .

$$\lim_{x \rightarrow c} x = c \quad \text{الرموز:}$$

تظهر أهمية نهايات الدوال الثابتة والدالة المحايدة واضحة في خصائص النهايات.

## مفهوم أساسي خصائص النهايات

إذا كان  $c, k$  عددين حقيقيين،  $n$  عدداً صحيحاً موجباً، وكانت النهايتان  $\lim_{x \rightarrow c} f(x)$ ،  $\lim_{x \rightarrow c} g(x)$  موجودتين، فإن كلاً من الخصائص الآتية صحيحة:

$$\lim_{x \rightarrow c} [f(x) + g(x)] = \lim_{x \rightarrow c} f(x) + \lim_{x \rightarrow c} g(x) \quad \text{خاصية المجموع:}$$

$$\lim_{x \rightarrow c} [f(x) - g(x)] = \lim_{x \rightarrow c} f(x) - \lim_{x \rightarrow c} g(x) \quad \text{خاصية الفرق:}$$

$$\lim_{x \rightarrow c} [k f(x)] = k \lim_{x \rightarrow c} f(x) \quad \text{خاصية الضرب في ثابت:}$$

$$\lim_{x \rightarrow c} [f(x) \cdot g(x)] = \lim_{x \rightarrow c} f(x) \cdot \lim_{x \rightarrow c} g(x) \quad \text{خاصية الضرب:}$$

$$\lim_{x \rightarrow c} g(x) \neq 0 \quad \text{حيث} \quad \lim_{x \rightarrow c} \frac{f(x)}{g(x)} = \frac{\lim_{x \rightarrow c} f(x)}{\lim_{x \rightarrow c} g(x)} \quad \text{خاصية القسمة:}$$

$$\lim_{x \rightarrow c} [f(x)]^n = [\lim_{x \rightarrow c} f(x)]^n \quad \text{خاصية القوة:}$$

$$\lim_{x \rightarrow c} \sqrt[n]{f(x)} = \sqrt[n]{\lim_{x \rightarrow c} f(x)} \quad \text{خاصية الجذر النوني:} \quad \text{إذا كان} \quad \lim_{x \rightarrow c} f(x) > 0 \quad \text{حيث} \quad n \text{ عدد زوجي.}$$

وإذا كان  $n$  عدداً فردياً، فإن  $\lim_{x \rightarrow c} \sqrt[n]{f(x)} = \sqrt[n]{\lim_{x \rightarrow c} f(x)}$ ، وزارة التعليم

## تنبيه!

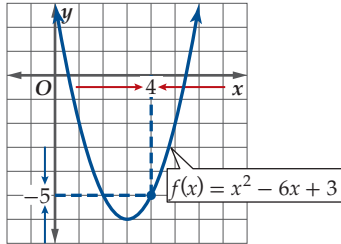
إذا كانت  $f(x) \leq 0$  و  $n$  عدداً زوجياً فإن  $\lim_{x \rightarrow c} \sqrt[n]{f(x)}$  غير موجودة.



## استعمال خصائص النهايات مثال 1

استعمل خصائص النهايات لحساب كل نهاية مما يأتي:

$$\lim_{x \rightarrow 4} (x^2 - 6x + 3) \quad (a)$$



$$\lim_{x \rightarrow -2} \frac{4x^3 + 1}{x - 5} \quad (b)$$

$$\lim_{x \rightarrow 3} \sqrt{8 - x} \quad (c)$$

### إرشادات للدراسة

#### خصائص النهايات

تبقى خصائص النهايات صحيحة في حال كون النهايات من جهة واحدة، وفي حال كونها عند المالانهاية، شريطة وجود هذه النهايات.

### تنبيه

خاصية الجذر النوني الزوجي تستخدم فقط إذا كان

$$\lim_{x \rightarrow c} f(x) > 0$$

### تحقق من فهمك

استعمل خصائص النهايات لحساب كل نهاية مما يأتي:

$$\lim_{x \rightarrow -1} \sqrt{x + 3} \quad (1A)$$

$$\lim_{x \rightarrow 2} \frac{x - 3}{2x^2 - x - 15} \quad (1B)$$

$$\lim_{x \rightarrow 2} (-x^3 + 4) \quad (1C)$$

لاحظ أن نهاية كل دالة في المثال أعلاه عندما تقترب  $x$  من  $c$  تساوي قيمة  $f(c)$ . ومع أن هذه الملاحظة ليست صحيحة في جميع الدوال، إلا أنها صحيحة في دوال كثيرات الحدود والدوال النسبية التي مقاماتها لا تساوي صفرًا عندما  $x = c$ . كما هو موضح فيما يأتي:

## مفهوم أساسي نهايات الدوال

نهايات دوال كثيرات الحدود

إذا كانت  $p(x)$  دالة كثيرة حدود، وكان  $c$  عددًا حقيقيًا، فإن  $\lim_{x \rightarrow c} p(x) = p(c)$ .

نهايات الدوال النسبية

إذا كانت  $r(x) = \frac{p(x)}{q(x)}$  دالة نسبية، وكان  $c$  عددًا حقيقيًا، حيث  $q(c) \neq 0$ ، فإن  $\lim_{x \rightarrow c} r(x) = r(c) = \frac{p(c)}{q(c)}$ .

وبشكل مختصر، فإنه يمكن حساب نهايات دوال كثيرات الحدود والدوال النسبية من خلال التعويض المباشر، شريطة ألا يساوي مقام الدالة النسبية صفرًا عند النقطة التي تُحسب عندها النهاية.

## إرشادات للدراسة

الدوال الجيدة السلوك

تُعدُّ الدوال المتصلة مثل دوال كثيرات الحدود ودالتي الجيب وجيب التمام دوالً جيدة السلوك، إذ يمكن حساب نهاياتها من خلال التعويض المباشر، ويمكن إيجاد نهاية الدوال من خلال التعويض المباشر حتى وإن لم تكن الدالة جيدة السلوك على مجالها، بشرط أن تكون متصلة عند النقطة التي تُحسب عندها النهاية.

## مثال 2 استعمال التعويض المباشر لحساب النهايات

احسب كل نهاية مما يأتي باستعمال التعويض المباشر إذا كان ممكنًا، وإلا فاذكر السبب:

$$\lim_{x \rightarrow -1} (-3x^4 + 5x^3 - 2x^2 + x + 4) \quad (a)$$

$$\lim_{x \rightarrow 3} \frac{2x^3 - 6}{x - x^2} \quad (b)$$

## تحقق من فهمك

احسب كل نهاية مما يأتي باستعمال التعويض المباشر إذا كان ممكنًا، وإلا فاذكر السبب:

$$\lim_{x \rightarrow -5} \frac{x+1}{x^2+3} \quad (2B)$$

$$\lim_{x \rightarrow 4} (x^3 - 3x^2 - 5x + 7) \quad (2A)$$

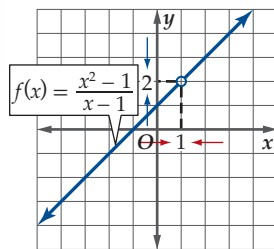
$$\lim_{x \rightarrow -8} \sqrt{x+6} \quad (2D)$$

$$\lim_{x \rightarrow 2} \frac{x^3-8}{x-2} \quad (2C)$$

لنفترض أنك استعملت خاصية القسمة أو التعويض المباشر لحساب النهاية  $\lim_{x \rightarrow 1} \frac{x^2-1}{x-1}$  بشكل خاطئ كما يلي:

وهذا ليس صحيحًا؛ لأن نهاية المقام تساوي 0.

$$\lim_{x \rightarrow 1} \frac{x^2-1}{x-1} = \frac{\lim_{x \rightarrow 1} (x^2-1)}{\lim_{x \rightarrow 1} (x-1)} = \frac{1^2-1}{1-1} = \frac{0}{0}$$



يُسمى ناتج التعويض في النهايات على الصورة  $\frac{0}{0}$  الصيغة غير المحددة؛ لأنه لا يمكنك تحديد نهاية الدالة مع وجود صفر في المقام، ومثل هذه النهايات قد تكون موجودة ولها قيمة حقيقية، أو غير موجودة، أو متباعدة نحو  $\infty$  أو  $-\infty$ ، ويبيّن التمثيل البياني للدالة  $f(x) = \frac{x^2 - 1}{x - 1}$  أن  $\lim_{x \rightarrow 1} \frac{x^2 - 1}{x - 1}$  موجودة وتساوي 2.

على الرغم من أن الصيغة غير المحددة تظهر من خلال تطبيق خاطئ لخصائص النهايات، إلا أن الحصول على هذه الصيغة قد يرشدنا إلى الطريقة الأنسب لإيجاد النهاية. إذا قمت بحساب نهاية دالة نسبية، ووصلت إلى الصيغة غير المحددة  $\frac{0}{0}$ ، فسّط العبارة جبرياً من خلال تحليل كل من البسط والمقام واختصار العوامل المشتركة.

### استعمال التحليل لحساب النهايات

### مثال 3

احسب كل نهاية مما يأتي:

$$\lim_{x \rightarrow -4} \frac{x^2 - x - 20}{x + 4} \quad (a)$$

$$\lim_{x \rightarrow 3} \frac{x - 3}{x^3 - 3x^2 - 7x + 21} \quad (b)$$

### تنبيه

#### التحليل

عند اختصار البسط بأكمله، فإنه يصبح 1 وليس 0.

### تحقق من فهمك

احسب كل نهاية مما يأتي:

$$\lim_{x \rightarrow -2} \frac{x^3 - 3x^2 - 4x + 12}{x + 2} \quad (3A)$$

$$\lim_{x \rightarrow 6} \frac{x^2 - 7x + 6}{3x^2 - 11x - 42} \quad (3B)$$



ينتج عن اختصار العامل المشترك بين بسط ومقام الدالة النسبية دالة جديدة، ففي المثال 3a ينتج عن الاختصار بين بسط ومقام الدالة  $f$  دالة جديدة  $g$ ، حيث:

$$f(x) = \frac{x^2 - x - 20}{x + 4}, \quad g(x) = x - 5$$

إن قيم هاتين الدالتين متساوية لجميع قيم  $x$  إلا عندما  $x = -4$ ، فإذا تساوت قيم الدالتين إلا عند قيمة وحيدة  $c$ ، فإن نهايتهما عندما تقترب  $x$  من  $c$  متساويتان؛ لأن قيمة النهاية لا تعتمد على قيمة الدالة عند النقطة التي تُحسب النهاية

$$\lim_{x \rightarrow -4} \frac{x^2 - x - 20}{x + 4} = \lim_{x \rightarrow -4} (x - 5)$$

عندها؛ لذا فإن  $\lim_{x \rightarrow -4} (x - 5)$  والطريقة الأخرى لإيجاد نهايات ناتج التعويض فيها صيغة غير محددة، هي إنطاق البسط أو المقام أولاً، ثم اختصار العوامل المشتركة.

### استعمال إنطاق البسط أو المقام لحساب النهايات

### مثال 4

$$\lim_{x \rightarrow 9} \frac{\sqrt{x} - 3}{x - 9} \text{ احسب}$$

### تحقق من فهمك

احسب كل نهاية مما يأتي:

$$\lim_{x \rightarrow 0} \frac{2 - \sqrt{x + 4}}{x} \quad (4B)$$

$$\lim_{x \rightarrow 25} \frac{x - 25}{\sqrt{x} - 5} \quad (4A)$$

**حساب النهايات عند المالانهاية:** درست سابقاً أن لجميع الدوال الزوجية سلوك طرفي التمثيل البياني نفسه، وكذلك الدوال الفردية لها جميعاً سلوك طرفي التمثيل البياني نفسه.

### مفهوم أساسي

#### نهايات دوال القوى عند المالانهاية

نموذج

$f(x) = x^3$

$f(x) = x^2$

لأي عدد صحيح موجب  $n$ ،

- $\lim_{x \rightarrow \infty} x^n = \infty$
- $\lim_{x \rightarrow -\infty} x^n = \infty$ ، إذا كان  $n$  عدداً زوجياً.
- $\lim_{x \rightarrow -\infty} x^n = -\infty$ ، إذا كان  $n$  عدداً فردياً.

إن سلوك طرفي التمثيل البياني لدالة كثيرة الحدود هو ذاته سلوك طرفي التمثيل البياني لدالة القوة الناتجة عن الحد الرئيس في كثيرة الحدود، وهو الحد ذو القوة الكبرى، ويمكننا وصف ذلك أيضاً باستعمال النهايات:

## مفهوم أساسي نهايات دوال كثيرات الحدود عند المالانهاية

إذا كانت  $p(x) = a_n x^n + \dots + a_1 x + a_0$  دالة كثيرة حدود، فإن

$$\lim_{x \rightarrow \infty} p(x) = \lim_{x \rightarrow \infty} a_n x^n, \quad \lim_{x \rightarrow -\infty} p(x) = \lim_{x \rightarrow -\infty} a_n x^n$$

يمكنك استعمال هاتين الخاصيتين لحساب نهايات دوال كثيرات حدود عند المالانهاية. تذكر أن كون نهاية الدالة  $\infty$  أو  $-\infty$  لا يعني أنها موجودة، ولكنه وصف لسلوك منحناها؛ فإما أن يكون متزايداً بلا حدود أو متناقصاً بلا حدود.

## مثال 5 نهايات دوال كثيرات الحدود عند المالانهاية

احسب كل نهاية مما يأتي:

$$\lim_{x \rightarrow -\infty} (x^3 - 2x^2 + 5x - 1) \quad (a)$$

$$\lim_{x \rightarrow \infty} (4 + 3x - x^2) \quad (b)$$

$$\lim_{x \rightarrow -\infty} (5x^4 - 3x) \quad (c)$$

## تحقق من فهمك

احسب كل نهاية مما يأتي:

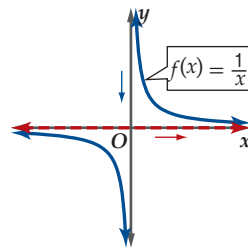
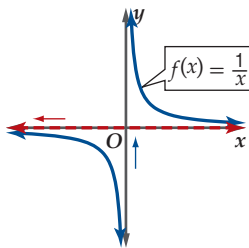
$$\lim_{x \rightarrow -\infty} (2x - 6x^2 + 4x^5) \quad (5C) \quad \lim_{x \rightarrow -\infty} (4x^6 + 3x^5 - x) \quad (5B) \quad \lim_{x \rightarrow \infty} (-x^3 - 4x^2 + 9) \quad (5A)$$

ولحساب نهاية دالة نسبية عند المالانهاية نحتاج إلى خصائص أخرى للنهايات.

## مفهوم أساسي نهايات دالة المقلوب عند المالانهاية

**التعبير اللفظي:** إن نهاية دالة المقلوب عند موجب أو سالب مالانهاية هي صفر.

$$\lim_{x \rightarrow \infty} \frac{1}{x} = \lim_{x \rightarrow -\infty} \frac{1}{x} = 0 \quad \text{الرموز:}$$



$$\text{نتيجة:} \quad \lim_{x \rightarrow \pm\infty} \frac{1}{x^n} = 0 \quad \text{لأي عدد صحيح موجب } n,$$

ويمكننا استعمال هذه الخاصية لحساب نهايات الدوال النسبية عند المالانهاية، وذلك بقسمة كل حد في بسط ومقام الدالة النسبية على أعلى قوة لمتغير الدالة.

## إرشادات للدراسة

### الضرب في المالانهاية

$$\lim_{x \rightarrow c} f(x) = \infty$$

تعني أن الدالة تأخذ قيماً موجبة ومتزايدة بشكل غير محدود، كلما اقتربت قيم  $x$  من العدد  $c$ ؛ لذا فإن ضرب هذه القيم في عدد موجب لا يغير هذا السلوك، أما ضربها في عدد سالب، فإنه يعكس إشاراتها، وبذلك تقترب النهاية من  $-\infty$ ، أي أنه إذا كان  $a > 0$  فإن:  
 $a(\infty) = \infty$   
 $-a(\infty) = -\infty$

## مراجعة المفردات

### دالة المقلوب

تذكر أن دالة المقلوب هي  $f(x) = \frac{1}{a(x)}$  حيث  $a(x)$  دالة خطية، و  $a(x) \neq 0$ .



## نهايات الدوال النسبية عند المالانهاية

### مثال 6

احسب كل نهاية مما يأتي إن أمكن:

$$\lim_{x \rightarrow \infty} \frac{4x + 5}{8x - 3} \quad (a)$$

$$\lim_{x \rightarrow -\infty} \frac{6x^2 - x}{3x^3 + 1} \quad (b)$$

$$\lim_{x \rightarrow \infty} \frac{5x^4}{9x^3 + 2x} \quad (c)$$

### إرشادات للدراسة

#### نهاية الدوال النسبية

توجد ثلاث حالات عند حساب نهايات الدوال النسبية عندما تقترب  $x$  من المالانهاية.

(1) إذا كانت درجة البسط أكبر من درجة المقام، فإن النهاية إما  $\infty$  أو  $-\infty$ ، بحسب إشارة الحد الرئيس في كل من البسط والمقام.

(2) إذا كانت درجة البسط مساوية لدرجة المقام، فإن النهاية مساوية لنتائج قسمة معاملي الحدين الرئيسيين في البسط والمقام.

(3) إذا كانت درجة البسط أقل من درجة المقام، فإن النهاية صفر.

### تحقق من فهمك

احسب كل نهاية مما يأتي:

$$\lim_{x \rightarrow -\infty} \frac{5}{x - 10} \quad (6A)$$

$$\lim_{x \rightarrow \infty} \frac{-3x^2 + 7}{5x + 1} \quad (6B)$$

$$\lim_{x \rightarrow \infty} \frac{7x^3 - 3x^2 + 1}{x^3 + 4x} \quad (6C)$$

درست سابقاً أن المتتابة هي دالة مجالها مجموعة من الأعداد الطبيعية، ومداهها مجموعة من الأعداد الحقيقية؛ لذا فإن نهاية المتتابة غير المنتهية هي نهاية دالة عندما  $n \rightarrow \infty$ . إذا كانت النهاية موجودة، فإن قيمة هذه النهاية هي العدد الذي تقترب منه المتتابة. فمثلاً يمكن وصف المتتابة  $a_n = 1, \frac{1}{2}, \frac{1}{3}, \frac{1}{4}, \dots$  بـ  $f(n) = \frac{1}{n}$ ، حيث  $n$  عدد صحيح موجب. وبما أن  $\lim_{n \rightarrow \infty} \frac{1}{n} = 0$ ، فإن المتتابة تقترب من الصفر.

### مثال 7 نهايات المتتابعات

احسب نهاية كل متتابة مما يأتي إن وجدت:

$$a_n = \frac{3n + 1}{n + 5} \quad (a)$$

$$b_n = \frac{5}{n^4} \left[ \frac{n^2 (n + 1)^2}{4} \right] \quad (b)$$



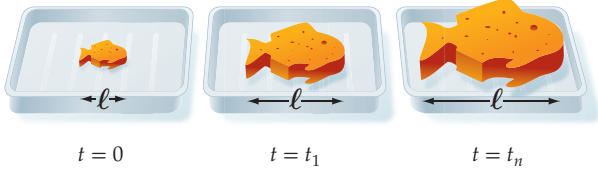
احسب نهاية كل متتابة مما يأتي إن وجدت:

$$b_n = \frac{2n^3}{3n + 8} \quad (7B)$$

$$a_n = \frac{4}{n^2 + 1} \quad (7A)$$

$$c_n = \frac{9}{n} \left[ \frac{n(n + 1)(2n + 1)}{6} \right] \quad (7C)$$

**(26) إسفننج:** تحتوي مادة هلامية على حيوان الإسفننج، وعند وضع المادة الهلامية في الماء، فإن حيوان الإسفننج يبدأ بامتصاص الماء والتضخم. ويمكن تمثيل ذلك بالدالة  $25 + \frac{105t^2}{10 + t^2}$ ، حيث  $l$  طول حيوان الإسفننج بالملترات بعد  $t$  ثانية من وضعه في الماء. (مثال 6)



(a) ما طول حيوان الإسفننج قبل وضعه في الماء؟

(b) ما نهاية الدالة عندما  $t \rightarrow \infty$ ؟

(c) وضح العلاقة بين نهاية الدالة  $l$  وطول حيوان الإسفننج.

احسب نهاية كل متتابعة مما يأتي إذا كانت موجودة: (مثال 7)

$$a_n = \frac{8n + 1}{n^2 - 3} \quad (27)$$

$$a_n = \frac{-4n^2 + 6n - 1}{n^2 + 3n} \quad (28)$$

$$a_n = \frac{12n^2 + 2}{6n^2 - 1} \quad (29)$$

$$a_n = \frac{8n^2 + 5n + 2}{3 + 2n} \quad (30)$$

$$a_n = \frac{1}{n^4} \left[ \frac{n^2(n+1)^2}{4} \right] \quad (31)$$

$$a_n = \frac{12}{n^2} \left[ \frac{n(2n+1)(n+1)}{6} \right] \quad (32)$$

احسب كل نهاية مما يأتي إذا كانت موجودة مستخدمًا التعويض المباشر لحساب النهايتين من اليمين واليسار:

$$\lim_{x \rightarrow -2} \begin{cases} x - 3, & x \leq -2 \\ 2x - 1, & x > -2 \end{cases} \quad (33)$$

$$\lim_{x \rightarrow 0} \begin{cases} 5 - x^2, & x \leq 0 \\ 5 - x, & x > 0 \end{cases} \quad (34)$$

$$\lim_{x \rightarrow 2} \begin{cases} (x - 2)^2 + 1, & x \leq 2 \\ x - 6, & x > 2 \end{cases} \quad (35)$$

استعمل خصائص النهايات لحساب كل نهاية مما يأتي: (مثال 1)

$$\lim_{x \rightarrow 5} \frac{x^2 + 4x + 13}{x - 3} \quad (2) \quad \lim_{x \rightarrow -3} (5x - 10) \quad (1)$$

$$\lim_{x \rightarrow -4} [x^2(x + 1) + 2] \quad (4) \quad \lim_{x \rightarrow 9} \left( \frac{1}{x} + 2x + \sqrt{x} \right) \quad (3)$$

$$\lim_{x \rightarrow -6} \frac{x^4 - x^3}{x^2} \quad (6) \quad \lim_{x \rightarrow 12} \frac{x^2 - 10x}{\sqrt{x} + 4} \quad (5)$$

احسب كل نهاية مما يأتي باستعمال التعويض المباشر إذا كان ممكنًا، وإلا فاذكر السبب: (مثال 2)

$$\lim_{x \rightarrow 16} \frac{x^2 + 9}{\sqrt{x} - 4} \quad (7)$$

$$\lim_{x \rightarrow 2} (4x^3 - 3x^2 + 10) \quad (8)$$

$$\lim_{x \rightarrow 3} \frac{x^3 + 9x + 6}{x^2 + 5x + 6} \quad (9)$$

$$\lim_{x \rightarrow 3} \sqrt{2 - x} \quad (10)$$

$$\lim_{x \rightarrow 9} (3x^2 - 10x + 35) \quad (11)$$

$$\lim_{x \rightarrow 10} (-x^2 + 3x + \sqrt{x}) \quad (12)$$

**(13) فيزياء:** بحسب نظرية أينشتاين النسبية، فإن كتلة جسم يتحرك

بسرعة  $v$  تُعطى بالعلاقة  $m = \frac{m_0}{\sqrt{1 - \frac{v^2}{c^2}}}$ ، حيث  $c$  سرعة الضوء،

$m_0$  كتلة الجسم الابتدائية أو كتلته عند السكون.

أوجد  $\lim_{v \rightarrow 0} m$ ، ووضح العلاقة بين هذه النهاية و  $m_0$ . (مثال 2)

احسب كل نهاية مما يأتي: (المثالان 3, 4)

$$\lim_{x \rightarrow 0} \frac{4x}{\sqrt{x+1} - 1} \quad (15) \quad \lim_{x \rightarrow 1} \frac{x^2 + 4x - 5}{x^2 - 1} \quad (14)$$

$$\lim_{x \rightarrow 0} \frac{2x}{3 - \sqrt{x+9}} \quad (17) \quad \lim_{x \rightarrow -5} \frac{4x^2 + 21x + 5}{3x^2 + 17x + 10} \quad (16)$$

$$\lim_{x \rightarrow 6} \frac{\sqrt{x+3} - 3}{x - 6} \quad (19) \quad \lim_{x \rightarrow -3} \frac{x^2 - 2x - 15}{x + 3} \quad (18)$$

احسب كل نهاية مما يأتي: (المثالان 5, 6)

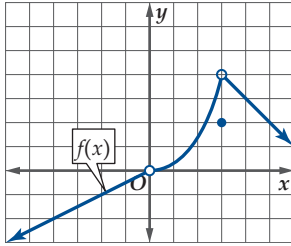
$$\lim_{x \rightarrow \infty} \frac{3x^3 - 10x + 2}{4x^3 + 20x^2} \quad (21) \quad \lim_{x \rightarrow \infty} (5 - 2x^2 + 7x^3) \quad (20)$$

$$\lim_{x \rightarrow \infty} \frac{14x^3 - 12x}{4x^2 + 13x - 8} \quad (23) \quad \lim_{x \rightarrow \infty} (10x + 14 + 6x^2 - x^4) \quad (22)$$

$$\lim_{x \rightarrow \infty} \frac{10x^4 - 2}{5x^4 + 3x^3 - 2x} \quad (25) \quad \lim_{x \rightarrow \infty} \frac{6x^3 + 2x - 11}{-x^5 + 17x^3 + 4x} \quad (24)$$

## مراجعة تراكمية

استعمل التمثيل البياني للدالة  $f(x)$  أدناه لإيجاد كل مما يأتي:  
(الدرس 1-8)



$$f(-2), \lim_{x \rightarrow -2} f(x) \quad (53)$$

$$f(0), \lim_{x \rightarrow 0} f(x) \quad (54)$$

$$f(3), \lim_{x \rightarrow 3} f(x) \quad (55)$$

أوجد  $(\frac{f}{g})(x)$ ,  $(f \cdot g)(x)$ ,  $(f - g)(x)$ ,  $(f + g)(x)$  لكل زوج من الدوال الآتية، ثم حدّد مجال الدالة الناتجة: (مهارة سابقة)

$$f(x) = \frac{x}{x+1} \quad (57)$$

$$f(x) = x^2 - 2x \quad (56)$$

$$g(x) = x^2 - 1$$

$$g(x) = x + 9$$

## تدريب على اختبار

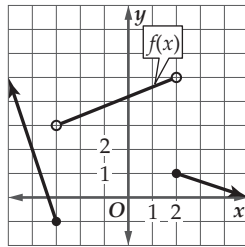
$$(58) \text{ ما قيمة } \lim_{h \rightarrow 0} \frac{2h^3 - h^2 + 5h}{h} \quad \text{A } 3 \quad \text{B } 4 \quad \text{C } 5 \quad \text{D } \text{غير موجودة}$$

$$\text{D غير موجودة} \quad \text{A } 3 \quad \text{B } 4 \quad \text{C } 5$$

$$(59) \text{ ما القيمة التي تقترب منها } g(x) = \frac{x + \pi}{\cos(x + \pi)}$$

$$\text{A } -\pi \quad \text{B } -\frac{3}{4} \quad \text{C } -\frac{1}{2}\pi \quad \text{D } 0$$

$$(60) \text{ باستعمال التمثيل البياني للدالة } f \text{ أدناه، ما قيمة } \lim_{x \rightarrow 2^+} f(x)$$



$$\text{A } 0 \quad \text{B } 1 \quad \text{C } 5 \quad \text{D } \text{غير موجودة}$$

احسب كل نهاية مما يأتي، إذا كانت موجودة:

$$\lim_{x \rightarrow 0} (1 + x + 2^x - \cos x) \quad (37) \quad \lim_{x \rightarrow \pi} \frac{\sin x}{x} \quad (36)$$

$$\lim_{x \rightarrow 1} \frac{1 - \sqrt{x}}{x - 1} \quad (39) \quad \lim_{x \rightarrow \frac{\pi}{2}} \frac{\tan 2x}{x} \quad (38)$$

أوجد  $\lim_{h \rightarrow 0} \frac{f(x+h) - f(x)}{h}$  لكل دالة مما يأتي:

$$f(x) = 7 - 9x \quad (41) \quad f(x) = 2x - 1 \quad (40)$$

$$f(x) = \sqrt{x+1} \quad (43) \quad f(x) = \sqrt{x} \quad (42)$$

$$f(x) = x^2 + 8x + 4 \quad (45) \quad f(x) = x^2 \quad (44)$$

(46) **فيزياء:** يمتلك الجسم المتحرك طاقة تُسمى الطاقة الحركية؛ لأن بإمكانه بذل شغل عند تأثيره على جسم آخر. وتُعطى الطاقة الحركية لجسم متحرك بالعلاقة  $k(t) = \frac{1}{2}m \cdot (v(t))^2$ ، حيث  $v(t)$  سرعة الجسم عند الزمن  $t$ ، و  $m$  كتلته بالكيلوجرام. إذا كانت سرعة جسم  $v(t) = \frac{50}{1+t^2}$  لكل  $t \geq 0$ ، وكتلته 1 kg، فما الطاقة الحركية التي يمتلكها عندما يقترب الزمن من 100s؟

## مسائل مهارات التفكير العليا

(47) **برهان:** استعمل خصائص النهايات؛ لإثبات أنه لأي كثيرة حدود

$$p(x) = a_n x^n + a_{n-1} x^{n-1} + \dots + a_2 x^2 + a_1 x + a_0$$

ولأي عدد حقيقي  $c$ ، فإن  $\lim_{x \rightarrow c} p(x) = p(c)$

(48) **برهان:** استعمل الاستقراء الرياضي؛ لإثبات أنه إذا كان

$$\lim_{x \rightarrow c} f(x) = L$$

فإنه لأي عدد صحيح  $n$

$$\lim_{x \rightarrow c} [f(x)]^n = [\lim_{x \rightarrow c} f(x)]^n = L^n$$

(49) **تحذّر:** احسب النهاية الآتية إذا كانت  $a_n \neq 0, b_m \neq 0$

$$\lim_{x \rightarrow \infty} \frac{a_n x^n + a_{n-1} x^{n-1} + \dots + a_2 x^2 + a_1 x + a_0}{b_m x^m + b_{m-1} x^{m-1} + \dots + b_2 x^2 + b_1 x + b_0}$$

(إرشاد: افترض كلاً من الحالات  $m < n, m = n, m > n$ )

(50) **تبرير:** إذا كانت  $r(x)$  دالة نسبية، فهل العلاقة  $\lim_{x \rightarrow c} r(x) = r(c)$  صحيحة أحياناً، أو صحيحة دائماً، أو غير صحيحة أبداً؟ برّر إجابتك.

(51) **اكتب:** استعمل جدولاً لتنظيم خصائص النهايات، وضمّمه مثلاً على كل خاصية.

(52) **اكتب:** افترض أن  $\frac{p(x)}{q(x)}$  دالة نسبية، وأن  $\lim_{x \rightarrow a} \frac{p(x)}{q(x)} = \frac{\infty}{\infty}$ . تدّعي

ليلى أن قيمة هذه النهاية هي 1. وضح سبب كونها مخطئة. وما الخطوات التي يمكن اتباعها لحساب هذه النهاية، إذا كانت موجودة؟

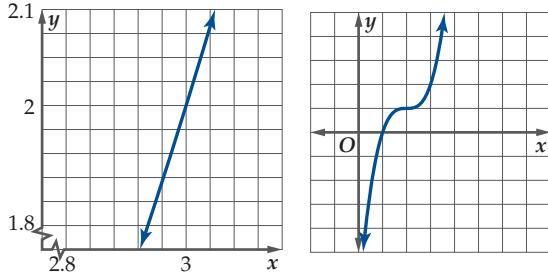




الهدف

استعمال الحاسبة البيانية  
TI-nspire ؛ لتقدير ميل  
منحنى.

يعتبر ميل المستقيم بوصفه معدلًا ثابتًا للتغير مفهومًا واضحًا، إلا أن الميل ليس واضحًا بالنسبة للمنحنيات بصورة عامة؛ إذ يتغير ميل المنحنى عند كل نقطة عليه.



وبشكل عام فإن التمثيلات البيانية لمعظم الدوال تبدو خطية عند تفحصها على فترة قصيرة جدًا.

وبالنظر إلى القواطع المتتالية، يكون من الممكن تطبيق فكرة الميل على المنحنيات.

نشاط 1 خطوط القاطع

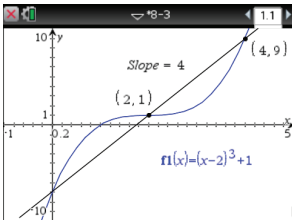
قَدِّر ميل منحنى الدالة  $y = (x - 2)^3 + 1$  عند النقطة  $(3, 2)$ .

**خطوة 1** أدخل  $y = (x - 2)^3 + 1$  في f1، ثم احسب ميل القاطع المار بمنحنى:  $y = (x - 2)^3 + 1$ ، عندما  $x = 2$ ،  $x = 4$ . كما يلي:

• مثل الدالة بالضغط على  $\left[ \frac{1}{x} \right]$   $\left[ \text{on} \right]$ ، ثم اكتب الدالة واضغط  $\left[ \text{enter} \right]$ .

• حدّد نقطتين على منحنى الدالة بالضغط على مفتاح  $\left[ \text{menu} \right]$  واختيار **8: الهندسة**، ثم **1: النقاط والمستقيمات** واختيار **2: نقطة على المستقيم**، ثم الضغط على المنحنى مرتين وستظهر نقطتان.

• ظلّل إحداثيي  $x$  لكلا النقطتين واستبدلهما بالإحداثيين  $x = 2$ ،  $x = 4$ .



• ارسم القاطع المار بالنقطتين بالضغط على  $\left[ \text{menu} \right]$ ، واختيار **8: الهندسة**، ثم **1: النقاط والمستقيمات** ثم اختيار **4: مستقيم** واضغط على النقطتين ثم اضغط  $\left[ \text{esc} \right]$ .

$[-1, 5]$  scl: 0.2 by  $[-10, 10]$  scl: 1

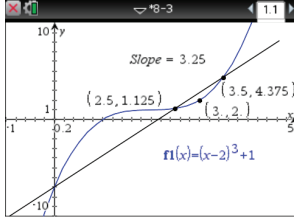
• أوجد ميل القاطع بالضغط على  $\left[ \text{menu} \right]$ ، واختيار

**8: الهندسة**، ثم **3: الميل**، ثم اضغط على القاطع وسيظهر أن ميله يساوي 4.





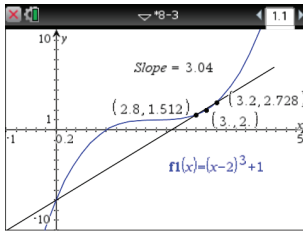
## معمل الحاسبة البيانية: ميل المنحني The Slope of a Curve



[-1, 5] scl: 0.2 by [-10, 10] scl: 1

**خطوة 2** احسب ميل القاطع المار بمنحني:  $y = (x - 2)^3 + 1$  عندما  $x = 2.5, x = 3.5$ .

ظلّل إحداثيَي  $x$  لكلا النقطتين واستبدلهما بالإحداثيين  $x = 2.5, x = 3.5$ ، فيكون ميل القاطع يساوي 3.25



[-1, 5] scl: 0.2 by [-10, 10] scl: 1

**خطوة 3** احسب ميل القاطع المار بمنحني:  $y = (x - 2)^3 + 1$  عندما  $x = 2.8, x = 3.2$ .

ظلّل إحداثيَي  $x$  لكلا النقطتين واستبدلهما بالإحداثيين  $x = 2.8, x = 3.2$ ، فيكون ميل القاطع يساوي 3.04

**خطوة 4** أوجد ميل 3 قواطع أخرى في فترات متناقصة حول النقطة (3, 2).

كلّما نقص طول الفترة حول النقطة (3, 2)، فإن ميل القاطع يقترب أكثر من العدد 3؛ لذا فإن ميل منحني  $y = (x - 2)^3 + 1$  عند النقطة (3, 2) هو 3 تقريبًا.

### تمارين :

قدّر ميل منحني كل دالة مما يأتي عند النقطة المعطاة:

$$(1) \quad y = (x + 1)^2, (-4, 9)$$

$$(2) \quad y = x^3 - 5, (2, 3)$$

$$(3) \quad y = 4x^4 - x^2, (0.5, 0)$$

$$(4) \quad y = \sqrt{x}, (1, 1)$$

### حلّ النتائج

(5) **حلّ:** صف ما يحدث لقاطع منحني دالة عندما تقترب نقاط التقاطع من نقطة معطاة  $(a, b)$  على المنحني.

(6) **خمن:** صف كيف يمكنك إيجاد القيمة الفعلية لميل منحني عند نقطة معطاة عليه.



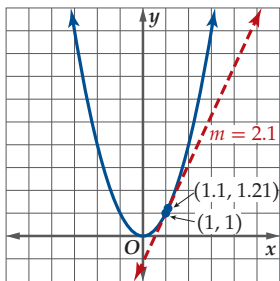


## لماذا؟

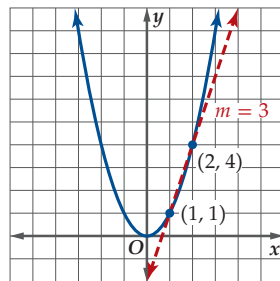


عندما يقفز المظلي من ارتفاع 15000 ft، فإن سرعته في اتجاه الأرض تزداد مع مرور الزمن؛ بسبب تسارع الجاذبية الأرضية، وتستمر سرعته في الازدياد حتى يفتح مظلته عند ارتفاع 2500 ft، أو عندما يصل إلى السرعة المتجهة الحدية، وهي السرعة المتجهة التي ينعدم عندها تسارع المظلي، ويحدث هذا عندما تصبح محصلة القوى عليه صفرًا.

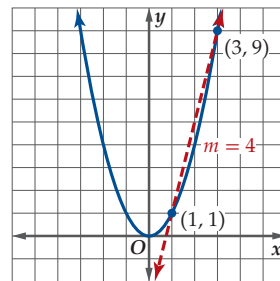
**المماسات:** تعلمت سابقاً أن مُعدّل تغيّر منحنى دالة غير خطية يتغير من نقطة إلى أخرى عليه، ويمكن حساب متوسط مُعدّل تغيّر الدالة غير الخطية على فترة باستعمال ميل القاطع. ففي التمثيلات البيانية أدناه للدالة  $y = x^2$  والقاطع الذي يقطعه مازًا بالنقطة  $(1, 1)$ ، وبنقطة أخرى مثل  $(3, 9)$ ، أو  $(2, 4)$ ، أو  $(1.1, 1.21)$ ، تجد أن القاطع يتخذ أوضاعًا مختلفة يتغير خلالها ميله.



الشكل (3)

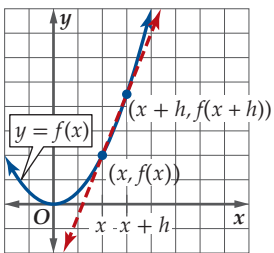


الشكل (2)



الشكل (1)

لاحظ أنه كلما قصّر طول الفترة بين نقطتي التقاطع، زادت دِقَّةَ تقريب ميل القاطع لميل المنحنى في هذه الفترة. إذا وصلنا تقصير الفترة إلى درجة تكون فيها نقطتا التقاطع متطابقتين كما في الشكل (3) أعلاه، فإننا نحصل على مماس للمنحنى، وهو مستقيم يتقاطع مع المنحنى، ولكنه لا يعبره عند نقطة التماس. ويمثل ميل هذا المستقيم ميل المنحنى عند نقطة التماس.



ولتعريف ميل المماس لمنحنى عند النقطة  $(x, f(x))$  فإنه يمكننا الرجوع إلى صيغة ميل القاطع المار بالنقطتين  $(x, f(x))$  و  $(x+h, f(x+h))$  كما في الشكل المجاور، ومنه يمكن كتابة ميل القاطع بالصيغة:

$$m = \frac{f(x+h) - f(x)}{(x+h) - x} = \frac{f(x+h) - f(x)}{h}$$

وُسَمِّي هذه الصيغة **قسمة الفرق**.

فكلما اقتربت النقطة  $(x+h, f(x+h))$  من النقطة  $(x, f(x))$ ؛ أي كلما اقتربت قيمة  $h$  من الصفر، فإن القاطع يقترب من مماس المنحنى عند النقطة  $(x, f(x))$ ؛ لذا يمكننا حساب ميل المماس وهو مُعدّل التغيّر اللحظي للدالة عند تلك النقطة على أنه نهاية ميل القاطع عندما  $h \rightarrow 0$ .

## فيما سبق:

درست إيجاد متوسط مُعدّل التغيّر باستعمال القاطع.  
(مهارة سابقة)

## والآن:

- أجد مُعدّل التغيّر اللحظي لدالة غير خطية عند نقطة بحساب ميل مماس منحنى الدالة عند تلك النقطة.
- أجد السرعة المتوسطة المتجهة والسرعة المتجهة اللحظية.

## المفردات:

المماس

tangent line

مُعدّل التغيّر اللحظي  
instantaneous rate of change

قسمة الفرق

difference quotient

السرعة المتجهة اللحظية

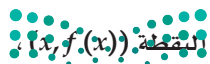
instantaneous velocity

## قراءة الرياضيات

### اختصارات

يمكن اختصار الجملة ميل المماس لمنحنى الدالة بميل المنحنى.

## مفهوم أساسي: مُعدّل التغيّر اللحظي



مُعدّل التغيّر اللحظي للدالة  $f$  عند النقطة  $(x, f(x))$  هو ميل المماس  $m$  عند النقطة  $(x, f(x))$  ويُعطى بالصيغة  $m = \lim_{h \rightarrow 0} \frac{f(x+h) - f(x)}{h}$ ، بشرط أن تكون النهاية موجودة.

يمكنك استعمال صيغة معدل التغير اللحظي لإيجاد ميل مماس منحنى عند نقطة عليه.

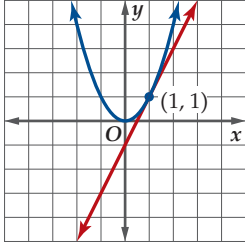
### إرشادات للدراسة

#### معدل التغير اللحظي

عند حساب نهاية ميل المستقيم القاطع عندما  $h \rightarrow 0$ ، فإن الحدود الباقية بعد إجراء الاختصارات، والتي تحتوي المتغير  $h$  ستصبح أصفاراً.

### مثال 1 ميل المماس للمنحنى عند نقطة عليه

أوجد ميل مماس منحنى الدالة  $y = x^2$  الممثلة بالشكل أدناه عند النقطة  $(1, 1)$ .



#### تحقق من فهمك

أوجد ميل مماس كل منحنى مما يأتي عند النقطة المعطاة:

$$y = x^2 + 4, (-2, 8) \quad (1B)$$

$$y = x^2, (3, 9) \quad (1A)$$

كما يمكنك استعمال صيغة معدل التغير اللحظي لإيجاد معادلة ميل المنحنى عند أي نقطة  $(x, f(x))$  عليه.

### مثال 2 ميل المنحنى عند أي نقطة عليه

أوجد معادلة ميل منحنى  $y = \frac{4}{x}$  عند أي نقطة عليه.

#### تحقق من فهمك

أوجد معادلة ميل منحنى كل دالة مما يأتي عند أي نقطة عليه:

$$y = x^3 \quad (2B)$$

$$y = x^2 - 4x + 2 \quad (2A)$$

**السرعة المتجهة اللحظية:** تعلمت سابقاً طريقة حساب السرعة المتوسطة لجسم يقطع مسافة  $f(t)$  في زمن مقداره  $t$ ، من خلال قسمة المسافة المقطوعة على الزمن الذي استغرقه الجسم لقطع تلك المسافة. والسرعة المتجهة هي سرعة لها اتجاه. ويمكنك إيجاد السرعة المتوسطة بالترتيب بالطريقة نفسها التي أوجدت بها السرعة المتوسطة مع توضيح اتجاهها باستعمال الإشارة في الناتج، فالإشارة الموجبة للناتج تعني اتجاه الأمام أو الأعلى، أما الإشارة السالبة فتعني اتجاه الخلف أو الأسفل.

### إرشادات للدراسة

#### موقع الجسم

موقع الجسم عادة يعطى بالعلاقة  $y = f(x)$  وذلك لتحديد الموقع في المستوى بدلالة الإحداثيين  $x, y$ ، أما إذا أعطي بوصفه دالة في الزمن  $t$ ، فهذا يعني الإزاحة (محصلة المركبة  $x$  والمركبة  $y$ ) لموقع الجسم عند اللحظة  $t$ ، وإذا كانت الحركة على خط مستقيم فإن دالة الموقع تكون نفسها دالة المسافة مع أخذ الاتجاه بعين الاعتبار.

### مفهوم أساسي

إذا أعطي موقع جسم متحرك بوصفه دالة في الزمن  $f(t)$ ، فإن السرعة المتوسطة المتجهة للجسم  $v_{avg}$  في الفترة الزمنية من  $a$  إلى  $b$  تُعطى بالصيغة

$$v_{avg} = \frac{\text{التغير في المسافة}}{\text{التغير في الزمن}} = \frac{f(b) - f(a)}{b - a}$$

### السرعة المتوسطة المتجهة مثال 3 من واقع الحياة

**جري:** تمثل المعادلة  $f(t) = -1.3t^2 + 12t$  المسافة بالأمتار، والتي قطعها عداء بعد  $t$  ساعة باتجاه خط النهاية. ما سرعته المتوسطة المتجهة بين الساعتين الثانية والثالثة من زمن السباق؟ أوجد أولاً المسافة الكلية التي قطعها العداء عند الزمن  $a = 2$ ،  $b = 3$ .

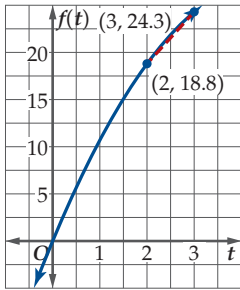


### الربط مع الحياة

أحرز العداء السعودي محمد شاويين ذهبية سباق 1500 m في دورة ألعاب آسيا المقامة في الصين عام 2010م، وفي المتوسط فقد قطع مسافة كيلومتر خلال 2:24:33 دقيقة تقريباً.

### تحقق من فهمك

**3) بالون:** تمثل  $h(t) = 5 + 65t - 16t^2$  الارتفاع بالأقدام بعد  $t$  ثانية للبالون يصعد رأسياً، ما السرعة المتوسطة المتجهة للبالون بين  $t = 1$  s،  $t = 2$  s؟



إذا أمعناً النظر في إجابة المثال 3، نجد أنه تم حساب السرعة المتوسطة المتجهة من خلال إيجاد ميل القاطع الذي يمر بالنقطتين  $(2, 18.8)$ ،  $(3, 24.3)$ ، كما في الشكل المجاور. والسرعة المتجهة التي تم حسابها هي السرعة المتوسطة المتجهة خلال فترة زمنية، وليست السرعة المتجهة اللحظية، والتي تساوي سرعة الجسم المتجهة عند لحظة زمنية محددة.

ولإيجاد سرعة العداء المتجهة عند لحظة زمنية محددة  $t$ ، فإننا نجد معدل التغير اللحظي لمنحنى  $f(t)$  عند تلك اللحظة.

### إرشادات للدراسة

سبق أن عرفت عند دراسة الإحداثيات القطبية أن الاتجاه له دلالة خاصة في المسافة المتجهة والزاوية المتجهة، كذلك فإن الاتجاه في السرعة المتجهة له دلالة خاصة.

### مفهوم أساسي

إذا أعطي موقع جسم متحرك بوصفه دالة في الزمن  $f(t)$ ، فإن السرعة المتجهة اللحظية  $v(t)$  لذلك الجسم عند الزمن  $t$  تعطى بالصيغة

$$v(t) = \lim_{h \rightarrow 0} \frac{f(t+h) - f(t)}{h}$$

بشرط أن تكون هذه النهاية موجودة.



### السرعة المتجهة اللحظية عند لحظة زمنية معينة

### مثال 4

سقطت كرة من قمة بناية ارتفاعها 2000 ft ، وتمثّل الدالة  $f(t) = 2000 - 16t^2$  ارتفاع الكرة عن سطح الأرض بالأقدام بعد  $t$  ثانية من سقوطها. أوجد السرعة المتجهة اللحظية  $v(t)$  للكرة بعد 5 s.

### تنبيه!

#### التعويض

تذكر أن توزع الإشارة السالبة إلى يسار  $f(t)$  على كل حد فيها.

### تحقق من فهمك

(4) سقطت علبة مادة التنظيف من يد عامل في أثناء قيامه بتنظيف نافذة بناية على ارتفاع 1400 ft عن سطح الأرض، وتمثل الدالة  $h(t) = 1400 - 16t^2$  ارتفاع العلبة بالأقدام بعد  $t$  ثانية من سقوطها. أوجد السرعة المتجهة اللحظية للعلبة  $v(t)$  بعد 7 s.

يمكن إيجاد معادلة للسرعة المتجهة اللحظية عند أي زمن.

### السرعة المتجهة اللحظية عند أي لحظة زمنية

### مثال 5

تُعطي المسافة التي يقطعها جسم بالسستمرات بعد  $t$  ثانية بالدالة  $s(t) = 18t - 3t^3 - 1$ . أوجد معادلة السرعة المتجهة اللحظية  $v(t)$  للجسم عند أي زمن.

### تحقق من فهمك

(5) تمثّل الدالة  $s(t) = 90t - 16t^2$  ارتفاع صاروخ بعد  $t$  ثانية من إطلاقه رأسياً من مستوى سطح البحر، حيث الارتفاع بالأقدام. أوجد معادلة السرعة المتجهة اللحظية  $v(t)$  للصاروخ عند أي زمن.



تمثل  $f(t)$  في كل مما يأتي بُعد جسم متحرك عن نقطة ثابتة بالأقدام بعد  $t$  ثانية. أوجد السرعة المتجهة اللحظية لهذا الجسم عند الزمن المُعطى: (مثال 4)

$$f(t) = 100 - 16t^2, t = 3 \quad (17)$$

$$f(t) = 38t - 16t^2, t = 0.8 \quad (18)$$

$$f(t) = -16t^2 - 400t + 1700, t = 3.5 \quad (19)$$

$$f(t) = 1275 - 16t^2, t = 3.8 \quad (20)$$

$$f(t) = 73t - 16t^2, t = 4.1 \quad (21)$$


$$f(t) = -16t^2 + 1100, t = 1.8 \quad (22)$$

تمثل  $s(t)$  في كل مما يأتي المسافة التي يقطعها جسم متحرك. أوجد معادلة السرعة المتجهة اللحظية  $v(t)$  للجسم عند أي زمن: (مثال 5)

$$s(t) = t - 3t^2 \quad (24) \quad s(t) = 14t^2 - 7 \quad (23)$$

$$s(t) = 18 - t^2 + 4t \quad (26) \quad s(t) = 5t + 8 \quad (25)$$

$$s(t) = 3t^3 - 20 + 6t \quad (28) \quad s(t) = 12t^2 - 2t^3 \quad (27)$$



(29) **قفز مظلي:** يمكن وصف ارتفاع مظلي

بالأقدام عن سطح الأرض بعد  $t$  ثانية من قفزه بالدالة  $h(t) = 15000 - 16t^2$ .

(الأمثلة 3, 4, 5)

(a) أوجد السرعة المتوسطة المتجهة للمظلي بين الثانيتين الثانية والخامسة من القفز.

(b) كم بلغت السرعة المتجهة اللحظية للمظلي عند الثانية الثانية، وعند الثانية الخامسة؟

(c) أوجد معادلة سرعة المظلي المتجهة اللحظية عند أي زمن.

(30) **غوص:** يُبين الجدول أدناه ارتفاع غواص  $d$  مقرباً لأقرب جزء من عشرة بالأمتار عن سطح الماء بعد  $t$  ثانية من قفزه من مكان مرتفع نحو الماء.

$t$	0.5	0.75	1.0	1.5	2.0	2.5	3.0
$d$	43.8	42.3	40.1	34	25.3	14.3	0.75

(a) احسب السرعة المتوسطة المتجهة للغواص في الفترة الزمنية  $0.5 \leq t \leq 1.0$ .

(b) إذا كانت معادلة المنحنى لنقاط الجدول هي

$$d(t) = -4.91t^2 - 0.04t + 45.06$$

فأوجد معادلة سرعة الغواص المتجهة اللحظية  $v(t)$  بعد  $t$  ثانية؛ ثم استجيب:

لحساب سرعته بعد  $3s$ .

أوجد ميل مماس منحنى كل دالة مما يأتي عند النقاط المعطاة: (مثال 1)

$$y = x^2 - 5x, (1, -4), (5, 0) \quad (1)$$

$$y = 6 - 3x, (-2, 12), (6, -12) \quad (2)$$

$$y = \frac{3}{x}, (1, 3), (3, 1) \quad (3)$$

$$y = x^3 + 8, (-2, 0), (1, 9) \quad (4)$$

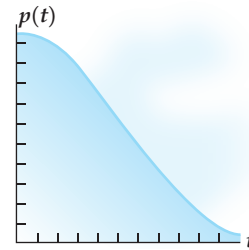
أوجد معادلة ميل منحنى كل دالة مما يأتي عند أي نقطة عليه: (مثال 2)

$$y = -x^2 + 4x \quad (6) \quad y = 4 - 2x \quad (5)$$

$$y = \frac{1}{x^2} \quad (8) \quad y = 8 - x^2 \quad (7)$$

$$y = -2x^3 \quad (10) \quad y = \frac{1}{\sqrt{x}} \quad (9)$$

(11) **تزلج:** تمثل الدالة  $p(t) = 0.06t^3 - 1.08t^2 + 51.84$  موقع متزلج على سفح جليدي بعد  $t$  ثانية من انطلاقه. (مثال 2)



(a) أوجد معادلة ميل السفح الجليدي عند أي زمن.

(b) أوجد الميل عندما  $t = 2s, 5s, 7s$ .

تمثل  $s(t)$  في كل مما يأتي بُعد جسم متحرك عن نقطة ثابتة بالأمتار بعد  $t$  دقيقة. أوجد السرعة المتوسطة المتجهة للجسم بالميل لكل ساعة في الفترة الزمنية المعطاة. (تذكر بأن تحوّل الدقائق إلى ساعات): (مثال 3)

$$s(t) = 0.4t^2 - \frac{1}{20}t^3, 3 \leq t \leq 5 \quad (12)$$

$$s(t) = 1.08t - 30, 4 \leq t \leq 8 \quad (13)$$

$$s(t) = 0.01t^3 - 0.01t^2, 4 \leq t \leq 7 \quad (14)$$

$$s(t) = -0.5(t - 5)^2 + 3, 4 \leq t \leq 4.5 \quad (15)$$

(16) تمثل المعادلة  $f(t) = -16t^2 + 65t + 12$  الارتفاع بالأقدام بعد  $t$  ثانية لكرة قذفت إلى أعلى، ما السرعة المتوسطة المتجهة للكرة بين  $t = 15, 2t$ . (مثال 3)

## مراجعة تراكمية

احسب كل نهاية مما يأتي (إن وجدت): (الدرس 8-2)

$$\lim_{x \rightarrow 4} (x^2 + 2x - 2) \quad (38)$$

$$\lim_{x \rightarrow -1} (-x^4 + x^3 - 2x + 1) \quad (39)$$

$$\lim_{x \rightarrow 0} (x + \sin x) \quad (40)$$

احسب كل نهاية مما يأتي (إن وجدت): (الدرس 8-2)

$$\lim_{x \rightarrow \infty} \frac{3x^2 + x + 1}{2x^2 + 5} \quad (41)$$

$$\lim_{x \rightarrow \infty} \frac{x^3 - x^2 + 2}{x^4 + x^3 + 3x} \quad (42)$$

## تدريب على اختبار

(43) ما معادلة ميل منحنى  $y = 2x^2$  عند أي نقطة عليه؟

$$m = x \quad \text{C} \quad m = 4x \quad \text{A}$$

$$m = -4x \quad \text{D} \quad m = 2x \quad \text{B}$$

(44) سقطت كرة بشكل رأسي، فكانت المسافة التي تقطعها بالأقدام بعد  $t$  ثانية تعطى بالدالة  $d(t) = 16t^2$ . إذا كانت  $\lim_{h \rightarrow 0} \frac{d(2+h) - d(2)}{h}$  تمثل السرعة المتجهة للكرة بعد  $2s$ ، فكم تساوي هذه السرعة؟

$$64 \text{ ft/s} \quad \text{C} \quad 46 \text{ ft/s} \quad \text{A}$$

$$72 \text{ ft/s} \quad \text{D} \quad 58 \text{ ft/s} \quad \text{B}$$

(45) ما ميل مماس منحنى  $y = x^3 + 7$  عند النقطة  $(3, 34)$ ؟

$$27 \quad \text{C} \quad -9 \quad \text{A}$$

$$34 \quad \text{D} \quad 9 \quad \text{B}$$

(31) كرة القدم: ركل سلمان كرة بسرعة رأسية قدرها  $75 \text{ ft/s}$ .

افتراض أن ارتفاع الكرة بالأقدام بعد  $t$  ثانية مُعطى بالدالة

$$f(t) = -16t^2 + 75t + 2.5$$



(a) أوجد معادلة سرعة الكرة المتجهة اللحظية  $v(t)$ .

(b) ما سرعة الكرة المتجهة بعد  $0.5s$  من ركلها؟

(c) إذا علمت أن السرعة المتجهة اللحظية للكرة لحظة وصولها إلى أقصى ارتفاع هي صفر، فمتى تصل إلى أقصى ارتفاع؟

(d) ما أقصى ارتفاع تصل إليه الكرة؟

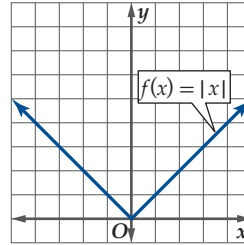
(32) فيزياء: تعطى المسافة التي يقطعها جسم يتحرك على مسار

مستقيم بالمعادلة  $d(t) = 3t^3 + 8t + 4$ ، حيث  $t$  الزمن بالثواني، و  $d$  المسافة بالأمتار.

(a) أوجد معادلة السرعة المتجهة اللحظية للجسم  $v(t)$  عند أي زمن.

(b) استعمل  $v(t)$  لحساب سرعة الجسم المتجهة عندما  $t = 2s, 4s, 6s$

## مسائل مهارات التفكير العليا



(33) اكتشف الخطأ: سُئل علي وجميل

أن يصفوا معادلة ميل مماس منحنى

الدالة الممثلة بيانياً في الشكل المجاور

عند أي نقطة على منحنىها. فقال علي:

إن معادلة الميل ستكون متصلة؛ لأن

الدالة الأصلية متصلة، في حين قال

جميل: إن معادلة الميل لن تكون

متصلة. أيهما كانت إجابته صحيحة؟ فسّر إجابتك.

(34) تحدّ: أوجد معادلة ميل مماس منحنى  $f(x) = 2x^4 + 3x^3 - 2x$

عند أي نقطة عليه.

(35) تبرير: هل العبارة الآتية صحيحة أو خاطئة "يقطع المماس

منحنى الدالة عند نقطة التماس فقط"؟ برّر إجابتك.

(36) تبرير: صح أم خطأ: إذا أعطيت المسافة التي يقطعها جسم بعد  $t$

ثانية بـ  $s(t) = at + b$ ، فإن السرعة المتجهة اللحظية للجسم

تساوي  $a$  دائماً. برّر إجابتك.

(37) اكتب بين لماذا تكون السرعة المتجهة اللحظية لجسم متحرك صفرًا

عند نقطة القيمة العظمى والصغرى لدالة المسافة.



اوجد ميل مماس منحنى كل دالة مما يأتي عند النقاط المعطاة:  
(الدرس 8-3)

(18)  $y = x^2 - 3x$ , (2, -2), (-1, 4)

(19)  $y = 2 - 5x$ , (-2, 12), (3, -13)

(20)  $y = x^3 - 4x^2$ , (1, -3), (3, -9)

(21) **ألعاب نارية:** انطلقت قذيفة ألعاب نارية رأسياً إلى أعلى بسرعة 90 ft/s، وتمثل الدالة  $h(t) = -16t^2 + 90t + 3.2$  الارتفاع الذي تبلغه القذيفة بعد  $t$  ثانية من إطلاقها. (الدرس 8-3)

(a) أوجد معادلة السرعة المتجهة اللحظية  $v(t)$  للقذيفة.

(b) ما السرعة المتجهة للقذيفة بعد 0.5s من الإطلاق؟

(c) ما أقصى ارتفاع تبلغه القذيفة؟

(22) **اختيار من متعدد:** أي مما يأتي يمثل معادلة ميل منحنى  $y = 7x^2 - 2$  عند أي نقطة عليه؟ (الدرس 8-3)

**A**  $m = 7x$       **C**  $m = 7x - 2$

**B**  $m = 14x$       **D**  $m = 14x - 2$

تُعطى المسافة التي يقطعها جسم متحرك بالأمتار بعد  $t$  دقيقة بالدالة  $s(t)$ . أوجد السرعة المتوسطة المتجهة للجسم في كل مما يأتي بالميل لكل ساعة على الفترة الزمنية المعطاة. تذكر أن تحول الدقائق إلى ساعات. (الدرس 8-3)

(23)  $s(t) = 12 + 0.7t$ ,  $2 \leq t \leq 5$

(24)  $s(t) = 2.05t - 11$ ,  $1 \leq t \leq 7$

(25)  $s(t) = 0.9t - 25$ ,  $3 \leq t \leq 6$

(26)  $s(t) = 0.5t^2 - 4t$ ,  $4 \leq t \leq 8$

أوجد معادلة السرعة المتجهة اللحظية  $v(t)$  لجسم يُعطى موقعه عند أي زمن بالعلاقة  $h(t)$  في كل مما يأتي: (الدرس 8-3)

(27)  $h(t) = 4t^2 - 9t$

(28)  $h(t) = 2t - 13t^2$

(29)  $h(t) = 2t - 5t^2$

(30)  $h(t) = 6t^2 - t^3$

قَدِّر كل نهاية مما يأتي: (الدرس 8-2)

(1)  $\lim_{x \rightarrow 0^+} \frac{\sin x}{x}$

(2)  $\lim_{x \rightarrow 0^+} \frac{|x|}{x}$

(3)  $\lim_{x \rightarrow 3^-} \frac{2x^2 - 18}{x - 3}$

(4)  $\lim_{x \rightarrow 0^-} \frac{\cos x - 1}{x}$

(5)  $\lim_{x \rightarrow 3} \frac{2x}{x^2 + 1}$

(6)  $\lim_{x \rightarrow 1} \sqrt{x^3 + 3}$

(7)  $\lim_{x \rightarrow -4} \frac{\sqrt{x + 20}}{x}$

(8)  $\lim_{x \rightarrow 3} \frac{|4 - x|}{\sqrt{3x}}$

(9) تزداد قيمة تحفة فنية فريدة سنوياً بحيث تُعطى قيمتها بالآلاف الريالات بعد  $t$  سنة بالعلاقة  $v(t) = \frac{400t + 2}{2t + 15}$ . (الدرس 8-1)

(a) مثل الدالة  $v(t)$  بيانياً في الفترة  $0 \leq t \leq 10$ .

(b) استعمل التمثيل البياني؛ لتقدير قيمة التحفة الفنية عندما  $t = 2, 5, 10$ .

(c) استعمل التمثيل البياني لتقدير  $\lim_{t \rightarrow \infty} v(t)$ .

(d) وضح العلاقة بين النهاية وسعر التحفة الفنية.

احسب كل نهاية مما يأتي بالتعويض المباشر، إذا كان ممكناً، وإلا فاذكر السبب. (الدرس 8-2)

(10)  $\lim_{x \rightarrow 9} \frac{x^2 + 1}{\sqrt{x} - 3}$

(11)  $\lim_{x \rightarrow -2} (2x^3 + x^2 - 8)$

(12) **حياة برية:** يمكن تقدير عدد الغزلان بالمتات في محمية بالعلاقة

$P(t) = \frac{10t^3 - 40t + 2}{2t^3 + 14t + 12}$ ، وذلك بعد  $t$  سنة، حيث  $t \geq 3$ . ما أكبر عدد للغزلان يمكن أن يوجد في هذه المحمية؟ (الدرس 8-2)

احسب كل نهاية مما يأتي إذا كانت موجودة: (الدرس 8-2)

(13)  $\lim_{x \rightarrow \infty} (15 - x^2 + 8x^3)$

(14)  $\lim_{x \rightarrow \infty} \frac{2x^3 - x - 2}{4x^3 + 5x^2}$

(15)  $\lim_{x \rightarrow \infty} \frac{2x^2 + 5x - 1}{2x^4 - 14x^2 + 2}$

(16)  $\lim_{x \rightarrow \infty} (10x^3 - 4 + x^2 - 7x^4)$

(17) **اختيار من متعدد:** قَدِّر  $\lim_{x \rightarrow 0} \frac{2x^2 + 5}{10 - (2.7)^{\frac{16}{x}}}$  (الدرس 8-1)


**A** غير موجودة

**B**  $\frac{1}{2}$

**C**  $\infty$

**D**  $-\infty$





## لماذا؟

ركل أحمد كرة رأسياً إلى أعلى من ارتفاع 3 ft، فانطلقت بسرعة 65 ft/s. يمكنك استعمال معادلات الحركة بتسارع ثابت، التي درستها في الفيزياء لكتابة دالة تصف ارتفاع الكرة بعد  $t$  ثانية، ومن ثم تحديد ما إذا كانت الكرة ستبلغ ارتفاع 68 ft أم لا.

**قواعد أساسية للاشتقاق:** استعملت النهايات في الدرس 3-8 لتحديد ميل مماس منحنى الدالة  $f(x)$  عند أي نقطة عليه، وتسمى هذه النهاية مشتقة الدالة ويرمز لها بالرمز  $f'(x)$ ، وتُعطى بالصيغة:

$$f'(x) = \lim_{h \rightarrow 0} \frac{f(x+h) - f(x)}{h}$$

بشرط وجود هذه النهاية، وتسمى عملية إيجاد المشتقة **الاشتقاق**، وتسمى النتيجة معادلة تفاضلية.

## مشتقة دالة عند أي نقطة

### مثال 1

أوجد مشتقة  $f(x) = 4x^2 - 5x + 8$  باستعمال النهايات، ثم احسب قيمة المشتقة عندما  $x = 1, 5$ .

## فيما سبق:

درست حساب ميل المماسات لإيجاد معدل التغير اللحظي. (الدرس 3-8)

## والآن:

- أجد ميل منحنى دالة غير خطية باستعمال المشتقات.
- أستعمل قواعد الاشتقاق لإيجاد المشتقات.

## المفردات:

المشتقة

derivative

الاشتقاق

differentiation

المعادلة التفاضلية

differential equation

المؤثر التفاضلي

differential operator

## قراءة الرياضيات

### المشتقات

يُقرأ الرمز  $f'(x)$  مشتقة  $f$  بالنسبة للمتغير  $x$ ، أو  $x$  prime of  $x$ .

## تاريخ الرياضيات

### شرف الدين الطوسي

العالم المسلم شرف الدين الطوسي (المتوفى عام 610هـ) من خلال دراسته المعادلات التي درجتها  $3 \leq$  استعمل في حل هذه المعادلات، القيمة العظمى للعبارات الجبرية، وأخذ "المشتق الأول" لهذه العبارات من دون أن يستعمل اسمه (المشتق الأول)، وبرهن على أن جذر المعادلة التي يحصل عليها إذا ما عُوض به في العبارة الجبرية، أعطى القيمة العظمى للعبارة.

## تحقق من فهمك

أوجد مشتقة  $f(x)$  باستعمال النهايات، ثم احسب قيمة المشتقة عند قيم  $x$  المعطاة:

**(1B)**  $f(x) = -5x^2 + 2x - 12, x = 1, 4$

**(1A)**  $f(x) = 6x^2 + 7, x = 2, 5$

يُرمز لمشتقة  $y = f(x)$  أيضاً بالرموز  $\frac{dy}{dx}, \frac{df}{dx}, y'$ ، وإذا سبق الدالة المؤثر التفاضلي  $\frac{d}{dx}$ ، فإن ذلك يعني إيجاد مشتقة الدالة.

حتى هذه اللحظة استعملت النهاية؛ لإيجاد كل من المشتقة وميل المماس والسرعة المتجهة اللحظية. وتعدُّ قاعدة مشتقة القوة من أكثر القواعد فعالية لإيجاد المشتقات من دون اللجوء إلى استعمال النهايات، مما يجعل عملية إيجاد المشتقات أكثر سهولة ودقة.

### مفهوم أساسي قاعدة مشتقة القوة

التعبير اللفظي: قوة  $x$  في المشتقة أقل بواحد من قوة  $x$  في الدالة الأصلية، ومعامل  $x$  في المشتقة يساوي قوة  $x$  في الدالة الأصلية.

الرموز: إذا كان  $f(x) = x^n$ ، حيث  $n$  عدد حقيقي، فإن:  $f'(x) = nx^{n-1}$ .

### مثال 2 قاعدة مشتقة القوة

أوجد مشتقة كل دالة مما يأتي:

$$f(x) = x^9 \quad (a)$$

$$g(x) = \sqrt[5]{x^7} \quad (b)$$

$$h(x) = \frac{1}{x^8} \quad (c)$$

### تحقق من فهمك

أوجد مشتقة كل دالة مما يأتي:

$$m(x) = \frac{1}{x^5} \quad (2C)$$

$$k(x) = \sqrt{x^3} \quad (2B)$$

$$j(x) = x^4 \quad (2A)$$

هناك العديد من قواعد الاشتقاق الأخرى المهمة التي تفيده في إيجاد مشتقات الدوال التي تحوي أكثر من حد.

### مفهوم أساسي قواعد أخرى للاشتقاق

مشتقة الثابت: مشتقة الدالة الثابتة تساوي صفرًا؛ أي أنه إذا كانت  $f(x) = c$ ، حيث  $c$  عدد ثابت، فإن  $f'(x) = 0$ .

مشتقة مضاعفات القوة: إذا كانت  $f(x) = cx^n$ ، حيث  $c$  ثابت، و  $n$  عدد حقيقي، فإن:  $f'(x) = ncx^{n-1}$ .

مشتقة المجموع أو الفرق: إذا كانت:  $f(x) = g(x) \pm h(x)$ ، فإن:  $f'(x) = g'(x) \pm h'(x)$ .

### تنبيه

#### مشتقات القوى السالبة

مشتقة  $f(x) = x^{-4}$  ليست

تذكر  $f'(x) = -4x^{-3}$ .

بأننا يجب أن نطرح واحدًا من

الأس؛ لنحصل على:

$-4 - 1 = -4 + (-1) = -5$

لذا فإن  $f'(x) = -4x^{-5}$ .



### مثال 3 قواعد الاشتقاق

أوجد مشتقة كل دالة مما يأتي:

$$f(x) = 5x^3 + 4 \quad (a)$$

$$g(x) = x^5(2x^3 + 4) \quad (b)$$

$$h(x) = \frac{5x^3 - 12x + 6\sqrt{x^5}}{x} \quad (c)$$

#### إرشادات للدراسة

##### المشتقات

إذا كانت  $f(x) = x$ ، فإن  $f'(x) = 1$   
 وإذا كانت  $f(x) = c$ ، فإن  $f'(x) = 0$

#### تحقق من فهمك

أوجد مشتقة كل دالة مما يأتي:

$$f(x) = 2x^5 - x^3 - 102 \quad (3A) \quad g(x) = 3x^4(x + 2) \quad (3B) \quad h(x) = \frac{4x^4 - 3x^2 + 5x}{x} \quad (3C)$$

الآن، وبعد أن درست القواعد الأساسية للاشتقاق، يمكنك حل المسائل التي تتطلب حساب ميل مماس المنحنى، أو إيجاد السرعة المتجهة اللحظية بخطوات أقل، ففي مثال 5 من الدرس 3-4، أوجدنا معادلة السرعة المتجهة اللحظية لجسم متحرك، وستلاحظ الآن سهولة حل المسألة نفسها بتطبيق قواعد الاشتقاق.

### مثال 4 السرعة المتجهة اللحظية

تُعطى المسافة التي يقطعها جسم بالستمتترات بعد  $t$  ثانية بالدالة:  $s(t) = 18t - 3t^3 - 1$ ، أوجد معادلة السرعة المتجهة اللحظية  $v(t)$  للجسم.

#### تنبيه

للتسهيل يمكنك إيجاد كل من ميل المماس لمنحنى الدالة، والسرعة المتجهة اللحظية، ومشتقة الدالة، باستخدام القواعد ما لم يُطلب منك استخدام النهايات لإيجاد أي منها.

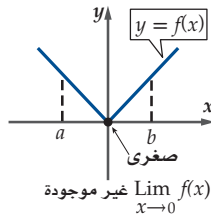
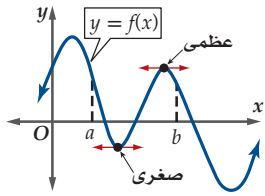
#### تحقق من فهمك

(4) الدالة:  $h(t) = 55t - 16t^2$  تمثل الارتفاع بالأقدام بعد  $t$  ثانية لكرة قُدِّفت رأسياً إلى أعلى. أوجد معادلة السرعة المتجهة اللحظية للكرة عند أي زمن.



النقطة التي تكون عندها مشتقة الدالة صفرًا أو غير موجودة تُسمى نقطة حرجة للدالة، والنقطة الحرجة قد تشير إلى وجود نقطة قيمة عظمى أو صغرى للدالة، وتحدث عندما يكون ميل منحنى الدالة صفرًا أو غير موجود.

## مفهوم أساسي نظرية القيمة القصوى



إذا كانت  $f(x)$  متصلة على الفترة المغلقة  $[a, b]$ ، فإن لها قيمة عظمى وصغرى على الفترة  $[a, b]$ ، وذلك إما عند أحد طرفي الفترة أو عند إحدى النقاط الحرجة.

لتعيين نقاط القيم العظمى والصغرى للدالة على فترة مغلقة، لا بد من حساب قيم الدالة عند أطراف الفترة، وعند النقاط الحرجة في تلك الفترة.

## القيمتان العظمى والصغرى لدالة

## مثال 5 من واقع الحياة

**أفعوانية:** الدالة:  $h(t) = -\frac{1}{3}t^3 + 4t^2 + \frac{11}{3}$  تمثل ارتفاع إبراهيم بالأقدام في أثناء ركوبه أفعوانية، حيث  $t$  الزمن بالثواني في الفترة الزمنية  $[1, 12]$ ، أوجد أقصى وأدنى ارتفاع يبلغه إبراهيم.



### الربط مع الحياة

ازدادت سرعة الأفعوانيات حديثًا لتصل إلى 120 mi/h، وكذلك ازدادت ارتفاعاتها لتبلغ 450 ft.

### إرشادات للدراسة

**دالة كثيرة الحدود**  
مجال تعريف دالة كثيرة الحدود هو مجموعة الأعداد الحقيقية لذلك إذا كانت المشتقة دالة كثيرة حدود، فإن النقاط الحرجة توجد فقط عندما تكون المشتقة صفرًا. ولذلك عند إيجاد القيم العظمى والصغرى لدالة كثيرة حدود  $f(x)$  على فترة  $[a, b]$ ، نجد قيم الدالة عند طرفي الفترة وعند أي قيمة  $x$  تكون عندها  $f'(x)=0$ .

### تحقق من فهمك

**5) رياضة القفز:** الدالة:  $h(t) = 20t^2 - 160t + 330$  تمثل ارتفاع سعد بالأقدام في أثناء قفزه في قفزة البنجي (القفز من أماكن مرتفعة، بحيث تكون القدمان موثقتين بحبل مطاطي)، حيث  $t$  الزمن بالثواني في الفترة  $[0, 6]$ . أوجد أقصى وأدنى ارتفاع يبلغه سعد في هذه الفترة الزمنية.

**قاعدتا مشتقتي الضرب والقسمة:** تعلّمت في هذا الدرس أن مشتقة مجموع دالتين تساوي مجموع مشتقتي الدالتين، فهل تكون مشتقة ناتج ضرب دالتين مساويةً لناتج ضرب مشتقتي الدالتين؟ افترض أن:  
 $f(x) = x, g(x) = 3x^3$

**ضرب المشتقات**

$$\frac{d}{dx} f(x) \cdot \frac{d}{dx} g(x) = \frac{d}{dx} (x) \cdot \frac{d}{dx} (3x^3)$$

$$= 1 \cdot 9x^2 = 9x^2$$

**مشتقة الضرب**

$$\frac{d}{dx} [f(x) \cdot g(x)] = \frac{d}{dx} [x \cdot 3x^3]$$

$$= \frac{d}{dx} (3x^4) = 12x^3$$

يتضح من هذا المثال أن مشتقة ناتج ضرب دالتين لا تساوي بالضرورة ناتج ضرب مشتقتي الدالتين، ويمكننا استعمال القاعدة الآتية لإيجاد مشتقة ناتج ضرب دالتين.

### قاعدة مشتقة الضرب

### مفهوم أساسي

إذا كانت مشتقة كل من الدالتين  $f$  و  $g$  موجودة عند  $x$ ، فإن:  $\frac{d}{dx} [f(x) g(x)] = f'(x) g(x) + f(x) g'(x)$

ستبرهن قاعدة مشتقة الضرب في التمرين 48

### قاعدة مشتقة الضرب

### مثال 6

أوجد مشتقة كل دالة مما يأتي:

$h(x) = (x^3 - 2x + 7)(3x^2 - 5)$  (a)

$h(x) = (x^3 - 4x^2 + 48x - 64)(6x^2 - x - 2)$  (b)

### إرشادات للدراسة

#### قاعدة مشتقة الضرب

يُنْتَج عن قاعدة مشتقة الضرب مقدار يمكن تبسيطه. ويمكنك أيضًا تركه على حاله من دون تبسيط، ما لم تكن في حاجة إلى تبسيطه.

### تحقق من فهمك

أوجد مشتقة كل دالة مما يأتي:

$h(x) = (x^2 + x^3 + x)(8x^2 + 3)$  (6B)       $h(x) = (x^5 + 13x^2)(7x^3 - 5x^2 + 18)$  (6A)

بطريقة التبرير نفسها في مشتقة الضرب، يمكنك ملاحظة أن مشتقة ناتج قسمة دالتين لا تساوي ناتج قسمة مشتقتي الدالتين، ويمكن استعمال القاعدة الآتية لحساب مشتقة قسمة دالتين.

### مفهوم أساسي

### قاعدة مشتقة القسمة

إذا كانت مشتقة كل من الدالتين  $f, g$  موجودة عند  $x$ ، وكان  $g(x) \neq 0$ ، فإن:

$$\frac{d}{dx} \left[ \frac{f(x)}{g(x)} \right] = \frac{f'(x)g(x) - f(x)g'(x)}{[g(x)]^2}$$

ستبرهن قاعدة مشتقة القسمة في التمرين 50

### مثال 7

### قاعدة مشتقة القسمة

أوجد مشتقة كل دالة مما يأتي:

$$h(x) = \frac{5x^2 - 3}{x^2 - 6} \quad (a)$$

$$h(x) = \frac{x^2 + 8}{x^3 - 2} \quad (b)$$

### إرشادات للدراسة

#### قاعدة مشتقة القسمة

يُعدّ تبسيط ناتج مشتقة القسمة مهمًا في كثير من التمارين، إلا أنه ليس من الضروري فك أقواس المقام، ما لم ينتج عن ذلك تبسيط أكثر.

### تحقق من فهمك

أوجد مشتقة كل دالة مما يأتي:

$$j(x) = \frac{7x - 10}{12x + 5} \quad (7A)$$

$$k(x) = \frac{6x}{2x^2 + 4} \quad (7B)$$



أوجد مشتقة كل دالة مما يأتي: (مثال 6)

$$f(x) = (4x + 3)(x^2 + 9) \quad (22)$$

$$g(x) = (3x^4 + 2x)(5 - 3x) \quad (23)$$

$$s(t) = (\sqrt{t} + 2)(3t^{11} - 4t) \quad (24)$$

$$g(x) = \left(x^{\frac{3}{2}} + 2x\right)(0.5x^4 - 3x) \quad (25)$$

$$c(t) = (t^3 + 2t - t^7)(t^6 + 3t^4 - 22t) \quad (26)$$

$$q(a) = \left(a^{\frac{9}{8}} + a^{-\frac{1}{4}}\right)\left(a^{\frac{5}{4}} - 13a\right) \quad (27)$$

$$f(x) = (1.4x^5 + 2.7x)(7.3x^9 - 0.8x^5) \quad (28)$$

استعمل قاعدة مشتقة القسمة لإيجاد مشتقة كل دالة مما يأتي: (مثال 7)

$$r(t) = \frac{t^2 + 2}{3 - t^2} \quad (30) \quad f(m) = \frac{3 - 2m}{3 + 2m} \quad (29)$$

$$f(x) = \frac{\sqrt{x} + 2x}{-x^2 + 3} \quad (32) \quad m(q) = \frac{q^4 + 2q^2 + 3}{q^3 - 2} \quad (31)$$

$$t(w) = \frac{w + w^4}{\sqrt{w}} \quad (34) \quad q(r) = \frac{1.5r^3 + 5 - r^2}{r^3} \quad (33)$$

(35) قام بائع ملابس بإيجاد العلاقة بين سعر قميص، وعدد القطع المباعة منه يوميًا، فوجد أنه عندما يكون سعر القميص  $d$  ريالًا، فإن عدد القطع المباعة يوميًا يساوي  $80 - 2d$ .

(a) أوجد  $r(d)$  التي تمثل إجمالي المبيعات اليومية، عندما يكون

سعر القميص  $d$  ريالًا.

(b) أوجد  $r'(d)$ .

(c) أوجد السعر  $d$  الذي تكون عنده قيمة المبيعات اليومية أكبر ما يمكن.

أوجد مشتقة كل دالة مما يأتي، ثم مثل الدالة والمشتقة بيانيًا على المستوى الإحداثي نفسه.

(إرشاد: يمكنك استعمال الحاسبة البيانية في التمثيل البياني)

$$f(x) = 3x^2 + 2x - 7 \quad (36)$$

$$g(x) = \sqrt{x} + 4 \quad (37)$$

$$f(x) = 4x^5 - 6x^3 + 10x - 11 \quad (38)$$

$$g(x) = \frac{1}{x} \quad (39)$$

(40) **المشتقات العليا:** لتكن  $f'(x)$  مشتقة  $f(x)$ ، إذا كانت مشتقة  $f'(x)$

موجودة، فإنها تسمى المشتقة الثانية للدالة  $f$ ، ويرمز لها بالرمز

$f''(x)$ ، أو الرمز  $f^{(2)}(x)$ ، وكذلك إذا كانت مشتقة  $f''(x)$  موجودة،

فإنها تسمى المشتقة الثالثة للدالة  $f$ ، ويرمز لها بالرمز  $f'''(x)$

أو  $f^{(3)}(x)$ ، وتسمى المشتقات على هذا النحو المشتقات العليا

للدالة  $f$ . أوجد كلاً مما يأتي:

$$(a) \text{ المشتقة الثانية للدالة: } f(x) = 4x^5 - 2x^3 + 6$$

$$(b) \text{ المشتقة الثالثة للدالة: } g(x) = -2x^7 + 4x^4 - 7x^3 + 10x$$

$$(c) \text{ المشتقة الرابعة للدالة: } h(x) = 3x^{-3} + 2x^{-2} + 4x^2$$

أوجد مشتقة كل دالة مما يأتي باستعمال النهايات، ثم احسب قيمة المشتقة عند النقاط المعطاة: (مثال 1)

$$f(x) = 4x^2 - 3, x = 2, -1 \quad (1)$$

$$g(t) = -t^2 + 2t + 11, t = 5, 3 \quad (2)$$

$$m(j) = 14j - 13, j = -7, -4 \quad (3)$$

$$v(n) = 5n^2 + 9n - 17, n = 7, 2 \quad (4)$$

$$r(b) = 2b^3 - 10b, b = -4, -3 \quad (5)$$

أوجد مشتقة كل دالة مما يأتي: (المثالان 2, 3)

$$z(n) = 2n^2 + 7n \quad (7) \quad y(f) = -11f \quad (6)$$

$$b(m) = 3m^{\frac{2}{3}} - 2m^{\frac{3}{2}} \quad (9) \quad g(h) = 2h^{\frac{1}{2}} + 6h^{\frac{1}{3}} - 2h^{\frac{3}{2}} \quad (8)$$

$$f(x) = 3x^{\frac{1}{2}} - x^{\frac{3}{2}} + 2x^{-\frac{1}{2}} \quad (11) \quad n(t) = \frac{1}{t} + \frac{3}{t^2} + \frac{2}{t^3} + 4 \quad (10)$$

$$p(k) = k^{5.2} - 8k^{4.8} + 3k \quad (13) \quad q(c) = c^9 - 3c^5 + 5c^2 - 3c \quad (12)$$

(14) **درجات حرارة:** تُعطي درجة حرارة إحدى المدن بالفهرنهايت في أحد الأيام بالدالة:

$$f(h) = -0.0036h^3 - 0.01h^2 + 2.04h + 52$$

حيث  $h$  عدد الساعات التي انقضت من ذلك اليوم. (مثال 4)

(a) أوجد معادلة تمثل مُعدّل التغير اللحظي لدرجة الحرارة.

(b) أوجد مُعدّل التغير اللحظي لدرجة الحرارة عندما:

$$h = 2, 14, 20$$

(c) أوجد درجة الحرارة العظمى في الفترة:  $0 \leq h \leq 24$

استعمل الاشتقاق لإيجاد النقاط الحرجة، ثم أوجد نقاط القيم العظمى والصغرى لكل دالة مما يأتي على الفترة المعطاة. (مثال 5)

$$f(x) = 2x^2 + 8x, [-5, 0] \quad (15)$$

$$r(t) = t^4 + 6t^2 - 2, [1, 4] \quad (16)$$

$$t(u) = u^3 + 15u^2 + 75u + 115, [-6, -3] \quad (17)$$

$$f(x) = -5x^2 - 90x, [-11, -8] \quad (18)$$

$$z(k) = k^3 - 3k^2 + 3k, [0, 3] \quad (19)$$

$$c(n) = \frac{1}{3}n^3 + \frac{1}{2}n^2 - 6n + 8, [-5, 5] \quad (20)$$

(21) **رياضة:** عُد إلى فقرة "لماذا؟" في بداية الدرس. الدالة:

$$h(t) = 65t - 16t^2 + 3$$

عندما  $0 \leq t \leq 4$ . (مثال 5)

(a) أوجد  $h'(t)$ .

(b) أوجد نقاط القيم العظمى والصغرى للدالة  $h(t)$  في الفترة  $[0, 4]$ .

(c) هل يمكن لأحمد ركل الكرة لتصل إلى ارتفاع 68 ft؟



**51) اكتب:** هل من الممكن أن يكون لدالتين مختلفتين المشتقة نفسها؟ عزز إجابتك بأمثلة.

### مراجعة تراكمية

أوجد ميل مماس منحنى كل دالة مما يأتي عند النقاط المعطاة: (الدرس 8-3)

**52)**  $y = x^2 - 3x$ ,  $(0, 0)$ ,  $(3, 0)$

**53)**  $y = 4 - 2x$ ,  $(-2, 8)$ ,  $(6, -8)$

**54)**  $y = x^2 + 9$ ,  $(3, 18)$ ,  $(6, 45)$

احسب كل نهاية مما يأتي: (الدرس 8-2)

**55)**  $\lim_{x \rightarrow -4} \frac{x^2 - 16}{x + 4}$

**56)**  $\lim_{x \rightarrow -2} \frac{x^2 + 5x + 6}{x^2 + x - 2}$

**57)**  $\lim_{x \rightarrow 2} \frac{3x + 9}{x^2 - 5x - 24}$

قدّر كل نهاية مما يأتي: (الدرس 8-1)

**58)**  $\lim_{x \rightarrow 4^+} \frac{x^2 - x - 12}{|x - 4|}$

**59)**  $\lim_{x \rightarrow 0^+} (\sqrt{x} + 2x + 3)$

### تدريب على اختبار

**60)** ما مشتقة:  $h(x) = (-7x^2 + 4)(2 - x)$  ؟

**A**  $h'(x) = -14x$

**B**  $h'(x) = 14x$

**C**  $h'(x) = -21x^2 - 28x + 4$

**D**  $h'(x) = 21x^2 - 28x - 4$

**61)** ما ميل مماس منحنى  $y = 2x^2$  عند النقطة  $(1, 2)$  ؟

**A** 1

**B** 2

**C** 4

**D** 8

**62)** ما مشتقة:  $f(x) = 5\sqrt[3]{x^8}$  ؟

**F**  $f'(x) = \frac{40}{3}x^{\frac{5}{3}}$

**G**  $f'(x) = \frac{40}{3}x^{\frac{8}{3}}$

**H**  $f'(x) = 225x^{\frac{5}{3}}$

**J**  $f'(x) = 225x^{\frac{8}{3}}$

تمثل منحنى دالة لها الخصائص المعطاة في كل مما يأتي:

**41)** المشتقة تساوي 0، عندما  $x = -1, 1$ .

**42)** المشتقة غير معرفة، عندما  $x = 4$ .

**43)** المشتقة تساوي -2، عندما  $x = -1, 0, 2$ .

**44)** المشتقة تساوي 0، عندما  $x = -1, 2, 4$ .

**45)** تمثيلات متعددة: في هذا التمرين ستستكشف علاقة المشتقات ببعض الخصائص الهندسية للدوال.

**(a) تحليلياً:** أوجد مشتقة صيغة مساحة الدائرة بالنسبة لنصف القطر  $r$ .

**(b) لفظياً:** وضح العلاقة بين المعادلة الأصلية ومشتقتها في الفرع a.

**(c) بيانياً:** ارسم مربعاً طول ضلعه  $2a$ ، ومكعباً طول ضلعه  $2a$ .

**(d) تحليلياً:** اكتب صيغة تمثل مساحة المربع، وأخرى تمثل حجم المكعب بدلالة  $a$ ، ثم أوجد مشتقتي الصيغتين.

**(e) لفظياً:** وضح العلاقة بين المعادلة الأصلية ومشتقتها في الفرع d.

### مسائل مهارات التفكير العليا

**46) اكتشف الخطأ:** قام كل من أحمد وعبدالله بإيجاد  $[f'(x)]^2$  للدالة

$f(x) = 6x^2 + 4x$ ، حيث كانت إجابة عبد الله:

$144x^2 + 96x + 16$ ، في حين كانت إجابة أحمد:

$144x^3 + 144x^2 + 32x$ ، فأيهما كانت إجابته صحيحة؟ برّر إجابتك.

**47) تحدّ:** أوجد  $f'(y)$  علمًا بأن:

$f(y) = 10x^2y^3 + 5xz^2 - 6xy^2 + 8x^5 - 11x^8yz^7$

**48) برهان:** برهن صحة قاعدة مشتقة الضرب، بإثبات أن:

$f'(x)g(x) + f(x)g'(x) = \lim_{h \rightarrow 0} \frac{f(x+h)g(x+h) - f(x)g(x)}{h}$

(إرشاد: ابدأ بالطرف الأيمن، وأضف  $f(x)g(x+h)$  إلى البسط واطرحه منه).

**49) تبرير:** بين ما إذا كانت العبارة الآتية صحيحة أو خاطئة، وبرّر إجابتك.

"إذا كانت:  $f(x) = x^{5n+3}$ ، فإن  $f'(x) = (5n+3)x^{5n+2}$ "

**50) برهان:** برهن صحة قاعدة مشتقة القسمة، وذلك بإثبات أن:

$\frac{f'(x)g(x) - f(x)g'(x)}{[g(x)]^2} = \lim_{h \rightarrow 0} \frac{\frac{f(x+h)}{g(x+h)} - \frac{f(x)}{g(x)}}{h}$

(إرشاد: ابدأ بالطرف الأيمن، ووحد المقامات في البسط، ثم أضف  $f(x)g(x)$  إلى البسط واطرحه منه).



## لماذا؟

التكلفة الحدية (الهامشية) هي التكلفة الإضافية المترتبة على إنتاج وحدة إضافية واحدة من منتج ما، ويمكن إيجاد معادلة التكلفة الحدية باشتقاق معادلة التكلفة الحقيقية للمنتج. تمثل الدالة  $f(x) = 10 - 0.002x$  التكلفة الحدية لطباعة  $x$  نسخة من كتاب ما بالريال .

## فيما سبق:

درستُ حساب النهايات جبرياً باستعمال خصائصها. (الدرس 2-8)

## والآن:

- أقرب المساحة تحت منحنى دالة باستعمال مستطيلات.
- أجد المساحة تحت منحنى دالة باستعمال التكامل المحدد.

## المفردات:

التجزئ المنظم

regular partition

التكامل المحدد

definite integral

الحد الأدنى

lower limit

الحد الأعلى

upper limit

مجموع ريمان الأيمن

right Riemann sum

التكامل

integration

**المساحة تحت منحنى** سبق أن درست في الهندسة طريقة حساب مساحات الأشكال الأساسية كالمثلث والمستطيل وشبه المنحرف، كما درست حساب مساحات بعض الأشكال المركبة التي تتكون من أشكال أساسية، إلا أن العديد من الأشكال المركبة لا تتكون من أشكال أساسية، مما يستدعي الحاجة إلى طريقة عامة لحساب مساحة أي شكل ثنائي الأبعاد.

يمكننا تقريب مساحة شكل غير منتظم من خلال استعمال شكل أساسي معلوم المساحة كالمستطيل. فمثلاً يمكننا تقريب مساحة المنطقة المحصورة بين منحنى  $f(x) = -x^2 + 12x$  والمحور  $x$  على الفترة  $[0, 12]$  باستعمال مستطيلات متساوية العرض.

## المساحة تحت منحنى باستعمال مستطيلات

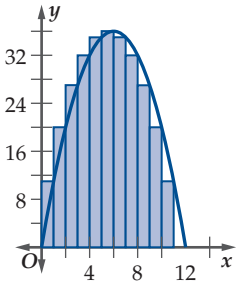
### مثال 1

قرب مساحة المنطقة المحصورة بين منحنى  $f(x) = -x^2 + 12x$  والمحور  $x$  على الفترة  $[0, 12]$  باستعمال 4، 6، 12 مستطيلاتاً على الترتيب. استعمل الطرف الأيمن لقاعدة كل مستطيل لتحديد ارتفاعه.



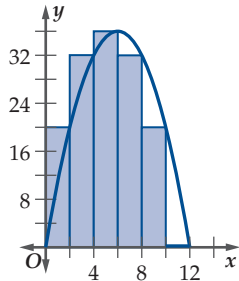
## تاريخ الرياضيات

**ثابت بن قرة** (221 هـ - 288 هـ) من أوائل من وضع نواة علم التكامل من خلال نظريته "إذا ضعف عدد أضلاع المضلع المنتظم، المرسوم بين محيطين أو مساحتين إلى ما لا نهاية، صغر الفرق تدريجياً بين الأضلاع كلما اقترب من المركز، واقترب من الصفر حتى يفتنى".



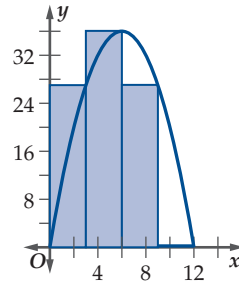
الشكل (3)

المساحة باستعمال 12 مستطيلًا



الشكل (2)

المساحة باستعمال 6 مستطيلات



الشكل (1)

المساحة باستعمال 4 مستطيلات

### تحقق من فهمك

1) قَرِّب مساحة المنطقة المحصورة بين منحنى  $f(x) = -x^2 + 24x$  والمحور  $x$  على الفترة  $[0, 24]$  باستعمال 6، 8، 12 مستطيلًا على الترتيب. استعمل الطرف الأيمن لقاعدة كل مستطيل لتحديد ارتفاعه.

لاحظ أن المستطيلات الأقل عرضًا تمثل المساحة المطلوبة بصورة أفضل، وتعطي تقريبًا أدق للمساحة الكلية. وكما استعملنا الأطراف اليمنى لقاعدة مستطيل لتحديد ارتفاعاتها، فإنه يمكننا أيضًا استعمال أطرافها اليسرى لتحديد ارتفاعاتها وهذا قد ينتج عنه تقريب مختلف للمساحة.

إن استعمال الأطراف اليمنى أو اليسرى لقواعد المستطيلات لتحديد ارتفاعاتها قد يؤدي إلى إضافة أجزاء لا تقع بين المنحنى والمحور  $x$ ، أو حذف أجزاء تقع بين المنحنى والمحور  $x$ . ومن الممكن الحصول على تقريب أفضل للمساحة في بعض الأحيان باستعمال كل من الأطراف اليمنى واليسرى لقواعد المستطيلات، ثم أخذ الوسط للتقريبين.

### المساحة تحت المنحنى باستعمال الأطراف اليمنى واليسرى للمستطيلات

### مثال 2

قَرِّب مساحة المنطقة المحصورة بين منحنى  $f(x) = x^2$  والمحور  $x$  في الفترة  $[0, 4]$  باستعمال مستطيلات عرض كل واحدٍ منها وحدة واحدة. استعمل الأطراف اليمنى ثم اليسرى للمستطيلات لتحديد ارتفاعاتها، ثم احسب الوسط للتقريبين.

إن استعمال مستطيلات عرض كل منها وحدة واحدة ينتج عنه 4 مستطيلات سواء أكانت الأطراف اليمنى أو اليسرى للمستطيلات هي التي تحدد ارتفاعاتها. ويوضح الشكل (1) المستطيلات باستخدام الأطراف اليمنى، في حين يوضح الشكل (2) المستطيلات باستخدام الأطراف اليسرى.

### وزارة التعليم

Ministry of Education

### إرشاد تقني

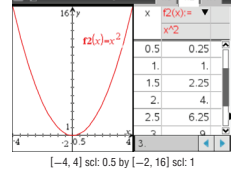
#### جداول:

للحصول على ارتفاعات متعددة للمستطيلات، والتي تمثل بعض قيم  $f(x)$  باستعمال الآلة الحاسبة البيانية. مثل الدالة باستعمال تطبيق الرسوم البيانية، وذلك بالضغط على

ثم كتابة الدالة  $f(x) = x^2$  ويمكن توضيح ارتفاعات المستطيلات  $f(x)$  باستعمال جدول، وذلك بالضغط على

ومنها اختيار

7: الجدول



ويمكنك تعديل فترات قيم  $x$  في الجدول بالضغط

على

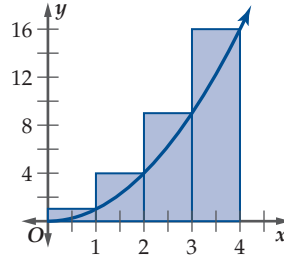
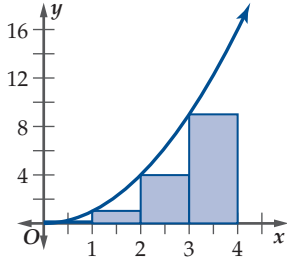
ومنها

2: الجدول

5: تحرير إعدادات الجدول...

ثم حدد بداية الجدول

والخطوة أو تدريب قيم  $x$ .

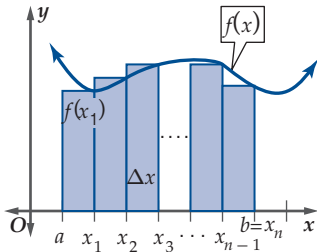


### تحقق من فهمك

(2) قَرِّب مساحة المنطقة المحصورة بين منحنى  $f(x) = \frac{12}{x}$  والمحور  $x$  في الفترة  $[1, 5]$  باستعمال مستطيلات عرض كل واحد منها وحدة واحدة . استعمل الأطراف اليمنى ثم اليسرى لقواعد المستطيلات لتحديد ارتفاعاتها، ثم احسب الوسط للتقريبين.

عند تقريب مساحة المنطقة المحصورة بين منحنى دالة والمحور  $x$ ، فإنه يمكننا استعمال أي نقطة على قاعدة المستطيل لتحديد ارتفاعه، إلا أن النقاط الأكثر شيوعاً هي نقطتا الطرفين الأيمن والأيسر، ونقطة المنتصف.

**النتكامل** لاحظت في مثال 1 أنه كلما قل عرض المستطيلات، فإن مساحتها الكلية تقترب من المساحة الفعلية تحت المنحنى، ومن ذلك نستنتج أن المساحة المطلوبة هي نهاية مجموع مساحات المستطيلات عندما يقترب عرض كل مستطيل من الصفر.



في الشكل المجاور، قُسمت الفترة من  $a$  إلى  $b$  إلى  $n$  من الفترات الجزئية المتساوية الطول، وتُسمى هذه التجزئة **التجزئة المنتظمة**. إن طول الفترة الكلية من  $a$  إلى  $b$  هو  $b - a$ ، وبذلك يكون طول كل فترة جزئية (عرض كل مستطيل من المستطيلات التي عددها  $n$ ) هو  $\frac{b-a}{n}$ ، ويُرمز له بالرمز  $\Delta x$ . وبما أن ارتفاع كل مستطيل يساوي قيمة الدالة عند الطرف الأيمن لقاعدة المستطيل، فإن ارتفاع المستطيل الأول هو  $f(x_1)$ ، وارتفاع المستطيل الثاني هو  $f(x_2)$ ، وهكذا يكون ارتفاع المستطيل الأخير  $f(x_n)$ .

يمكن الآن حساب مساحة كل مستطيل من خلال ضرب  $\Delta x$  في ارتفاع ذلك المستطيل، أي أن مساحة المستطيل الأول هي  $\Delta x f(x_1)$ ، ومساحة المستطيل الثاني هي  $\Delta x f(x_2)$ ، وهكذا. وتُعطى المساحة الكلية  $A$  للمستطيلات بمجموع مساحاتها، ويمكن كتابتها باستعمال رمز المجموع.

$$\text{اجمع المساحات} \quad A = f(x_1)\Delta x + f(x_2)\Delta x + \dots + f(x_n)\Delta x$$

$$\text{أخرج العامل المشترك } \Delta x \quad A = \Delta x [f(x_1) + f(x_2) + \dots + f(x_n)]$$

$$\text{استعمل رمز المجموع} \quad A = \Delta x \sum_{i=1}^n f(x_i)$$

$$\text{خواص رمز المجموع} \quad A = \sum_{i=1}^n f(x_i) \Delta x$$

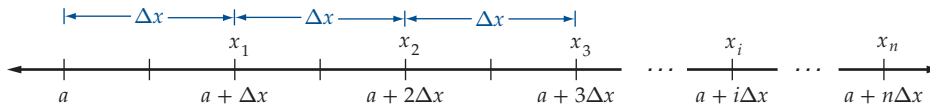
### قراءة الرياضيات

#### رمز المجموع

تقرأ العبارة  $\sum_{i=1}^n f(x_i) \Delta x$  كالاتي مجموع حواصل ضرب  $f(x_i)$  في  $\Delta x$  من  $i=1$  إلى  $i=n$ .



ولتسهيل الحسابات مستقبلاً، فإنه يمكننا اشتقاق صيغة لإيجاد أي  $x_i$ . فيما أن عرض أي من المستطيلات هو  $\Delta x$ ، ويساوي الفرق بين أي قيمتين متتاليتين من قيم  $x_i$ . وبالنظر إلى خط الأعداد أدناه:



يمكننا ملاحظة أن  $x_i = a + i\Delta x$ . ولهذه العلاقة أهميتها عند إيجاد المساحة تحت منحنى أي دالة لاحقاً.

لاحظ أنه كلما اقترب عرض المستطيل من الصفر، فإن عدد المستطيلات يقترب من المالانهاية، وتسمى هذه النهاية التكامل المحدد، ويعبر عنها برمز خاص.

### قراءة الرياضيات

رمز التكامل المحدد

يقرأ الرمز  $\int_a^b f(x)dx$  التكامل من  $a$  إلى  $b$  للدالة  $f(x)$  بالنسبة لـ  $x$

### مفهوم أساسي التكامل المحدد

يُعبّر عن مساحة المنطقة المحصورة بين منحنى دالة والمحور  $x$  في الفترة  $[a, b]$  بالصيغة

$$\int_a^b f(x)dx = \lim_{n \rightarrow \infty} \sum_{i=1}^n f(x_i)\Delta x, \Delta x = \frac{b-a}{n}, x_i = a + i\Delta x$$

حيث  $a$  الحد الأدنى، و  $b$  الحد الأعلى، وتسمى هذه الطريقة مجموع ريمان الأيمن.

سُمي مجموع ريمان بهذا الاسم نسبةً للعالم الألماني بيرنارد ريمان (1826 – 1866). والذي يُعزى إليه إيجاد صيغة لتقريب المساحة المحصورة باستعمال النهايات. ويمكننا تعديل الصيغة باستعمال الأطراف اليسرى أو نقاط المنتصف لتحديد ارتفاعات المستطيلات.

وتسمى عملية حساب التكامل **تكاملًا**، وسُسهل صيغ المجاميع الآتية حساب التكامل المحدد.

### تنبيه!

المجموع

إن مجموع عدد ثابت  $c$  هو  $c n$ ، فمثلاً  $\sum_{i=1}^n 5 = 5 n$

$$\sum_{i=1}^n c = cn, \quad c \text{ عدد ثابت}$$

$$\sum_{i=1}^n i^3 = \frac{n^2(n+1)^2}{4}$$

$$\sum_{i=1}^n i = \frac{n(n+1)}{2}$$

$$\sum_{i=1}^n i^4 = \frac{6n^5 + 15n^4 + 10n^3 - n}{30}$$

$$\sum_{i=1}^n i^2 = \frac{n(n+1)(2n+1)}{6}$$

$$\sum_{i=1}^n i^5 = \frac{2n^6 + 6n^5 + 5n^4 - n^2}{12}$$

تُستعمل خاصيتا المجموع الآتيتان لحساب بعض التكاملات:

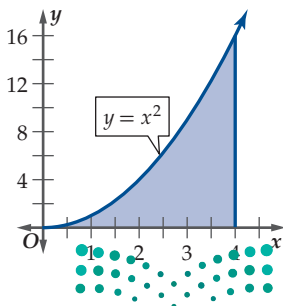
$$\sum_{i=1}^n (a_i \pm b_i) = \sum_{i=1}^n a_i \pm \sum_{i=1}^n b_i, \quad \sum_{i=1}^n ci = c \sum_{i=1}^n i, \quad c \text{ عدد ثابت}$$

### المساحة تحت منحنى باستعمال التكامل

### مثال 3

استعمل النهايات؛ لإيجاد مساحة المنطقة المحصورة بين منحنى

$$y = x^2 \text{ والمحور } x \text{ في الفترة } [0, 4]; \text{ أي } \int_0^4 x^2 dx.$$



### إرشادات للدراسة

#### النهايات

حلّل كل مجموع بحيث تتضمن العبارات الباقية إما أعداداً ثابتة أو  $t$  فقط، ثم طبق صيغة المجموع المناسبة.

### تحقق من فهمك

استعمل النهايات؛ لإيجاد مساحة المنطقة المحصورة بين منحنى الدالة والمحور  $x$  والمعطة بالتكامل المحدد في كلٍّ مما يأتي:

$$\int_0^3 x \, dx \quad (3B)$$

$$\int_0^1 3x^2 \, dx \quad (3A)$$

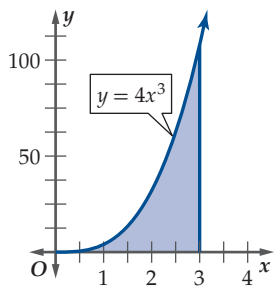


يمكننا أيضًا حساب مساحات المناطق باستعمال النهايات حال كون نقطة الأصل ليست حدًا أدنى لها.



## المساحة تحت منحنى باستعمال التكامل

### مثال 4



استعمل النهايات؛ لإيجاد مساحة المنطقة المحصورة بين منحنى

$$y = 4x^3 \text{ والمحور } x, \text{ في الفترة } [1, 3]; \text{ أي } \int_1^3 4x^3 dx.$$

ابدأ بإيجاد  $\Delta x$ ،  $x_i$ .

### تنبيه

#### النهايات

عند تقريب مساحة المنطقة تحت المنحنى باستعمال المجاميع، أوجد مجاميع قيم  $i$  قبل توزيع  $\Delta x$  أو أي ثوابت أخرى.

### تحقق من فهمك

استعمل النهايات؛ لإيجاد مساحة المنطقة المحصورة بين منحنى الدالة والمحور  $x$  والمعطاة بالتكامل المحدد في كل مما يأتي:

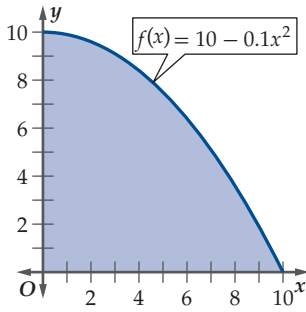


$$\int_2^4 x^3 dx \quad (4B)$$

$$\int_1^3 x^2 dx \quad (4A)$$

## المساحة تحت منحنى

## مثال 5 من واقع الحياة



**بلاط:** يكلف تبييط القدم المربعة الواحدة من فناء منزل بالجرانيت 22.4 ريالاً. إذا تم تبييط ممرين متطابقين في فناء المنزل بالجرانيت، وكانت المساحة بالقدم المربعة لأي من الممرين تُعطى بالتكامل  $\int_0^{10} (10 - 0.1x^2) dx$ ، فما تكلفة تبييط الممرين؟



### الربط مع الحياة

#### الجرانيت

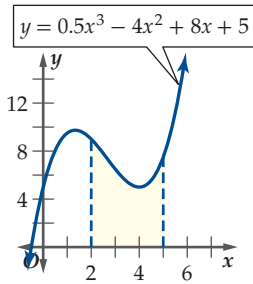
الجرانيت هو صخر ناري يتميز بنسيج خشن يكسبه مظهرًا فريدًا، وهو مقاوم لعوامل الأكسدة، لذلك يستعمل في تبييط الأرضيات.

### تحقق من فهمك

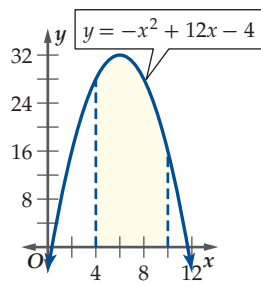


**(5) طلاء:** لدى عبد الله كمية من الطلاء تكفي لطلاء  $30 \text{ ft}^2$ ، هل تكفي هذه الكمية لطلاء جدران من جهه الزوايا من جهة اليمين مساحة كل منهما بالقدم المربعة تُعطى بالتكامل  $\int_0^5 (5 - 0.2x^2) dx$ ؟ برّر إجابتك.

العرض 0.5 (9)



العرض 0.75 (8)



استعمل النهايات؛ لتقريب مساحة المنطقة المحصورة بين منحنى الدالة والمحور  $x$  والمعطى بالتكامل المحدد في كل مما يأتي: (المثالان 3, 4)

$$\int_0^2 6x \, dx \quad (11)$$

$$\int_1^4 4x^2 \, dx \quad (10)$$

$$\int_0^4 (4x - x^2) \, dx \quad (13)$$

$$\int_1^3 (2x^2 + 3) \, dx \quad (12)$$

$$\int_2^4 (-3x + 15) \, dx \quad (15)$$

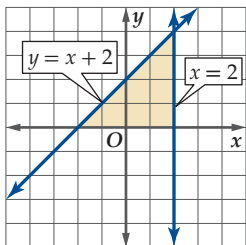
$$\int_3^4 (-x^2 + 6x) \, dx \quad (14)$$

$$\int_1^3 12x \, dx \quad (17)$$

$$\int_1^5 (x^2 - x + 1) \, dx \quad (16)$$

(18) **طباعة:** ارجع إلى فقرة "لماذا؟" في بداية الدرس. إذا زاد عدد الكتب المطبوعة يومياً من 1000 كتاب إلى 1500 كتاب، فأوجد قيمة تكلفة الزيادة والمعطاة بالتكامل

$$\int_{1000}^{1500} (10 - 0.002x) \, dx \quad (\text{مثال } 5)$$



(19) يمكن حساب التكاملات المحددة عندما يكون أحد حدي التكامل موجباً والآخر سالباً.

(a) أوجد طول قاعدة وارتفاع المثلث، ثم مساحته باستعمال قانون مساحة المثلث.

(b) أوجد مساحة المثلث بحساب

$$\int_{-2}^2 (x + 2) \, dx$$

استعمل النهايات؛ لتقريب مساحة المنطقة المحصورة بين منحنى الدالة والمحور  $x$  والمعطى بالتكامل المحدد في كل مما يأتي:

$$\int_{-1}^0 (x^3 + 2) \, dx \quad (21)$$

$$\int_{-1}^1 x^2 \, dx \quad (20)$$

$$\int_{-3}^{-2} -5x \, dx \quad (23)$$

$$\int_{-4}^{-2} (-x^2 - 6x) \, dx \quad (22)$$

$$\int_{-1}^0 (x^3 - 2x) \, dx \quad (25)$$

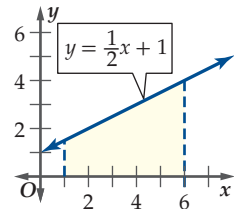
$$\int_{-2}^0 (2x + 6) \, dx \quad (24)$$

قرب مساحة المنطقة المظللة تحت منحنى الدالة مستعملاً الطرف المعطى لتحديد ارتفاعات المستطيلات المعطى عددها في كل من الأشكال

أدناه: (مثال 1)

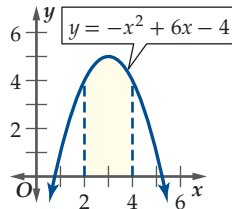
(1) مستطيلات

الطرف الأيمن



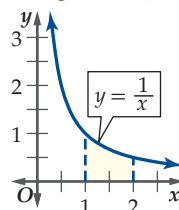
(2) مستطيلات

الطرف الأيسر



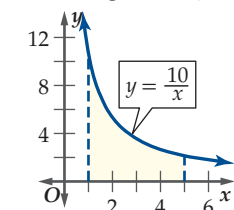
(4) مستطيلات

الطرف الأيمن



(3) مستطيلات

الطرف الأيمن

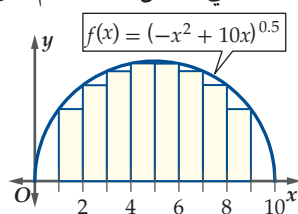


(5) **أرضيات:** يرغب أحمد في تبليط جزء من فناء منزله على شكل

نصف دائرة تمثله  $f(x) = (-x^2 + 10x)^{0.5}$ . (مثال 1)

(a) قرب مساحة المنطقة نصف الدائرية باستعمال الأطراف اليسرى لمستطيلات عرض كل منها وحدة واحدة.

(b) إذا قرّر أحمد تقريب المساحة باستعمال الأطراف اليمنى واليسرى معاً كما في الشكل أدناه، فكم تكون المساحة؟



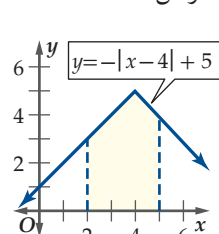
(c) أوجد مساحة المنطقة باستعمال صيغة مساحة نصف الدائرة.

أي التقريبين أقرب إلى المساحة الحقيقية؟ فسّر إجابتك.

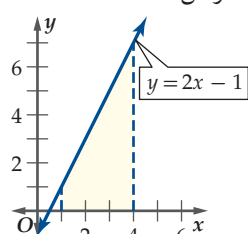
قرب مساحة المنطقة المظللة تحت منحنى الدالة في كل من الأشكال الآتية مستعملاً الأطراف اليمنى ثم اليسرى؛ لتحديد ارتفاعات المستطيلات

المعطى عرض كل منها، ثم أوجد الوسط للتقريبين: (مثال 2)

(7) العرض 0.5



(6) العرض 0.5



## مراجعة تراكمية

أوجد مشتقة كل دالة مما يأتي: (الدرس 8-4)

$$j(x) = (2x^3 + 11x)(2x^8 - 12x^2) \quad (36)$$

$$f(k) = (k^{15} + k^2 + 2k)(k - 7k^2) \quad (37)$$

$$s(t) = (\sqrt{t} - 7)(3t^8 - 5t) \quad (38)$$

أوجد ميل مماس منحنى كل دالة مما يأتي عندما  $x = 1$ : (الدرس 8-3)

$$y = x^3 \quad (39)$$

$$y = x^3 - 7x^2 + 4x + 9 \quad (40)$$

$$y = (x + 1)(x - 2) \quad (41)$$

أوجد كل نهاية مما يأتي (إن وجدت): (الدرس 8-2)

$$\lim_{x \rightarrow 0} \frac{x^2 + 3x}{x} \quad (42)$$

$$\lim_{x \rightarrow 1} \frac{x^2 - 3x + 2}{x - 1} \quad (43)$$

$$\lim_{x \rightarrow 3} \frac{x^2 - 9}{x^3 - 27} \quad (44)$$

## تدريب على اختبار

ما مساحة المنطقة المحصورة بين  $y = -x^2 - 3x + 6$  والمحور  $x$ ، في الفترة  $[2, 6]$ ؟

A 93.33 وحدة مربعة تقريباً

B 90 وحدة مربعة تقريباً

C 86.67 وحدة مربعة تقريباً

D 52 وحدة مربعة تقريباً

(46) أي مما يأتي يمثل مشتقة  $n(a) = \frac{4}{a} - \frac{5}{a^2} + \frac{3}{a^4} + 4a$ ؟

$$n'(a) = 8a - 5a^2 + 3a^4 \quad A$$

$$n'(a) = 4a^2 - 5a^3 + 3a^4 + 4 \quad B$$

$$n'(a) = -\frac{4}{a^2} + \frac{5}{a^3} - \frac{3}{a^5} + 4 \quad C$$

$$n'(a) = -\frac{4}{a^2} + \frac{10}{a^3} - \frac{12}{a^5} + 4 \quad D$$

(47) ما قيمة  $\lim_{x \rightarrow 3} \frac{x^2 + 3x - 10}{x^2 + 5x + 6}$ ؟

$$\frac{3}{15} \quad C \quad \frac{1}{15} \quad A$$

$$\frac{4}{15} \quad D \quad \frac{2}{15} \quad B$$

استعمل النهايات لتقريب مساحة المنطقة المحصورة بين منحنى الدالة والمحور  $x$ ، والمُعطى بالتكامل المحدد في كل مما يأتي:

$$\int_{-2}^0 (-x^3) dx \quad (27) \quad \int_{-3}^{-1} (-2x^2 - 7x) dx \quad (26)$$

$$\int_{-2}^{-1} \left(-\frac{1}{2}x + 3\right) dx \quad (29) \quad \int_{-4}^3 2 dx \quad (28)$$

(30) تمثيلات متعددة: سوف تستقصي في هذه المسألة عملية إيجاد مساحة المنطقة المحصورة بين منحنين.

(a) بيانياً: مثل منحنى  $f(x) = -x^2 + 4$ ,  $g(x) = x^2$  في المستوى الإحداثي نفسه، وظلل المساحتين اللتين يمثلهما

$$\int_0^1 (-x^2 + 4) dx, \int_0^1 x^2 dx$$

(b) تحليلياً: احسب  $\int_0^1 (-x^2 + 4) dx, \int_0^1 x^2 dx$ .

(c) لفظياً: وضح لماذا تكون مساحة المنطقة المحصورة بين المنحنين مساوية لـ

$$\int_0^1 (-x^2 + 4) dx - \int_0^1 x^2 dx$$

باستعمال القيم التي أوجدتها في الفرع b.

(d) تحليلياً: أوجد  $f(x) - g(x)$ ، ثم احسب  $\int_0^1 [f(x) - g(x)] dx$

(e) لفظياً: خمن طريقة إيجاد مساحة المنطقة المحصورة بين منحنين.

## مسائل مهارات التفكير العليا

(31) اكتشف الخطأ: سُئل ماجد وخالد عن دقة تقريب المساحة تحت

منحنى باستعمال أطراف المستطيلات، فأجاب ماجد: إنه عند تقريب المساحة تحت منحنى باستعمال أطراف المستطيلات اليمنى،

فإن المساحة الناتجة تكون أكبر دائماً من المساحة الحقيقية تحت المنحنى. في حين أجاب خالد: إن المساحة المحسوبة باستعمال

أطراف المستطيلات اليسرى تكون أكبر دائماً من المساحة الحقيقية تحت المنحنى. أيهما كانت إجابته صحيحة؟ برّر إجابتك.

(32) تبرير: افترض أن المقطع الرأسي العرضي لنفق يُعطى بالدالة  $f$ .

اشرح كيف يمكن حساب حجم النفق باستعمال  $\int_0^d f(x) dx$ ، حيث  $d$  عرض النفق، إذا كان طوله معلوماً. برّر إجابتك

(33) اكتب: اكتب ملخصاً للخطوات المتبعة لتقريب مساحة المنطقة المحصورة بين منحنى دالة والمحور  $x$  على فترة معطاة.

(34) تحدد: أوجد  $\int_0^t (x^2 + 2) dx$ .

(35) اكتب: وضح إمكانية استعمال المثلثات أو الدوائر في تقريب المساحة تحت المنحنيات. أي الشكلين يعطي تقريباً أفضل برأيك؟





## فيما سبق:

درست استعمال النهايات  
لتقريب المساحة تحت  
منحنى دالة. (الدرس 5-8)

## والآن:

- أجد دوال أصلية.
- أستعمل النظرية الأساسية  
في التفاضل والتكامل  
لأجد التكامل المحدد.

## المفردات:

الدالة الأصلية

antiderivative

التكامل غير المحدد

indefinite integral

النظرية الأساسية في

التفاضل والتكامل

Fundamental Theorem of  
Calculus

## لماذا؟

سقط قلم من جيب علي في أثناء ركوبه منطادًا، فهوى نحو الأرض. إذا كانت سرعة سقوط القلم المتجهة بالقدم لكل ثانية تُعطى بـ  $v(t) = -32t$ ، فمن الممكن إيجاد الارتفاع الذي سقط منه القلم.



**الدوال الأصلية والتكامل غير المحدد** تعلمت في الدرسين 3-8 و4-8، أنه إذا أُعطيت موقع جسم بـ  $f(x) = x^2 + 2x$ ، فإن العبارة التي تمثل سرعة الجسم هي مشتقة  $f(x)$  أو  $f'(x) = 2x + 2$ ، لكن إذا أُعطيت عبارة تمثل السرعة، فلا بد من وجود طريقة للعمل عكسيًا والعودة إلى الدالة الأصلية وإلغاء الاشتقاق.

وبمعنى آخر، فإننا نبحث عن  $F(x)$ ، بحيث إن  $F'(x) = f(x)$ . وتُسمى  $F(x)$  دالة أصلية للدالة  $f$ .

## إيجاد الدوال الأصلية

### مثال 1

أوجد دالة أصلية لكل دالة مما يأتي:

$$f(x) = 3x^2 \quad \text{(a)}$$

$$f(x) = -\frac{8}{x^9} \quad \text{(b)}$$

## تحقق من فهمك

أوجد دالتين أصليتين مختلفتين لكل دالة مما يأتي:

$$-3x^{-4} \quad \text{(1A)}$$

$$2x \quad \text{(1B)}$$

في المثال 1 لاحظ أن إضافة أو طرح ثابت لدالة أصلية ينتج عنه دالة أصلية أخرى، وبشكل عام فإن إضافة أو طرح ثابت  $C$  لدالة أصلية يُنتج دالة أصلية أخرى؛ لأن مشتقة الثابت صفر. وعليه فإن هناك عددًا لا نهائيًا من الدوال الأصلية لأي دالة. والشكل العام للدالة الأصلية هو الشكل الذي يحوي الثابت  $C$ .



كما في المشتقات، فإن هناك قواعد لإيجاد الدالة الأصلية.

### مفهوم أساسي

#### قواعد الدالة الأصلية

قاعدة القوة	إذا كان $f(x) = x^n$ ، حيث $n$ عدد نسبي لا يساوي $-1$ ، فإن: $F(x) = \frac{x^{n+1}}{n+1} + C$ .
قاعدة ضرب دالة القوة في عدد ثابت	إذا كان $f(x) = kx^n$ ، حيث $n$ عدد نسبي لا يساوي $-1$ ، $k$ عدداً ثابتاً، فإن: $F(x) = \frac{kx^{n+1}}{n+1} + C$ .
قاعدة المجموع والفرق	إذا كان $f(x)$ ، $g(x)$ دالتان أصليتان هما $F(x)$ ، $G(x)$ على الترتيب، فإن: $F(x) \pm G(x)$ دالة أصلية لـ $f(x) \pm g(x)$ .

### مثال 2

#### قواعد الدوال الأصلية

أوجد جميع الدوال الأصلية لكل دالة مما يأتي:

$$f(x) = 4x^7 \quad (a)$$

$$f(x) = \frac{2}{x^4} \quad (b)$$

$$f(x) = x^2 - 8x + 5 \quad (c)$$

#### إرشادات للدراسة

##### الدوال الأصلية

الدالة  $F(x) = kx$  هي دالة أصلية لـ  $f(x) = k$ ، فمثلاً، إذا كان  $f(x) = 3$ ، فإن  $F(x) = 3x$ .

#### ربط المفردات

##### التكامل غير المحدد

سبب تسمية التكامل غير المحدد بهذا الاسم أنه لا يُعبر عن دالة محددة، بل عن عدد لا نهائي من الدوال الأصلية.

#### تحقق من فهمك

أوجد جميع الدوال الأصلية لكل دالة مما يأتي:

$$f(x) = 8x^7 + 6x + 2 \quad (2A)$$

$$f(x) = \frac{10}{x^3} \quad (2B)$$

$$f(x) = 6x^4 \quad (2C)$$

يُعطي الشكل العام للدالة الأصلية باسم ورمز خاصين.

### مفهوم أساسي

#### التكامل غير المحدد

يُعطي التكامل غير المحدد للدالة  $f$  بالصيغة  $\int f(x) dx = F(x) + C$ ، حيث  $F(x)$  دالة أصلية لـ  $f(x)$ ، و  $C$  ثابت.



## التكامل غير المحدد

## مثال 3 من واقع الحياة



### الربط مع الحياة

**السقوط الحر** قبل أربعمئة عام تقريباً، استنتج جاليليو جاليلي أن لجميع الأجسام التي تسقط سقوطاً حراً التسارع نفسه، باهمال تأثير الهواء، وأن هذا التسارع لا يتأثر بأي من مادة الجسم الساقط أو وزنه أو الارتفاع الذي سقط منه.

**فيزياء:** أجرى طلاب الصف الثالث الثانوي في إحدى المدارس الثانوية تجربة فيزيائية تتضمن إسقاط كرة من نافذة الفصل التي ترتفع عن سطح الأرض بـ 30 ft، وتمثل  $v(t) = -32t$  سرعة الكرة المتجهة اللحظية بالأقدام بعد  $t$  ثانية من سقوطها.

(a) أوجد دالة موقع الكرة  $s(t)$  بعد  $t$  ثانية من سقوطها.

(b) أوجد الزمن الذي تستغرقه الكرة حتى تصل إلى سطح الأرض.

### تحقق من فهمك

(3) **سقوط حر:** عند قيام فني بإصلاح نافذة برج على ارتفاع 120 ft سقطت محفظته نحو الأرض، وتمثل

$$v(t) = -32t$$

سرعة المحفظة المتجهة اللحظية بالأقدام بعد  $t$  ثانية من سقوطها.

(A) أوجد دالة موقع المحفظة  $s(t)$  بعد  $t$  ثانية من سقوطها.

(B) أوجد الزمن الذي تستغرقه المحفظة حتى تصل إلى سطح الأرض.

**النظرية الأساسية في التفاضل والتكامل** لاحظ أن الرمز المُستعمل للتكامل غير المحدد يبدو شبيهاً بالرمز الذي استعمل للتكامل المحدد في الدرس 4-5، إذ إن الفرق الوحيد هو عدم ظهور حدّي التكامل الأعلى والأدنى في رمز التكامل غير المحدد. إن إيجاد الدالة الأصلية لدالة ما: هو طريقة مختصرة لحساب التكامل المحدد للدالة نفسها باستعمال مجموع ريمان. وهذه العلاقة بين التكاملات المحددة والدوال الأصلية ذات أهمية كبيرة، وتُسمى النظرية الأساسية في التفاضل والتكامل.

### النظرية الأساسية في التفاضل والتكامل

### مفهوم أساسي

إذا كانت  $F(x)$  دالة أصلية للدالة المتصلة  $f(x)$ ، فإن

$$\int_a^b f(x) dx = F(b) - F(a)$$

ويمكن التعبير عن الطرف الأيمن من هذه العبارة بالرمز  $F(x) \Big|_a^b$ .



من نتائج النظرية الأساسية في التفاضل والتكامل أنها ربطت بين التكاملات والمشتقات، فالتكامل هو عملية إيجاد دوال أصلية، في حين أن الاشتقاق هو عملية إيجاد مشتقات. لذا فإن عمليتي التكامل والاشتقاق هما عمليتان عكسيتان، ويمكننا استعمال النظرية الأساسية في التفاضل والتكامل لحساب التكاملات المحددة دون الحاجة إلى استعمال النهايات.



### تاريخ الرياضيات

ماريا أجنسن (1718-1799)

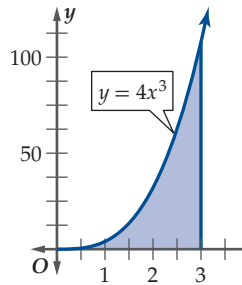
عالمة إيطالية برعت في اللغات والفلسفة والرياضيات، ويُعدُّ كتابها *Analytical Institutions* أول كتاب ناقش حسابي التفاضل والتكامل معًا.

## مثال 4

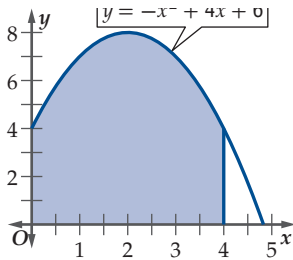
### المساحة تحت منحنى

استعمل النظرية الأساسية في التفاضل والتكامل لحساب مساحة المنطقة المحصورة بين منحنى كل دالة مما يأتي والمحور  $x$  على الفترة المعطاة:

(a)  $y = 4x^3$  على الفترة  $[1, 3]$ ؛ أي  $\int_1^3 4x^3 dx$ .



(b)  $y = -x^2 + 4x + 6$  على الفترة  $[0, 4]$ ؛ أي  $\int_0^4 (-x^2 + 4x + 6) dx$ .



### تحقق من فهمك

احسب كل تكامل محدد مما يأتي:

$\int_1^2 (16x^3 - 6x^2) dx$  (4B)

$\int_2^5 3x^2 dx$  (4A)

لاحظ أنه عند حساب قيمة الدالة الأصلية عند الحدين الأعلى والأدنى للتكامل، وحساب الفرق بين القيمتين، فإن  $C$  لن تظهر في الناتج؛ وذلك لأن  $C$  موجودة في كلتا الدالتين الأصليتين، فإن الفرق بين قيمتي  $C$  يساوي صفرًا. لذا فإنه لحساب تكامل محدد باستعمال النظرية الأساسية في التفاضل والتكامل يمكنك إهمال الثابت  $C$ ، وعدم كتابته في الدالة الأصلية.

قبل حساب التكامل حدّد ما إذا كان محدّدًا أو غير محدّد.

### التكاملات المحددة وغير المحددة

### مثال 5

احسب كل تكامل مما يأتي:

$$\int (9x - x^3) dx \quad (a)$$

$$\int_2^3 (9x - x^3) dx \quad (b)$$

### تنبيه

#### التكاملات

صحيح أنه يمكن تجاهل الثابت C عند حساب التكامل المحدد، إلا أنه يجب أخذه بعين الاعتبار عند حساب التكامل غير المحدد؛ لأنه جزء من الدالة الأصلية.

### تحقق من فهمك

احسب كل تكامل مما يأتي:

$$\int_1^3 (-x^4 + 8x^3 - 24x^2 + 30x - 4) dx \quad (5B)$$

$$\int (6x^2 + 8x - 3) dx \quad (5A)$$

لاحظ أن التكامل غير المحدد يُعطي الدالة الأصلية، في حين لا يُعطي التكامل المحدد الدالة الأصلية بصورة صريحة، بل هو الفرق بين قيمتي الدالة الأصلية عند الحدين الأعلى والأدنى. أي أن التكامل غير المحدد يعطي دالة، وهي الدالة الأصلية، ويمكن استعمالها لإيجاد مساحة المنطقة تحت منحنى الدالة بين أي حدين أعلى وأدنى؛ ليصبح التكامل عندها محدّدًا.

### التكاملات المحددة

### مثال 6

يُعطى الشغل اللازم لشد نابض ما مسافة 0.5 m من موضعه الطبيعي بالتكامل  $\int_0^{0.5} 360x dx$ . ما قيمة الشغل اللازم لشد النابض مقيسًا بوحدة الجول؟

### تحقق من فهمك

أوجد الشغل اللازم لشد نابض مسافة ما والمعطى بالتكامل في كل مما يأتي:

$$\int_0^{1.4} 512x dx \quad (6B)$$

$$\int_0^{0.7} 476x dx \quad (6A)$$



احسب كل تكامل مما يأتي:

$$\int_{-1}^2 (-x^2 + 10) dx \quad (17) \quad \int_{-3}^1 3 dx \quad (16)$$

$$\int_{-1}^1 (x^4 - 2x^3 - 4x + 8) dx \quad (19) \quad \int_{-2}^{-1} \left( \frac{x^5}{2} + \frac{5x^4}{4} \right) dx \quad (18)$$

$$\int_{-6}^{-3} (-x^2 - 9x - 10) dx \quad (20)$$

(21) **مقذوفات:** تُعطي سرعة مقذوف بـ  $v(t) = -32t + 120$  ، حيث  $v(t)$  السرعة المتجهة بالأقدام لكل ثانية بعد  $t$  ثانية ، و يبلغ ارتفاعه 228 ft بعد 3s .

(a) أوجد أقصى ارتفاع يصله المقذوف .

(b) أوجد سرعة المقذوف عندما يصل إلى سطح الأرض .

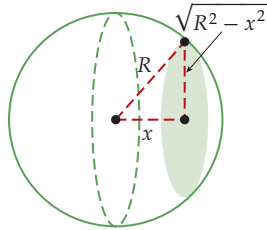
احسب كل تكامل مما يأتي:

$$\int_5^x (10t^4 - 12t^2 + 5) dt \quad (23) \quad \int_x^2 (3t^2 + 8t) dt \quad (22)$$

$$\int_{-x}^6 (-9t^2 + 4t) dt \quad (25) \quad \int_3^2 (4t^3 + 10t + 2) dt \quad (24)$$

$$\int_{2x}^{x+3} (3t^2 + 6t + 1) dt \quad (27) \quad \int_x^{x^2} (16t^3 - 15t^2 + 7) dt \quad (26)$$

(28) **حجم الكرة:** يمكن إيجاد حجم كرة طول نصف قطرها  $R$  بقصها إلى حلقات دائرية من خلال مستويات رأسية متوازية ثم إجراء تكامل لحساب مساحات الحلقات الدائرية .

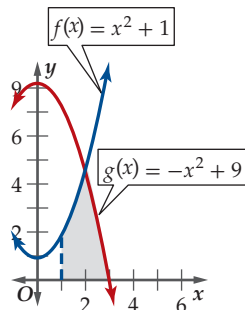


يبلغ طول نصف قطر كل حلقة  $\sqrt{R^2 - x^2}$  ، أي أن مساحة كل

حلقة هي  $\pi(\sqrt{R^2 - x^2})^2$  .

أوجد  $\int_{-R}^R (\pi R^2 - \pi x^2) dx$  لحساب حجم الكرة .

(29) **مساحات:** احسب مساحة المنطقة المحصورة بين منحنى  $f(x)$  ،  $g(x)$  والمحور  $x$  ، في الفترة  $1 \leq x \leq 3$  .



أوجد جميع الدوال الأصلية لكل دالة مما يأتي: (المثالان 1, 2)

$$f(x) = x^5 \quad (1)$$

$$f(z) = \sqrt[3]{z} \quad (2)$$

$$q(r) = \frac{3}{4} r^{\frac{2}{5}} + \frac{5}{8} r^{\frac{1}{3}} + r^{\frac{1}{2}} \quad (3)$$

$$w(u) = \frac{2}{3} u^5 + \frac{1}{6} u^3 - \frac{2}{5} u \quad (4)$$

$$u(d) = \frac{12}{d^5} + \frac{5}{d^3} - 6d^2 + 3.5 \quad (5)$$

$$m(t) = 16t^3 - 12t^2 + 20t - 11 \quad (6)$$

(7) **سقوط حر:** ارجع إلى فقرة □ لماذا؟ □ في بداية الدرس . افترض أن القلم قد استغرق 2s حتى الوصول إلى سطح الأرض . (مثال 3)

(a) أوجد دالة الموقع  $s(t) = \int -32t dt$  .

(b) احسب قيمة  $C$  عندما  $s(t) = 0$  ،  $t = 2s$  .

(c) ما ارتفاع القلم عن سطح الأرض بعد 1.5s من سقوطه؟

احسب كل تكامل مما يأتي: (المثالان 4, 5)

$$\int (6m + 12m^3) dm \quad (8)$$

$$\int_1^4 2x^3 dx \quad (9)$$

$$\int_2^5 (a^2 - a + 6) da \quad (10)$$

$$\int_1^3 \left( \frac{1}{2} h^2 + \frac{2}{3} h^3 - \frac{1}{5} h^4 \right) dh \quad (11)$$

$$\int (3.4t^4 - 1.2t^3 + 2.3t - 5.7) dt \quad (12)$$

$$\int (14.2w^{6.1} - 20.1w^{5.7} + 13.2w^{2.3} + 3) dw \quad (13)$$

(14) **حشرات:** تُعطي سرعة قفز حشرة بـ  $v(t) = -32t + 34$  ، حيث  $t$  الزمن بالثواني ، و  $v(t)$  السرعة المتجهة بالأقدام لكل ثانية .

(مثال 6)

(a) أوجد دالة الموقع  $s(t)$  للحشرة ، ثم احسب قيمة الثابت  $C$  بفرض أنه عندما  $t = 0$  ، فإن  $s(t) = 0$  .

(b) أوجد الزمن من لحظة قفز الحشرة حتى هبوطها على سطح الأرض؟

(15) **هندسة:** صمّم مهندس مدخل بناية على شكل قوس يمكن وصفه بـ  $y = -\frac{x^2}{157.5} + 4x$  ، حيث  $x$  بالأقدام . احسب مساحة المنطقة تحت القوس . (مثال 6)

## مراجعة تراكمية

استعمل النهايات لتقريب مساحة المنطقة المحصورة بين منحنى الدالة والمحور  $x$  ، والمعطاة بالتكامل في كل مما يأتي: (الدرس 8-5)

$$\int_0^6 (x+2) dx \quad (39) \quad \int_{-2}^2 14x^6 dx \quad (38)$$

استعمل قاعدة القسمة لإيجاد مشتقة كل دالة مما يأتي: (الدرس 8-4)

$$j(k) = \frac{k^8 - 7k}{2k^4 + 11k^3} \quad (40)$$

$$g(n) = \frac{2n^3 + 4n}{n^2 + 1} \quad (41)$$

(42) إذا كان  $\lim_{x \rightarrow 1} (2x^2 + ax) = 8$  ، فأوجد قيمة  $a$ . (الدرس 8-2)

أوجد معادلة ميل منحنى كل دالة مما يأتي عند أي نقطة عليه:  
(الدرس 8-3)

$$y = x^2 + 3 \quad (43)$$

$$y = x^3 \quad (44)$$

## تدريب على اختبار

(45) إذا كان  $\int_0^2 kx dx = 6$  ، فما قيمة  $k$  ؟

- 1 A
- 2 B
- 3 C
- 4 D

(30) تمثيلات متعددة: ستستكشف في هذه المسألة العلاقة بين قيمة تكامل دالة على فترة، ومساحة المنطقة المحصورة بين منحنى الدالة والمحور  $x$  ، وتأثير موقع الدالة بالنسبة لمحور  $x$  على إشارة التكامل.

(a) هندسياً: مثل الدالة  $f(x) = x^3 - 6x^2 + 8x$  بياناً، وظلل المنطقة المحصورة بين  $f(x)$  والمحور  $x$  ، في الفترة  $0 \leq x \leq 4$ .

(b) تحليلياً: احسب كلاً من:

$$\int_0^2 (x^3 - 6x^2 + 8x) dx, \int_2^4 (x^3 - 6x^2 + 8x) dx$$

(c) نفضياً: أعط تخميناً حول مساحة المنطقة الواقعة فوق أو تحت المحور  $x$ .

(d) تحليلياً أوجد التكامل على الفترة كاملة من خلال حساب

$$\int_0^4 (x^3 - 6x^2 + 8x) dx$$

$$\left| \int_0^2 (x^3 - 6x^2 + 8x) dx \right| + \left| \int_2^4 (x^3 - 6x^2 + 8x) dx \right|$$

(e) نفضياً: أعط تخميناً حول الفرق بين قيمة التكامل على الفترة كاملة والمساحة الكلية.

## مسائل مهارات التفكير العليا

(31) تحدّد: احسب قيمة  $\int_{-r}^r \sqrt{r^2 - x^2} dx$  ، حيث  $r$  عدد ثابت.

تبرير: حدّد ما إذا كانت كل عبارة مما يأتي صحيحة دائماً، أو صحيحة أحياناً، أو غير صحيحة أبداً. برّر إجابتك:

$$\int_a^b f(x) dx = \int_b^a f(x) dx \quad (32)$$

$$\int_a^b f(x) dx = \int_{-b}^{-a} f(x) dx \quad (33)$$

$$\int_a^b f(x) dx = \int_{|b|}^{|a|} f(x) dx \quad (34)$$

(35) برهان: أثبت أنه لأي عددين ثابتين  $m$  ،  $n$  ، فإن

$$\int_a^b (n + m) dx = \int_a^b n dx + \int_a^b m dx$$

(36) تبرير: صف قيم  $\int_a^b f(x) dx$  ،  $\sum_{i=1}^n f(x_i) \Delta x$  ،  $f(x)$  ، عندما يقع

التمثيل البياني للدالة  $f$  تحت المحور  $x$  في الفترة  $a \leq x \leq b$ .

(37) اكتب: بيّن لماذا يمكننا إهمال الحد الثابت  $C$  في الدالة الأصلية عند حساب التكامل المحدد.



## دليل الدراسة والمراجعة

## المفردات

النهاية من جهة واحدة ص 346	المؤثر التفاضلي ص 372
النهاية من جهتين ص 346	التجزئ المنظم ص 382
التعويض المباشر ص 355	التكامل المحدد ص 383
الصيغة غير المحددة ص 356	الحد الأدنى ص 383
المماس ص 365	الحد الأعلى ص 383
معدل التغير اللحظي ص 365	مجموع ريمان الأيمن ص 383
قسمة الفرق ص 365	التكامل ص 383
السرعة المتجهة اللحظية ص 367	الدالة الأصلية ص 389
المشتقة ص 372	التكامل غير المحدد ص 390
الاشتقاق ص 372	النظرية الأساسية في التفاضل والتكامل ص 391
المعادلة التفاضلية ص 372	

## اختبر مفرداتك

اختر المفردة المناسبة لكل عبارة مما يأتي:

- ميل المنحنى غير الخطي عند نقطة عليه هو \_\_\_\_\_ ، والذي يمكن تمثيله بميل مماس منحنى الدالة عند تلك النقطة.
- يمكن إيجاد مساحة المنطقة المحصورة بين منحنى دالة والمحور  $x$  باستعمال \_\_\_\_\_ .
- يمكن إيجاد نهايات دوال كثيرات الحدود والدوال النسبية باستعمال \_\_\_\_\_ ، وذلك إذا كان مقام الدالة النسبية لا يساوي صفرًا عند النقطة التي تُحسب عندها النهاية .
- إذا كان  $F'(x) = f(x)$  ، فإن  $F(x)$  تُسمى \_\_\_\_\_ لـ  $f(x)$  .
- يُسمى ناتج التعويض في النهايات على الصورة  $\frac{0}{0}$  بـ \_\_\_\_\_ .
- تُسمى عملية إيجاد المشتقة بـ \_\_\_\_\_ .
- إذا سُبقت دالة بـ \_\_\_\_\_ ، فإن ذلك يعني إيجاد مشتقة الدالة .
- يطلق على السرعة المتجهة عند لحظة زمنية محددة بـ \_\_\_\_\_ .



## ملخص الفصل

## مفاهيم أساسية

## تقدير النهايات بيانياً (الدرس 8-1)

- تكون نهاية  $f(x)$  عندما تقترب  $x$  من  $c$  موجودة ، إذا فقط إذا كانت النهايات من اليمين واليسار موجودتين ومتساويتين .
- تكون نهاية  $f(x)$  عندما تقترب  $x$  من  $c$  غير موجودة إذا اقتربت  $f(x)$  من قيمتين مختلفتين عند اقتراب قيم  $x$  من العدد  $c$  من اليسار ومن اليمين ، أو عندما تتزايد قيم  $f(x)$  أو تتناقص بشكل غير محدود عند اقتراب قيم  $x$  من العدد  $c$  من اليسار أو اليمين أو كليهما ، أو عندما تتذبذب قيم  $f(x)$  بين قيمتين مختلفتين عند اقتراب قيم  $x$  من  $c$  .

## حساب النهايات جبرياً (الدرس 8-2)

- يمكن إيجاد نهايات كثيرات الحدود والدوال النسبية عادةً من خلال التعويض المباشر .
- إذا توصلت إلى الصيغة غير المحددة  $\frac{0}{0}$  عند حساب نهاية دالة نسبية ، فبَسِّط العبارة جبرياً من خلال تحليل كل من البسط والمقام أو إنطاق البسط أو المقام ، ثم اختصار العوامل المشتركة .

## المماس والسرعة المتجهة (الدرس 8-3)

- معدل التغير اللحظي للدالة  $f$  عند النقطة  $(x, f(x))$  هو ميل المماس  $m$  عند النقطة  $(x, f(x))$  ، ويُعطى بالصيغة

$$m = \lim_{h \rightarrow 0} \frac{f(x+h) - f(x)}{h}$$

## المشتقة (الدرس 8-4)

- يُرمز لمشتقة  $f(x) = x^n$  بالرمز  $f'(x)$  ، وتُعطى بالصيغة  $f'(x) = nx^{n-1}$  ، حيث  $n$  عدد حقيقي .

## المساحة تحت المنحنى والتكامل (الدرس 8-5)

- تُعطى مساحة المنطقة المحصورة بين منحنى الدالة  $f(x)$  والمحور  $x$  بالصيغة

$$\int_a^b f(x) dx = \lim_{n \rightarrow \infty} \sum_{i=1}^n f(x_i) \Delta x$$

الحدان الأعلى والأدنى للتكامل ،

$$\Delta x = \frac{b-a}{n}, x_i = a + i\Delta x$$

## النظرية الأساسية في التفاضل والتكامل (الدرس 8-6)

- الدالة الأصلية لـ  $f(x) = x^n$  هي  $F(x)$  وتُعطى بالصيغة  $F(x) = \frac{x^{n+1}}{n+1} + C$  ، حيث  $C$  عدد ثابت

- إذا كانت  $F(x)$  دالة أصلية للدالة المتصلة  $f(x)$  ، فإن

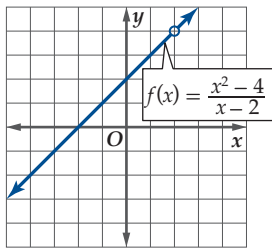
$$\int_a^b f(x) dx = F(b) - F(a)$$



مثال 1

قدّر  $\lim_{x \rightarrow 2} \frac{x^2 - 4}{x - 2}$  باستعمال التمثيل البياني، ثم عزّز إجابتك باستعمال جدول قيم.

**التحليل بيانياً:** يُبين التمثيل البياني للدالة  $f(x) = \frac{x^2 - 4}{x - 2}$  أدناه أنه كلما اقتربت قيم  $x$  من العدد 2، فإن قيم  $f(x)$  المقابلة تقترب من 4؛ لذا فإن بإمكاننا تقدير  $\lim_{x \rightarrow 2} \frac{x^2 - 4}{x - 2}$  بالعدد 4.



**التعزيز عددياً:** كوّن جدول قيم باختيار قيم  $x$  القريبة من العدد 2 من كلا الجهتين.

	← $x$ تقترب من 2 من اليمين			2	← $x$ تقترب من 2 من اليسار		
$x$	1.9	1.99	1.999	2	2.001	2.01	2.1
$f(x)$	3.9	3.99	3.999		4.001	4.01	4.1

يبيّن نمط قيم  $f(x)$ ، أنه كلما اقتربت قيم  $x$  من العدد 2 من اليسار واليمين، فإن قيم  $f(x)$  تقترب من العدد 4.

قدّر كل نهاية مما يأتي باستعمال التمثيل البياني، ثم عزّز إجابتك باستعمال جدول قيم:

$$\lim_{x \rightarrow 3} (2x - 7) \quad (9)$$

$$\lim_{x \rightarrow 1} (0.5x^4 + 3x^2 - 5) \quad (10)$$

قدّر كل نهاية مما يأتي:

$$\lim_{x \rightarrow 2^+} \frac{x^2 + x - 6}{x - 2} \quad (11)$$

$$\lim_{x \rightarrow 4} \frac{x^2 + x + 20}{x - 4} \quad (12)$$

$$\lim_{x \rightarrow 4} \frac{9}{x^2 - 8x + 16} \quad (13)$$

$$\lim_{x \rightarrow 2} \frac{x^2 - 7x - 10}{x - 2} \quad (14)$$

مثال 2

احسب كل نهاية مما يأتي باستعمال التعويض المباشر إذا كان ذلك ممكناً، وإلا فاذكر السبب.

$$\lim_{x \rightarrow 2} (2x^3 - x^2 + 4x + 1) \quad (a)$$

بما أن هذه نهاية دالة كثيرة حدود؛ لذا يمكننا حسابها باستعمال التعويض المباشر.

$$\begin{aligned} \lim_{x \rightarrow 2} (2x^3 - x^2 + 4x + 1) &= 2(2)^3 - 2^2 + 4(2) + 1 \\ &= 16 - 4 + 8 + 1 = 21 \end{aligned}$$

$$\lim_{x \rightarrow -4} \frac{2x - 7}{2 - x^2} \quad (b)$$

بما أن هذه نهاية دالة نسبية مقامها ليس صفراً عندما  $x = -4$ ؛ لذا يمكننا حسابها باستعمال التعويض المباشر.

$$\lim_{x \rightarrow -4} \frac{2x - 7}{2 - x^2} = \frac{2(-4) - 7}{2 - (-4)^2} = \frac{-8 - 7}{2 - 16} = \frac{-15}{-14} = \frac{15}{14}$$

استعمل خصائص النهايات لحساب كل نهاية مما يأتي:

$$\lim_{x \rightarrow 5} \frac{x^2 + 2x + 10}{x} \quad (15)$$

$$\lim_{x \rightarrow -1} (5x^2 - 2x + 12) \quad (16)$$

احسب كل نهاية مما يأتي باستعمال التعويض المباشر إذا كان ممكناً، وإلا فاذكر السبب.

$$\lim_{x \rightarrow 25} \frac{x^2 + 1}{\sqrt{x} - 5} \quad (17)$$

$$\lim_{x \rightarrow 2} (-3x^3 - 2x^2 + 15) \quad (18)$$

احسب كل نهاية مما يأتي:

$$\lim_{x \rightarrow -2} \frac{x + 2}{x^2 - 2x - 8} \quad (19)$$

$$\lim_{x \rightarrow \infty} (2 - 4x^3 + x^2) \quad (20)$$

## المماس والسرعة المتجهة (الصفحات 365-370)

8-3

## مثال 3

أوجد ميل مماس منحنى  $y = x^2$  عند النقطة  $(2, 4)$ .

$$\begin{aligned}
 \text{صيغة مُعدل التغير اللحظي} \quad m &= \lim_{h \rightarrow 0} \frac{f(x+h) - f(x)}{h} \\
 x = 2 \quad &= \lim_{h \rightarrow 0} \frac{f(2+h) - f(2)}{h} \\
 f(2+h) = (2+h)^2, f(2) = 2^2 \quad &= \lim_{h \rightarrow 0} \frac{(2+h)^2 - 2^2}{h} \\
 \text{فك الأقواس} \quad &= \lim_{h \rightarrow 0} \frac{4 + 4h + h^2 - 4}{h} \\
 \text{بسّط، ثم حلل} \quad &= \lim_{h \rightarrow 0} \frac{h(4+h)}{h} \\
 \text{اقسم على } h \quad &= \lim_{h \rightarrow 0} (4+h) \\
 \text{عوّض} \quad &= 4 + 0 = 4
 \end{aligned}$$

أي أن ميل مماس منحنى  $y = x^2$  عند النقطة  $(2, 4)$  هو 4.

أوجد ميل مماس منحنى كل دالة مما يأتي عند النقاط المعطاة:

$$y = 6 - x, (-1, 7), (3, 3) \quad (21)$$

$$y = x^2 + 2, (0, 2), (-1, 3) \quad (22)$$

أوجد معادلة ميل منحنى كل دالة مما يأتي عند أي نقطة عليه:

$$y = -x^2 + 3x \quad (23)$$

$$y = x^3 + 4x \quad (24)$$

تمثل  $s(t)$  في كل مما يأتي موقع جسم بالأقدام بعد  $t$  ثانية. أوجد سرعة الجسم المتجهة اللحظية عند الزمن المعطى:

$$s(t) = 15t - 16t^2, t = 0.5 \quad (25)$$

$$s(t) = -16t^2 - 35t + 400, t = 3.5 \quad (26)$$

تمثل  $h(t)$  في كل مما يأتي مسار جسم متحرك. أوجد السرعة المتجهة اللحظية  $v(t)$  للجسم عند أي زمن:

$$h(t) = 8 - 2t^2 + 3t \quad (27) \quad h(t) = 12t^2 - 5 \quad (28)$$

## المشتقات (الصفحات 372-379)

8-4

## مثال 4

أوجد مشتقة كل دالة مما يأتي باستعمال النهايات، ثم احسب قيمة المشتقة عند النقاط المعطاة.

أوجد مشتقة كل دالة مما يأتي باستعمال النهايات، ثم احسب قيمة المشتقة عند النقاط المعطاة.

$$g(t) = -t^2 + 5t + 11, t = -4, 1 \quad (29)$$

$$m(j) = 10j - 3, j = 5, -3 \quad (30)$$

أوجد مشتقة كل دالة مما يأتي:

$$z(n) = 4n^2 + 9n \quad (32) \quad p(v) = -9v + 14 \quad (31)$$

$$g(h) = 4h^{\frac{3}{4}} - 8h^{\frac{1}{2}} + 5 \quad (34) \quad t(x) = -3\sqrt[5]{x^6} \quad (33)$$

استعمل قاعدة مشتقة القسمة؛ لإيجاد مشتقة كل دالة مما يأتي:

$$m(q) = \frac{2q^4 - q^2 + 9}{q^2 - 12} \quad (36) \quad f(m) = \frac{5 - 3m}{5 + 2m} \quad (35)$$

أوجد مشتقة  $h(x) = \frac{x^2 - 5}{x^3 + 2}$ .

افتراض أن  $g(x) = x^3 + 2$ ,  $f(x) = x^2 - 5$ . لذا،  $h(x) = f(x)/g(x)$ . أوجد مشتقة كل من  $f(x)$ ,  $g(x)$ .

$$\text{من الفرض} \quad f(x) = x^2 - 5$$

$$\text{قواعد مشتقات القوة والدالة الثابتة} \quad f'(x) = 2x$$

$$\text{من الفرض} \quad g(x) = x^3 + 2$$

$$\text{قواعد مشتقات القوة والدالة الثابتة} \quad g'(x) = 3x^2$$

استعمل  $f(x)$ ,  $f'(x)$ ,  $g(x)$ ,  $g'(x)$  لإيجاد مشتقة  $h(x)$ .

$$\begin{aligned}
 \text{قاعدة مشتقة القسمة} \quad h'(x) &= \frac{f'(x)g(x) - f(x)g'(x)}{[g(x)]^2} \\
 \text{عوّض} \quad &= \frac{2x(x^3 + 2) - (x^2 - 5)3x^2}{(x^3 + 2)^2} \\
 \text{بسّط} \quad &= \frac{-x^4 + 15x^2 + 4x}{(x^3 + 2)^2}
 \end{aligned}$$

مثال 5

استعمل النهايات لإيجاد مساحة المنطقة المحصورة بين منحنى  $y = 2x^2$  والمحور  $x$ ، في الفترة  $[0, 2]$  أو  $\int_0^2 2x^2 dx$ .

ابدأ بإيجاد  $\Delta x$ ،  $x_i$ .

صيغة  $\Delta x$   $\Delta x = \frac{b-a}{n}$   
 $b = 2, a = 0$   $\Delta x = \frac{2-0}{n} = \frac{2}{n}$   
 $a = 0, \Delta x = \frac{2}{n}$   $x_i = 0 + i \frac{2}{n} = \frac{2i}{n}$

$x_i = \frac{2i}{n}, \Delta x = \frac{2}{n}$   $\int_0^2 2x^2 dx = \lim_{n \rightarrow \infty} \sum_{i=1}^n 2 \left( \frac{2i}{n} \right)^2 \left( \frac{2}{n} \right)$

بسّط  $= \lim_{n \rightarrow \infty} \frac{4}{n} \left( \sum_{i=1}^n \frac{4i^2}{n^2} \right)$

صيغ المجموع  $= \lim_{n \rightarrow \infty} \frac{4}{n} \left( \frac{4}{n^2} \cdot \frac{n(n+1)(2n+1)}{6} \right)$

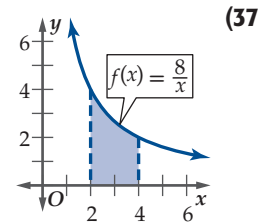
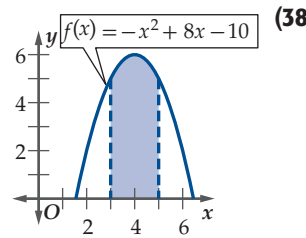
بسّط  $= \lim_{n \rightarrow \infty} \left( \frac{8(2n^2 + 3n + 1)}{3n^2} \right)$

أخرج عاملاً مشتركاً، ثم اقسّم على  $n^2$

$= \lim_{n \rightarrow \infty} \left[ \frac{8}{3} \cdot \left( 2 + \frac{3}{n} + \frac{1}{n^2} \right) \right]$

خصائص النهايات  $= \frac{16}{3} \approx 5.33$

قرب مساحة المنطقة المظللة تحت منحنى كل دالة مما يأتي باستعمال الأطراف اليمنى و 5 مستطيلات:



استعمل النهايات؛ لتقريب مساحة المنطقة المحصورة بين منحنى الدالة والمحور  $x$ ، والمعطى بالتكامل المحدد في كل مما يأتي:

$\int_1^2 2x^2 dx$  (39)

$\int_0^3 (2x^3 - 1) dx$  (40)

$\int_0^2 (x^2 + x) dx$  (41)

$\int_1^4 (3x^2 - x) dx$  (42)

مثال 6

أوجد جميع الدوال الأصلية لكل دالة مما يأتي:

(a)  $f(x) = \frac{4}{x^5}$

أعد كتابة الدالة المعطاة بقوة سالبة  $f(x) = 4x^{-5}$

قاعدة ضرب دالة القوة في عدد ثابت  $F(x) = \frac{4x^{-5+1}}{-5+1} + C$

بسّط  $= x^{-4} + C = -\frac{1}{x^4} + C$

(b)  $f(x) = x^2 - 7$

الدالة المعطاة  $f(x) = x^2 - 7$

أعد كتابة الدالة بدلالة قوى  $x$   $= x^2 - 7x^0$

قواعد الدالة الأصلية  $F(x) = \frac{x^2+1}{2+1} - \frac{7x^0+1}{0+1} + C$

بسّط  $= \frac{1}{3}x^3 - 7x + C$

أوجد جميع الدوال الأصلية لكل دالة مما يأتي:

(43)  $g(n) = 5n - 2$

(44)  $r(q) = -3q^2 + 9q - 2$

(45)  $m(t) = 6t^3 - 12t^2 + 2t - 11$

(46)  $p(h) = 7h^6 + 4h^5 - 12h^3 - 4$

احسب كل تكامل مما يأتي:

(47)  $\int 8x^2 dx$

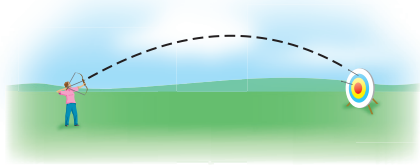
(48)  $\int (2x^2 - 4) dx$

(49)  $\int_3^5 (2x^2 - 4 + 5x^3 + 3x^4) dx$

(50)  $\int_1^4 (-x^2 + 4x - 2x^3 + 5x^5) dx$

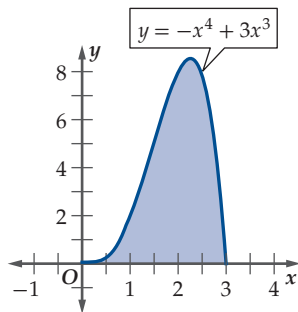
تطبيقات ومسائل

**(55) رماية:** أطلق محمد سهمًا بسرعة 35 ft/s باتجاه هدف. افترض أن ارتفاع السهم  $h$  بالأقدام بعد  $t$  ثانية من إطلاقه مُعطى بالدالة  $h(t) = -16t^2 + 35t + 1.5$ . (الدرس 8-3)



- (a) اكتب معادلة السرعة المتجهة اللحظية  $v(t)$  للسهم.  
(b) ما سرعة السهم بعد 0.5/s من إطلاقه؟  
(c) متى يصل السهم إلى أقصى ارتفاع؟  
(d) ما أقصى ارتفاع يصل إليه السهم؟

**(56) تصميم:** يقوم مصمم ألبسة رياضية بعمل شعار جديد يشبه المنطقة المظللة تحت المنحنى أدناه؛ حيث سيقوم بخياطة هذا الشعار على قمصان لاعبي فريق رياضي، ما مقدار القماش الذي يحتاج إليه لعمل 50 شعارًا إذا كانت  $x$  بالبوصات؟ (الدرس 8-6)



**(57) ضفادع:** تمثّل الدالة  $v(t) = -32t + 26$  سرعة قفز ضفدع بالأقدام لكل ثانية، حيث  $t$  الزمن بالثواني. (الدرس 8-6)

- (a) أوجد موقع الضفدع  $s(t)$ ، على فرض أن  $s(t) = 0$  عندما  $t = 0$ .  
(b) ما الزمن الذي يستغرقه الضفدع في الهوء عند قفزه؟

**(58) طيور:** سقطت حبة قمح من منقار حمامة تطير على ارتفاع 20 ft، وتُعطى سرعة سقوط الحبة بالدالة  $v(t) = -32t$ ، حيث  $t$  الزمن بالثواني،  $v(t)$  بالأقدام لكل ثانية. (الدرس 8-6)

- (a) أوجد موقع الحبة  $s(t)$  عند أي زمن.  
(b) أوجد الزمن الذي تستغرقه الحبة حتى تصل إلى سطح الأرض.

**(51) حيوانات:** يُعطى عدد الحيوانات  $P$  في محمية طبيعية بالمائات بعد  $t$  سنة بالدالة  $P(t) = \frac{40t^3 + 48t + 100}{5t^3 - 70t - 95}$ ، حيث  $t \geq 5$ . (الدرس 8-1)

- (a) أوجد العدد التقريبي للحيوانات في المحمية بعد 5 سنوات.  
(b) أوجد  $\lim_{t \rightarrow \infty} P(t)$ ؟

**(52) تحف فنية:** لدى سلمان تحفة فنية يزداد سعرها كل سنة.

افترض أن الدالة  $v(t) = \frac{800t}{4t + 19}$  تمثّل سعر التحفة بعد  $t$  سنة بمئات الريالات. (الدرس 8-1)

- (a) استعمل الآلة البيانية لتمثيل الدالة في الفترة  $0 \leq t \leq 10$ .  
(b) استعمل التمثيل البياني في الفرع a لتقريب سعر التحفة عندما  $t = 3, 6, 10$ .

(c) استعمل التمثيل البياني في الفرع a لحساب  $\lim_{t \rightarrow \infty} v(t)$ .

(d) وضح العلاقة بين نهاية الدالة وسعر التحفة.

(e) بعد 10 سنوات، قدّم أحد المعارض الفنية عرضًا لشراء التحفة من سلمان بسعر 30000 ريال، هل من الأفضل بيعها بهذا السعر؟ برّر إجابتك.

**(53) مبيعات:** افترض أن الدالة  $v(t) = \frac{450}{5 + 25(0.4)^t}$  تمثّل سعر سلعة ما بالريالات بعد  $t$  سنة. (الدرس 8-2)

- (a) أكمل الجدول أدناه:

السنة	0	1	2	3
السعر				

(b) استعمل الآلة البيانية لتمثيل الدالة في الفترة  $0 \leq t \leq 10$ .

(c) استعمل التمثيل البياني لتقدير  $\lim_{t \rightarrow \infty} v(t)$  إذا كانت موجودة.

(d) وضح العلاقة بين نهاية الدالة وسعر السلعة.

**(54) صواريخ:** أطلق صاروخ رأسياً إلى أعلى بسرعة 150 ft/s. افترض

أن ارتفاع الصاروخ  $h(t)$  بالأقدام بعد  $t$  ثانية يُعطى بالدالة  $h(t) = -16t^2 + 150t + 8.2$ . (الدرس 8-3)

(a) أوجد السرعة المتجهة اللحظية  $v(t)$  للصاروخ.

(b) ما سرعة الصاروخ بعد 1.5s من إطلاقه؟

(c) متى يصل الصاروخ إلى أقصى ارتفاع؟

(d) ما أقصى ارتفاع يصل إليه الصاروخ؟



قدّر كل نهاية مما يأتي:

$$\lim_{x \rightarrow 4} \frac{x^2 - 16}{x - 4} \quad (2) \quad \lim_{x \rightarrow 0^+} \sqrt{x + 4} - 8 \quad (1)$$

$$\lim_{x \rightarrow \infty} x^3 + 5x^2 - 2x + 21 \quad (4) \quad \lim_{x \rightarrow 7} \frac{6}{x - 7} \quad (3)$$

(5) **إلكترونيات:** يُعطى متوسط تكلفة إنتاج جهاز إلكتروني بالريال

$$C(x) = \frac{100x + 7105}{x}$$

عند إنتاج  $x$  جهاز بالدالة  $C(x) = \frac{100x + 7105}{x}$ .

(a) احسب نهاية الدالة عندما تقترب  $x$  من المالانهاية.  
(b) فسّر الناتج في الفرع a.

احسب كل نهاية مما يأتي باستعمال التعويض المباشر إذا كان ممكناً، وإلا فاذكر السبب:

$$\lim_{x \rightarrow 9} (2x^3 - 12x + 3) \quad (7) \quad \lim_{x \rightarrow 5} \frac{x^2}{\sqrt{x - 4} - 2} \quad (6)$$

(8) **نادٍ رياضي:** تُمثّل الدالة  $S(t) = \frac{2000t^2 + 4}{1 + 10t^2}$  عدد المشتركين في نادٍ رياضي بعد  $t$  يوم من افتتاحه.

(a) ما عدد المشتركين في البداية؟

(b) ما أكبر عدد ممكن لمشتركي النادي؟

احسب كل نهاية مما يأتي (إن وجدت):

$$\lim_{x \rightarrow \infty} (2x^3 - 8x^2 - 5) \quad (10) \quad \lim_{x \rightarrow \infty} (x^2 - 7x + 2) \quad (9)$$

$$\lim_{x \rightarrow \infty} \frac{\sqrt{25 + x} - 4}{x} \quad (12) \quad \lim_{x \rightarrow \infty} \frac{2x^3 - x - 1}{-x^4 + 7x^3 + 4} \quad (11)$$

(13) **اختيار من متعدد:** ما قيمة  $\lim_{x \rightarrow 0} \frac{1}{x+3} - \frac{1}{3}$ ؟

$$\frac{1}{9} \quad \text{C} \quad -\frac{1}{9} \quad \text{A}$$

$$\text{غير موجودة} \quad \text{D} \quad 0 \quad \text{B}$$

أوجد ميل مماس منحنى كل دالة مما يأتي عند النقاط المعطاة:

$$y = x^2 + 2x - 8, (-5, 7), (-2, -8) \quad (14)$$

$$y = \frac{4}{x^3} + 2, (-1, -2), (2, \frac{5}{2}) \quad (15)$$

$$y = (2x + 1)^2, (-3, 25), (0, 1) \quad (16)$$

أوجد السرعة المتجهة اللحظية  $v(t)$  لجسم يُعطى موقعه عند أي زمن بالدالة  $h(t)$  في كل مما يأتي:

$$h(t) = 9t + 3t^2 \quad (17)$$

$$h(t) = 10t^2 - 7t^3 \quad (18)$$

$$h(t) = 3t^3 - 2 + 4t \quad (19)$$

أوجد مشتقة كل دالة مما يأتي:

$$f(x) = -3x - 7 \quad (20)$$

$$b(c) = 4c^{\frac{1}{2}} - 8c^{\frac{2}{3}} + 5c^{\frac{4}{5}} \quad (21)$$

$$w(y) = 3y^{\frac{4}{3}} + 6y^{\frac{1}{2}} \quad (22)$$

$$g(x) = (x^2 - 4)(2x - 5) \quad (23)$$

$$h(t) = \frac{t^3 + 4t^2 + t}{t^2} \quad (24)$$

(25) **صناعة:** تُعطى التكلفة الحدية  $c$  بالريال لإنتاج  $x$  كرة قدم يومياً

$$c(x) = 15 - 0.005x$$

(a) أوجد دالة تمثّل التكلفة الحقيقية .

(b) أوجد تكلفة زيادة الإنتاج اليومي من 1500 كرة إلى 2000 كرة.

استعمل النهايات؛ لتقريب مساحة المنطقة المحصورة بين منحنى الدالة والمحور  $x$ ، والمعطاة بالتكامل المحدد في كل مما يأتي:

$$\int_1^4 (x^2 - 3x + 4) dx \quad (26)$$

$$\int_3^8 10x^4 dx \quad (27)$$

$$\int_2^5 (7 - 2x + 4x^2) dx \quad (28)$$

أوجد جميع الدوال الأصلية لكل دالة مما يأتي:

$$d(a) = 4a^3 + 9a^2 - 2a + 8 \quad (29)$$

$$w(z) = \frac{3}{4}z^4 + \frac{1}{6}z^2 - \frac{2}{5} \quad (30)$$

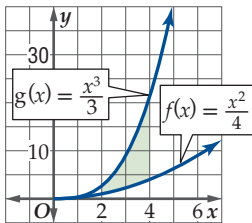
احسب كل تكامل مما يأتي:

$$\int (5x^3 - 6x^2 + 4x - 3) dx \quad (31)$$

$$\int_1^4 (x^2 + 4x - 2) dx \quad (32)$$

(33) **مساحات:** ما مساحة المنطقة المحصورة بين منحنى  $f(x)$ ،  $g(x)$

في الفترة  $2 \leq x \leq 4$  في الشكل أدناه؟



15  $\frac{1}{8}$  وحدة مساحة **C**  
16 وحدة مساحة **D**

17  $\frac{5}{12}$  وحدة مساحة **A**

17  $\frac{1}{3}$  وحدة مساحة **B**



الإحداثيات القطبية

$z_1 z_2 = r_1 r_2 [\cos(\theta_1 + \theta_2) + i \sin(\theta_1 + \theta_2)]$	صيغة الضرب	$\frac{z_1}{z_2} = \frac{r_1}{r_2} [\cos(\theta_1 - \theta_2) + i \sin(\theta_1 - \theta_2)]$	صيغة القسمة
$z^n = [r(\cos \theta + i \sin \theta)]^n = r^n (\cos n\theta + i \sin n\theta)$	نظرية دي موافر	$\sqrt{r_1^2 + r_2^2 - 2r_1 r_2 \cos(\theta_2 - \theta_1)}$	المسافة بالصيغة القطبية
		$r^{\frac{1}{n}} (\cos \frac{\theta + 2k\pi}{n} + i \sin \frac{\theta + 2k\pi}{n})$	الجذور المختلفة

الاحتمال والإحصاء

$P(X) = {}_n C_x p^x q^{n-x} = \frac{n!}{(n-x)!x!} p^x q^{n-x}$	صيغة احتمال ذات حدين	$z = \frac{X - \mu}{\sigma}$	صيغة الدرجة المعيارية (قيمة z)
---	----------------------	------------------------------	--------------------------------

النهايات

$\lim_{x \rightarrow c} [f(x) - g(x)] = \lim_{x \rightarrow c} f(x) - \lim_{x \rightarrow c} g(x)$	خاصية الفرق	$\lim_{x \rightarrow c} [f(x) + g(x)] = \lim_{x \rightarrow c} f(x) + \lim_{x \rightarrow c} g(x)$	خاصية الجمع
$\lim_{x \rightarrow c} [f(x) \cdot g(x)] = \lim_{x \rightarrow c} f(x) \cdot \lim_{x \rightarrow c} g(x)$	خاصية الضرب	$\lim_{x \rightarrow c} [kf(x)] = k \lim_{x \rightarrow c} f(x)$	خاصية الضرب في عدد حقيقي
$\lim_{x \rightarrow c} [f(x)]^n = [\lim_{x \rightarrow c} f(x)]^n$	خاصية القوة	$\lim_{x \rightarrow c} \frac{f(x)}{g(x)} = \frac{\lim_{x \rightarrow c} f(x)}{\lim_{x \rightarrow c} g(x)}, \lim_{x \rightarrow c} g(x) \neq 0$	خاصية القسمة
<p>السرعة المتوسطة المتجهة</p> $v_{avg} = \frac{f(b) - f(a)}{b - a}$ <p>السرعة المتجهة اللحظية</p> $v(t) = \lim_{h \rightarrow 0} \frac{f(t+h) - f(t)}{h}$	السرعة المتجهة	$\lim_{x \rightarrow c} \sqrt[n]{f(x)} = \sqrt[n]{\lim_{x \rightarrow c} f(x)}, \lim_{x \rightarrow c} f(x) > 0$	خاصية الجذر النوني





المشتقات

إذا كان  $f(x) = g(x) \pm h(x)$  فإن  $f'(x) = g'(x) \pm h'(x)$ .

قاعدة مشتقة  
المجموع أو الفرق

إذا كان  $f(x) = x^n$ ، حيث  $n$  عدد حقيقي، فإن  $f'(x) = nx^{n-1}$ .

قاعدة مشتقة  
القوة

$$\frac{d}{dx} \left[ \frac{f(x)}{g(x)} \right] = \frac{f'(x)g(x) - f(x)g'(x)}{[g(x)]^2}$$

قاعدة مشتقة  
القسمة

$$\frac{d}{dx} [f(x)g(x)] = f'(x)g(x) + f(x)g'(x)$$

قاعدة مشتقة  
الضرب

التكاملات

$$\int_a^b f(x) dx = F(b) - F(a)$$

النظرية الأساسية  
في التفاضل  
والتكامل

$$\int f(x) dx = F(x) + C$$

التكامل غير  
المحدد

الرموز

$S$	الانحراف المعياري لعينة	$n!$	مضروب العدد الصحيح الموجب $n$
$\sigma$	الانحراف المعياري لمجتمع	$nP_r$	تباديل $n$ مأخوذة $r$ في كل مرة
$f'(x)$	مشتقة الدالة $f(x)$	$nC_r$	توافيق $n$ مأخوذة $r$ في كل مرة
$\int$	التكامل غير المحدد	$\lim_{x \rightarrow c}$	النهاية عندما تقترب $x$ من $c$
$\int_a^b$	التكامل المحدد	$i$	الوحدة التخيلية
$F(x)$	الدالة الأصلية للدالة $f(x)$	$\sum$	المجموع
$A'$	الحدث المتمم	$\sum_{n=1}^k$	المجموع من $1$ إلى $n = k$
$P(A)$	احتمال الحدث $A$	$\bar{x}$	الوسط لعينة
$P(B A)$	احتمال $B$ بشرط $A$	$\mu$	الوسط لمجتمع

