


النشيد الوطني السعودي


سارعي للمجد والعلية
مَجْدِي لِخَالِقِ السَّمَاءِ
وَارْفَعِي الْخَفَاقَ الْأَخْضَرَ
يَكْمِلُ النُّورَ الْمُسْتَطَرَّ
رُدِّي اللَّهُ أَكْبَرَ
يَا مَوْطِنِي
موطني عشت فخر المسلمين
عاشت المليكة: للعلم والوطن

كلمات الشاعر
إبراهيم خفاجي


القوانين الصفية للتعلم عن بعد



تجهيز الأدوات
قبل الحصة



إغلاق الكاميرا



رفع اليد قبل التحدث



المشاركة والتفاعل



كتم صوت الميكروفون



التاريخ:

الحصّة:

المادة: رياضيات

عنوان الدرس

التَّقْرِيْبُ إِلَى أَقْرَبِ عَشْرَةٍ وَإِلَى أَقْرَبِ مِئَةٍ

٧ - ١

فِكْرَةُ الدَّرْسِ

أَقْرَبُ الأَعْدَادِ إِلَى أَقْرَبِ عَشْرَةٍ
وَإِلَى أَقْرَبِ مِئَةٍ.

المُفْرَدَاتُ

التَّقْرِيْبُ

أَسْعِدُ



تَسْتَعْمِلُ سَارَةُ الْحَاسُوبَ ٦٢ دَقِيقَةً يَوْمِيًّا.
أَمَّا أُخْتُهَا رِيْمًا فَتَسْتَعْمِلُهُ مُدَّةَ ١١٦ دَقِيقَةً
يَوْمِيًّا. فَكَمْ دَقِيقَةً تَقْرِيْبًا تَسْتَعْمِلُ كُلُّ مِْنَهُمَا
الْحَاسُوبَ؟

يُسْتَعْمَلُ التَّقْرِيْبُ لِتَحْوِيلِ الْأَعْدَادِ إِلَى أَعْدَادٍ يَسْهُلُ التَّعَامُلُ مَعَهَا.

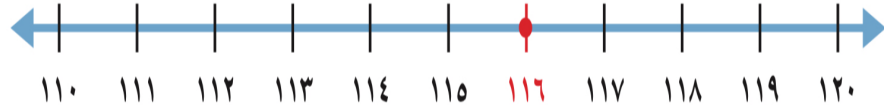
أَقْرَبُ إِلَى أَقْرَبِ عَشْرَةٍ

مِثَالانِ مِنْ وَاقِعِ الْحَيَاةِ



٢ **الْحَاسُوبُ:** كَمْ دَقِيقَةً تَقْرِيْبًا اسْتَعْمَلْتَ رِيْمًا جِهَازَ الْحَاسُوبِ؟

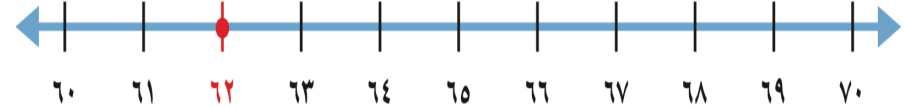
أَقْرَبُ عَشْرَةٍ أَقْلُ مِنْ ١١٦ هِيَ ١١٠، وَأَقْرَبُ عَشْرَةٍ أَكْبَرُ مِنْ ١١٦ هِيَ ١٢٠،
اسْتَعْمَلُ خَطَّ الأَعْدَادِ مِنْ ١١٠ إِلَى ١٢٠، وَأُعَيِّنُ عَلَيْهِ العَدَدَ ١١٦



إِذْنِ اسْتَعْمَلْتَ رِيْمًا الْحَاسُوبَ دَقِيقَةً تَقْرِيْبًا.

١ **الْحَاسُوبُ:** كَمْ دَقِيقَةً تَقْرِيْبًا اسْتَعْمَلْتَ سَارَةَ جِهَازَ الْحَاسُوبِ؟

أَقْرَبُ عَشْرَةٍ أَقْلُ مِنْ ٦٢ هِيَ ٦٠، وَأَقْرَبُ عَشْرَةٍ أَكْبَرُ مِنْ ٦٢ هِيَ ٧٠،
اسْتَعْمَلُ خَطَّ الأَعْدَادِ مِنْ ٦٠ إِلَى ٧٠، وَأُعَيِّنُ عَلَيْهِ العَدَدَ ٦٢



إِذْنِ اسْتَعْمَلْتَ سَارَةَ الْحَاسُوبَ الآلِيَّ - دَقِيقَةً تَقْرِيْبًا.

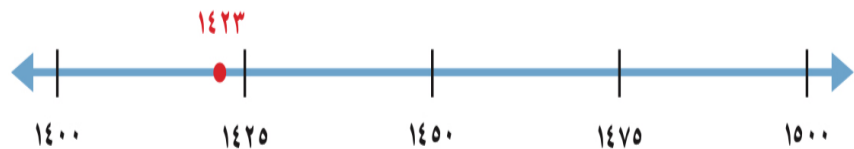
أَقْرَبُ إِلَى أَقْرَبِ مِئَةٍ

مِثَالانِ مِنْ وَاقِعِ الْحَيَاةِ



٤ **أَصْدَافُ:** جَمَعَتْ سَارَةُ ١٤٢٣ صَدَقَةً، كَمْ صَدَقَةً جَمَعَتْ سَارَةُ مُقَرَّبًا إِلَى أَقْرَبِ مِئَةٍ.

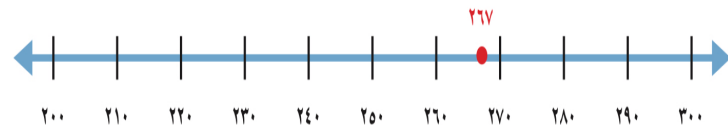
أَقْرَبُ مِئَةٍ أَقَلُّ مِنْ ١٤٢٣ هِيَ ١٤٠٠، وَأَقْرَبُ مِئَةٍ أَكْبَرُ مِنْ ١٤٢٣ هِيَ ١٥٠٠



إِذْنِ، جَمَعَتْ سَارَةُ صَدَقَةً تَقْرِيبًا.

٣ **كُتِبَ:** قَرَأَ حُسَيْنٌ كِتَابًا فِيهِ ٢٦٧ صَفْحَةً، مَا عَدَدُ الصَّفَحَاتِ الَّتِي قَرَأَهَا مُقَرَّبًا إِلَى أَقْرَبِ مِئَةٍ؟

أَقْرَبُ مِئَةٍ أَقَلُّ مِنْ ٢٦٧ هِيَ ٢٠٠، وَأَقْرَبُ مِئَةٍ أَكْبَرُ مِنْ ٢٦٧ هِيَ ٣٠٠



إِذْنِ، عَدَدُ الصَّفَحَاتِ الَّتِي قَرَأَهَا حُسَيْنٌ صَفْحَةً تَقْرِيبًا.

أَتَأْكُدُ



أَقْرَبُ كُلًّا مِنَ الْأَعْدَادِ الْآتِيَةِ إِلَى أَقْرَبِ عَشْرَةٍ:

٦٨٥



٦٢



٥٨



أَقْرَبُ كُلًّا مِنَ الْأَعْدَادِ الْآتِيَةِ إِلَى أَقْرَبِ مِئَةٍ:

٤١٥




٤٧٣



٤٤٩




تطبيق خط الاعداد



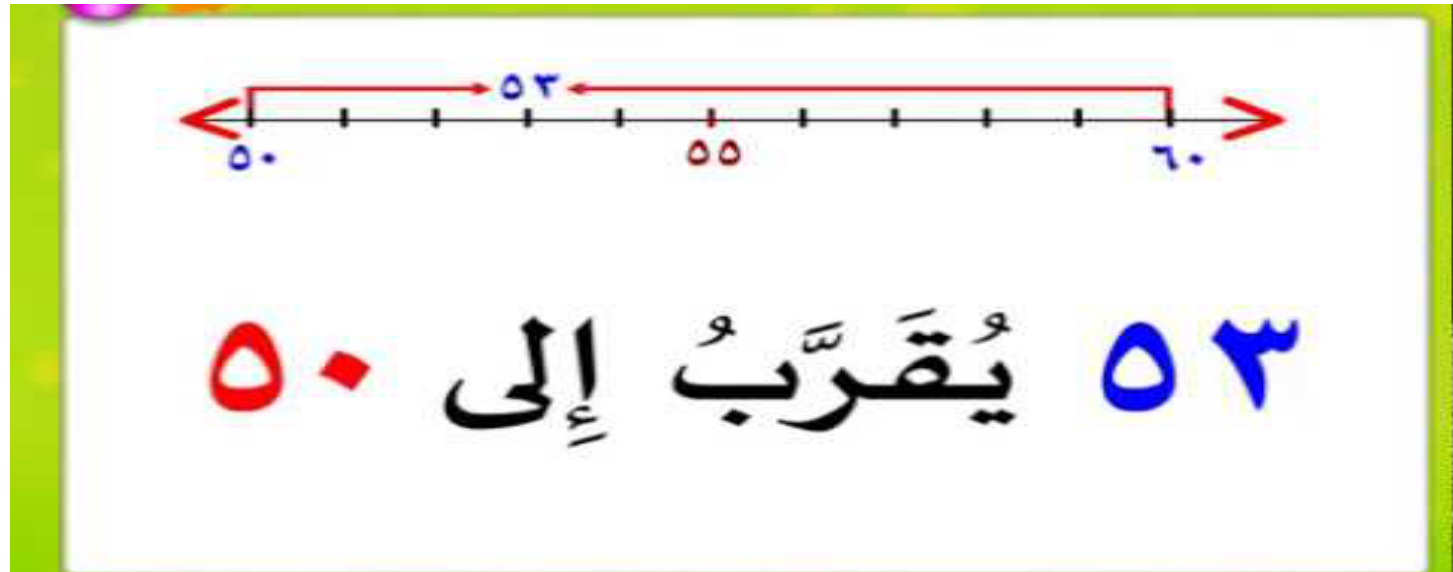
الفهم القرآني

مَعَ فَهْدِ ١٧٩ بِطَاقَةٍ مُلَوَّنَةٍ، إِذَا قَالَ إِنَّ مَعَهُ ٢٠٠ بِطَاقَةٍ تَقْرِيْبًا، فَهَلْ قَرَّبَ الْعَدَدَ إِلَى أَقْرَبِ عَشْرَةِ أُمَّ إِلَى أَقْرَبِ مِئَةٍ؟ أَشْرَحُ.

٢٧



تعلمنا اليوم: تقريب الأعداد إلى أقرب عشرة وإلى أقرب مئة.



الواجب في منصة مدرستي