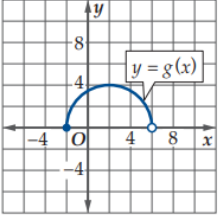
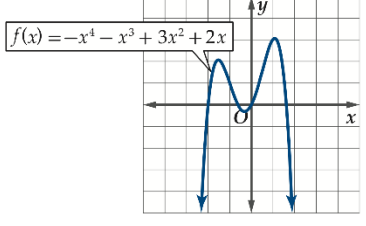


السؤال الاول: اختر الاجابة الصحيحة فيما يلي

1	تكتب المجموعة $-3 < x \leq 12$ باستخدام رمز الفترة :	A	$[-3,12)$	B	$[-3,12]$	C	$(-3,12]$	D	$(-3,12)$
2	مجال الدالة $g(x) = \sqrt{x+5}$:	A	$(-5, \infty)$	B	$(-\infty, -5]$	C	$[-5, \infty)$	D	$[-\infty, -5]$
3	مدى الدالة في الشكل المجاور:								
4	متوسط معدل التغير للدالة $f(x) = -x^3 + 2x$ في الفترة من $[1, 3]$ هو:	A	-11	B	11	C	-5	D	5
5	مقطع y في الدالة $f(x) = 5 - \sqrt{x}$ يساوي:	A	-5	B	5	C	0	D	3
6	صفر الدالة: $f(x) = 2x - 12$ هو:	A	3	B	2	C	0	D	6
7	من التمثيل البياني المجاور القيمة العظمى المطلقة تساوي:								
8	منحنى الدالة $g(x) = x - 8$ هو منحنى الدالة $f(x) = x $ مزاحاً 8 وحدات إلى:	A	اليمين	B	اليسار	C	الأعلى	D	الأعلى
9	منحنى الدالة $g(x) = \frac{1}{2}[x]$ هو _____ منحنى الدالة $f(x) = [x]$:	A	توسع رأسي	B	تضييق رأسي	C	توسع أفقي	D	تضييق أفقي

10	نوع عدم الاتصال في الشكل المجاور:							
	A	لانهائي	B	غير معرف	C	قفزي	D	قابل للازالة
11	الدالة $f(x)$ التي تتناقص قيمتها مع تزايد قيم x تسمى دالة:							
	A	متزايدة	B	محايدة	C	ثابته	D	متناقصة
12	الدالة $f(x) = \frac{x^2-4}{x-2}$ غير متصلة عند:							
	A	$x = 2$	B	$x = -2$	C	$x = 0$	D	$x = 4$
13	الفترة التي تزايد فيها الدالة الممثلة في الشكل المجاور:							
	A	$(0, \infty)$	B	$(-\infty, 1)$	C	$(-1, \infty)$	D	$(1, \infty)$
14	الفترة التي تتناقص فيها الدالة الممثلة في الشكل المجاور:							
	A	$(1, \infty)$	B	$(-\infty, -1)$	C	$(-1, 1)$	D	$(-2, 2)$
15	إذا كانت $f(x) = x^2 + 1$, $g(x) = x - 4$ فإن $[g \circ f](x)$ يساوي:							
	A	$x^2 - 3$	B	$x^2 + 4$	C	$x - 3$	D	$x^2 + x - 1$
16	إذا كان $f(x) = x^2 + 4x$, $h(x) = 3x - 5$ فإن قيمة الدالة $(f - h)(x)$ تساوي:							
	A	$x^2 + x - 2$	B	$x^2 + x + 5$	C	$x - 1$	D	$x^2 + 1$
17	إذا كان $f(x) = x - 5$, $g(x) = x + 5$ فإن قيمة الدالة $(f + g)(x)$ تساوي:							
	A	$2x$	B	$2x + 10$	C	$2x - 10$	D	10
18	إذا كان $f(x) = \frac{1}{\sqrt{x}}$, $g(x) = 3\sqrt{x}$ فإن قيمة الدالة $(f \cdot g)(x)$ تساوي:							
	A	$\frac{1}{3}$	B	$\frac{1}{x}$	C	x	D	3
19	الدالة العكسية للدالة: $f(x) = \sqrt{x - 6}$ هي:							
	A	$\sqrt{x} + 6$	B	$x + \sqrt{6}$	C	$\sqrt{x + 6}$	D	$x^2 + 6$
20	إذا كانت دالة النمو الأسي هي: $y = 2300(1.2)^x$ ، فإن عدد خلايا البكتيريا بعد 5 ساعات هو:							
	A	4706.51	B	5723.13	C	7072.41	D	5464.62

21	تكتب المعادلة الأسية $4^3 = 64$ على الصورة اللوغارتمية:							
	$\log_4 64 = 3$	D	$\log_3 64 = 4$	C	$\log_{64} 3 = 4$	B	$\log_{64} 4 = 3$	A
22	قيمة x في المعادلة $\log_8 16 = x$:							
	$\frac{1}{2}$	D	$\frac{3}{4}$	C	$\frac{4}{3}$	B	2	A
23	حل المعادلة $\log_{36} x = \frac{3}{2}$ هو:							
	216	D	128	C	64	B	32	A
24	حل المتباينة $\log_2 x < 4$ هو:							
	$0 < x < 16$	D	$0 < x < 8$	C	$x < 4$	B	$x < 2$	A
25	ما قيمة x في المعادلة $\log_4 4 = x$:							
	16	D	0	C	-1	B	1	A
26	ما قيمة x في المعادلة $5^{\log_5 1} = x$:							
	25	D	5	C	0	B	1	A
27	قيمة $2 \log_5 12 - \log_5 8 - 2 \log_5 3$ هي:							
	1	D	$\log_5 3$	C	$\log_5 2$	B	$\log_5 0.5$	A
28	منحنى الدالة $y = x^3 - 6$ يمثل إزاحة لمنحنى $y = x^3$:							
	6 وحدات الى الاسفل	D	6 وحدات الى الاعلى	C	6 وحدات الى اليسار	B	6 وحدات الى اليمين	A
29	حل المتباينة $10^{5x+2} > 1000$ هو:							
	$x > \frac{1}{2}$	D	$x > \frac{1}{10}$	C	$x > \frac{1}{3}$	B	$x > \frac{1}{5}$	A
30	مجال الدالة $y = \left(\frac{1}{3}\right)^{x+1} + 3$ هو:							
	Q	D	Z	C	R^+	B	R	A
31	ما قيمة x التي تحقق المعادلة $7^{x-1} + 7 = 8$:							
	2	D	1	C	0	B	-1	2
32	قيمة العبارة $\log_9 81$ هي:							
	1	D	2	C	3	B	4	A

في الدالة: $f(x) = \frac{1}{2} \log_{\frac{1}{4}}(x - 3)$ مقدار الانسحاب الى اليمين هو:						34
1	D	2	C	3	B	A
أي الدوال الأسية الآتية يمر تمثيلها البياني بالنقطتين: $(3, 1000)$ ، $(0, 125)$ ؟						35
$f(x) = 125 (2)^x$	D	$f(x) = 125 (1000)^x$	C	$f(x) = 1000 (3)^x$	B	$f(x) = 125 (3)^x$
قيمة اللوغاريتم $\log_5 13$ تساوي:						36
1.75	D	1.98	C	1.34	B	1.59
يسمى اللوغاريتم ذو الأساس 10 —						37
اللوغاريتم النسبي	D	اللوغاريتم الأسي	C	اللوغاريتم الكسري	B	اللوغاريتم العشري
التمثيل البياني الصحيح للدالة: $y = 2\left(\frac{1}{6}\right)^x$ هو:						38
	D		C		B	
يكتب $\log_3 17$ بدلالة اللوغاريتم العشري على الصورة:						39
$\frac{\log 2}{\log 11}$	D	$\frac{\log 11}{\log 2}$	C	$\frac{\log 17}{\log 3}$	B	$\frac{\log 3}{\log 17}$
حل المعادلة: $3^x = 31$ هو:						40
$x \approx 2.12$	D	$x \approx 3.12$	C	$x \approx 4.12$	B	$x \approx 5.12$

السؤال الثاني: ضع علامة (✓) أمام العبارة الصحيحة و علامة (✗) أمام العبارة الخاطئة:

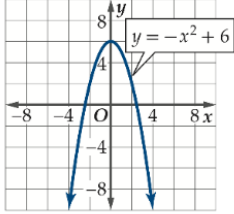
الرقم	العبارة	الحل
1	الدالة التي يمثلها التمثيل البياني المجاور هي: $f(x) = x + 4 - 3$	
2	نوع عدم الاتصال في الشكل المجاور: عدم اتصال قابل للإزالة	

تابع

X		<p>3 الفترة التي تتزايد فيها الدالة الممثلة في الشكل المجاور هي : $(0, \infty)$ $(3, \infty)$</p>
X		<p>4 الدالة الرئيسية الام الممثلة في الشكل المجاور هي : $f(x) = x$ $f(x) = \sqrt{x}$</p>
✓		<p>5 الدالة العكسية للدالة: $f(x) = \frac{3x-5}{2}$ هي $\frac{2x+5}{3}$</p>
X		<p>6 مجال الدالة $f(x) = \sqrt{x}$ هو: $Z: \mathbb{R}^+$</p>
✓	<p>7 إذا كانت $f(x) = \begin{cases} x^2 + 1, & x < 5 \\ 2x, & x \geq 5 \end{cases}$ فإن $f(2)$ تساوي: 5 \checkmark $2^2 + 1 = 4 + 1 = 5$</p>	
✓		<p>8 تكتب المجموعة $x \leq 2$ باستخدام رمز الفترة: $(-\infty, 2]$</p>
X		<p>9 في الشكل المجاور الدالة متماثلة حول: نقطة الاصل محور y</p>
✓		<p>10 منحنى الدالة المتباينة يحقق اختبار الخط الافقي دائما</p>
X		<p>11 منحنى الدالة $y = (2)^{x-2}$ يمثل إزاحة لمنحنى $y = (2)^x$ وحدتان الى اليسار <u>اليمين</u></p>
✓		<p>12 تكتب العبارة: $2 \log_6(5a) + \log_6 b + 7 \log_6 c$ بالصورة المختصرة: $\log_6 25 a^2 b c^7$</p>
✓		<p>13 التمثيل المجاور هو تمثيل الدالة $f(x) = \log_3(x+5) + 3$ البياني؟ $(-4, 3)$ $f(-4) = \log_3(-4+5) + 3$ $\log_3 1 + 3$ $0 + 3 = 3$</p>

X	حل المعادلة: $2^x = 32$ هو: 4	14
X	حل المعادلة: $\log_x 32 = \frac{5}{2}$ هو: 64	15

السؤال الثالث: أكمل الفراغات الاتية بما يناسبها في يلي:



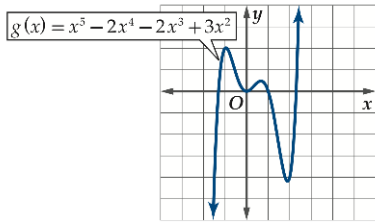
$$x \rightarrow \infty, f(x) \rightarrow -\infty$$

$$x \rightarrow -\infty, f(x) \rightarrow -\infty$$

نقطة الأصل

محور y

1. الدالة الفردية متماثلة حول: نقطة الأصل
2. الدالة الزوجية متماثلة حول: محور y
3. يصف سلوك طرفي التمثيل البياني للدالة الممثلة في الشكل المجاور:
4. من التمثيل البياني المجاور القيم الصغرى المحلية عند قيم: $x=0, x=2$



R

Z

$R - \{0\}$

$$f(x) = x^3$$

5. مجال الدالة $f(x) = x^2$ هو: R
6. مدى الدالة $f(x) = [x]$ هو: Z
7. مدى الدالة $f(x) = \frac{1}{x}$ هو: $R - \{0\}$
8. الدالة الام للدالة $f(x) = (x+7)^3$ هي: $f(x) = x^3$
9. مقطع y للدالة $y = 6^x - 1$ يساوي: $y = 6^0 - 1 \Rightarrow 1 - 1 \Rightarrow 0$
10. مدى الدالة $\log_7 f(x)$ هو: R

$$4 \log_5 2 + 3 \log_5 x - 7 \log_5 y$$

$$x = \frac{\log 42}{\log 6} \Rightarrow 2.086$$

$$x > \frac{\log 28}{2 \log 5} \Rightarrow x > 1.035$$

$$y = \log_2(0+1) + 5$$

$$\log_2 1 + 5 \Rightarrow 0 + 5 \Rightarrow 5$$

15. إذا استثمر علي مبلغ 100000 ريال في مشروع تجاري متوقعا ربحا نسبته 12% يحث تضاف الارباح إلى رأس المال مرتين شهريا، فإن مبلغ الربح الكلي المتوقع بعد 6 سنوات هو:

$$100000 \left(1 + \frac{0.12}{24}\right)^{24 \times 6}$$

$$\Rightarrow 205075.08$$

هذه الاسئلة لا تغني عن الكتاب
الكتاب المدرسي هو المعتمد في الاختبار