


النصف

هكذا نصف
الكعكة




هكذا نصف
البطيخة




نعبر عن الجزء الواحد
من جزأي القطعة
بكلمة نصف ويكتب $\frac{1}{2}$





أحوظ الولد الذي أكل نصف الفطيرة



ألون نصف كل شكل من الأشكال التالية

هيا نحل الغاز
النصف

